



**Staff Selection Commission**  
(Government Of India)

**Delhi Police Constable Online Exam Paper 08.12.2017 Shift-03**

**REGISTRATION NUMBER :**  
**EXAM DATE : 8-December-2017**  
**EXAM NAME : SSC Examination**  
**TOTAL MARKS : 100**

**CANDIDATE NAME :**  
**EXAM START TIME : 16:30:00**  
**EXAM DURATION : 01:30 Hrs**  
**TOTAL NO OF QUESTIONS : 100**

**QID : 201** - In the following question, select the related word from the given alternatives.

**Tulip : Flower :: Lady finger : ?**

निम्नलिखित प्रश्न में दिए गए विकल्पों में से संबंधित शब्द को चुनिए।

ट्यूलिप : फूल :: भिंडी : ?

**Options:**

1) Green

हरा

2) Fruit

फल

3) Vegetable

सब्जी

4) Round

गोल

**Correct Answer:** Vegetable

सब्जी

**Candidate Answer:** [ NOT ANSWERED ]

**QID : 202** - In the following question, select the related letters from the given alternatives.

**FLICK : LDJMG :: TRIP : ?**

निम्नलिखित प्रश्न में दिए गए विकल्पों में से संबंधित अक्षरों को चुनिए।

**FLICK : LDJMG :: TRIP : ?**

**Options:**

1) OHQS

2) QJSU

3) QHSU

4) OHSU

**Correct Answer:** QJSU

**Candidate Answer:** [ NOT ANSWERED ]

**QID : 203** - In the following question, select the related number from the given alternatives.

**34 : 12 :: 29 : ?**

निम्नलिखित प्रश्न में दिए गए विकल्पों में से संबंधित संख्या को चुनिए।

**34 : 12 :: 29 : ?**

**Options:**

1) 18

2) 20

3) 23

4) 17

**Correct Answer:** 18

**Candidate Answer:** 18

**QID : 204** - In the following question, select the odd word from the given alternatives.

निम्नलिखित प्रश्न में दिए गए विकल्पों में से विषम शब्द को चुनिए।

**Options:**

1) Horse

घोड़ा

2) Dog

कुत्ता

3) Peacock

मोर

4) Cat

बिल्ली

**Correct Answer:** Peacock

मोर

**Candidate Answer:** [ NOT ANSWERED ]

**QID : 205** - In the following question, select the odd letters from the given alternatives.

निम्नलिखित प्रश्न में दिए गए विकल्पों में से विषम अक्षरों को चुनिए।

**Options:**

1) FMTA

2) AGMS

3) GMSY

4) DJPV

**Correct Answer:** FMTA

**Candidate Answer:** [ NOT ANSWERED ]

**QID : 206** - In the following question, select the odd number from the given alternatives.

निम्नलिखित प्रश्न में दिए गए विकल्पों में से विषम संख्या को चुनिए।

**Options:**

1) 19

2) 23

3) 31

4) 49

**Correct Answer:** 49

**Candidate Answer:** [ NOT ANSWERED ]

**QID : 207** - In the following question, select the odd number from the given alternatives.

निम्नलिखित प्रश्न में दिए गए विकल्पों में से विषम संख्या को चुनिए।

**Options:**

1) 16

2) 64

3) 36

4) 84

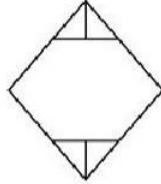
**Correct Answer:** 84

**Candidate Answer:** 84

**QID : 208 -**

How many triangles are there in the given figure?

दी गई आकृति में कितने त्रिभुज हैं?



**Options:**

1) 6

2) 7

3) 8

4) 9

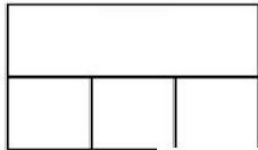
**Correct Answer:** 6

**Candidate Answer:** [ NOT ANSWERED ]

**QID : 209 -**

How many rectangles are there in the given figure?

दी गई आकृति में कितने आयत हैं?



**Options:**

1) 7

2) 8

3) 9

4) 10

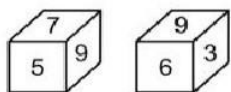
**Correct Answer:** 8

**Candidate Answer:** 8

**QID : 210 -**

Two positions of a cube are shown below. What will come opposite to face containing '3'?

नीचे एक घन की दो अवस्थाएँ दर्शायी गयी हैं। '3' युक्त फलक के विपरीत क्या आयेगा?



**Options:**

- 1) 7
- 2) 5
- 3) 6
- 4) 9

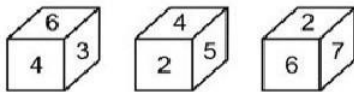
**Correct Answer:** 5

**Candidate Answer:** 5

**QID : 211 -**

Three positions of a cube are shown below. What will come opposite to face containing '4'?

नीचे एक घन की तीन अवस्थाएँ दर्शायी गयी हैं। '4' युक्त फलक के विपरीत क्या आयेगा?



**Options:**

- 1) 3
- 2) 7
- 3) 2
- 4) 6

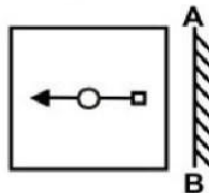
**Correct Answer:** 7

**Candidate Answer:** 7

**QID : 212 -**

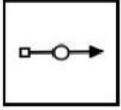
If a mirror is placed on the line AB, then which of the answer figures is the right mirror image of the given figure?

यदि एक दर्पण को AB रेखा पर रखा जाए, तो दी गई उत्तर आकृतियों में से कौन सी आकृति प्रश्न आकृति का सही दर्पण प्रतिबिम्ब होगी?

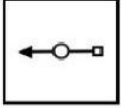


Options:

1)




2)



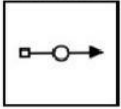
3)



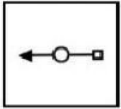
4)



Correct Answer:



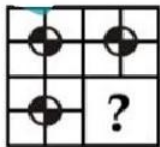
Candidate Answer:



QID : 213 -

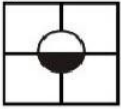
Which answer figure will complete the pattern in the question figure?

कौन सी उत्तर आकृति प्रश्न आकृति के प्रतिरूप को पूरा करेगी?

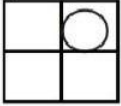


Options:


1)



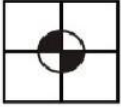
2)



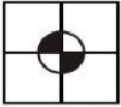
3)



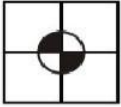
4)



Correct Answer:



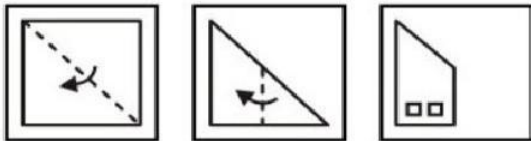
Candidate Answer:



QID : 214 -

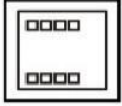
A piece of paper is folded and punched as shown below in the question figures. From the given answer figures, indicate how it will appear when opened?

नीचे के प्रश्न आकृतियों में दिखाए अनुसार कागज को मोड़कर छेदने तथा खोलने के बाद वह किस उत्तर आकृति जैसा दिखाई देगा?

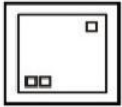


Options:


1)




2)




3)




4)



Correct Answer:



Candidate Answer:



QID : 215 -

In the following question, select the number which can be placed at the sign of question mark (?) from the given alternatives.

निम्नलिखित प्रश्न में दिए गए विकल्पों में से प्रश्न चिह्न (?) के स्थान पर आने वाली संख्या को चुनिए।

	6	
2	59	8
	7	

	5	
3	43	4
	6	

	5	
6	?	3
	8	

Options:

1) 53

2) 59

3) 69

4) 73

Correct Answer: 59

Candidate Answer: 59

**QID : 216** - From the given alternatives, select the word which **CANNOT** be formed using the letters of the given word.

**SHOULDERING**

निम्नलिखित विकल्पों में से वह शब्द चुनिए जो दिए गए शब्द के अक्षरों का प्रयोग करके नहीं बनाया जा सकता।

**SHOULDERING**

**Options:**

- 1) SIGNED
- 2) LOUDER
- 3) SLANG
- 4) ROSE

**Correct Answer:** SLANG

**Candidate Answer:** SLANG

**QID : 217** - Identify the diagram that best represents the relationship among the given classes.

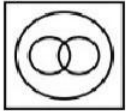
**Sun, Moon, Universe**

वह आरेख चुनिए जो नीचे दिए गए वर्गों के बीच के संबंध का सही निरूपण करता है।

सूर्य, चंद्रमा, ब्रह्माण्ड

**Options:**

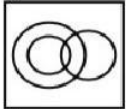
1)



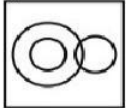
2)



3)



4)



**Correct Answer:**



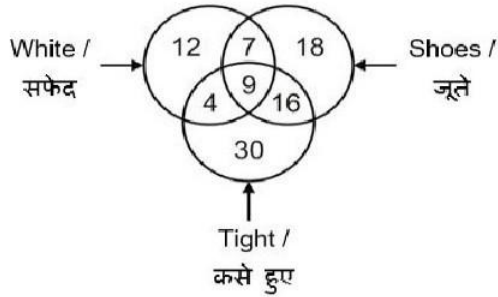
**Candidate Answer:** [ NOT ANSWERED ]



**QID : 218 -**

In the given figure, how many white shoes are not tight?

दी गई आकृति में, कितने सफेद जूते कसे हुए नहीं हैं?



**Options:**

1) 7

2) 16

3) 9

4) 13

**Correct Answer:** 7

**Candidate Answer:** [ NOT ANSWERED ]

**QID : 219 -** In the following question below are given some statements followed by some conclusions. Taking the given statements to be true even if they seem to be at variance from commonly known facts. Read all the conclusions and then decide which of the given conclusion logically follows the given statements.

**Statements:**

- I. Some blue are black.
- II. Some red are blue.

**Conclusions:**

- I. Some black are red.
- II. Some blue are red.

नीचे दिए गए प्रश्न में कुछ कथन और उनके बाद उन कथनों पर आधारित कुछ निष्कर्ष दिए गए हैं। दिए गए कथनों को सही माने, चाहे उनमें सामान्य ज्ञान तथ्यों से भिन्नता हो। सभी निष्कर्ष पढ़ें और फिर निर्धारित करें कि दिए गए कौन से निष्कर्ष, दिए गए कथनों के अंतर्गत युक्तिसंगत हैं।

**कथन:**

- I. कुछ नीले काले हैं।
- II. कुछ लाल नीले हैं।

**निष्कर्ष:**

- I. कुछ काले लाल हैं।
- II. कुछ नीले लाल हैं।

**Options:**

1) Only conclusion (I) follows.

केवल निष्कर्ष (I) सही है।

2) Only conclusion (II) follows.

केवल निष्कर्ष (II) सही है।

3) Both conclusion follow.

दोनों ही निष्कर्ष सही हैं।

4) Neither conclusion (I) nor conclusion (II) follows.

न तो निष्कर्ष (I) न ही निष्कर्ष (II) सही है।

**Correct Answer:** Only conclusion (II) follows.

केवल निष्कर्ष (II) सही है।

**Candidate Answer:** Only conclusion (I) follows.

केवल निष्कर्ष (I) सही है।

**QID : 220** - In the following question below are given some statements followed by some conclusions. Taking the given statements to be true even if they seem to be at variance from commonly known facts. Read all the conclusions and then decide which of the given conclusion logically follows the given statements.

**Statements:**

- I. All doors are walls.
- II. No wall is chair.

**Conclusions:**

- I. Some chairs are doors.
- II. All walls are doors.

नीचे दिए गए प्रश्न में कुछ कथन और उनके बाद उन कथनों पर आधारित कुछ निष्कर्ष दिए गए हैं। दिए गए कथनों को सही माने, चाहे उनमें सामान्य ज्ञान तथ्यों से भिन्नता हो। सभी निष्कर्ष पढ़ें और फिर निर्धारित करें कि दिए गए कौन से निष्कर्ष, दिए गए कथनों के आधार पर पुच्छिलगत हैं।

**कथन:**

- I. सभी दरवाजे दीवार हैं।
- II. कोई दीवार कुर्सी नहीं है।

**निष्कर्ष:**

- I. कुछ कुर्सियाँ दरवाजे हैं।
- II. सभी दीवारें दरवाजे हैं।

**Options:**

- 1) Only conclusion (I) follows.  
केवल निष्कर्ष (I) सही है।
- 2) Only conclusion (II) follows.  
केवल निष्कर्ष (II) सही है।
- 3) Both conclusion follow.  
दोनों ही निष्कर्ष सही हैं।
- 4) Neither conclusion (I) nor conclusion (II) follows.  
न तो निष्कर्ष (I) न ही निष्कर्ष (II) सही है।

**Correct Answer:** Neither conclusion (I) nor conclusion (II) follows.

न तो निष्कर्ष (I) न ही निष्कर्ष (II) सही है।

**Candidate Answer:** Neither conclusion (I) nor conclusion (II) follows.

न तो निष्कर्ष (I) न ही निष्कर्ष (II) सही है।

**QID : 221** - Amit is brother of Sumit. Sumit is the son of Pankaj. Pankaj is the father of Mayank. How is Mayank related to Amit?

अमित, सुमित का भाई है। सुमित, पंकज का पुत्र है। पंकज, मयंक का पिता है। मयंक, अमित से किस प्रकार संबंधित है?

**Options:**

- 1) Uncle  
चाचा
- 2) Brother  
भाई
- 3) Son  
पुत्र
- 4) Father  
पिता

**Correct Answer:** Brother

भाई

**Candidate Answer:** Brother

भाई

**QID : 222** - Pointing towards a lady, Aman said, "She is the mother of my daughter's son." How is Aman related to that lady?

एक महिला की ओर संकेत करते हुए, अमन ने कहा, "वह मेरी पुत्री के पुत्र की माता है।" अमन उस महिला से किस प्रकार संबंधित है?

**Options:**

- 1) Brother  
भाई
- 2) Father  
पिता
- 3) Nephew  
भतीजा
- 4) Son  
पुत्र

**Correct Answer:** Father

पिता

**Candidate Answer:** Father

पिता

**QID : 223** - The present ages of A and B are 32 years and 24 years respectively. What will be the ratio of ages of A and B after 8 years?

A तथा B की वर्तमान आयु क्रमशः 32 वर्ष तथा 24 वर्ष है। 8 वर्ष पश्चात A तथा B की आयु का अनुपात क्या होगा?

**Options:**

1) 5 : 4

2) 4 : 3

3) 3 : 2

4) 6 : 5

**Correct Answer:** 5 : 4

**Candidate Answer:** 5 : 4

**QID : 224** - What is the net discount (in percentage) for two successive discounts of 20% and 60%?

20% तथा 60% की दो क्रमिक छूट पर निवल (नेट) छूट (प्रतिशत में) क्या है?

**Options:**

1) 80

2) 90

3) 68

4) 78

**Correct Answer:** 68

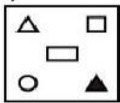
**Candidate Answer:** 68

**QID : 225** - In the given question, there are four figures given out of which three are similar in some manner and one is not like the others. Select the figure which is odd one out.

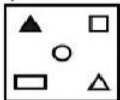
दिए गए प्रश्न में, चार आकृतियाँ दी गई हैं जिसमें से तीन किसी एक गुण के आधार पर समान हैं तथा एक सर्वप्रकार भिन्न है। भिन्न आकृति का चुनिए।

**Options:**

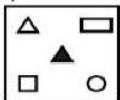
1)



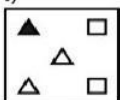
2)



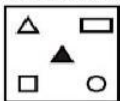
3)



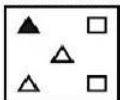
4)



**Correct Answer:**



**Candidate Answer:**



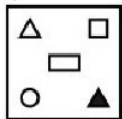
**QID : 226** - In the given question, there are four figures given out of which three are similar in some manner and one is not like the others. Select the figure which is odd one out.

दिए गए प्रश्न में, चार आकृतियाँ दी गई हैं जिसमें से तीन किसी एक गुण के आधार पर समान हैं तथा एक सर्वप्रकार भिन्न है। भिन्न आकृति को चुनिए।

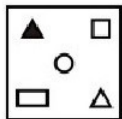


Options:

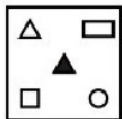
1)



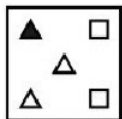
2)



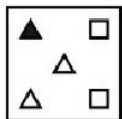
3)



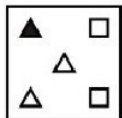
4)



Correct Answer:



Candidate Answer:



QID : 228 - In the following question, select the missing number from the given series.

23, 25, 28, 32, 34, 37, 41, ?

निम्नलिखित प्रश्न में दिए गए विकल्पों में से सही अंक चुनिए।

23, 25, 28, 32, 34, 37, 41, ?

Options:

1) 40

2) 43

3) 44

4) 45

Correct Answer: 43

Candidate Answer: 40

QID : 229 - In the following question, select the missing number from the given series.

41, 43, 46, 51, 58, ?

निम्नलिखित प्रश्न में दिए गए विकल्पों में से सही अंक चुनिए।

41, 43, 46, 51, 58, ?

Options:

1) 62

2) 69

3) 73

4) 65

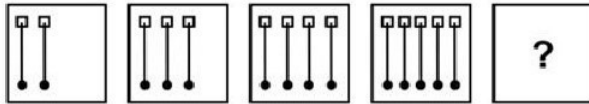
Correct Answer: 69

Candidate Answer: 69

QID : 230 -

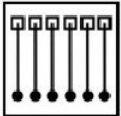
In the following question, select the figure which can be placed at the sign of question mark (?) from the given alternatives.

निम्नलिखित प्रश्न में दिए गए विकल्पों में से प्रश्न चिह्न (?) के स्थान पर आने वाली आकृति को चुनिए।

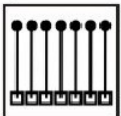


Options:

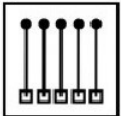
1)



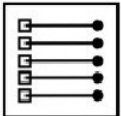
2)



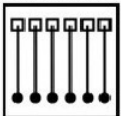
3)



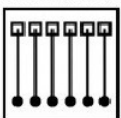
4)



Correct Answer:



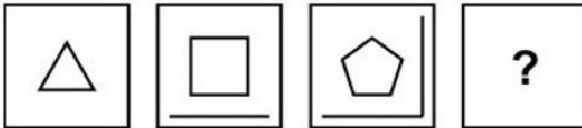
Candidate Answer:



QID : 231 -

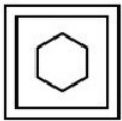
In the following question, select the figure which can be placed at the sign of question mark (?) from the given alternatives.

निम्नलिखित प्रश्न में दिए गए विकल्पों में से प्रश्न चिह्न (?) के स्थान पर आने वाली आकृति को चुनिए।

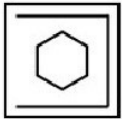


Options:

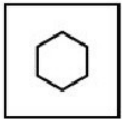
1)



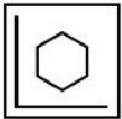
2)



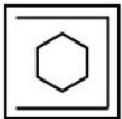
3)



4)



Correct Answer:

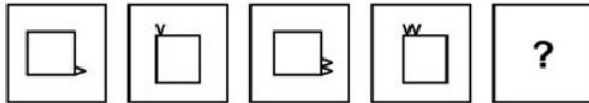


Candidate Answer: [ NOT ANSWERED ]

QID : 232 -

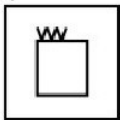
In the following question, select the figure which can be placed at the sign of question mark (?) from the given alternatives.

निम्नलिखित प्रश्न में दिए गए विकल्पों में से प्रश्न चिह्न (?) के स्थान पर आने वाली आकृति को चुनिए।

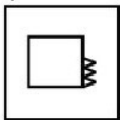


Options:

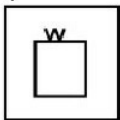
1)



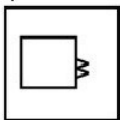
2)



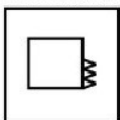
3)



4)



Correct Answer:



Candidate Answer: [ NOT ANSWERED ]

QID : 233 - In a certain code language, "PRISM" is written as "RTKUO". How is "TYRES" written in that code language?

एक विशिष्ट कोड भाषा में, "PRISM" को "RTKUO" लिखा जाता है। इस कोड भाषा में "TYRES" को किस प्रकार लिखा जाएगा?

Options:

1) ZBCDS

2) VATGU

3) WTAUG

4) UBAHV

Correct Answer: VATGU

Candidate Answer: [ NOT ANSWERED ]

QID : 234 - In a certain code language, "TRANCHE" is written as "UOBKDEF". How is "BURGER" written in that code language?

एक विशिष्ट कोड भाषा में, "TRANCHE" को "UOBKDEF" लिखा जाता है। इस कोड भाषा में "BURGER" को किस प्रकार लिखा जाएगा?



**Options:**

1) CRSDFO

2) BSRAFP

3) CSSCGN

4) CVSHFS

**Correct Answer:** CRSDFO

**Candidate Answer:** CRSDFO

**QID : 235** - In a certain code language, "DRAW" is written as "10" and "RING" is written as "12". How is "REST" written in that code language?

एक विशिष्ट कोड भाषा में, "DRAW" को "10" तथा "RING" को "12" लिखा जाता है। इस कोड भाषा में "REST" को किस प्रकार लिखा जाएगा?

**Options:**

1) 9

2) 6

3) 8

4) 7

**Correct Answer:** 8

**Candidate Answer:** 8

**QID : 236** - Which of the following is not a cash crop?

इनमें से कौन सी नकदी फसल नहीं है?

**Options:**

1) Cotton

कपास

2) Jute

जूट

3) Wheat

गेहूँ

4) Sugarcane

गन्ना

**Correct Answer:** Wheat

गेहूँ

**Candidate Answer:** Wheat

गेहूँ

**QID : 237** - Which country was the first to adopt a gold standard in the modern sense?

आधुनिक संदर्भ में किस देश ने पहले स्वर्ण मानक को अपनाता शुरू किया था?

**Options:**

1) United States of America

संयुक्त राज्य अमेरिका

2) France

फ्रांस

3) UK

यूके

4) Italy

इटली

**Correct Answer:** UK

यूके

**Candidate Answer:** [ NOT ANSWERED ]

**QID : 238** - How many banks were nationalised in the second phase of bank nationalisation?

बैंक राष्ट्रीयकरण का दूसरे चरण में कितने बैंकों का राष्ट्रीयकरण हुआ था?

**Options:**

1) 5

2) 4

3) 3

4) 6

**Correct Answer:** 6

**Candidate Answer:** 6

**QID : 239** - Which five year plan in India gave emphasis on 'Growth with Social Justice and Equity'?

भारत में किस पंचवर्षीय योजना में 'सामाजिक न्याय और भागीदारी के साथ विकास' पर जोर दिया?

**Options:**

1) 8<sup>th</sup>

8-वीं

2) 9<sup>th</sup>

9-वीं

3) 10<sup>th</sup>

10-वीं

4) 11<sup>th</sup>

11-वीं

**Correct Answer:** 9<sup>th</sup>

9-वीं

**Candidate Answer:** 9<sup>th</sup>

9-वीं

**QID : 240** - Dual citizenship is a feature of \_\_\_\_\_.

दोहरी नागरिकता \_\_\_\_\_ की विशेषता है।

**Options:**

1) Unitary Govt

एकात्मक सरकार

2) Parliamentary Govt

संसदीय सरकार

3) Federal Govt

संघीय सरकार

4) Presidential Govt

राष्ट्रपतीय सरकार

**Correct Answer:** Federal Govt

संघीय सरकार

**Candidate Answer:** Parliamentary Govt

संसदीय सरकार

**QID : 241** - Which of the following is related to personal freedom?

निम्नलिखित में कौन व्यक्तिगत स्वतंत्रता से संबंधित है?

**Options:**

1) Habeas Corpus

बन्दी प्रत्यक्षीकरण (हैबियस कॉर्पस)

2) Certiorari

उत्प्रेषण (सर्शोअरेराइट)

3) Prohibition

प्रतिषेध (प्रोअविशन)

4) Mandamus

परमादेश (मैन्डेमस)

**Correct Answer:** Habeas Corpus

बन्दी प्रत्यक्षीकरण (हैबियस कॉर्पस)

**Candidate Answer:** [ NOT ANSWER. D ]

**QID : 242** - Which of the following is under the State List?

इनमें से कौन सा राज्य सूची के अंतर्गत है?

**Options:**

1) Agriculture

कृषि

2) Criminal Law

फौजदारी कानून

3) Education

शिक्षा

4) Defence

रक्षा

**Correct Answer:** Agriculture

कृषि

**Candidate Answer:** Education

शिक्षा

**QID : 243** - In the Indian Constitution, which article mentions about establishment of welfare state for the people?

भारतीय संविधान में, लोगों के लिए कल्याणकारी राज्य की स्थापना के बारे में कौन सा अनुच्छेद बताता है?

**Options:**

- 1) 99
- 2) 39
- 3) 59
- 4) 69

**Correct Answer:** 39

**Candidate Answer:** [ NOT ANSWERED ]

**QID : 244** - Which was the largest Indian site of Indus Civilization?

सिंधु सभ्यता का सबसे बड़ा भारतीय स्थल कौन सा था?

**Options:**

- 1) Lothal  
लोथल
- 2) Rakhigarhi  
राखीगढ़ी
- 3) Dholavira  
धोलावीरा
- 4) Chanhundaro  
चंहूंदरो

**Correct Answer:** Rakhigarhi

राखीगढ़ी

**Candidate Answer:** Rakhigarhi

राखीगढ़ी

**QID : 245** - With whose permission did the English set up their first factory in Surat?

किसकी अनुमति से अंग्रेजों ने सुरत में अपना पहला कारखाना (फैक्टरी) स्थापित किया?

**Options:**

- 1) Jahangir  
जहांगीर
- 2) Akbar  
अकबर
- 3) Shahjahan  
शाहजहाँ
- 4) Aurangzeb  
औरंगजेब

**Correct Answer:** Jahangir

जहांगीर

**Candidate Answer:** [ NOT ANSWERED ]

**QID : 246** - Who is known as father of Local Self-government?

स्थानीय स्वशासन के जनक के रूप में कौन जाना जाता है?

**Options:**

- 1) Lord Dalhausie  
लॉर्ड डलहौजी
- 2) Balgangadhar Tilak  
बालगंगाधर तिलक
- 3) Lord Ripon  
लॉर्ड रिपन
- 4) No option is correct  
कोई विकल्प सही नहीं है

**Correct Answer:** Lord Ripon.

लॉर्ड रिपन

**Candidate Answer:** [ NOT ANSWERED ]

**QID : 247** - Who started the English weekly 'New India'?

इंग्लिश साप्ताहिक 'न्यू इंडिया' किसने शुरू किया था?

**Options:**

- 1) Mahatma Gandhi  
महात्मा गांधी
- 2) Bipinchandra Pal  
बिपिनचंद्र पाल
- 3) Dada Bhai Naoroji  
दादा भाई नौरोजी
- 4) Lala Lajpat Rai  
लाला लाजपत राय

**Correct Answer:** Bipinchandra Pal

बिपिनचंद्र पाल

**Candidate Answer:** Dada Bhai Naoroji  
दादा भाई नौरोजी

**QID : 248** - Who established Nalanda Mahavihara?

नालंदा महाविहार की स्थापना किसने की?

**Options:**

1) Kumargupta

कुमारगुप्त

2) Devgupta

देवगुप्त

3) Skandgupta

स्कन्दगुप्त

4) Vedgupta

वेदगुप्त

**Correct Answer:** Kumargupta

कुमारगुप्त

**Candidate Answer:** Kumargupta

कुमारगुप्त

**QID : 249** - Dashavatara temple of Nagara style is located at which of the following places?

नागर शैली का दशावतार मंदिर किस स्थान पर स्थित है?

**Options:**

1) Badrinath

बद्रीनाथ

2) Gorakhpur

गोरखपुर

3) Deogarh

देवगढ़

4) Lalitpur

ललितपुर

**Correct Answer:** Deogarh

देवगढ़

**Candidate Answer:** [ NOT ANSWERED ]

**QID : 250** - Which of the following imaginary line almost divides India into two equal parts?

निम्नलिखित में से कौन सी काल्पनिक रेखा भारत को लगभग दो समान भागों में विभाजित करती है?

**Options:**

1) Tropic of Cancer

कर्क रेखा

2) Tropic of Capricorn

मकर रेखा

3) Equator

विषुव रेखा

4) No option is correct

कोई विकल्प सही नहीं है

**Correct Answer:** Tropic of Cancer

कर्क रेखा

**Candidate Answer:** [ NOT ANSWERED ]

**QID : 251** - Which of the following water bodies separates the Andaman from Nicobar?

निम्न में से कौन सा जलाशय (वाटर बॉडीज) निकोबार से अंडमान को अलग करता है?

**Options:**

1) Andaman Sea

अंडमान सागर

2) Gulf of Mannar

मन्नार की खाड़ी

3) Palk Strait

पाक जलडमरूमध्य

4) 10 degree Channel

10 डिग्री चैनल

**Correct Answer:** 10 degree Channel

10 डिग्री चैनल

**Candidate Answer:** 10 degree Channel

10 डिग्री चैनल

**QID : 252** - Which state is famous for the tropical forest of Silent Valley?

कौन सा राज्य मूक घाटी के उष्णकटिबंधीय वन के लिए प्रसिद्ध है?

**Options:**

1) Goa

गोवा

2) Kerala

केरल

3) Karnataka

कर्नाटक

4) Tamil Nadu

तमिलनाडु

**Correct Answer:** Kerala

केरल

**Candidate Answer:** [ NOT ANSWERED ]

**QID : 253** - According to the Census of India 2011, which of the following is the least populous state of India?

भारत की जनगणना 2011 के अनुसार, निम्न में से कौन भारत का सबसे कम आबादी वाला राज्य है?

**Options:**

1) Sikkim

सिक्किम

2) Mizoram

मिजोरम

3) Goa

गोवा

4) Tripura

त्रिपुरा

**Correct Answer:** Sikkim

सिक्किम

**Candidate Answer:** [ NOT ANSWERED ]

**QID : 254** - Which of the following states has the largest coal reserves of India?

निम्नलिखित में से कौन सा राज्य भारत का सबसे बड़ा कोयला भंडार है?

**Options:**

1) Odisha

ओडिशा

2) Jharkhand

झारखंड

3) Assam

असम

4) Madhya Pradesh

मध्य प्रदेश

**Correct Answer:** Jharkhand

झारखंड

**Candidate Answer:** [ NOT ANSWERED ]

**QID : 255** - Which of the following important factors influence the mechanism of Indian weather?

निम्नलिखित में से कौन सा महत्वपूर्ण कारक भारतीय मौसम के तंत्र को प्रभावित करता है?

**Options:**

1) Jet streams

जेट धाराएं

2) El-Nino

एल-नीनो

3) The shifting in the position of ITCZ

आईटीसीजेड की स्थिति में स्थानांतरण

4) All options are correct

सभी विकल्प सही हैं

**Correct Answer:** All options are correct

सभी विकल्प सही हैं

**Candidate Answer:** [ NOT ANSWERED ]

**QID : 256** - Which colour of light shows maximum deviation when passed through a prism?

प्रिज्म के माध्यम से पारित होने पर कौन सी रंग का प्रकाश अधिकतम विचलन दिखाता है?

**Options:**

- 1) Violet  
बैंगनी
- 2) Red  
लाल
- 3) Green  
हरा
- 4) Yellow  
पीला

**Correct Answer:** Violet

बैंगनी

**Candidate Answer:** Violet

बैंगनी

**QID : 257** - Eclipses occur due to which optical phenomena?

किस प्रकाशिक (ऑप्टिकल) घटना के कारण ग्रहण होते हैं?

**Options:**

- 1) Refraction  
अपवर्तन
- 2) Reflection  
प्रतिबिंब
- 3) Diffraction  
विवर्तन
- 4) No option is correct  
कोई विकल्प सही नहीं है

**Correct Answer:** No option is correct

कोई विकल्प सही नहीं है

**Candidate Answer:** [ NOT ANSWERED ]

**QID : 258** - Which of the following parts of sunlight makes the solar cooker hot?

सूर्य के किस किरण के कारण सौर कुकर गर्म होता है?

**Options:**

- 1) Ultra violet  
अल्ट्रा वायलेट
- 2) Infrared  
अवरक्त
- 3) Infra violet  
इन्फ्रा वायलेट
- 4) No option is correct  
कोई विकल्प सही नहीं है

**Correct Answer:** Infrared

अवरक्त

**Candidate Answer:** [ NOT ANSWERED ]

**QID : 259** - Carbohydrate is stored in the body as \_\_\_\_\_.

कार्बोहाइड्रेट शरीर में \_\_\_\_\_ के रूप में संग्रहीत होता है।

**Options:**

- 1) Glycogen  
ग्लाइकोजन
- 2) Sugar  
शर्करा
- 3) Starch  
स्टार्च
- 4) Sucrose  
सुक्रोज

**Correct Answer:** Glycogen

ग्लाइकोजन

**Candidate Answer:** [ NOT ANSWERED ]

**QID : 260** - Which was the first enzyme isolated in pure crystalline form?

शुद्ध मणिमयीय (क्रिस्टलीय) रूप में पृथक पहला किण्वक (एंजाइम) कौन सा था?

**Options:**

1) Catalase

केटालेज़

2) Urease

यूरीज

3) Lipase

लाइपेज

4) No option is correct

कोई विकल्प सही नहीं है

**Correct Answer:** Urease

यूरीज

**Candidate Answer:** [ NOT ANSWERED ]

**QID : 261** - Which of the following is **NOT** a fuel element?

निम्नलिखित में से कौन सा ईंधन तत्व नहीं है?

**Options:**

1) Uranium

यूरैनियम

2) Thorium

थोरियम

3) Radium

रेडियम

4) Helium

हीलियम

**Correct Answer:** Helium

हीलियम

**Candidate Answer:** [ NOT ANSWERED ]

**QID : 262** - Which one of the following gases is extremely soluble in water

निम्नलिखित गैसों में से कौन सी पानी में पुलनशील है?

**Options:**

1) Carbon dioxide

कार्बन डाइऑक्साइड

2) Chlorine

क्लोरीन

3) Hydrogen sulphide

हाइड्रोजन सल्फ़ाइड

4) Ammonia

अमोनिया

**Correct Answer:** Ammonia

अमोनिया

**Candidate Answer:** [ NOT ANSWERED ]

**QID : 263** - The fundamental particles present in the nucleus of an atom are\_\_\_\_\_.

एक परमाणु के नाभिक में मौजूद मौलिक कण \_\_\_\_\_ हैं।

**Options:**

1) Electron, Proton

इलेक्ट्रॉन, प्रोटॉन

2) Electron, Neutron

इलेक्ट्रॉन, न्यूट्रॉन

3) Neutron, Proton

न्यूट्रॉन, प्रोटॉन

4) No option is correct

कोई विकल्प सही नहीं है

**Correct Answer:** Neutron, Proton

न्यूट्रॉन, प्रोटॉन

**Candidate Answer:** Neutron, Proton

न्यूट्रॉन, प्रोटॉन

**QID : 264** - Which of the following species are critically endangered?

निम्न में से कौन सी प्रजाति गंभीर रूप से संकट पूर्ण लुप्तप्राय (क्रिटिकली इन्डैन्जर्ड) है?

**Options:**

1) White bellied heron

व्हाइट बेलीड हेरोन

2) River Terrapins

रिवर टेरापिन्स

3) Cuban Kite

क्यूबाई कील

4) All options are correct

सभी विकल्प सही हैं

**Correct Answer:** All options are correct

सभी विकल्प सही हैं

**Candidate Answer:** [ NOT ANSWERED ]

**QID : 265** - Which of the following types of Coral Reefs are found in India?

भारत में निम्नलिखित में से किस प्रकार के प्रवाल भित्ति (कोरल रीफ) पाए जाते हैं?

**Options:**

1) Atoll

एटोल

2) Fringing

किनारे की तरफ (फ्रिन्जिंग)

3) Barrier

बैरियर

4) All options are correct

सभी विकल्प सही हैं

**Correct Answer:** All options are correct

सभी विकल्प सही हैं

**Candidate Answer:** [ NOT ANSWERED ]

**QID : 266** - India has launched an Adopt a Heritage scheme as part of which initiative?

भारत ने किस पहल के रूप में 'अपनी धरोहर अपनी पहचान' योजना की शुरुआत की है?

**Options:**

1) Swadesh Yatra

स्वदेश यात्रा

2) Paryatan Parv

पर्यटन पर्व

3) Monument Mitra

स्मारक मित्र

4) Desh Videsh Yojana

देश विदेश योजना

**Correct Answer:** Paryatan Parv

पर्यटन पर्व

**Candidate Answer:** Desh Videsh Yojana

देश विदेश योजना

**QID : 267** - Which Indian state became the first to incorporate skill development programme in higher education?

उच्च शिक्षा में कौशल विकास कार्यक्रम को शामिल करने वाला पहला राज्य कौन बन गया?

**Options:**

1) Rajasthan

राजस्थान

2) Gujarat

गुजरात

3) West Bengal

पश्चिम बंगाल

4) Odisha

ओडिशा

**Correct Answer:** Rajasthan

राजस्थान

**Candidate Answer:** Gujarat

गुजरात

**QID : 268** - WHO has released new guidelines to prevent which global epidemic in October 2017?

अक्टूबर 2017 में डब्ल्यूएचओ ने किस वैश्विक महामारी को रोकने के लिए नए दिशानिर्देश जारी किए हैं?



**Options:**

1) Childhood obesity

बचपन का मोटापा

2) Lung cancer

फेफड़ों का कैंसर

3) SARS

सार्स

4) Zika

जीका

**Correct Answer:** Childhood obesity

बचपन का मोटापा

**Candidate Answer:** [ NOT ANSWERED ]

**QID : 269** - Which planet was discovered by NASA's MAVEN to have a twisted magnetic tail?

नासा के मावन द्वारा किस ग्रह की खोज की गई थी, जिसमें एक मुड़ी हुई चुंबकीय पूंछ है?

**Options:**

1) Venus

शुक्र

2) Mars

मंगल

3) Saturn

शनि

4) Neptune

नेपच्यून

**Correct Answer:** Mars

मंगल

**Candidate Answer:** Neptune

नेपच्यून

**QID : 270** - Which country has recently declared Yoga as sports activity?

किस देश ने हाल ही में योग को खेल गतिविधि के रूप में घोषित किया है?

**Options:**

1) India

इंडिया

2) Iran

इरान

3) Saudi Arabia

सऊदी अरब

4) Iraq

इराक

**Correct Answer:** Saudi Arabia

सऊदी अरब

**Candidate Answer:** [ NOT ANSWERED ]

**QID : 271** - Which country becomes smallest nation ever to enter FIFA World Cup in October 2017?

अक्टूबर 2017 में फीफा विश्व कप में प्रवेश करने वाले सबसे छोटा देश कौन-सा बना?

**Options:**

1) Iceland

आइसलैंड

2) Maldives

मालदीव

3) Monaco

मोनाको

4) Ethiopia

इथियोपिया

**Correct Answer:** Iceland

आइसलैंड

**Candidate Answer:** Ethiopia

इथियोपिया

**QID : 272** - Which of India's neighboring countries celebrates its National Day on March 26?

26 मार्च को भारत का कौन सा पड़ोसी देश ने अपना राष्ट्रीय दिवस मनाता है?

**Options:**

- 1) Pakistan  
पाकिस्तान
- 2) Sri Lanka  
श्री लंका
- 3) Nepal  
नेपाल
- 4) Bangladesh  
बांग्लादेश

**Correct Answer:** Bangladesh

बांग्लादेश

**Candidate Answer:** [ NOT ANSWERED ]

**QID : 273** - Kandy, Jaffna and Galle are all towns situated in which of the following countries?

निम्नलिखित में से किस देश में कैंडी, जाफना और गाले सभी शहर स्थित हैं?

**Options:**

- 1) Nepal  
नेपाल
- 2) Pakistan  
पाकिस्तान
- 3) Srilanka  
श्री लंका
- 4) Bhutan  
भूटान

**Correct Answer:** Srilanka

श्री लंका

**Candidate Answer:** Bhutan

भूटान

**QID : 274** - Who has been honoured with the Vishnudas Bhave Award 2017?

विष्णुदास भावे पुरस्कार 2017 से कितने सम्मानित किया गया है?

**Options:**

- 1) Mohan Joshi  
मोहन जोशी
- 2) Sandeep Patil  
संदीप पाटिल
- 3) Dilbag Singh  
दिलबाग सिंह
- 4) Aditya Thakre  
आदित्य ठाकरे

**Correct Answer:** Mohan Joshi

मोहन जोशी

**Candidate Answer:** Aditya Thakre

आदित्य ठाकरे

**QID : 275** - Which Indian has been honoured with the 'Entrepreneur of the Year 2017'?

किस भारतीय को 'वर्ष 2017 के उद्यमी' से सम्मानित किया गया है?

**Options:**

- 1) Mukesh Ambani  
मुकेश अंबानी
- 2) Azim Premji  
अजीम प्रेमजी
- 3) Maya Swaminathan Sinha  
माया स्वामिनाथन सिन्हा
- 4) Sunil Mittal  
सुनील मि्तल

**Correct Answer:** Maya Swaminathan Sinha

माया स्वामिनाथन सिन्हा

**Candidate Answer:** [ NOT ANSWERED ]

**QID : 276** - India's Sovereign Rating was upgraded by the rating agency Moody after a gap of almost how many years in 2017?

लगभग कितने सालों के बाद वर्ष 2017 में रेटिंग एजेंसी मूडी ने भारत के सार्वभौमिक रेटिंग को उन्नत किया?

**Options:**

- 1) 12 years  
12 वर्ष
- 2) 14 years  
14 वर्ष
- 3) 16 years  
16 वर्ष
- 4) 18 years  
18 वर्ष

**Correct Answer:** 14 years  
14 वर्ष

**Candidate Answer:** [ NOT ANSWERED ]

**QID : 277** - Which Indian economist has been appointed to the Financial Stability Institute Advisory Board of the Bank of International Settlement?

बैंक ऑफ इंटरनेशनल सेटलमेंट की वित्तीय स्थिरता संस्थान सलाहकार बोर्ड के लिए किस भारतीय अर्थशास्त्री नियुक्त किया गया है?

**Options:**

- 1) Raghuram Rajan  
रघुराम राजन
- 2) Arvind Pangarhia  
अरविंद पनगहिया
- 3) Urjit Patel  
उजित पटेल
- 4) No option is correct  
कोई विकल्प सही नहीं है

**Correct Answer:** Urjit Patel  
उजित पटेल

**Candidate Answer:** [ NOT ANSWERED ]

**QID : 278** - India was re-elected on the executive board of which UN body on November 10, 2017?

भारत 10 नवम्बर 2017 को संयुक्त राष्ट्र संघ के किस अनुषंगी निकाय के कार्यकारी बोर्ड में फिर से निर्वाचित हुआ?

**Options:**

- 1) UNESCO  
यूनेस्को
- 2) ILO  
आइ एल ओ
- 3) FAO  
एफ ए ओ
- 4) IDA  
आइडीए

**Correct Answer:** UNESCO  
यूनेस्को

**Candidate Answer:** FAO  
एफ ए ओ

**QID : 279** - Who took over as the new President of Zimbabwe on after Robert Mugabe in November 2017?

नवंबर 2017 में रॉबर्ट मुगाबे के बाद जिम्बाब्वे के नए राष्ट्रपति का पद किसने ग्रहण किया?

**Options:**

- 1) Joice Mujuru  
ज्वायस मुजुरु
- 2) Emmerson Mnangagwa  
एममन मन्गगावा
- 3) Morgan Tsvangirai  
मॉर्गन त्सवान्गिरै
- 4) No option is correct  
कोई भी विकल्प सही नहीं है

**Correct Answer:** Emmerson Mnangagwa  
एममन मन्गगावा

**Candidate Answer:** [ NOT ANSWERED ]

**QID : 280** - NGT has directed which of the following state government to seize 10 year old diesel taxi?

एनजीटी ने निम्नलिखित में से किस राज्य सरकार को 10 साल की डीजल टैक्सी को जब्त करने का निर्देश दिया है?

**Options:**

- 1) Mumbai  
मुंबई
- 2) Chennai  
चेन्नई
- 3) Kolkata  
कोलकाता
- 4) Delhi  
दिल्ली

**Correct Answer:** Delhi  
दिल्ली

**Candidate Answer:** Delhi  
दिल्ली

**QID : 281** - EESL has partnered with which global body to create a low emission economy?

ईईएसएल (EESL) ने किस ग्लोबल बॉडी को कम उत्सर्जन अर्थव्यवस्था बनाने के लिए भागीदारी की है?

**Options:**

- 1) Global Environment Facility  
वैश्विक पर्यावरण सुविधा
- 2) International Atomic Energy Agency  
अंतर्राष्ट्रीय परमाणु ऊर्जा एजेंसी
- 3) World Energy Council  
विश्व ऊर्जा परिषद
- 4) International Renewable Energy Agency  
अंतर्राष्ट्रीय अक्षय ऊर्जा एजेंसी

**Correct Answer:** Global Environment Facility  
वैश्विक पर्यावरण सुविधा

**Candidate Answer:** [ NOT ANSWERED ]

**QID : 282** - Who has been appointed as the governor of Tamil Nadu in September 2017?

सितम्बर 2017 में तमिलनाडु के राज्यपाल के रूप में किसे नियुक्त किया गया?

**Options:**

- 1) Satyapal Malik  
सत्यपाल मलिक
- 2) Keshari Nath Tripathi  
केशरी नाथ त्रिपाठी
- 3) Banwarilal Purohit  
बनवारीलाल पुरोहित
- 4) C Vidyasagar Rao  
सी विद्यासागर राव

**Correct Answer:** Banwarilal Purohit  
बनवारीलाल पुरोहित

**Candidate Answer:** [ NOT ANSWERED ]

**QID : 283** - Audrey Azoulay, the Director General of UNESCO belongs to which of the following countries?

यूनेस्को के महानिदेशक के रूप में नियुक्त ऑड्रे अज़ुलाय का किस देश से संबंधित है?

**Options:**

- 1) France  
फ्रांस
- 2) Germany  
जर्मनी
- 3) Italy  
इटली
- 4) Austria  
ऑस्ट्रिया

**Correct Answer:** France  
फ्रांस

**Candidate Answer:** Italy  
इटली

**QID : 284** - Which of the following cities got India's first World Heritage City tag from UNESCO?

निम्नलिखित में से किस शहर को यूनेस्को से भारत का पहला 'विश्व विरासत शहर' का टैग मिला है?

**Options:**

1) New Delhi

नई दिल्ली

2) Lucknow

लखनऊ

3) Patna

पटना

4) Ahmedabad

अहमदाबाद

**Correct Answer:** Ahmedabad

अहमदाबाद

**Candidate Answer:** Ahmedabad

अहमदाबाद

**QID : 285** - Which of the following will be the India's first carbon neutral district?

निम्नलिखित में से कौन सा भारत का पहला कार्बन रहित जिला होगा?

**Options:**

1) Jaipur

जयपुर

2) Patna

पटना

3) Majuli

माजुली

4) No option is correct

कोई विकल्प सही नहीं है

**Correct Answer:** Majuli

माजुली

**Candidate Answer:** Jaipur

जयपुर

**QID : 286** - What will be the remainder when the largest two digit prime number is divided by 6?

दो अंकों की सबसे बड़ी अभाज्य संख्या को 6 से विभाजित करने पर शेषफल क्या होगा?

**Options:**

1) 1

2) 5

3) 2

4) 3

**Correct Answer:** 1

**Candidate Answer:** 1

**QID : 287** - How many numbers are there from 1 to 70 which contain the digit 6?

1 से 70 तक कितनी संख्याओं में अंक 6 आता है?

**Options:**

1) 17

2) 18

3) 19

4) 20

**Correct Answer:** 17

**Candidate Answer:** 17

**QID : 288** -

What is the value of  $99\frac{1}{2} + 99\frac{1}{6} + 99\frac{1}{12} + 99\frac{1}{20} + 99\frac{1}{30}$ ?

$99\frac{1}{2} + 99\frac{1}{6} + 99\frac{1}{12} + 99\frac{1}{20} + 99\frac{1}{30}$  का मान क्या है?

**Options:**

1) 2975/6

2) 1995/7

3) 3925/7

4) 1649/21

**Correct Answer:** 2975/6

**Candidate Answer:** 2975/6

**QID : 289** - How many numbers are there from 150 to 200 which are divisible by 9?

150 से 200 तक ऐसी कितनी संख्याएँ हैं जो 9 से विभाज्य हैं?

**Options:**

- 1) 4
- 2) 5
- 3) 6
- 4) 8

**Correct Answer:** 6

**Candidate Answer:** 6

**QID : 290** -

What is the value of  $\frac{(0.512 + 0.027)}{(0.8)^2 + (0.3)^2 - 0.24}$ ?

$\frac{(0.512 + 0.027)}{(0.8)^2 + (0.3)^2 - 0.24}$  का मान क्या है?

**Options:**

- 1) 0.9
- 2) 1.2
- 3) 0.8
- 4) 1.1

**Correct Answer:** 1.1

**Candidate Answer:** 0.8

**QID : 291** - 60% of 40% of a number is equal to 96. What is the 48% of that number?

किसी संख्या के 40% का 60%, 96 के बराबर है। उस संख्या का 48% क्या है?

**Options:**

- 1) 166
- 2) 212
- 3) 176
- 4) 192

**Correct Answer:** 192

**Candidate Answer:** 192

**QID : 292** - The ratio of incomes of Manish and Pankaj is 11 : 7. If Pankaj gets Rs 6000 less than Manish, then what is the total income (in Rs) of Manish and Pankaj?

मनीष तथा पंकज की आय का अनुपात 11 : 7 है। यदि पंकज को मनीष से 6000 रु कम प्राप्त होते हैं, तो मनीष तथा पंकज की कुल आय (रु में) कितनी है?

**Options:**

- 1) 18000
- 2) 27000
- 3) 36000
- 4) 28000

**Correct Answer:** 27000

**Candidate Answer:** [ NOT ANSWERED ]

**QID : 293** - Average of 3 numbers is 12. First number is 6 less than the average of the other two. Third number is 6 more than the average of other two. What is the difference between first and third number?

3 संख्याओं का औसत 12 है। पहली संख्या शेष दो की औसत से 6 कम है। तीसरी संख्या शेष दो की औसत से 6 अधिक है। पहली तथा तीसरी संख्या के बीच में क्या अंतर है?

**Options:**

- 1) 8
- 2) 4
- 3) 6
- 4) 10

**Correct Answer:** 8

**Candidate Answer:** [ NOT ANSWERED ]

**QID : 294** - At simple interest, a sum amounts to Rs 882 in 2 years and amounts to Rs 1018.5 in 3.5 years. What is the rate of interest (in percentage)?

साधारण ब्याज पर, एक राशि 2 वर्षों में 882 रु हो जाती है तथा 3.5 वर्षों में 1018.5 रु हो जाती है। ब्याज की दर (प्रतिशत में) क्या है?