

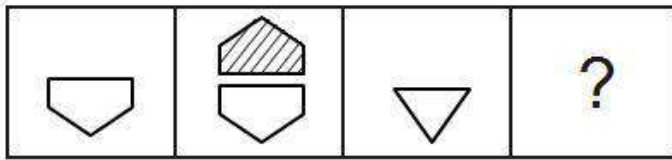
DSSSB SEP 2018

Participant ID:	
Participant Name:	HaryanaJobs.in
Test Center Name:	iON Digital Zone iDZ 1 Sector 62
Test Date:	15/09/2018
Test Time:	12:30 PM - 2:30 PM
Subject:	TGT HINDI FEMALE

Section : Mental Ability

Q.1 श्रृंखला में आगामी आकृति क्या होगी?

Question ID : 16794312699



Ans

- ☒ 1.
- ☒ 2.
- ☒ 3.
- ☒ 4.

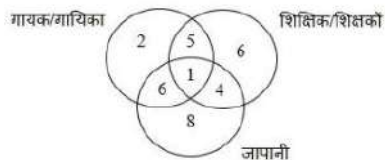
Q.2 दी गई संख्याओं में से विषम युग्म का चयन करें।

Question ID : 16794312715

- ☒ 1. 11 : 1333
- ☒ 2. 9 : 731
- ☒ 3. 13 : 2197
- ☒ 4. 7 : 345

Q.3 उन शिक्षक/शिक्षकों की संख्या ज्ञात करें जो जापानी हैं किंतु गायक/गायिका नहीं हैं।

Question ID : 16794312709



- ☒ 1. 4

☒ 2. 6

☒ 3. 1

☒ 4. 8

Q.4 संख्या और विध्या की वर्तमान आयु का अनुपात 1 : 3 है और 3 वर्ष पूर्व अनुपात 1 : 4 था। 3 वर्ष पश्चात् उनकी आयु का अनुपात क्या होगा?

Question ID : 16794312713

Ans ☒ 1. 3 : 4

☒ 2. 2 : 5

☒ 3. 1 : 5

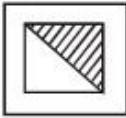
☒ 4. 3 : 1

Q.5 श्रृंखला में से विषम आकृति का चयन करें।

Question ID : 16794312700

Ans

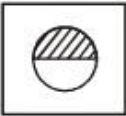
☒ 1.



☒ 2.



☒ 3.



☒ 4.



Q.6 यदि 'कब' का अर्थ '+' है, 'तुम' का अर्थ '-' है, 'आना' का अर्थ 'x' और 'चाह' का अर्थ '÷' है तो "10 कब 16 चाह 20 तुम 5 आना 9" का मूल्य क्या होगा?

Question ID : 16794312711

Ans ☒ 1. 160

☒ 2. 150

☒ 3. 162

☒ 4. 155

Q.7 निम्नलिखित श्रृंखला में लुप्त पद क्या होगा?

Question ID : 16794312712

AK, CN, ____, GT, IW

Ans ☒ 1. ER

☒ 2. DR

☒ 3. DQ

☒ 4. EQ

Q.8 एक घेरी का मूल्य ₹ 6 है। एक अंगूर का मूल्य ₹ 10 है। X इन फलों पर ₹ 40 खर्च करता है। विक्रय की गई घेरियों की संख्या क्या होगी?

Question ID : 16794312712

Ans ☒ 1. 5

☒ 2. 8

 3. 2

 4. 4


Q.9 निम्नलिखित अंकगणितीय क्रमिक श्रृंखला में 15वीं संख्या क्या होगी?

2, 11, 20, 29, ...

Question ID : 16794312716

Ans  1. 128

 2. 135

 3. 137


 4. 126

Q.10 एक प्लेटफॉर्म पर खड़े रहकर आप एक बस को लीब गति से आते हुए देखते हैं। अचानक, आप देखते हैं कि एक छोटा बच्चा गतिशील बस की ओर भाग रहा है। आपकी ओर से आदेश कार्रवाई क्या होगी?

Question ID : 16794312705


Ans  1.

बस को रोकने के लिए किसी साधन का प्रयोग करेंगे और बच्चे को तुरंत प्लेटफॉर्म पर लाने का प्रयत्न करेंगे।

 2. उस स्थान से चले जाएंगे।

 3.

संबंधित प्राधिकारी को आवश्यक कार्रवाई करने के लिए सूचित करेंगे

 4. बच्चे के माता-पिता को ढूँढ़ेंगे

Q.11

Question ID : 16794312706

लेखांकन सेवाएँ और बिज्जी प्रदान करने वाली बहु-राष्ट्रीय कंपनी के लिए प्रबंधन-स्तर के व्यक्तियों की नियुक्ति के लिए लिखित परीक्षा के पश्चात् साक्षात्कार हेतु बुलाने के लिए उपयुक्त अभ्यर्थियों की सूची में से चयन करने से संबंधित शर्तें नीचे उल्लिखित हैं। अभ्यर्थी:

- a) के पास मूलभूत विज्ञान में 65% या उस से अधिक अंकों सहित स्नातक की उपाधि या 55% या उससे अधिक अंकों सहित बी.ई. की उपाधि अवश्य होनी चाहिए।
- b) ने 70% या उससे अधिक अंकों सहित लिखित परीक्षा अवश्य उत्तीर्ण की हो।
- c) की आयु 1/4/18 को 25 से 30 वर्षों के बीच अवश्य हो।
- d) को लेखांकन संस्था में 3 वर्षों का अनुभव और उसके पास 60% या उससे अधिक अंकों सहित लेखांकन में डिप्लोमा अवश्य होना चाहिए।

वर्तमान में ₹ 6 लाख या उससे अधिक की प्रति वर्ष की सी.टी.सी. अवश्य प्राप्त कर रहा हो।

यदि अभ्यर्थी:

- 1) उपरोक्त A के अतिरिक्त अन्य सभी शर्तों को पूर्ण करता है, तो उसे कनिष्ठ लेखाकार के रूप में निर्दिष्ट किया जाएगा।
- 2) उपरोक्त (d) और (e) के अतिरिक्त अन्य सभी शर्तों को पूर्ण करता है, तो उसे प्रशिक्षु-लेखाकार के रूप में निर्दिष्ट किया जा सकता है।

यदि वह 5 वर्षों के अनुभव सहित उपरोक्त सभी शर्तों को पूर्ण करता है, तो उसे वरिष्ठ-लेखाकार के रूप में निर्दिष्ट किया जा सकता है।

यदि वह सी.ए./आई.सी.इन्फ्यू.ए./एम.बी.ए.(वित्त) की शैक्षिक योग्यताओं सहित उपरोक्त सभी मानदंडों (a-e) को पूर्ण करता है, तो उसे प्रबंधक(लेखा) के रूप में निर्दिष्ट किया जा सकता है।

उपरोक्त सभी जानकारियों का अध्ययन करें और निम्नलिखित प्रश्न का उत्तर दें।

वरुण ने सी.ए. की परीक्षा उत्तीर्ण की है और मूलभूत विज्ञान में स्नातक उपाधि और लेखाशास्त्र में डिप्लोमा, अपने संपूर्ण करियर के दौरान और लिखित परीक्षा में भी 75% या उससे अधिक अंक प्राप्त किए। उसकी आयु 27 वर्ष है और लेखाशास्त्र में 4 वर्षों के अनुभव सहित उसका प्रति वर्ष 18 लाख की सी.टी.सी. का वेतन है।

उसे निम्नलिखित में से किस पद के लिए निर्दिष्ट किया जा सकता है?

दिये गए विकल्पों में से चयन करें।

Ans

- ☒ 1. प्रबंधक (लेखा)
- ☐ 2. प्रशिक्षु - लेखाकार
- ☐ 3. कनिष्ठ - लेखाकार
- ☐ 4. वरिष्ठ - लेखाकार

Q.12 सौजन्या, लावण्या की माँ हैं। लावण्या के पिता की माँ का सौजन्या के साथ संबंध किस रूप में है?

Ans

- ☒ 1. माँ
- ☐ 2. बहन
- ☐ 3.

साली/ननद/देवरानी/जिठानी/भाभी/सलहज

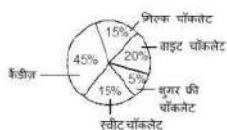
- ☒ 4. सास

Question ID : 16794312710

Q.13

Question ID : 16794312703

निम्नलिखित पाई लेखाचित्र (चार्ट) में "LMN" कंपनी द्वारा चाकलेटों के उत्पादन के संबंध में जानकारी प्रदर्शित की गई है। सभी उत्पादों से प्राप्त आय \$ 12,400 है।

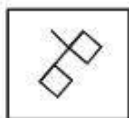


मिल्क चाकलेट की बिक्री से प्राप्त आय क्या होगी?

- Ans
- ✗ 1. \$ 930
 - ✗ 2. \$ 465
 - ✗ 3. \$ 7,440
 - ✓ 4. \$ 1,860

Q.14 किस उत्तर-आकृति में दी गई आकृति निहित है?

Question ID : 16794312704



- Ans
- ✗ 1.
 - ✓ 2.
 - ✗ 3.
 - ✗ 4.

Q.15 दिये गए विकल्पों में से ज्ञात करें।

किलोग्राम द्रव्यमान से उसी प्रकार संबंधित है जिस प्रकार पास्कल _____ से संबंधित है।

Question ID : 16794312698

- Ans
- ✓ 1. दबाव
 - ✗ 2. समय
 - ✗ 3. दूरी
 - ✗ 4. जड़त्वाघूर्ण

Q.16 दिये गए विकल्पों में से शब्दों के विषम युग्म का चयन करें।

Question ID : 16794312714

- Ans
- ✗ 1. कथकली : केरल
 - ✗ 2. ओडिसी : ओड़िशा
 - ✗ 3. सत्रिया : असम
 - ✓ 4. भरतनाट्यम् : आंध्र प्रदेश

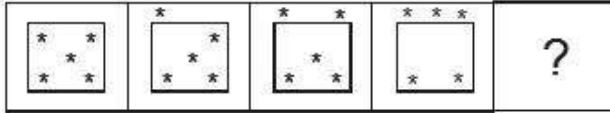
Q.17 मनुष्य के पास सदा _____ होता/होते/होती हैं/है।

Question ID : 16794312708

- Ans
- ☒ 1. आँखें
 - ☒ 2. नाक
 - ☒ 3. हाथ
 - ☒ 4. हृदय

Q.18 श्रृंखला में आगामी आकृति क्या होगी?

Question ID : 16794312702



- Ans
- ☒ 1.
 - ☒ 2.
 - ☒ 3.
 - ☒ 4.

Q.19 बिंदुयुक्त रेखा पर पारदर्शी पत्रक को मोड़ कर रखने पर आकृति कैसी प्रतीत होगी?

Question ID : 16794312707

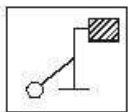


- Ans
- ☒ 1.
 - ☒ 2.
 - ☒ 3.
 - ☒ 4.

Q.20

Question ID : 16794312701

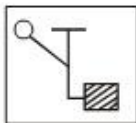
निम्नलिखित आकृति का सही जल प्रतिबिंब क्या होगा?




A B

Ans

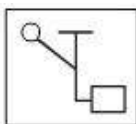
✓ 1.



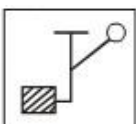
✗ 2.



✗ 3.



✗ 4.



Section : General Awareness

Q.1 संविधान के भाग IV में निहित राज्य नीति के निर्देशक सिद्धांतों के संबंध में निम्नलिखित में से कौन सा कथन सत्य है?

Ans ✗ 1.

वे नागरिकों के मौलिक कर्तव्यों का निर्माण करते हैं।

✓ 2.

आवश्यक कानून बनाना राज्य का कर्तव्य है।

✗ 3.

वे किसी भी अदालत द्वारा लागू करने योग्य हैं।

✗ 4.

उन्हें लागू करना राज्य के लिए अनिवार्य नहीं है।

Question ID : 16794312723

Q.2 भारत के अठारह जनरल (ए.जी.) के संबंध में निम्नलिखित में से कौन सा कथन सत्य नहीं है?

Ans ✗ 1.

ए.जी. का कर्तव्य कानूनी मामलों में भारत सरकार को सलाह देना है।

✗ 2.

ए.जी. राष्ट्रपति के 'प्रसाद पर्यंत' कार्यालय का कार्यभार संभालेगा।

✓ 3.

ए.जी. को सर्वोच्च न्यायालय के न्यायाधीश के रूप में कार्य करना चाहिए था।

✗ 4.

ए.जी. को भारत के राष्ट्रपति द्वारा नियुक्त किया जाता है।

Question ID : 16794312721

Q.3 द्विनाभित (बाईफोकल) चश्मे का आविष्कार किसने किया था?

Question ID : 16794312734

Ans

- ☒ 1. फ्रांसिस क्रिक
- ☒ 2. रॉबर्ट हुक
- ☒ 3. विलियम क्रक्स
- ☒ 4. बेंजामिन फ्रैंकलिन

Q.4 सुल्तान अज़लान शाह कप एक अंतरराष्ट्रीय _____ स्पर्धा है।

Question ID : 16794312725

Ans

- ☒ 1. फुटबॉल
- ☒ 2. बैडमिंटन
- ☒ 3. टेनिस
- ☒ 4. हॉकी

Q.5 घड़ी के सूक्ष्म भागों को स्पष्ट रूप से देखने के लिए घड़ी-साज _____ का प्रयोग करते हैं।

Question ID : 16794312732

Ans

- ☒ 1. प्रक्षेपक
- ☒ 2. सरल सूक्ष्मदर्शी
- ☒ 3. क्रमवीक्षक (स्कैनर)
- ☒ 4. संयुक्त सूक्ष्मदर्शी

Q.6 दिल्ली का अलाई - दरवाज़ा _____ द्वारा बनाया गया था।

Question ID : 16794312726

Ans

- ☒ 1. इल्तुतमिश
- ☒ 2. कुतुब-उद्-दीन ऐबक
- ☒ 3. आराम शाह
- ☒ 4. अलाउद्दीन खिलजी

Q.7 राष्ट्रीय बैमानिती एवं अंतरिक्ष प्रशासन ने सितंबर 2015 में पुष्टि की कि _____ पर तरल जल के अस्तित्व को सिद्ध करने के प्रमाण थे।

Question ID : 16794312735

Ans

- ☒ 1. मंगल ग्रह
- ☒ 2. शनि ग्रह
- ☒ 3. बुध ग्रह
- ☒ 4. बृहस्पति ग्रह

Q.8 दिल्ली पहली बार _____ के अंतर्गत एक साम्राज्य की राजधानी बनी।

Question ID : 16794312719

Ans

- ☒ 1. लोदी राजवंश
- ☒ 2. खिलजी राजवंश
- ☒ 3. तुग़लक़ राजवंश

✓ 4. राजपूत राजवंश

Q.9 लघु उद्योग विकास बैंक ऑफ़ इंडिया (SIDBI) की स्थापना _____ की गई थी।

Question ID : 16794312736

Ans

- ✗ 1. निजी क्षेत्र के अंतर्गत
- ✗ 2. स्टेट बैंक ऑफ़ इंडिया द्वारा
- ✓ 3. संसद के एक अधिनियम के अंतर्गत
- ✗ 4. भारतीय रिज़र्व बैंक द्वारा

Q.10 टोडा कढ़ाई _____ राज्य से है।

Question ID : 16794312727

Ans

- ✗ 1. नागालैंड
- ✗ 2. बिहार
- ✓ 3. तमिलनाडु
- ✗ 4. राजस्थान

Q.11 प्रधान मंत्री गरीब कल्याण योजना _____ से संबंधित है।

Question ID : 16794312730

Ans

- ✗ 1. कम लागत किफ़ायती आवास
- ✗ 2. कौशल और प्रशिक्षण का उन्नयन
- ✓ 3. अज्ञात आय की घोषणा
- ✗ 4. जनजातीय लोगों के विकास

Q.12 भारतीय ऋणशोधन अक्षमता और दिवालियापन बोर्ड एक _____ है।

Question ID : 16794312737

Ans

- ✗ 1. सेवा प्रदाता
- ✗ 2. गैर बैंकिंग वित्तीय कंपनी
- ✗ 3. संपत्ति प्रबंधन निगम
- ✓ 4. नियामक

Q.13 मानव शरीर में उतकों के निर्माण और सुधार करने के लिए _____ की आवश्यकता होती है।

Question ID : 16794312733

Ans

- ✓ 1. प्रोटीन्स
- ✗ 2. विटामिन्स
- ✗ 3. खनिज पदार्थों
- ✗ 4. कार्बोहाइड्रेट्स

Q.14 _____ उन वस्तुओं के परिमाण और गेवाओं को अभिलिखित करता है जिनका देश द्वारा अन्य देशों से आयात के साथ साथ उनका निर्यात किया जाता है।

Question ID : 16794312731

Ans

- ✓ 1. व्यापार संतुलन
- ✗ 2. शुद्ध विदेश व्यापार

☒ 3. विदेशी मुद्रा समझौता खाता

☒ 4. भुगतान देय

Q.15 लोकसभा ने अगस्त 2018 में राष्ट्रीय खेल विश्वविद्यालय की स्थापना _____ में स्थापित करने के लिए एक बिल पारित किया।

Question ID : 16794312724

Ans ☒ 1. भुवनेश्वर

☒ 2. गुवाहाटी

☒ 3. कोलकाता

☒ 4. इम्फाल

Q.16 छत्रपति शिवाजी ने _____ शताब्दी ईस्वी के दौरान दक्खिन में मराठा साम्राज्य की स्थापना की।

Question ID : 16794312718

Ans ☒ 1. 17वीं

☒ 2. 16वीं

☒ 3. 18वीं

☒ 4. 15वीं

Q.17 निम्नलिखित में से कौन सी झील ओड़िशा में स्थित है?

Question ID : 16794312729

Ans ☒ 1. कोल्लेरू

☒ 2. पुलिकट

☒ 3. चिलिका

☒ 4. सांभर

Q.18 भारत के संविधान में कौन के कौन-से अनुच्छेद के अंतर्गत अल्पसंख्यकों के शैक्षणिक संस्थानों की स्थापना और प्रशासन का अधिकार प्राप्त है?

Question ID : 16794312722

Ans ☒ 1. अनुच्छेद 31A

☒ 2. अनुच्छेद 32

☒ 3. अनुच्छेद 30

☒ 4. अनुच्छेद 23

Q.19 जुलाई 2018 की सूचना के अनुसार केंद्र सरकार में तत्कालीन विभागहीन केंद्रीय मंत्री निम्न में से कौन हैं?

Question ID : 16794312720

Ans ☒ 1. अरुण जेटली

☒ 2. सुषमा स्वराज

☒ 3. उमा भारती

☒ 4. राधा मोहन सिंह

Q.20 निम्नलिखित में से कौन सा पर्वत शिखर भारत में स्थित है?

Question ID : 16794312728

Ans

- ☒ 1. माउंट एवरेस्ट
- ☒ 2. अन्नपूर्णा
- ☒ 3. मकालू
- ☒ 4. कामेट

Section : Arithmetic Ability

Q.1 जब किसी संख्या को 9 से भाग दिया जाता है, तो शेषफल 6 प्राप्त होता है, और जब इस संख्या को 21 से भाग दिया जाता है, तो शेषफल 12 प्राप्त होता है। यदि x ऐसी ही न्यूनतम एक तीन अंको वाली संख्या है, तो x के अंको का योग है:

Question ID : 16794312739

- Ans
- ☒ 1. 14
 - ☒ 2. 19
 - ☒ 3. 18
 - ☒ 4. 15

Q.2 ₹ 51,200 की एक राशि पर $3\frac{3}{4}\%$ वार्षिक दर से $2\frac{1}{2}$ वर्ष का चक्रवृद्धि ब्याज कितना होगा? (एक ₹ के सन्निकट)

Question ID : 16794312749

- Ans
- ☒ 1. ₹ 4,601
 - ☒ 2. ₹ 4,592
 - ☒ 3. ₹ 4,767
 - ☒ 4. ₹ 4,609

Q.3 स्थान A से B की दूरी को अग्नि 48 km/h की समान गति से तय करता है और B से C की दूरी को 120 km/h की समान गति से तय करता है। यदि $AB : BC = 2 : 3$ है, तो पूरी यात्रा के लिए औसत गति क्या है?

Question ID : 16794312753

- Ans
- ☒ 1. 72 km/h
 - ☒ 2. 84 km/h
 - ☒ 3. 80 km/h
 - ☒ 4. 75 km/h

Q.4 दो संख्याओं का मध्यनुपाती 9 है और तृतीयानुपाति 243 है। उन संख्याओं का औसत क्या होगा?

Question ID : 16794312747

- Ans
- ☒ 1. 18
 - ☒ 2. 15
 - ☒ 3. 12
 - ☒ 4. 27

Q.5 यदि $x = 1 + 2^2 + 3^2 + 4^2 + \dots + 10^{10}$ है, तो x में इकाई का अंक क्या है?

Question ID : 16794312738

- Ans
- ☒ 1. 3
 - ☒ 2. 7
 - ☒ 3. 5
 - ☒ 4. 4

Q.6 दो संख्याओं का योग 150 है और उनका महत्तम समापवर्तक (HCF) 15 है। यदि संख्याएँ 40 और 120 में हैं, तो उनके व्युत्क्रमों का योग है:

Question ID : 16794312741

Ans

- ☐ 1. $\frac{1}{105}$
- ☒ 2. $\frac{2}{63}$
- ☐ 3. $\frac{3}{115}$
- ☐ 4. $\frac{2}{65}$

Q.7 कोई व्यक्ति एक वस्तु के इसके अंकित मूल्य पर 20% छूट के बाद खरीदता है। वह इसकी मरम्मत पर ₹ 500 खर्च करता है, और ₹ 1,800 में बेचकर 20% लाभ प्राप्त करता है। वस्तु का अंकित मूल्य क्या है?

Question ID : 16794312744

- Ans ☐ 1. ₹ 2,000
- ☐ 2. ₹ 1,150
- ☐ 3. ₹ 1,500
- ☒ 4. ₹ 1,250

Q.8 एक कक्षा में, 40% विद्यार्थी छात्रवृत्ति प्राप्त करते हैं। कक्षा में 30 लड़कियाँ हैं जिनमें से 40% छात्रवृत्ति प्राप्त करती हैं। यदि लड़कियों की संख्या कक्षा के कुल विद्यार्थियों की संख्या का 20% है, तो _____ प्रतिशत लड़के छात्रवृत्ति प्राप्त नहीं करते हैं।

Question ID : 16794312742

- Ans ☒ 1. 60
- ☐ 2. 64
- ☐ 3. 40
- ☐ 4. 56

Q.9 प्रतिदिन 4 घंटे काम करते हुए 50 व्यक्ति एक काम को 21 दिनों में कर सकते हैं। पहले से छेड़ गुना अधिक काम को 20 दिनों में करने के लिए कितने व्यक्तियों की आवश्यकता होगी, यदि वे प्रतिदिन 7 घंटे काम करें?

Question ID : 16794312755

- Ans ☐ 1. 72
- ☐ 2. 60
- ☐ 3. 70
- ☒ 4. 75

Q.10 तीन सर्कडिय वृत्त इस प्रकार हैं कि बीच वाला वृत्त शेष दो वृत्तों के बीच के क्षेत्रफल को दो बराबर भागों में बाँटता है। सबसे छोटे तथा सबसे बड़े वृत्त की विज्याएँ क्रमशः 9 cm और 15 cm हैं, तो बीच वाले वृत्त की विज्या है:

Question ID : 16794312752

- Ans ☐ 1. $\sqrt{156}$ cm
- ☐ 2. 13 cm
- ☐ 3. 7 cm
- ☒ 4. $\sqrt{153}$ cm

Q.11 A ने एक वस्तु B को 20% लाभ पर बेची, B ने उसे C को 20% लाभ पर बेचा और C ने उसे D को 40% हानि पर बेचा। D ने इसे ₹ 691.20 में खरीदा। A और B के लोगों में अंतर क्या है?

Question ID : 16794312745

- Ans ☐ 1. ₹ 60
- ☐ 2. ₹ 48
- ☐ 3. ₹ 50
- ☒ 4. ₹ 32

Q.12 अनिता और मोनू ने इकट्ठे मिलकर ₹ 84,100 की एक राशि घनवृद्धि ब्याज पर 5% वार्षिक दर पर उधार दी, जबकि ब्याज वार्षिक संयोजित था। अनिता को 3 वर्ष के पश्चात अपने भाग पर जो मिश्रधन मिला और मोनू को अपने भाग पर जो मिश्रधन 5 वर्ष पश्चात मिला वे दोनों समान थे। अनिता और मोनू ने जो राशियाँ उधार दी उनमें अंतर क्या था?

Question ID : 16794312750

- Ans
- ☒ 1. ₹ 4,400
 - ☐ 2. ₹ 3,960
 - ☒ 3. ₹ 4,100
 - ☐ 4. ₹ 4,360

Q.13 10.5 बिज्या वाले धातु में बने एक गोले को पिघलाकर उसको गोले की बिज्या के एक तिहाई के बराबर बिज्या वाले लंब वृत्तीय शंकुओं में ढाला जाता है जिनकी प्रत्येक की ऊँचाई 3 cm है। शंकुओं की संख्या होगी:

Question ID : 16794312751

- Ans
- ☒ 1. 126
 - ☐ 2. 63
 - ☐ 3. 105
 - ☐ 4. 84

Q.14 180 विद्यार्थियों की एक कक्षा में, 60% लड़के तथा शेष लड़कियाँ हैं। शणित की एक परीक्षा में सभी विद्यार्थियों का औसत प्राप्तांक 62 है। लड़कियों का औसत प्राप्तांक लड़कों के प्राप्तांक से 60% अधिक है। लड़कियों का औसत प्राप्तांक क्या है?

Question ID : 16794312746

- Ans
- ☐ 1. 76
 - ☐ 2. 70
 - ☐ 3. 75
 - ☒ 4. 80

Q.15 यदि कोई व्यक्ति अपनी सामान्य गति से 20 km/h धीरे चलता है, तो उसे एक निश्चित दूरी तय करने में 4 घंटे अधिक लगते हैं। यदि वह अपनी सामान्य गति से 40 km/h तेज चलता है, तो उसे उस दूरी को तय करने में 4 घंटे कम लगते हैं। वह दूरी (km में) है:

Question ID : 16794312754

- Ans
- ☐ 1. 720
 - ☐ 2. 480
 - ☐ 3. 1080
 - ☒ 4. 960

Q.16 किसी संख्या में 25% वृद्धि करने के बजाए एक विद्यार्थी ने उस संख्या में 25% की कमी कर दी और फिर इस प्रकार प्राप्त संख्या में 25% की वृद्धि कर दी। उसका उत्तर वास्तविक (सही) उत्तर से कितने प्रतिशत कम है?

Question ID : 16794312743

- Ans
- ☒ 1. 25
 - ☐ 2. 20
 - ☐ 3. 12.5
 - ☐ 4. 50

Q.17 तीन बर्तनों A, B तथा C में स्फिरिट और पानी का अनुपात क्रमशः 1 : 5, 3 : 5, और 5 : 7 हैं। A में से 2 L, B में से 3 : L तथा C में से 4 L घोल लेकर बर्तन D में मिलाया जाता है। D से अब 288 mL घोल मिलाकर उसमें 122 mL पानी मिलाया जाता है। अंतिम घोल में स्फिरिट और पानी का अनुपात क्या है?

Question ID : 16794312748

- Ans
- ☒ 1. 10 : 31
 - ☐ 2. 10 : 21
 - ☐ 3. 25 : 43
 - ☐ 4. 25 : 47

Q.18

Question ID : 16794312740

$$\left(\frac{8\frac{1}{4} - 5\frac{7}{8}}{3\frac{3}{4} \text{ का } 1\frac{1}{3}} \div \frac{6\frac{1}{4} \text{ का } 9\frac{1}{2}}{\frac{19}{20}} \right) \times 33\frac{1}{3} \text{ का } \frac{8 \div \frac{4}{5} \text{ का } \frac{2}{3}}{8 \times \frac{2}{3} \div \frac{4}{5}} \text{ का मान है:}$$

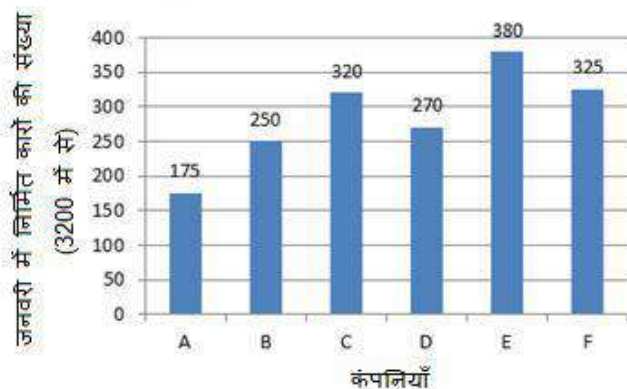
Ans

- ☐ 1. $\frac{5}{9}$
- ☐ 2. $\frac{1}{9}$
- ☒ 3. $\frac{9}{16}$
- ☐ 4. $\frac{9}{32}$

Comprehension:

निम्नलिखित ग्राफ और सारणी को पढ़िए तथा प्रश्नों के उत्तर दीजिए।

विभिन्न कंपनियों द्वारा जनवरी और फरवरी में निर्मित कारों की कुल कारें = 3200



कंपनी	दो महीनों में निर्मित हुई कारों की प्रतिशतता
A	12
B	15
C	18
D	16
E	20
F	19

SubQuestion No : 19

Q.1 सभी कंपनियों द्वारा जनवरी में निर्मित कारों की कुल संख्या सभी कंपनियों द्वारा फरवरी में निर्मित कारों की कुल संख्या से कितने प्रतिशत अधिक है? (दशमलव के एक स्थान तक शुद्धमान)

Question ID : 16794312758

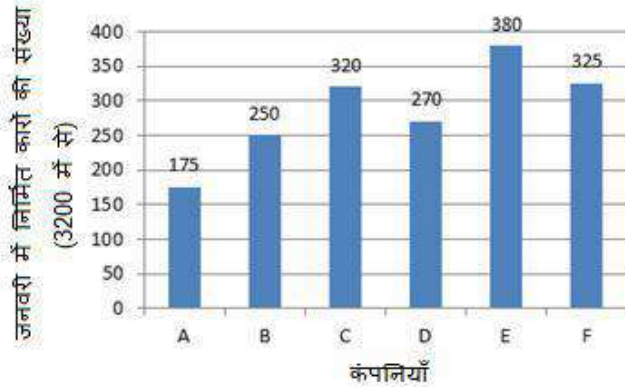
Ans

- ☐ 1. 17.4
- ☒ 2. 16.2
- ☐ 3. 16.6

Comprehension:

निम्नलिखित ग्राफ और सारणी को पढ़िए तथा प्रश्नों के उत्तर दीजिए।

विभिन्न कंपनियों द्वारा जनवरी और फरवरी में निर्मित कारों की कुल कारें = 3200



कंपनी	दो महीनों में निर्मित हुई कारों की प्रतिशतता
A	12
B	15
C	18
D	16
E	20
F	19

SubQuestion No : 20

Q.2
A, C और E कंपनियों द्वारा दो महीनों में निर्मित कारों की कुल संख्या का A, B, C, D तथा F कंपनियों द्वारा फरवरी में निर्मित कारों की कुल संख्या से अनुपात है:

Question ID : 16794312757

- Ans
- ✓ 1. 80 : 61
 - ✗ 2. 60 : 43
 - ✗ 3. 80 : 71
 - ✗ 4. 60 : 41



Section : General English

Q.1 Select the synonym of the given word.

Question ID : 16794312766

SAVAGE





- Ans
- ✗ 1. humane
 - ✗ 2. urban

-  3. civilised
-  4. barbarian

Q.2 Select the most appropriate option to fill in the blank.

Question ID : 16794312759


The staff meeting is to be held _____ the Principal's office at 3 pm.

- Ans  1. in
-  2. on
-  3. at
-  4. into

Q.3 Select the most appropriate option to fill in the blank.

Question ID : 16794312764





I have an _____ with the doctor at 6 pm.

- Ans  1. agreement
-  2. engagement
-  3. arrangement
-  4. appointment

Q.4 Select the most appropriate option to fill in the blank.

Question ID : 16794312760





The mist was so thick at the Coaker's Walk in Kodaikanal, that it was like walking _____ the clouds.

- Ans  1. under
-  2. through
-  3. over
-  4. along

Q.5 Select the ANTONYM of the given word.

Question ID : 16794312768





SINCERE

- Ans  1. serious
-  2. genuine
-  3. false
-  4. natural

Q.6 In the following sentence, four words/phrases have been underlined. One of them is incorrect. Choose the INCORRECT word/phrase from the given options.

Question ID : 16794312773

A lot of companies spend millions of rupees for a short advertisement between a cricket match in India.

- Ans  1. for
-  2. spend
-  3. between
-  4. A lot of

Q.7

Question ID : 16794312771





Arrange the parts of the sentence in meaningful and grammatically correct order.

- A. Invented the ice stupa that helps create
- B. Ladakhi engineer and innovator Sonam Wangchuk
- C. An artificial glacier
- D. Storing water in winter
- E. For the purpose of

Ans  1. BACED
 2. BAEDC
 3. CEDAB
 4. CABED

Q.8 In the following sentence, four words/phrases have been underlined. One of them is incorrect. Choose the INCORRECT word/phrase from the given options.





She climbed out of the swimming pool and dried myself with a towel.

Ans  1. myself
 2. climbed out
 3. with a towel
 4. dried

Question ID : 16794312772

Q.9 Select the most appropriate option to fill in the blank.





This ticket will _____ you to take any ride in the park and visit any section that you like.

Ans  1. enable
 2. determine
 3. approve
 4. accept

Question ID : 16794312765





Q.10 Select the most appropriate option to fill in the blank.

I managed to finish my work _____ all the disturbance created by children all around.

Ans  1. because of
 2. although
 3. in spite of
 4. in case

Question ID : 16794312763

Q.11 Select the sentence structure that is grammatically correct.

Ans  1.
Twenty feet tall the fully grown the dragon tree is about and five feet across.
 2.
Twenty feet tall and five feet across the fully grown dragon tree is about.
 3.
Twenty feet tall and five feet across is about the fully grown dragon tree.
 4.
The fully grown dragon tree is about twenty feet tall and five feet across.

Question ID : 16794312770

Q.12 Select the synonym of the given word.

MOTLEY

Ans  1. plain

Question ID : 16794312767

- ☒ 2. diverse
☐ 3. similar
☐ 4. uniform

Q.13 Select the ANTONYM of the given word.

Question ID : 16794312769

STRIVE

- Ans ☐ 1. attempt
☒ 2. rest
☐ 3. fight
☐ 4. labour

Q.14 Select the most appropriate option to fill in the blank.

Question ID : 16794312761

The number of immigrants _____ steadily during the past few years.

- Ans ☐ 1. was increasing
☐ 2. increased
☒ 3. has increased
☐ 4. will have increased

Q.15 Select the most appropriate option to fill in the blank.

Question ID : 16794312762

Do you still live in Anupam Aparments, _____ have you moved?

- Ans ☐ 1. but
☒ 2. or
☐ 3. so
☐ 4. and

Comprehension:

Read the following passage and answer the questions given after it.

At a time when quality of Indian medicines is being questioned, a WHO agency has found that only 2% of the medical products in Southeast Asia, including India, were substandard or spurious against a global figure of 10.5%.

Effectively, it means medicines and medical products available in India are safer than what is available in American and European markets.

Nearly 10.5% of the samples collected by WHO's Global Surveillance and Monitoring System for substandard and falsified medical products (GSMS) between 2013-17 failed quality test, says the report released on Tuesday. It defines falsified medical products

the report released on Tuesday. It defines falsified medical products as those that misrepresent identity, composition or source.

In the past spotlight has largely been on lifestyle medicines such as slimming tablets, the WHO findings show that everything — from cancer medicines to contraception, antibiotics to vaccines — faces a quality problem across the world.

Substandard drugs and vaccines up the risk of several diseases becoming difficult to treat and the world left grappling with antimicrobial resistance, which is a growing concern.

“There is clear evidence that resistance to the most important anti-malarial medicine, artemisinin, first appeared in a part of the world where at one point between 38 and 90% of the artemisinin medicines on the market were substandard or falsified,” says the report.

Nearly 1,500 cases from across the world, including India, were reported to the surveillance team. The magnitude of the problem could be bigger as not all countries reported cases.

The growing global trade in medicines has also opened door to drugs, vaccines and other medical products that do not meet quality standards and are even toxic at times.

Online pharmacies that are fast gaining popularity — in the US alone 19 to 26 million people now buy medicines online — also pose a threat, as it makes it easier to push poor quality drugs into even the best regulated markets.

The pharma sector is doing its bit to ensure safety from fakes.

“Some of the security features we have introduced for our products include bar coding for track and trace, hologram and tamper-proof plastic trays with locking system for pre-filled syringe products,” said Dr Krishna Ella, CMD, Bharat Biotech.

Bar coding and hologram would also help check spurious drugs.


Launched in 2013 by the WHO, the Global Surveillance and Monitoring System aims to improve the quality of medical products and aid in member countries.


Q.1
6 What is the aim of the WHO's Global Surveillance and Monitoring System?


Question ID : 16794312776

Ans  1.

To improve the quality of medical products and aid in member countries.

 2. To survey the availability of medicines in its member countries.

 3. To regulate the market prices of drugs in its member countries.

 4. To check the supply of spurious drugs in its member countries.

Comprehension:

Read the following passage and answer the questions given after it.

At a time when quality of Indian medicines is being questioned, a WHO agency has found that only 2% of the medical products in Southeast Asia, including India, were substandard or spurious against a global figure of 10.5%.

Effectively, it means medicines and medical products available in India are safer than what is available in American and European markets.

Nearly 10.5% of the samples collected by WHO's Global Surveillance and Monitoring System for substandard and falsified medical products (GSMS) between 2013-17 failed quality test, says the report released on Tuesday. It defines falsified medical products as those that misrepresent identity, composition or source.

In the past spotlight has largely been on lifestyle medicines such as slimming tablets, the WHO findings show that everything — from cancer medicines to contraception, antibiotics to vaccines — faces a quality problem across the world.

Substandard drugs and vaccines up the risk of several diseases becoming difficult to treat and the world left grappling with antimicrobial resistance, which is a growing concern.

“There is clear evidence that resistance to the most important anti-malarial medicine, artemisinin, first appeared in a part of the world

where at one point between 38 and 90% of the artemisinin medicines on the market were substandard or falsified,” says the report.

Nearly 1,500 cases from across the world, including India, were reported to the surveillance team. The magnitude of the problem could be bigger as not all countries reported cases.

The growing global trade in medicines has also opened door to drugs, vaccines and other medical products that do not meet quality standards and are even toxic at times.

Online pharmacies that are fast gaining popularity — in the US alone 19 to 26 million people now buy medicines online — also pose a threat, as it makes it easier to push poor quality drugs into even the best regulated markets.

The pharma sector is doing its bit to ensure safety from fakes.

“Some of the security features we have introduced for our products include bar coding for track and trace, hologram and tamper-proof plastic trays with locking system for pre-filled syringe products,” said Dr Krishna Ella, CMD, Bharat Biotech.

Bar coding and hologram would also help check spurious drugs.

Launched in 2013 by the WHO, the Global Surveillance and Monitoring System aims to improve the quality of medical products and aid in member countries.

SubQuestion No : 17

Q.1
7 What are the findings of the WHO's Global Surveillance and Monitoring System regarding Indian drugs?

Question ID : 16794312775

Ans  1.

Indian medicines are safer than the medicines in US or Europe.

 2.

The quality of Indian medicines is questionable.

 3.

10.5% of the samples of drugs failed the quality tests.

 4.

10% of the Indian medicines were spurious or substandard.

Comprehension:

Read the following passage and answer the questions given after it.

At a time when quality of Indian medicines is being questioned, a WHO agency has found that only 2% of the medical products in Southeast Asia, including India, were substandard or spurious against a global figure of 10.5%.

Effectively, it means medicines and medical products available in India are safer than what is available in American and European markets.

Nearly 10.5% of the samples collected by WHO's Global Surveillance and Monitoring System for substandard and falsified medical products (GSMS) between 2013-17 failed quality test, says the report released on Tuesday. It defines falsified medical products as those that misrepresent identity, composition or source.

In the past spotlight has largely been on lifestyle medicines such as slimming tablets, the WHO findings show that everything — from cancer medicines to contraception, antibiotics to vaccines — faces a quality problem across the world.

Substandard drugs and vaccines up the risk of several diseases becoming difficult to treat and the world left grappling with antimicrobial resistance, which is a growing concern.

“There is clear evidence that resistance to the most important anti-malarial medicine, artemisinin, first appeared in a part of the world where at one point between 38 and 90% of the artemisinin medicines on the market were substandard or falsified,” says the report.

Nearly 1,500 cases from across the world, including India, were reported to the surveillance team. The magnitude of the problem could be bigger as not all countries reported cases.

The growing global trade in medicines has also opened door to drugs, vaccines and other medical products that do not meet quality standards and are even toxic at times.

Online pharmacies that are fast gaining popularity — in the US alone 19 to 26 million people now buy medicines online — also pose a threat, as it makes it easier to push poor quality drugs into even the best regulated markets.

The pharma sector is doing its bit to ensure safety from fakes.

“Some of the security features we have introduced for our products include bar coding for track and trace, hologram and tamper-proof plastic trays with locking system for pre-filled syringe products,” said Dr Krishna Ella, CMD, Bharat Biotech.

Bar coding and hologram would also help check spurious drugs.

Launched in 2013 by the WHO, the Global Surveillance and Monitoring System aims to improve the quality of medical products and aid in member countries.

SubQuestion No : 18

Q.1
8 What has aggravated the problem of fake and substandard drugs in the market?

Question ID : 16794312778

- Ans
- ☒ 1. Growing global trade and online pharmacies
 - ☐ 2. Growing global trade and use of holograms
 - ☐ 3. Use of holograms and bar coding system
 - ☐ 4. Use of bar coding system and online pharmacies

Comprehension:

Read the following passage and answer the questions given after it.

At a time when quality of Indian medicines is being questioned, a WHO agency has found that only 2% of the medical products in Southeast Asia, including India, were substandard or spurious against a global figure of 10.5%.

Effectively, it means medicines and medical products available in India are safer than what is available in American and European markets.

Nearly 10.5% of the samples collected by WHO's Global Surveillance and Monitoring System for substandard and falsified

medical products (GSMS) between 2013-17 failed quality test, says the report released on Tuesday. It defines falsified medical products as those that misrepresent identity, composition or source.

In the past spotlight has largely been on lifestyle medicines such as slimming tablets, the WHO findings show that everything — from cancer medicines to contraception, antibiotics to vaccines — faces a quality problem across the world.

Substandard drugs and vaccines up the risk of several diseases becoming difficult to treat and the world left grappling with antimicrobial resistance, which is a growing concern.

“There is clear evidence that resistance to the most important anti-malarial medicine, artemisinin, first appeared in a part of the world where at one point between 38 and 90% of the artemisinin medicines on the market were substandard or falsified,” says the report.

Nearly 1,500 cases from across the world, including India, were reported to the surveillance team. The magnitude of the problem could be bigger as not all countries reported cases.

The growing global trade in medicines has also opened door to drugs, vaccines and other medical products that do not meet quality standards and are even toxic at times.

Online pharmacies that are fast gaining popularity — in the US alone 19 to 26 million people now buy medicines online — also pose a threat, as it makes it easier to push poor quality drugs into even the best regulated markets.

The pharma sector is doing its bit to ensure safety from fakes.

“Some of the security features we have introduced for our products include bar coding for track and trace, hologram and tamper-proof plastic trays with locking system for pre-filled syringe products,” said Dr Krishna Ella, CMD, Bharat Biotech.

Bar coding and hologram would also help check spurious drugs.

Launched in 2013 by the WHO, the Global Surveillance and Monitoring System aims to improve the quality of medical products

Monitoring system aims to improve the quality of medical products and aid in member countries.

SubQuestion No : 19

Q.1
9 Which of the following are termed as life style medicines?

Question ID : 16794312779

- Ans
- ☒ 1. Antibiotics
 - ☒ 2. Slimming tablets
 - ☒ 3. Cancer medicines
 - ☒ 4. Anti-malarial medicines

Comprehension:

Read the following passage and answer the questions given after it.

At a time when quality of Indian medicines is being questioned, a WHO agency has found that only 2% of the medical products in Southeast Asia, including India, were substandard or spurious against a global figure of 10.5%.

Effectively, it means medicines and medical products available in India are safer than what is available in American and European markets.

Nearly 10.5% of the samples collected by WHO's Global Surveillance and Monitoring System for substandard and falsified medical products (GSMS) between 2013-17 failed quality test, says the report released on Tuesday. It defines falsified medical products as those that misrepresent identity, composition or source.

In the past spotlight has largely been on lifestyle medicines such as slimming tablets, the WHO findings show that everything — from cancer medicines to contraception, antibiotics to vaccines — faces a quality problem across the world.

Substandard drugs and vaccines up the risk of several diseases becoming difficult to treat and the world left grappling with antimicrobial resistance, which is a growing concern.

“There is clear evidence that resistance to the most important anti-malarial medicine, artemisinin, first appeared in a part of the world where at one point between 38 and 90% of the artemisinin medicines on the market were substandard or falsified,” says the report.

Nearly 1,500 cases from across the world, including India, were reported to the surveillance team. The magnitude of the problem could be bigger as not all countries reported cases.

The growing global trade in medicines has also opened door to drugs, vaccines and other medical products that do not meet quality standards and are even toxic at times.

Online pharmacies that are fast gaining popularity — in the US alone 19 to 26 million people now buy medicines online — also pose a threat, as it makes it easier to push poor quality drugs into even the best regulated markets.

The pharma sector is doing its bit to ensure safety from fakes.

“Some of the security features we have introduced for our products include bar coding for track and trace, hologram and tamper-proof plastic trays with locking system for pre-filled syringe products,” said Dr Krishna Ella, CMD, Bharat Biotech.

Bar coding and hologram would also help check spurious drugs.

Launched in 2013 by the WHO, the Global Surveillance and Monitoring System aims to improve the quality of medical products and aid in member countries.


SubQuestion No : 20


Q.2
0 The pharma sector is taking a number of measures to check the spurious and fake drugs. Which of the following is NOT such a measure according to the passage?


Question ID : 16794312777

Ans  1.

Tamper (Tamper)-proof plastic trays for prefilled syringes

 2. Bar coding

 3. Holograms (Hologramas)

 4. Locking (Locking) system for capsules and tablets

Section : General Hindi

Q.1 'जातीय भेदभाव समाज को नष्ट करता है।' वाक्य में विशेषण पद कौन-सा है?

- Ans
- ☒ 1. समाज को
 - ☒ 2. जातीय
 - ☒ 3. नष्ट करता है।
 - ☒ 4. भेदभाव

Question ID : 16794312794

Q.2 कौन-से वर्ग में सभी नासिक्य व्यंजन हैं?

Question ID : 16794312781

- Ans
- ☒ 1. म त्र ण
 - ☒ 2. त ल व
 - ☒ 3. न ट द
 - ☒ 4. ल न ड.

Q.3 'जगज्जननी' शब्द में संधि है:

Question ID : 16794312785

- Ans
- ☒ 1. व्यंजन
 - ☒ 2. यण्
 - ☒ 3. विसर्ग
 - ☒ 4. अयादि

Q.4 अशुद्ध शब्द कौन-सा है?

Question ID : 16794312782

- Ans
- ☒ 1. जिहवा
 - ☒ 2. कवियत्री
 - ☒ 3. पूजनीय
 - ☒ 4. कृपा

Q.5 'वार्षिक' शब्द में प्रत्यय है:

Question ID : 16794312791

- Ans
- ☒ 1. ईक
 - ☒ 2. क
 - ☒ 3. इक
 - ☒ 4. अ

Q.6 'वृक्ष' का पर्यायवाची शब्द नहीं है:

Question ID : 16794312789

- Ans
- ☒ 1. विटप
 - ☒ 2. तरु
 - ☒ 3. कानन
 - ☒ 4. द्रुम

Q.7 'मैं आगरा गया था।' यह वाक्य कौन-से काल का है?

Question ID : 16794312783

Ans

- ☒ 1. सामान्य भूत
- ☒ 2. पूर्ण भूत
- ☒ 3. अपूर्ण भूत
- ☒ 4. आसन्न भूत

Q.8 निम्नलिखित में से 'तद्व' शब्द कौन-सा है?

Question ID : 16794312793

- Ans
- ☒ 1. चिंता
 - ☒ 2. आशा
 - ☒ 3. दया
 - ☒ 4. लाज

Q.9 'कार्य पूरा किया जाएगा' यह वाक्य है:

Question ID : 16794312795

- Ans
- ☒ 1. कर्मवाच्य
 - ☒ 2. कृत्वाच्य
 - ☒ 3. आश्रित
 - ☒ 4. भाववाच्य

Q.10 'हमें हमारा सामान वापिस दे दो।' वाक्य में अनुचित पद है:

Question ID : 16794312796

- Ans
- ☒ 1. हमें
 - ☒ 2. सामान
 - ☒ 3. हमारा
 - ☒ 4. वापिस दे दो।

Q.11 'प्रत्यागमन' शब्द में कौन-सा उपसर्ग लगा है?

Question ID : 16794312790

- Ans
- ☒ 1. प्र
 - ☒ 2. प्रा
 - ☒ 3. परि
 - ☒ 4. प्रति

Q.12 कौन-सा शब्द तत्सम है?

Question ID : 16794312792

- Ans
- ☒ 1. मुँह
 - ☒ 2. चाह
 - ☒ 3. इच्छा
 - ☒ 4. सामान

Q.13 कौन-से वर्ग में सभी अघोष वर्ण हैं?

Question ID : 16794312780

- Ans
- ☒ 1. य ठ ढ
 - ☒ 2. त छ फ
 - ☒ 3. द ब न
 - ☒ 4. र ग ज

Q.14 'जिसे भेदा न जा सके' इस वाक्यांश के लिए एक शब्द होगा:

Question ID : 16794312787

- Ans
- ☒ 1. अछेदय
 - ☒ 2. अभेदय
 - ☒ 3. अदृश्य
 - ☒ 4. अखंडय

Q.15 'अर्चीष न केवल पढ़ाई में बल्कि खेल में भी अच्छा है।' उक्त वाक्य में समुच्चयबोधक अव्यय कौन-सा है?

Question ID : 16794312799

- Ans
- ☒ 1. न केवल पढ़ाई में
 - ☒ 2. अर्चीष
 - ☒ 3. खेल में भी अच्छा है।
 - ☒ 4. बल्कि

Q.16 'इज्जत जाना' के अर्थ में प्रयुक्त होने वाला मुहावरा है:

Question ID : 16794312797

- Ans
- ☒ 1. नाक में दम करना
 - ☒ 2. नाकों चने चबाना
 - ☒ 3. नाक कटना
 - ☒ 4. नाक रगड़ना

Q.17 'सतसई' शब्द में समास है:

Question ID : 16794312786

- Ans
- ☒ 1. अव्ययीभाव
 - ☒ 2. द्वंद्व
 - ☒ 3. द्विगु
 - ☒ 4. तत्पुरुष

Q.18 'खग ही जाने खग की भाषा' लोकोक्ति का आशय है:

Question ID : 16794312798

- Ans
- ☒ 1. घर की चीज़ का आदर नहीं होता
 - ☒ 2. खग ही परस्पर झगड़ते हैं
 - ☒ 3. पक्षी ही आसमान में उड़ता है
 - ☒ 4.

जो जिसकी संगति में रहता है वही उसकी बात समझता है

Q.19

'न्यून' शब्द का विलोम क्या होगा?

Question ID : 16794312788

- Ans
- ☒ 1. अधिक
 - ☐ 2. अल्प
 - ☐ 3. अमित
 - ☐ 4. ज्यादा

Q.20 कौन-सा शब्द स्त्रीलिंग में प्रयुक्त होता है?

Question ID : 16794312784

- Ans
- ☐ 1. हृदय
 - ☒ 2. दीक्षा
 - ☐ 3. ऋण
 - ☐ 4. वन

Section : Subject Related

Q.1 किनकी छत्रछाया में रहकर बालिका मीरा के हृदय में गिरधर गोपाल के प्रति अनन्य आस्था उत्पन्न हुई?

Question ID : 16794312806

- Ans
- ☐ 1. कर्नल रॉड
 - ☒ 2. राव दूदा
 - ☐ 3. राव रत्नसिंह
 - ☐ 4. मालदेव

Q.2 किनका जन्म इटावा में 1673 ई. में हुआ था?

Question ID : 16794312810

- Ans
- ☐ 1. घनानन्द
 - ☒ 2. देव
 - ☐ 3. भूषण
 - ☐ 4. मतिराम

Q.3 इनमें से कौन-सी रचना घनानन्द की है?

Question ID : 16794312809

- Ans
- ☐ 1. काव्यमंजरी
 - ☒ 2. इश्कलता
 - ☐ 3. रसभूषण
 - ☐ 4. सरसरस

Q.4 श्रीचन्द और लक्ष्मीचन्द किनके दो पुत्र थे?

Question ID : 16794312802

- Ans
- ☐ 1. चन्दबरदाई
 - ☐ 2. गुरु हरिचन्द

✓ 3. गुरुनानक देव

✗ 4. संत लालदास

Q.5 कौन-सी कहानी निराला ने लिखी है?

Question ID : 16794312819

Ans ✓ 1. पद्मा

✗ 2. रोज

✗ 3. उन्न्मदिनी

✗ 4. गोधूलि

Q.6 रेवंतगिरिरास किसकी काव्यकृति है?

Question ID : 16794312800

Ans ✗ 1. विजयसेन सूरि

✓ 2. जिनधर्म सूरि

✗ 3. जिनविजय

✗ 4. सुमति गणि

Q.7 गदाधर भट्ट किस भाषा के सुप्रसिद्ध कवि थे?

Question ID : 16794312805

Ans ✗ 1. अवहट्ट

✗ 2. संस्कृत भाषा

✓ 3. ब्रजभाषा

✗ 4. प्राकृत

Q.8 कौन-सा अयोध्यासिंह उपाध्याय 'हरिऔध' का खड़ीबोली में लिखा गया प्रथम महाकाव्य है?

Question ID : 16794312814

Ans ✗ 1. स्वदेशी कुंडल

✓ 2. प्रियप्रवास

✗ 3. काव्य-मंजूषा

✗ 4. अनुराग रत्न

Q.9 'रामरक्षास्त्रोत' किनके द्वारा रचित है?

Question ID : 16794312803

Ans ✗ 1. श्री विष्णुस्वामी

✗ 2. गोस्वामी तुलसीदास

✓ 3. स्वामी रामानन्द

✗ 4. श्री वल्लभाचार्य

Q.10 आचार्य महावीर प्रसाद द्विवेदी कब 'सरस्वती' के संपादक बने?

Question ID : 16794312813

- Ans
- ☒ 1. सन् 1913
 - ☒ 2. सन् 1903
 - ☒ 3. सन् 1905
 - ☒ 4. सन् 1900

Q.11 वर्षा - बिन्दु किसकी काव्यकृति है?

Question ID : 16794312812

- Ans
- ☒ 1. बालमुकुन्द गुप्त
 - ☒ 2. बदरीनारायण चौधरी 'प्रेमघन'
 - ☒ 3. जगमोहन सिंह
 - ☒ 4. प्रतापनारायण मिश्र

Q.12 गोस्वामी हितहरिवंश के दो हिन्दी ग्रंथ हैं:

Question ID : 16794312804

- Ans
- ☒ 1. महावाणी, सिद्धांतरत्नांजलि
 - ☒ 2. हित चौरासी, स्फुटवाणी
 - ☒ 3. सेवक चरित्र, गीता चरित्र
 - ☒ 4. यमुनाष्टक, गीताष्टक

Q.13 'नासिकेत पुराणभाषा' अष्टछाप के किस कवि की रचना है?

Question ID : 16794312808

- Ans
- ☒ 1. ध्रुवदास
 - ☒ 2. नाभादास
 - ☒ 3. सूरदास
 - ☒ 4. स्वामी नन्ददास

Q.14 प्रगति - प्रयोग काल की समय - सीमा है:

Question ID : 16794312811

- Ans
- ☒ 1. 1918-1938 ई.
 - ☒ 2. 1938-1953 ई.
 - ☒ 3. 1900-1918 ई.
 - ☒ 4. 1938-1963 ई.

Q.15 न्यामत खाँ जान की उल्लेखनीय कृति है:

Question ID : 16794312807

- Ans
- ☒ 1. गदर
 - ☒ 2. प्रद्युम्न चरित्र
 - ☒ 3. क्याम खाँ

✗ 4. राणा खौरासा

Q.16 महादेवी का काव्य - रचना काल मुख्यतः कब से कब तक है?

Question ID : 16794312815

Ans

- ✓ 1. सन् 1924 से 1942
- ✗ 2. सन् 1918 से 1932
- ✗ 3. सन् 1925 से 1952
- ✗ 4. सन् 1936 से 1946

Q.17 चिश्ती संप्रदाय के दो उप-संप्रदाय के नाम हैं:

Question ID : 16794312801

Ans

- ✗ 1. वहबिया
- ✗ 2. रजकिया
- ✗ 3. हिशामी और हाजशाही
- ✓ 4. सबिरि, निजामी

Q.18 किस कृति में प्रसाद ने बंन और लंक पर आधारित समाज के चित्रण के साथ - साथ शैव दर्शन की अभिव्यक्ति भी की है?

Question ID : 16794312816

Ans

- ✗ 1. उर्वशी
- ✗ 2. आँसू
- ✓ 3. कामायनी
- ✗ 4. प्रेमपथिक

Q.19 हिन्दी नाटक को साहित्यिक भूमिका प्रदान करने का प्रयास सर्वप्रथम किसने किया था?

Question ID : 16794312817

Ans

- ✗ 1. लक्ष्मीनारायण मिश्र
- ✗ 2. गंगाप्रसाद अरोड़ा
- ✗ 3. जयशंकर प्रसाद
- ✓ 4. भारतेन्दु हरिश्चन्द्र

Q.20 निर्मला उपन्यास में मुख्यतः किस बात का चित्रण है?

Question ID : 16794312818

Ans

- ✗ 1. ग्रामीण स्थितियों का चित्रण
- ✓ 2. दहेज प्रथा और वृद्ध विवाह से होनेवाला परिवारिक विघटन
- ✗ 3. कृषक जीवन की समस्याओं का चित्रण
- ✗ 4. मनोरंजन, पराधीनता, अशिक्षा का चित्रण

Section : Subject Related

Q.1 1964 में प्रेमचंद की जीवनी 'कलम का सिपाही' के नाम से लिखी गई थी। किसने लिखी थी?

Ans

☒ 1. राहुल सांकृत्यायन

☒ 2. स्वामी दयानन्द सरस्वती

☒ 3. रामविलास शर्मा

☒ 4. अमृत राय

Question ID : 16794312828

Q.2

‘मुहु-मुहु कुहुकुहु कुहुकी कोयल’

इस पंक्ति में किस प्रकार के सौन्दर्य की छटा देखी जा सकती है?

Question ID : 16794312832

Ans

☒ 1. रूप सौन्दर्य

☒ 2. नाद-सौन्दर्य

☒ 3. चित्र सौन्दर्य

☒ 4. राष्ट्रीय सौन्दर्य

Q.3

‘मेरी यूरोप यात्रा’ यात्रावृत्त की रचना किसने की थी?

Question ID : 16794312821

Ans

☒ 1. राहुल सांकृत्यायन

☒ 2. शिवप्रसाद गुप्त

☒ 3. रामनारायण मिश्र

☒ 4. जवाहरलाल नेहरू

Q.4

छायावादयुग के सबसे प्रमुख निबंधकार हैं:

Question ID : 16794312820

Ans

☒ 1. गुलाबराय

☒ 2. रामचन्द्र शुक्ल

☒ 3. शांतिप्रिय द्रविदेदी

☒ 4. शिवपूजन सहाय

Q.5

निराला जी ने किस भाषा की शब्दावली का प्रचुर प्रयोग किया है?

Question ID : 16794312839

Ans

☒ 1. फारसी की शब्दावली

☒ 2. अंग्रेजी की शब्दावली

☒ 3. संस्कृत की तत्सम शब्दावली

☒ 4. अरबी की शब्दावली

Q.6

‘मौत के खिलाफ’ जिन्दगी की लड़ाई किस विधा की पुस्तक है?

Question ID : 16794312827

Ans

☒ 1. रिपोर्टाज

☒ 2. जीवनी

☒ 3. नाटक

✗ 4. रेखाचित्र

Q.7 न वह अच्छा है न बुरा
न वह कोमल है न सख्त
वह है सिर्फ शुद्ध वक्ता। किसने कहा?

Question ID : 16794312833

- Ans
- ✗ 1. हरिवंशराय बच्चन
 - ✗ 2. मुक्तिबोध
 - ✓ 3. भवानी प्रसाद मिश्र
 - ✗ 4. दिनकर

Q.8 कौन-सी पंक्ति हरिवंशराय 'बच्चन' जी की है?

Question ID : 16794312837

- Ans
- ✗ 1. वासना के पंक सी फैली हुई थी
 - ✗ 2. हिल उठते नभ के ओर छोर
 - ✓ 3. इस पार ये प्रिये मधु है, तुम हो
 - ✗ 4. न्योछावर स्वर्ग इसी भू पर

Q.9 केदारनाथ अग्रवाल की कौन-सी प्रगतिकालीन कविता है?

Question ID : 16794312823

- Ans
- ✗ 1. पांचाली
 - ✓ 2. वसन्ती हवा
 - ✗ 3. मिटटी की बरात
 - ✗ 4. पाषाणी

Q.10 डायरी के दो रूप क्या-क्या हैं?

Question ID : 16794312829

- Ans
- ✗ 1. व्याख्यात्मक तथा व्यंजनात्मक
 - ✗ 2. स्थानीयता, कल्पना प्रियता
 - ✗ 3. आत्मीय, मनोवैज्ञानिक
 - ✓ 4. व्यक्तिनिष्ठ तथा वस्तुनिष्ठ

Q.11 नागार्जुन की भाषा क्या है?

Question ID : 16794312835

- Ans
- ✗ 1. ब्रज
 - ✗ 2. अवधी
 - ✓ 3. खड़ीबोली
 - ✗ 4. संस्कृत

Q.12 'त्रिशंकु' निबन्ध किसने लिखा है?

Question ID : 16794312834

- Ans
- ☒ 1. निराला
 - ☒ 2. भारतेन्दु
 - ☒ 3. रघुवीर सहाय
 - ☒ 4. अज्ञेय

Q.13 सन् 1925 ई. में कौन-सी पत्रिका आरंभ हुई?

Question ID : 16794312822

- Ans
- ☒ 1. मर्यादा
 - ☒ 2. चाँद
 - ☒ 3. कल्याण
 - ☒ 4. माधुरी

Q.14 हिन्दी का एक पत्र साहित्य है:

Question ID : 16794312830

- Ans
- ☒ 1. शैली पत्र
 - ☒ 2. पत्र-पत्री
 - ☒ 3. चिट्ठी पत्री
 - ☒ 4. कलापत्र

Q.15 'जिंदगी मुस्कराई' किसका संस्मरण है?

Question ID : 16794312826

- Ans
- ☒ 1. कन्हैयालाल 'प्रभाकर'
 - ☒ 2. ब्रजबल्लभ शर्मा
 - ☒ 3. शांतिस्वरूप भटनागर
 - ☒ 4. महादेवी वर्मा

Q.16 कवि न होऊ नहीं चतुर कहाऊँ
मति अनुरूप राम गुन गाऊँ,
यह किसकी पंक्ति है?

Question ID : 16794312831

- Ans
- ☒ 1. जायसी
 - ☒ 2. तुलसीदास
 - ☒ 3. सूरदास
 - ☒ 4. रसखान

Q.17 प्रयोगवादी कवि भावुकता के स्थान पर किसको स्वीकार करते हैं?

Question ID : 16794312824

- Ans
- ☒ 1. कल्पना शक्ति को

- ✓ 2. ठोस बौद्धिकता को
- ✗ 3. सृष्टि की उन्मुक्तता को
- ✗ 4. परंपरागत मूल्यों को

Q.18 इनमें से कौन-सा रेखाचित्र रामवृक्ष वेनीपुरी का है?

Question ID : 16794312825

Ans

- ✗ 1. कुंज बिहारी
- ✗ 2. कुल्ली भाट
- ✗ 3. रेखाएँ बोल उठीं
- ✓ 4. माटी की मूरतें

Q.19 मात्रिक छन्दों में ही किसने समस्त काव्य की रचना की थी?

Question ID : 16794312838

Ans

- ✗ 1. अज्ञेय
- ✗ 2. आमिर खुसरो
- ✗ 3. केदारनाथ सिंह
- ✓ 4. सुमित्रानन्दन पंत

Q.20 “मेरा क्षुद्र व्यक्तित्व
रुद्ध है, सीमित है,
आटा, दाल, नमक, लकड़ी के जुगाड़ में।”
रचनाकार कौन है?

Question ID : 16794312836

Ans

- ✗ 1. मैथिलीशरण गुप्त
- ✗ 2. पंत
- ✓ 3. नागार्जुन
- ✗ 4. प्रसाद

Section : Subject Related

Q.1 मैथिलीशरण गुप्त की पहली काव्यकृति जो संवत् 1967 में प्रकाशित हुई थी, कौन-सी है?

Question ID : 16794312847

Ans

- ✓ 1. रंग में भंग
- ✗ 2. प्रतिध्वनि
- ✗ 3. श्रृंगार लहरी
- ✗ 4. कुंकुम

Q.2

भरतमुनि के कथनानुसार किस रस स्थायी को अभिनय में दिखाना संभव नहीं?

Question ID : 16794312851

Ans

- ☒ 1. शृंगार रस
- ☒ 2. वीभत्स रस
- ☒ 3. शांत रस
- ☒ 4. हास्य रस

Q.3 कबीर के दूसरे गुरु कौन थे?

Question ID : 16794312848

Ans

- ☒ 1. रामानुजाचार्य
- ☒ 2. शेख तकी
- ☒ 3. आत्माराम
- ☒ 4. रामानन्द स्वामी

Q.4 जायसी की भाषा और शैली क्या है?

Question ID : 16794312843

Ans

- ☒ 1. संस्कृत
- ☒ 2. लोकभाषा, चित्रात्मक
- ☒ 3. ठेठ अवधी, दोहा चौपाई
- ☒ 4. ब्रज, कुंडल

Q.5 'रासो' नाम किस शब्द से बना है?

Question ID : 16794312853

Ans

- ☒ 1. राजस
- ☒ 2. रसायण
- ☒ 3. रसोदन
- ☒ 4. रास

Q.6 'सुजान रसखान' में किस विषय पर कवित्त सवैया है?

Question ID : 16794312840

Ans

- ☒ 1. राम विषयक
- ☒ 2. प्रकृति विषयक
- ☒ 3. कृष्ण विषयक
- ☒ 4. नारी विषयक

Q.7 जैनेन्द्र कुमार का उपन्यास है:

Question ID : 16794312850

Ans

- ☒ 1. अप्सरा
- ☒ 2. विवर्त
- ☒ 3. टूटे कांटे

✗ 4. लगन

Q.8 डॉ. हज़ारी प्रसाद द्विवेदी की विद्वता से प्रभावित होकर किसने उन्हें डी. लिट की उपाधि दी?

Question ID : 16794312844

Ans

- ✗ 1. कोलकाता विश्वविद्यालय
- ✗ 2. आगरा विश्वविद्यालय
- ✗ 3. दिल्ली विश्वविद्यालय
- ✓ 4. लखनऊ विश्वविद्यालय

Q.9 जब बल्भ्भाचार्य से सूर की भेंट हुई तब उन्होंने किस प्रकार के पद सुनाए?

Question ID : 16794312842

Ans

- ✗ 1. श्रृंगार संबंधी
- ✗ 2. हठयोग संबंधी
- ✓ 3. विनय संबंधी
- ✗ 4. भक्ति संबंधी

Q.10 इनमें से कौन-सी कृति मैथिलीशरण गुप्त की नहीं है?

Question ID : 16794312849

Ans

- ✓ 1. प्रेमपथिक
- ✗ 2. चन्द्रहास
- ✗ 3. त्रिपथगा
- ✗ 4. सिद्धराज

Q.11 कौन-सी रचना डॉ. रामविलास शर्मा की है?

Question ID : 16794312845

Ans

- ✗ 1. बीसवीं शताब्दी
- ✗ 2. अंतिम आकांक्षा
- ✗ 3. मौर्य विजय
- ✓ 4. प्रगति और परंपरा

Q.12 बिहारी के दोहे पढ़ते ही महाराज की आँखें खुल गईं, महाराज कौन थे?

Question ID : 16794312841

Ans

- ✗ 1. राजप्रताप सिंह
- ✓ 2. जयसिंह
- ✗ 3. उदय सिंह
- ✗ 4. गोपाल बहादुर सिंह

Q.13 'पद्मावत' में किन तत्वों का प्रतिपादन किया गया है?

Question ID : 16794312857

Ans

- ✗ 1. उदार, राष्ट्रीयता, वीरोचित तत्व
- ✗ 2. भक्ति, ऋतु, उद्दीपन तत्व

☒ 3. प्रकृति, साख्य तत्वों

☒ 4. बुद्धि, रागात्मक, कल्पना तत्व

Q.14 किसने केशव को इक्कीस ग्राम दान में दिए थे?

Question ID : 16794312858

Ans

☒ 1. बोधा सिंह

☒ 2. इंद्रजीत सिंह

☒ 3. वीर रस

☒ 4. रामशंकर सिंह

Q.15 मिथक के माध्यम से युग सत्य को सजीव, साकार रूप में प्रस्तुत करनेवाले कवि हैं:

Question ID : 16794312846

Ans

☒ 1. विष्णु खरे

☒ 2. विद्यापति

☒ 3. धर्मवीर भारती

☒ 4. पंत

Q.16 प्राकृत पैंगलम के संकलनकर्ता हैं:

Question ID : 16794312859

Ans

☒ 1. धनपाल

☒ 2. लक्ष्मीधर

☒ 3. मेरुतुंग

☒ 4. हेमचन्द्र

Q.17 दूसरे महायुद्ध के बाद अजेय ने अपना एक मासिक पत्र चलाया। उसका नाम क्या था?

Question ID : 16794312852

Ans

☒ 1. विद्रोह

☒ 2. युगांतर

☒ 3. बोध

☒ 4. प्रतीक

Q.18 छायावादी कवि विश्व के संपूर्ण तत्वों में क्या देखते हैं?

Question ID : 16794312855

Ans

☒ 1. राजनैतिक छाया

☒ 2. समाजवादी छाया

☒ 3. प्राणों की छाया

☒ 4. जनमंगल की भावना

Q.19 पृथ्वीराज रासो में प्रधान रस क्या है?

Question ID : 16794312856

Ans

- ☒ 1. हास्य रस
- ☒ 2. शांत रस
- ☒ 3. वीररस
- ☒ 4. शृंगार रस

Q.20 नाभादास जी किस शाखा के प्रसिद्ध कवि हैं?

Question ID : 16794312854

- Ans
- ☒ 1. कृष्णभक्ति शाखा
 - ☒ 2. ज्ञानमार्गी शाखा
 - ☒ 3. रामभक्ति शाखा
 - ☒ 4. प्रेममार्गी शाखा

Section : Subject Related

Q.1 भोजन नली का अन्य नाम है:

Question ID : 16794312870

- Ans
- ☒ 1. श्वासनली
 - ☒ 2. भोजनाली
 - ☒ 3. ग्रासक
 - ☒ 4. ग्रसिका

Q.2 'राजराज' का पर्यायवाची शब्द है?

Question ID : 16794312873

- Ans
- ☒ 1. मनोरथ
 - ☒ 2. धनद
 - ☒ 3. राजसज
 - ☒ 4. रसाल

Q.3 द्विजदेव की एक सरस रचना है:

Question ID : 16794312865

- Ans
- ☒ 1. प्रेम पत्रिका
 - ☒ 2. शृंगारिका
 - ☒ 3. विरह-वारीश
 - ☒ 4. शृंगार लतिका

Q.4 'दुनिया' संज्ञा का विशेषण रूप है:

Question ID : 16794312867

- Ans
- ☒ 1. दुन
 - ☒ 2. दुनियों

✓ 3. दुनियावी

✗ 4. दुनिया

Q.5 'चांडाल चौकड़ी' का अर्थ है:

Question ID : 16794312871

Ans

✗ 1. विद्वानों का समूह

✗ 2. मूर्खों का समूह

✗ 3. धनिकों का समूह

✓ 4. दुष्टों का समूह

Q.6 प्रतिहार का अर्थ है:

Question ID : 16794312868

Ans

✗ 1. प्रत्याहार

✗ 2. निवारण

✗ 3. पहरेदार

✓ 4. द्वारपाल

Q.7 व्यर्थ का संधि-विच्छेद होगा:

Question ID : 16794312872

Ans

✗ 1. व्य + थ + र

✗ 2. व्य + अर्थ

✓ 3. वि + अर्थ

✗ 4. वी + अर्थ

Q.8 12वीं तथा 13वीं के मध्य अब्दुल रहमान की सुप्रसिद्ध रचना है:

Question ID : 16794312864

Ans

✓ 1. द्रविड़ों से

✗ 2. आर्यों से

✗ 3. अंग्रेजों से

✗ 4. शास्त्रों से

Q.9 शुक्ल जी ने आदिकाल की बारह रचनाओं का अपने इतिहास में उल्लेख किया, इनमें साहित्यिक पुस्तकें चार हैं। इनकी भाषा क्या है?

Question ID : 16794312860

Ans

✗ 1. ब्रज

✗ 2. अवधी

✓ 3. अपभ्रंश

✗ 4. संस्कृत

Q.10 'हम' सर्वनाम के बाद 'ही' जोड़ने से होगा:

Question ID : 16794312869

Ans

- ☒ 1. हमें
- ☒ 2. हमही
- ☒ 3. हमीं
- ☒ 4. हम ही

Q.11 नमित-निमित्त श्रुतिसमभिन्नार्थक शब्द का अर्थ है:

Question ID : 16794312875

Ans

- ☒ 1. झुका हुआ-हेतु
- ☒ 2. हेतु-झुकना
- ☒ 3. नमन-उत्सव
- ☒ 4. निमित्तमात्र-नमनमः

Q.12 पश्च स्वर है:

Question ID : 16794312866

Ans

- ☒ 1. ऐ
- ☒ 2. अ
- ☒ 3. ई
- ☒ 4. ओ

Q.13 खड़ी बोली को सम्मिलित किया जाता है:

Question ID : 16794312876

Ans

- ☒ 1. पूर्वी हिंदी में
- ☒ 2. पश्चिमी हिंदी में
- ☒ 3. बिहारी हिंदी में
- ☒ 4. राजस्थानी हिंदी में

Q.14 तुव प्रताप सम सूर्य है, जस-सम सोचत चंद। इसमें अलंकार है:

Question ID : 16794312874

Ans

- ☒ 1. उपमा
- ☒ 2. रूपक
- ☒ 3. अपहृत
- ☒ 4. प्रतीप

Q.15 12वीं तथा 13वीं के मध्य अब्दुल रहमान की सुप्रसिद्ध रचना है:

Question ID : 16794312862

Ans

- ☒ 1. संदेशरासक
- ☒ 2. पउमचरित
- ☒ 3. सूचनारसक
- ☒ 4. परमात्मा प्रकाश

Q.16

Ans

- ☒ 1. सिद्ध-सामंत युग
- ☐ 2. वीरगाथा युग
- ☐ 3. भक्ति-सामंत युग
- ☐ 4. उत्तरमध्य युग

Q.17 पृथ्वीराज रासो कितने पृष्ठों का ग्रन्थ है?

Question ID : 16794312863

Ans

- ☐ 1. दो हजार
- ☐ 2. दो हजार दो सौ
- ☒ 3. ढाई हजार
- ☐ 4. एक हजार एक सौ

Comprehension:

नीचे लिखे पद्यांश को पढ़िये और पूछे गए प्रश्नों के उत्तर दीजिये।

घूम रहा है कैसा चक्र।
वह नवनीत कहाँ जाता है, रह जाता है तक्र
पिसे पड़े हो इसमें जब तक,
क्या अंतर आया है अब तक?
सहें अंतोगत्वा कब तक-हम इसकी गति वक्र?
घूम रहा है कैसा चक्र !

SubQuestion No : 18

Q.18 तक्र का अर्थ है:

Question ID : 16794312879

Ans

- ☐ 1. मट्टा
- ☐ 2. घी
- ☒ 3. दही
- ☐ 4. दूध

Comprehension:

नीचे लिखे पद्यांश को पढ़िये और पूछे गए प्रश्नों के उत्तर दीजिये।

घूम रहा है कैसा चक्र।
वह नवनीत कहाँ जाता है, रह जाता है तक्र
पिसे पड़े हो इसमें जब तक,
क्या अंतर आया है अब तक?
सहें अंततोगत्वा कब तक-हम इसकी गति वक्र?
घूम रहा है कैसा चक्र !

SubQuestion No : 19

Q.1
9 शुद्ध वर्तनी वाला शब्द है:

Question ID : 16794312878

- Ans
- ☒ 1. स्यामल
 - ☒ 2. शास्त्रिय
 - ☒ 3. शसि
 - ☒ 4. स्वर्णिम

Comprehension:

नीचे लिखे पद्यांश को पढ़िये और पूछे गए प्रश्नों के उत्तर दीजिये।

घूम रहा है कैसा चक्र।
वह नवनीत कहाँ जाता है, रह जाता है तक्र
पिसे पड़े हो इसमें जब तक,
क्या अंतर आया है अब तक?
सहें अंततोगत्वा कब तक-हम इसकी गति वक्र?
घूम रहा है कैसा चक्र !

SubQuestion No : 20

Q.2
0 पद्यांश में वक्र का आशय है:

Question ID : 16794312880

- Ans
- ☒ 1. असफल
 - ☒ 2. गोलाकार
 - ☒ 3. सरल
 - ☒ 4. कुटिल

Section : Subject Related

Comprehension:

नीचे लिखे गद्यांश को पढ़िये और पूछे गए प्रश्नों के उत्तर दीजिये।

मनोहरा देवी के कंठ से तुलसीदास का छंद 'कंदर्प' अगणित अमित छवि नवनीलनीरज 'सुन्दरम' सुनकर सुर्जकुमार के न जाने कौन से सोते संस्कार जाग उठे। साहित्य इतना सुन्दर है, संगीत इतना आकर्षक है, उनकी आँखों ने जैसे नया संसार देखा, कानों ने ऐसा संगीत सुना जो मानो इस पृथ्वी पर दूर किसी लोक से आता है। अपनी इस विलक्षण अनुभूति पर वह स्वयं चकित रह गए। अपने सौंदर्य पर जो अभिमान था। वह चूर चूर हो गया।

SubQuestion No : 1

Q.1 सुर्जकुमार ने छंद किसके कंठ से सुना?

Question ID : 16794312884

- Ans
- ☒ 1. तुलसीदास
 - ☒ 2. सूरदास
 - ☒ 3. सुर्जकुमार
 - ☒ 4. मनोहरा देवी

Comprehension:

नीचे लिखे गद्यांश को पढ़िये और पूछे गए प्रश्नों के उत्तर दीजिये।

मनोहरा देवी के कंठ से तुलसीदास का छंद 'कंदर्प' अगणित अमित छवि नवनीलनीरज 'सुन्दरम' सुनकर सुर्जकुमार के न जाने कौन से सोते संस्कार जाग उठे। साहित्य इतना सुन्दर है, संगीत इतना आकर्षक है, उनकी आँखों ने जैसे नया संसार देखा, कानों ने ऐसा संगीत सुना जो मानो इस पृथ्वी पर दूर किसी लोक से आता है। अपनी इस विलक्षण अनुभूति पर वह स्वयं चकित रह गए। अपने सौंदर्य पर जो अभिमान था। वह चूर चूर हो गया।

SubQuestion No : 2

Q.2 सुर्जकुमार की आँखों ने देखा क्या?

Question ID : 16794312885

- Ans
- ☒ 1. पुराण संसार

- ✓ 2. नया संसार
- ✗ 3. आकर्षक संगीत
- ✗ 4. साहित्य

Comprehension:

नीचे लिखे गद्यांश को पढ़िये और पूछे गए प्रश्नों के उत्तर दीजिये।

मनोहरा देवी के कंठ से तुलसीदास का छंद 'कंदर्प' अगणित अमित छवि नवनीलनीरज 'सुन्दरम' सुनकर सुर्जकुमार के न जाने कौन से सोते संस्कार जाग उठे। साहित्य इतना सुन्दर है, संगीत इतना आकर्षक है, उनकी आँखों ने जैसे नया संसार देखा, कानों ने ऐसा संगीत सुना जो मानो इस पृथ्वी पर दूर किसी लोक से आता है। अपनी इस विलक्षण अनुभूति पर वह स्वयं चकित रह गए। अपने सौंदर्य पर जो अभिमान था। वह चूर चूर हो गया।

SubQuestion No : 3

Q.3 सुर्जकुमार का संस्कार जाग उठने का कारण है:

Question ID : 16794312883

- Ans
- ✗ 1. मनोहरदेवी का छंद
 - ✗ 2. तुलसीदास की कृति
 - ✗ 3. तुलसीदास का संगीत
 - ✓ 4. तुलसीदास का छंद

Comprehension:

नीचे लिखे गद्यांश को पढ़िये और पूछे गए प्रश्नों के उत्तर दीजिये।

मनोहरा देवी के कंठ से तुलसीदास का छंद 'कंदर्प' अगणित अमित छवि नवनीलनीरज 'सुन्दरम' सुनकर सुर्जकुमार के न जाने कौन से सोते संस्कार जाग उठे। साहित्य इतना सुन्दर है, संगीत इतना आकर्षक है, उनकी आँखों ने जैसे नया संसार देखा, कानों ने ऐसा संगीत सुना जो मानो इस पृथ्वी पर दूर किसी लोक से आता है। अपनी इस विलक्षण अनुभूति पर वह स्वयं चकित रह गए। अपने सौंदर्य पर जो अभिमान था। वह चूर चूर हो गया।

SubQuestion No : 4

Q.4 सुर्जकुमार को किस पर अभिमान था?

Question ID : 16794312886

Ans

- ☒ 1. अपने सौंदर्य पर
- ☐ 2. अपने आदर्शों पर
- ☐ 3. अपने संस्कार पर
- ☐ 4. अपने गुणों पर

Comprehension:

नीचे लिखे गद्यांश को पढ़िये और पूछे गए प्रश्नों के उत्तर दीजिये।

मनोहरा देवी के कंठ से तुलसीदास का छंद 'कंदर्प' अगणित अमित छवि नवनीलनीरज 'सुन्दरम' सुनकर सुर्जकुमार के न जाने कौन से सोते संस्कार जाग उठे। साहित्य इतना सुन्दर है, संगीत इतना आकर्षक है, उनकी आँखों ने जैसे नया संसार देखा, कानों ने ऐसा संगीत सुना जो मानो इस पृथ्वी पर दूर किसी लोक से आता है। अपनी इस विलक्षण अनुभूति पर वह स्वयं चकित रह गए। अपने सौंदर्य पर जो अभिमान था। वह चूर चूर हो गया।

SubQuestion No : 5

Q.5 अंततोगत्वा का अर्थ है:

Question ID : 16794312882

Ans

- ☐ 1. अंतिम अवसर
- ☐ 2. अंतिम यात्रा

✓ 3. अंततः

✗ 4. अंतन

Comprehension:

नीचे लिखे पद्यांश को पढ़िये और पूछे गए प्रश्नों के उत्तर दीजिये।

देख रहा हूँ लम्बी खिड़की पर रखे पौधे
धूप की ओर बाहर झुके जा रहे हैं
हर साल की तरह गौरैया
अबकी भी कार्निंस पर ला-लाके
धरने लगी है तिनके
हालांकि यह वह गौरैया नहीं
यह वह मकान भी नहीं
ये वे गमले भी नहीं
यह वह खिड़की भी नहीं
कितनी सही है मेरी पहचान इस धूप की।

SubQuestion No : 6

Q.6 कवि इसमें क्या कहना चाहता है?

Question ID : 16794312891

Ans ✗ 1. कड़ी धूप के प्रकाश का अनुमान करता है।

✓ 2. धूप के प्रभाव को संवेदना के स्तर पर व्यंजित करना चाहता है।

✗ 3.

धूप की पहचान करने के लिए परामर्श देता है।

✗ 4.

पौधे, कार्निंस, गौरैया के बारे में बताना चाहता है।

Comprehension:

नीचे लिखे पद्यांश को पढ़िये और पूछे गए प्रश्नों के उत्तर दीजिये।

देख रहा हूँ लम्बी खिड़की पर रखे पौधे
धूप की ओर बाहर झुके जा रहे हैं
हर साल की तरह गौरैया
अबकी भी कार्निंस पर ला-लाके
धरने लगी है तिनके
हालांकि यह वह गौरैया नहीं
यह वह मकान भी नहीं
ये वे गमले भी नहीं
यह वह खिड़की भी नहीं
कितनी सही है मेरी पहचान इस धूप की।

SubQuestion No : 7

Q.7 कार्निंस का अर्थ है :

Question ID : 16794312889

- Ans
- ☒ 1. आँगन
 - ☒ 2. छज्जा
 - ☒ 3. दीवार
 - ☒ 4. छत

Comprehension:

नीचे लिखे पद्यांश को पढ़िये और पूछे गए प्रश्नों के उत्तर दीजिये।


देख रहा हूँ लम्बी खिड़की पर रखे पौधे
धूप की ओर बाहर झुके जा रहे हैं
हर साल की तरह गौरैया
अबकी भी कार्निंस पर ला-लाके
धरने लगी है तिनके
हालांकि यह वह गौरैया नहीं
यह वह मकान भी नहीं
ये वे गमले भी नहीं
यह वह खिड़की भी नहीं
कितनी सही है मेरी पहचान इस धूप की।


SubQuestion No : 8


Q.8 कवि किस के सौंदर्य का अनुभव करता है?

Question ID : 16794312890

Ans  1. धूप

 2. गमले

 3. ऋतु

 4. गौरैया

Comprehension:

नीचे लिखे पद्यांश को पढ़िये और पूछे गए प्रश्नों के उत्तर दीजिये।

देख रहा हूँ लम्बी खिड़की पर रखे पौधे
धूप की ओर बाहर झुके जा रहे हैं
हर साल की तरह गौरैया
अबकी भी कार्निंस पर ला-लाके
धरने लगी है तिनके
हालांकि यह वह गौरैया नहीं
यह वह मकान भी नहीं
ये वे गमले भी नहीं
यह वह खिड़की भी नहीं
कितनी सही है मेरी पहचान इस धूप की।

SubQuestion No : 9

Q.9 सुन्दर और आकर्षक क्या है?

Question ID : 16794312888

Ans  1. अहंकार और अभिमान

 2. साहित्य और संगीत

 3. संस्कार और परंपरा

 4. संगीत और छंद

Comprehension:

नीचे लिखे पद्यांश को पढ़िये और पूछे गए प्रश्नों के उत्तर दीजिये।

देख रहा हूँ लम्बी खिड़की पर रखे पौधे
धूप की ओर बाहर झुके जा रहे हैं
हर साल की तरह गौरैया
अबकी भी कार्निंस पर ला-लाके
धरने लगी है तिनके
हालांकि यह वह गौरैया नहीं
यह वह मकान भी नहीं
ये वे गमले भी नहीं
यह वह खिड़की भी नहीं
कितनी सही है मेरी पहचान इस धूप की।

SubQuestion No : 10

Q.10 पद्यांश उचित शीर्षक है :

Question ID : 16794312892

- Ans
- ☒ 1. तिनके और पौधे
 - ☒ 2. धूप
 - ☒ 3. गौरैया
 - ☒ 4. पहचान

Q.11 हाल के वर्षों में एस.टी.ई.एम. को विश्वविद्यालयों और विल्ट पोषण एजेंसियों से बहुत महत्व मिला है। इसका क्या अर्थ है?

Question ID : 16794312896

- Ans
- ☒ 1. शिक्षण, मूल्यांकन और परामर्श देने का कौशल
 - ☒ 2. विज्ञान, शिक्षण, मूल्यांकन और परामर्श
 - ☒ 3. विज्ञान, प्रौद्योगिकी, अभियांत्रिकी और गणित
 - ☒ 4. खेल, प्रौद्योगिकी, पर्यावरण और संगीत

Q.12 निम्नलिखित में से किस विषय के शिक्षक को छात्रों को सूत्रों और समीकरणों को पढ़ने और समझने में सहायता करना और प्रशिक्षण देना आवश्यक है?

Question ID : 16794312899

- Ans
- ☒ 1. अंग्रेज़ी
 - ☒ 2. जीवविज्ञान
 - ☒ 3. भूगोल
 - ☒ 4. अंक शास्त्र

Q.13 छवियों और प्रतीकों के माध्यम से सीखना तकनीकी रूप से _____ के अधीन वर्गीकृत है।

Question ID : 16794312895

Ans

- ☒ 1. संवेदी रूप से सीखने
- ☐ 2. रट कर सीखने
- ☐ 3. पक्षपात द्वारा सीखने
- ☐ 4. संज्ञानात्मक रूप से सीखने

Q.14 निम्नलिखित में से कौन सा विकल्प गैर-औपचारिक शिक्षा प्रणाली के कार्य-क्षेत्र में नहीं आता है?

Question ID : 16794312894

Ans

- ☐ 1. दूरस्थ - शिक्षण
- ☒ 2. समावेशी विद्यालय
- ☐ 3. मुक्ताकाशी विद्यालयीय शिक्षा
- ☐ 4. पत्राचार द्वारा शिक्षण

Q.15 शैक्षणिक सामग्री ज्ञान की परिभाषा क्या है?

Question ID : 16794312898

Ans

- ☐ 1. छात्रों को पढ़ाने के लिए विषय ज्ञान का उपयोग करना।
- ☐ 2. सभी छात्रों की आवश्यकताओं को पूर्ण करने के लिए विभिन्न संसाधनों का संयोजन।
- ☐ 3. विषय ज्ञान और सूचना एवं संचार प्रौद्योगिकी (आई.सी.टी.) को एकीकृत करना।
- ☒ 4. विभिन्न शिक्षार्थियों की आवश्यकताओं के अनुरूप सामग्री और अध्यापन का मिश्रण।

Q.16 जब कलाकार अपने शरीर, चेहरे और उपस्थिति का माध्यम के रूप में उपयोग करता है, तो यह कौन सा कला रूप कहलाता है?

Question ID : 16794312900

Ans

- ☐ 1. दृश्य कला
- ☐ 2. मूर्तिकला
- ☒ 3. प्रदर्शन कला
- ☐ 4. समकालीन कला

Q.17 सही विकल्प चुनें।

Question ID : 16794312893

मनोविज्ञान प्रयोगशाला में दृश्य उद्दीपन दर्शी (टैकिस्टोस्कोप) का प्रयोग _____ मापने के लिए किया जाता है।

Ans

- ☐ 1. व्यवहार प्रतिरूपों को
- ☒ 2. ध्यान अवधि
- ☐ 3. बुद्धि लब्धि (आई.क्यू.) स्तर को
- ☐ 4. स्मृति

Q.18 हिंदू उत्तराधिकार (संशोधन) अधिनियम किस वर्ष में पारित किया गया?

Question ID : 16794312897

Ans

- ☐ 1. 2003 में
- ☒ 2. 2005 में


 3. 2006 में


 4. 2002 में

Q.19 समावेशी वातावरण स्थापित करने के लिए प्राथमिक कदम _____ है।

Question ID : 16794312902

Ans

 1. प्रवेश सीमित करना

 2. विविधता को अंगीकार करना

 3.


चयन के लिए प्रवेश स्तर आकलन का संचालन करना

 4. एक विशाल भवन का निर्माण करना

Q.20 सम्बंध और लैंगिकता तथा गृह अर्थशास्त्र किस प्रकार के पाठ्यक्रम के उदाहरण हो सकते हैं?


Question ID : 16794312901


Ans

 1. गुप्त पाठ्यक्रम (Hidden curriculum)

 2.

अंतर्निहित पाठ्यक्रम (Implicit curriculum)

 3. सुस्पष्ट पाठ्यक्रम (Explicit curriculum)

 4. शून्य पाठ्यक्रम (Null curriculum)

DSSSB SEP 2018

Participant ID:	HaryanaJobs.in
Participant Name:	
Test Center Name:	NUN KUN Assessment Center
Test Date:	15/09/2018
Test Time:	4:30 PM - 6:30 PM
Subject:	TGT HINDI FEMALE

Section : Mental Ability

Q.1 एक वेटर के वेतन में वेतन और टिप दोनों सम्मिलित हैं। एक सप्ताह में उसकी टिप उसके वेतन की $\frac{4}{3}$ भाग थी। उसकी टिप उसके वेतन का कौन सा अंश होगी?

Question ID : 16794312917

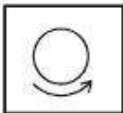
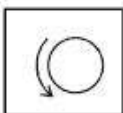
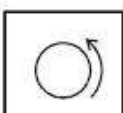
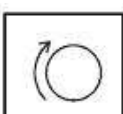
Ans

- ✓ 1. $\frac{4}{7}$
- ✗ 2. $\frac{4}{10}$
- ✗ 3. $\frac{5}{7}$
- ✗ 4. $\frac{4}{8}$

Q.2 विकल्पों में से विषम आकृति का चयन करें।

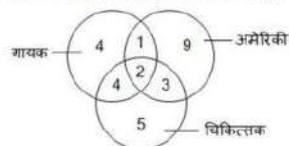
Question ID : 16794312905

Ans

- ✗ 1. 
- ✗ 2. 
- ✗ 3. 
- ✓ 4. 

Q.3 निम्नलिखित आकृति का अध्ययन करें और दिये गए प्रश्न का उत्तर दें।

Question ID : 16794312914



कौन सा क्षेत्र उन अमेरिकी गायकों/गायिकाओं को इंगित करता है जो चिकित्सक/चिकित्सिका नहीं हैं?

Ans

- ✓ 1. 1
- ✗ 2. 14
- ✗ 3. 4
- ✗ 4. 9

Q.4

Question ID : 16794312913

बंदर के पास सदैव होता है:

- Ans
- ☒ 1. पंख
 - ☒ 2. हृदय
 - ☒ 3. सिंग
 - ☒ 4. अंडे

Q.5 संख्याओं का विषम युग्म ज्ञात करें।

Question ID : 16794312920

- Ans
- ☒ 1. 625 :: 325
 - ☒ 2. 100 :: 140
 - ☒ 3. 256 :: 136
 - ☒ 4. 36 :: 21

Q.6 बिंदुयुक्त रेखा पर पारदर्शी पत्र को मोड़ कर रखने पर आकृति कैसी प्रतीत होगी?

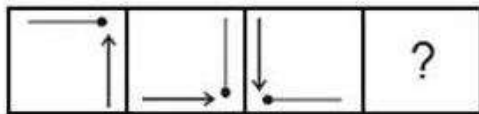
Question ID : 16794312912



- Ans
- ☒ 1.
 - ☒ 2.
 - ☒ 3.
 - ☒ 4.

Q.7 श्रृंखला में आगामी आकृति क्या होगी?

Question ID : 16794312907



- Ans
- ☒ 1.
 - ☒ 2.
 - ☒ 3.
 - ☒ 4.

Q.8 राकेश की आयु 50 वर्ष है तथा राजेश की आयु 70 वर्ष है। कितने वर्ष पूर्व उनकी आयु का अनुपात 1 : 2 था?

Question ID : 16794312918

- Ans
- ✓ 1. 30 वर्ष
 - ✗ 2. 15 वर्ष
 - ✗ 3. 10 वर्ष
 - ✗ 4. 37 वर्ष

Q.9 निम्नलिखित विकल्पों में से किस विकल्प में यह आकृति अंतःस्थापित है?


Question ID : 16794312909



- Ans
- ✗ 1.
 - ✗ 2.
 - ✓ 3.
 - ✗ 4.

Q.10 उस विकल्प का चयन करें जो प्रश्न चिह्न के स्थान को यथार्थतः पूर्ण कर दे।

Question ID : 16794312906



- Ans
- ✗ 1.
 - ✗ 2.
 - ✗ 3.
 - ✓ 4.

Q.11 निम्नलिखित पाई लेखाचित्र (चार्ट) में "XYZ" प्रकाशन कंपनी द्वारा प्रकाशित पुस्तकों की जानकारी दी गई है। वर्ष 2016-17 में कंपनी द्वारा रंगीन, काले और सफेद प्रकाशनों सहित प्रकाशित पुस्तकों की कुल संख्या 12,462 है।

Question ID : 16794312908



XYZ द्वारा वर्ष 2016-17 में इतिहास की कितनी पुस्तकें प्रकाशित की गई हैं?

- Ans
- ✓ 1. 1869

✗ 2. 1246

✗ 3. 2243

✗ 4. 3987

Q.12 निम्नलिखित श्रृंखला में आगामी पद क्या होगा?

Question ID : 16794312922

HU, JS, MP, ?

Ans ✗ 1. TK

✓ 2. QL

✗ 3. FY

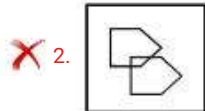
✗ 4. AV

Q.13 उस विकल्प आकृति का चयन करें जो तीसरे आकृति से उसी तरह संबंधित है जिस तरह दूसरी आकृति पहले आकृति से संबंधित है।

Question ID : 16794312904



Ans



Q.14 यदि + का मतलब \times है, - का मतलब + है, \times का मतलब - है और \div का मतलब \div है, तो $18 + 32 - 4 \times 6 + 5$ का मान ज्ञात करें।

Question ID : 16794312916

Ans ✗ 1. 147

✓ 2. 143

✗ 3. 150

✗ 4. 149

Q.15 विविधा, वरण की बहन हैं। वरण के पिता की एकमात्र बहन के पुत्र का विविधा के साथ क्या संबंध है?

Question ID : 16794312915

Ans ✗ 1. पिता

✗ 2. चाचा/मामा/फूफा/ताऊ/मौसा/काका

✗ 3. भाई

✓ 4. चचेरा/फुफेरा/ममेरा भाई

Q.16 शब्दों का विषम युग्म ज्ञात करें।

Question ID : 16794312919

Ans ✗ 1. इटली : रोम

✓ 2. नॉर्वे : काइरो

✗ 3. केन्या : नैरोबी

✗ 4. स्पेन : माद्रिद

Q.17 लेखांकन सेवाएँ और विक्री पदान करने वाली बहु-राष्ट्रीय कंपनी के लिए प्रबंधन-स्तर के व्यक्तियों की नियुक्ति के लिए लिखित परीक्षा के पश्चात् साक्षात्कार हेतु बुलाने के लिए उपयुक्त अभ्यर्थियों की सूची में से चयन करने से संबंधित शर्तें नीचे उल्लिखित हैं।

Question ID : 16794312911

अभ्यर्थी-

- के पास मूलभूत विज्ञान में 65% या उस से अधिक अंकों सहित स्नातक की उपाधि या 55% या उस से अधिक अंकों सहित बी.ई. की उपाधि अवश्य होनी चाहिए।
- ने 70% या उस से अधिक अंकों सहित लिखित परीक्षा अवश्य उत्तीर्ण की हो।
- की आयु 1/4/18 को 25 से 30 वर्षों के बीच अवश्य हो।
- को लेखांकन संस्था में 3 वर्षों का अनुभव और उसके पास 60% या उस से अधिक अंकों सहित लेखांकन में डिप्लोमा अवश्य होना चाहिए।
- वर्तमान में ₹ 6 लाख या उस से अधिक की प्रति वर्ष की सी.टी.सी. अवश्य प्राप्त कर रहा हो।

यदि अभ्यर्थी -

- उपरोक्त A के अतिरिक्त अन्य सभी शर्तों को पूर्ण करता है, तो उसे कनिष्ठ लेखाकार के रूप में निर्दिष्ट किया जाएगा।
- उपरोक्त (d) और (e) के अतिरिक्त अन्य सभी शर्तों को पूर्ण करता है, तो उसे प्रशिक्षु-लेखाकार के रूप में निर्दिष्ट किया जाएगा।

यदि अभ्यर्थी -

5 वर्षों के अनुभव सहित उपरोक्त सभी शर्तों को पूर्ण करता है, तो उसे वरिष्ठ-लेखाकार के रूप में निर्दिष्ट किया जाएगा।

यदि अभ्यर्थी -

सी.ए./आई.सी.इक्यू.ए./एम.बी.ए.(वित्त) की शैक्षिक योग्यताओं सहित उपरोक्त सभी मानदंडों (a-e) को पूर्ण करता है, तो उसे प्रबंधक (लेखा) के रूप में निर्दिष्ट किया जाएगा।

उपरोक्त सभी जानकारीयों का अध्ययन करें और निम्नलिखित प्रश्न का उत्तर दें।

संख्या के पास गणित में डॉक्टोरियल उपाधि और गणित में 75% अंकों सहित परास्नातक उपाधि थी। मार्च 2018 में वह 28 वर्ष की थी। उसके पास 62.5% अंकों सहित मूलभूत विज्ञान में स्नातक उपाधि थी। उस को किस पद के लिए निर्दिष्ट किया जा सकता है?

Ans ✗ 1. कनिष्ठ लेखाकार

✗ 2. प्रबंधक (लेखा)

✗ 3. वरिष्ठ-लेखाकार

✓ 4. अपर्याप्त आंकड़ा

Q.18 निम्नलिखित श्रृंखला में आगामी संख्या क्या होगी?

Question ID : 16794312921

4, 9, 20, 43, 90, ?

Ans ✓ 1. 185

✗ 2. 190

✗ 3. 207

✗ 4. 180

Q.19 हिरनी का बच्चा हिरनी से उसी प्रकार संबंधित है जिस प्रकार भैंस (टैडपोल) _____ से संबंधित है।

Question ID : 16794312903

Ans ✗ 1. कुत्ता

✗ 2. मुर्गी

✓ 3. मेंढक

✗ 4. बिल्ली

Q.20 आप मैदान में क्रिकेट खेल रहे हैं और अचानक आपको मैदान में ₹ 100 का एक नोट दिखाई देता है। आप क्या करवाई करेंगे?

Question ID : 16794312910

Ans ✗ 1. नोट को फाइकर फेंक देंगे

✓ 2.

नोट के स्वामी को ढूँढने के लिए घोषणा करेंगे

- ✗ 3. स्वयं रख लेंगे
- ✗ 4. वहीं छोड़ देंगे जहाँ पड़ा था

Section : General Awareness

Q.1 प्रारंभिक भारत के सर्वाधिक प्रसिद्ध शास्त्रानुसृत ग्रंथों में से एक, मनुस्मृति, _____ में लिखा गया था।

Question ID : 16794312931

- Ans
- ✗ 1. प्राकृत
- ✓ 2. संस्कृत
- ✗ 3. पाली
- ✗ 4. हिंदी

Q.2 राष्ट्रीय विज्ञान दिवस प्रति वर्ष _____ को मनाया जाता है।

Question ID : 16794312938

- Ans
- ✗ 1. 10 फ़रवरी
- ✗ 2. 4 फ़रवरी
- ✓ 3. 28 फ़रवरी
- ✗ 4. 22 मार्च

Q.3 'बैंक बोर्ड ब्यूरो' किस वर्ष गठित किया गया था?

Question ID : 16794312942

- Ans
- ✗ 1. 2014 में
- ✗ 2. 2015 में
- ✗ 3. 2013 में
- ✓ 4. 2016 में

Q.4 भारतीय इतिहास में 6वीं शताब्दी ईसा पूर्व के 'महाजनपद' का संबंध _____ से है।

Question ID : 16794312923

- Ans
- ✗ 1. धार्मिक पंडितों
- ✓ 2. राज्यों के एक समूह
- ✗ 3. राजाओं के सलाहकारों
- ✗ 4. धार्मिक अवशेषों

Q.5 2015 में आरंभ हुई IMPRINT इंडिया पहल के अंतर्गत कितने प्रौद्योगिकी अनुसंधान परियोजनाएं चलाए गए थे?

Question ID : 16794312926

- Ans
- ✗ 1. 7
- ✗ 2. 11
- ✗ 3. 3
- ✓ 4. 10

Q.6 हमारे सौर मंडल से परे तारा ग्रह (ई.पी.आई.सी./एपिक/ 211945201b), _____ वैज्ञानिकों द्वारा खोजा गया था।

Question ID : 16794312940

- Ans
- ✗ 1. चीनी
- ✗ 2. कनाडाई
- ✓ 3. भारतीय
- ✗ 4. अमेरिकी

Q.7 31 जुलाई 2018 तक, भारत के प्रधान मंत्री के पास निम्नलिखित 4 विभागों (पोर्टफोलियो) में से 3 विभाग थे। उस विभाग का नाम करें जिसका दायित्व उन पर नहीं था।

Question ID : 16794312925

Ans

- ☒ 1. विज्ञान और प्रौद्योगिकी मंत्रालय
- ☐ 2. कर्मिक, लोक शिकायत और पेंशन मंत्रालय
- ☐ 3. परमाणु ऊर्जा विभाग
- ☐ 4. अंतरिक्ष विभाग

Q.8 भारत के संविधान का कौन सा अनुच्छेद अस्पृश्यता के उन्मूलन से संबंधित है?

Question ID : 16794312927

Ans

- ☐ 1. अनुच्छेद 18
- ☐ 2. अनुच्छेद 16
- ☐ 3. अनुच्छेद 19
- ☒ 4. अनुच्छेद 17

Q.9 कावेरी घाटी _____ के किसी भी भाग में नहीं बहती है।

Question ID : 16794312934

Ans

- ☒ 1. आंध्र प्रदेश
- ☐ 2. केरल
- ☐ 3. कर्नाटक
- ☐ 4. तमिलनाडु

Q.10 आकाश का नीला रंग प्रकाश के _____ के कारण है।

Question ID : 16794312937

Ans

- ☐ 1. फैलाव
- ☐ 2. परावर्तन
- ☐ 3. अपवर्तन
- ☒ 4. प्रकीर्णन

Q.11 वन अनुसंधान संस्थान _____ में स्थित है।

Question ID : 16794312941

Ans

- ☐ 1. जबलपुर
- ☒ 2. देहरादून
- ☐ 3. कोयंबटूर
- ☐ 4. शिमला

Q.12 निम्नलिखित में से क्या ओडिशा का पारंपरिक लोक कला रूप (रंगोली) है?

Question ID : 16794312932

Ans

- ☐ 1. मुग्गू
- ☒ 2. झुनिती
- ☐ 3. चौक पूरना
- ☐ 4. कोलम

Q.13

Question ID : 16794312924

भारतीय इतिहास में कुछ प्रमुख राजनीतिक विकास नीचे दिये गए हैं।

- K. अशोक का शासन
- H. गुप्त शासन का आरंभ
- T. मगध के शासकों का शक्ति संगठन
- D. उत्तर-पश्चिम में भारत-यूनानी शासन
- M. मैसेडोन के अलेक्जेंडर का आक्रमण

500 ईसा पूर्व से आरंभ होने वाला सही कालक्रमबद्ध क्रम क्या है?

- Ans
- ☒ 1. M→T→D→K→H
 - ☒ 2. T→M→K→D→H
 - ☒ 3. K→T→M→H→D
 - ☒ 4. T→K→M→D→H

Q.14 नीपा/नीपाह वायरस (NIV) को पहली बार 1998 में _____ में हुई एक बीमारी के फैलने के दौरान पहचाना गया था।

Question ID : 16794312939

- Ans
- ☒ 1. मलेशिया
 - ☒ 2. दक्षिण अफ्रीका
 - ☒ 3. घाना
 - ☒ 4. बांग्लादेश

Q.15 मेघालय में निम्नलिखित में से कौन सी झील स्थित है?

Question ID : 16794312933

- Ans
- ☒ 1. बारापानी
 - ☒ 2. लोकताक
 - ☒ 3. भीमताल
 - ☒ 4. सातताल

Q.16 भारतीय किसान उर्वरक सहकारी लिमिटेड (आई.एफ.एफ.सी.ओ./इप्रको) का नैगमिक कार्यालय कहाँ स्थित है?

Question ID : 16794312935

- Ans
- ☒ 1. कोच्चि
 - ☒ 2. नई दिल्ली
 - ☒ 3. मुंबई
 - ☒ 4. लुधियाना

Q.17 जी.आई.आई का अर्थ 'वैश्विक _____ सूचकांक' है।

Question ID : 16794312936

- Ans
- ☒ 1. बौद्धिक
 - ☒ 2. नवीनीकरण
 - ☒ 3. औद्योगिक
 - ☒ 4. संशोधन

Q.18 2018 स्क्रिफा विश्व कप रूस में एडिडास गोल्डन बूट पुरस्कार का विजेता कौन था?

Question ID : 16794312929

- Ans
- ☒ 1. थिबाँ कौर्तुआ (बेल्जियम)
 - ☒ 2. लूका मॉड्रिक (क्रोएशिया)
 - ☒ 3. किलिएन एम्बैप्पे (फ्रांस)

✓ 4. हैरी केन (इंग्लैंड)

Q.19 सिक्किम किस वर्ष में भारत का एक राज्य बना?

Question ID : 16794312928

- Ans
- ✗ 1. 1974 में
 - ✓ 2. 1975 में
 - ✗ 3. 1970 में
 - ✗ 4. 1976 में

Q.20 भारत की अग्रणी जिम्नास्ट दीपा करमाकर _____ से है।

Question ID : 16794312930

- Ans
- ✗ 1. मणिपुर
 - ✓ 2. त्रिपुरा
 - ✗ 3. पश्चिम बंगाल
 - ✗ 4. असम

Section : Arithmetic Ability

Q.1 एक आयत की लंबाई में 40% की वृद्धि हो जाती है। चौड़ाई को किस प्रतिशत से कम किया जाना चाहिए ताकि क्षेत्रफल वही रहे?

Question ID : 16794312949

- Ans
- ✗ 1. $\frac{300}{7}\%$
 - ✗ 2. $\frac{260}{7}\%$
 - ✓ 3. $\frac{200}{7}\%$
 - ✗ 4. $\frac{160}{7}\%$

Q.2 8 पुरुष और 12 महिलाएँ मिलकर एक काम को 24 दिन में समाप्त कर सकते हैं। 40 पुरुष और 45 महिलाएँ मिलकर 1.5 गुने काम को कितने समय में पूरा करेंगे, यदि 16 पुरुषों द्वारा 8 घंटे में किया गया काम 12 महिलाओं द्वारा 24 घंटे में किए गए काम के बराबर हो?

Question ID : 16794312960

- Ans
- ✗ 1. 9 दिन
 - ✓ 2. 8 दिन
 - ✗ 3. 6 दिन
 - ✗ 4. 10 दिन

Q.3 एक ट्रेन 65 km/h की गति से चल रही है। यह 12 सेकंड में, 5 km/h की गति से ट्रेन की गति की दिशा में चलने वाले एक व्यक्ति को पार करती है। ट्रेन की लंबाई है:

Question ID : 16794312956

- Ans
- ✗ 1. 240 m
 - ✓ 2. 200 m
 - ✗ 3. 215 m
 - ✗ 4. 185 m

Q.4 एक व्यक्ति अपनी आय का 80% खर्च करता है। यदि उनकी आय में 20% की वृद्धि हुई है और उनके व्यय में 10% की वृद्धि हो जाती है, तो उसकी बचत में वृद्धि होगी:

Question ID : 16794312950

- Ans
- ✓ 1. 60%

☒ 2. 50%

☒ 3. 40%

☒ 4. 30%

Q.5 एक व्यक्ति ने ₹ 17600, अंशिक रूप से 6% प्रति वर्ष के दर पर, और शेष 5% प्रतिवर्ष के दर पर, 2 साल के लिए साधारण ब्याज पर निवेश किया। यदि दोनों योजनाओं पर ब्याज बराबर है, तो उन्होंने 6% प्रति वर्ष पर कितना पैसा निवेश किया?

Question ID : 16794312952

Ans ☒ 1. ₹ 7600

☒ 2. ₹ 8000

☒ 3. ₹ 8200

☒ 4. ₹ 7800

Q.6 तीन संख्याएँ 15 : 6 : 7 के अनुपात में हैं और उनका लघुतम समापवर्त्य 2520 है। उनके महत्तम समापवर्तक क्या होगा?

Question ID : 16794312946

Ans ☒ 1. 4

☒ 2. 12

☒ 3. 6

☒ 4. 8

Q.7 बाह्य और भीतरी चिन्त्या 4 सेमी और 3 सेमी वाला एक खोखला गोला पिघलाकर 2 सेमी के चिन्त्या वाले ठोस गोले बनाया जाता है। तो ऐसे कितने गोले बनाए जा सकते हैं?

Question ID : 16794312955

Ans ☒ 1. 5

☒ 2. 2

☒ 3. 4

☒ 4. 3

Q.8 दो पाइप A और B क्रमशः 6 घंटे और 12 घंटे में एक खाली टैंक भर सकते हैं, जबकि तीसरा पाइप C 15 घंटे में पूरा भरता हुआ टैंक खाली कर सकता है। यदि सभी तीनों पाइपों को एक ही समय खोल दिया जाता है, तो कितने घंटे में खाली टैंक भर जाएगा?

Question ID : 16794312959

Ans ☒ 1. $\frac{60}{13}$

☒ 2. $\frac{60}{11}$

☒ 3. $\frac{60}{19}$

☒ 4. $\frac{20}{3}$

Q.9 $\frac{0.07 \times 0.0049 + 0.000125}{0.0049 \times 0.0025 - 0.0035}$ का मान किसके बराबर है?

Question ID : 16794312943

Ans ☒ 1. 0.12

☒ 2. 1.2

☒ 3. 0.0012

☒ 4. 0.012

Q.10 यदि दो संख्याएँ a और b का तीसरा अनुपात उनके औसत अनुपात के बराबर है, तो $a-b$ बराबर है:

Question ID : 16794312947

Ans ☒ 1. 1

☒ 2. 4

☒ 3. 0

☒ 4. 2

Q.11

$$5\frac{2}{11} - 3\frac{13}{14} + \frac{12}{7} \div \frac{36}{7}$$

$(1\frac{2}{9} + 1\frac{2}{5} \text{ of } \frac{5}{21}) + \frac{1}{3}$ का मूल्य किसके बराबर है?

Question ID : 16794312944

Ans

- ☐ 1. $\frac{4}{9}$
- ☐ 2. $\frac{5}{7}$
- ☐ 3. $\frac{5}{21}$
- ☒ 4. $\frac{3}{8}$

Q.12 दो संख्याओं का लघुत्तम समापवर्त्य उनके महत्तम समापवर्तक का 143 गुना है। यदि दोनों संख्याएं 3 अंकों की संख्या हैं और उनका महत्तम समापवर्तक 18 है, तो उन दो संख्याओं के व्युत्क्रम का योग क्या है?

Question ID : 16794312945

Ans

- ☒ 1. $\frac{4}{429}$
- ☐ 2. $\frac{5}{286}$
- ☐ 3. $\frac{5}{143}$
- ☐ 4. $\frac{2}{143}$

Q.13 दो संख्याओं के बीच अनुपात 3 : 4 है। यदि प्रत्येक संख्या 12 से बढ़ जाती है, तो अनुपात 5 : 6 हो जाता है, संख्याओं के बीच अंतर होगा:

Question ID : 16794312948

Ans

- ☐ 1. 2
- ☒ 2. 6
- ☐ 3. 3
- ☐ 4. 9

Q.14 दो वस्तु A और B क्रमशः ₹ 2240 और ₹ 1700 में बेचे जाते हैं। वस्तु A पर, 12% का लाभ और B पर 15% की हानि होती है। कुल लाभ या हानि प्रतिशत क्या है?

Question ID : 16794312951

Ans

- ☐ 1. 2.5% हानि
- ☐ 2. 1.5% लाभ
- ☒ 3. 1.5% हानि
- ☐ 4. 2.5% लाभ

Q.15 यदि एक वृत्त की त्रिज्या 20% बढ़ा दी जाती है, तो इसके क्षेत्र में प्रतिशत वृद्धि क्या होगी?

Question ID : 16794312954

Ans

- ☐ 1. 40%
- ☒ 2. 44%
- ☐ 3. 36%
- ☐ 4. 20%

Q.16 यदि व्याज आठ मासिक रूप से संयोजित होता है, तो 2 साल के लिए ₹ 20,000 का 12% प्रति वर्ष पर मिश्रित व्याज क्या होगा?

Question ID : 16794312953

Ans

- ☐ 1. ₹ 5286.75

✓ 2. ₹ 5194.24

✗ 3. ₹ 5088

✗ 4. ₹ 4800

Q.17 एक आदमी 5 घंटों में 15 km धारा के प्रतिकूल और 22 km बहाव के साथ नौ चला सकता है। इसके अलावा, वह 8 घंटे में 20 km धारा के प्रतिकूल और 44 km धारा के साथ नौ चला सकता है। धारा की गति क्या है?

Question ID : 16794312957

Ans ✗ 1. 3.5 km/h

✗ 2. 4.5 km/h

✗ 3. 4 km/h

✓ 4. 3 km/h

Q.18 A, B और C की क्षमता अनुपात 2 : 3 : 4 हैं। वे एक साथ 12 दिनों में एक काम को पूरा कर सकते हैं। B अकेले उसी काम को कितने दिनों में पूरा कर सकता है?

Question ID : 16794312958

Ans ✗ 1. 18

✗ 2. 30

✗ 3. 24

✓ 4. 36

Comprehension:

नीचे दी गई तालिका का अध्ययन करें जो 5 विषयों A, B, C, D और E में 5 छात्र P, Q, R, S और T द्वारा प्राप्त प्रतिशत अंक के बारे में बताता है। प्रत्येक विषय के लिए अधिकतम अंक प्रत्येक विषय के सामने ब्रैकेट में दिए गए हैं।

विषय → छात्र ↓	A(50)	B(75)	C(75)	D(150)	E(50)
P	60	76	80	56	52
Q	66	72	64	58	68
R	58	84	72	70	74
S	78	56	76	48	86
T	88	60	72	60	70

SubQuestion No : 19

Q.19 विषय 'C' में सभी छात्रों द्वारा प्राप्त औसत प्रतिशत अंक क्या है?

Question ID : 16794312963

Ans ✓ 1. 72.8%

✗ 2. 72.5%

✗ 3. 72.6%

✗ 4. 71.6%

Comprehension:

नीचे दी गई तालिका का अध्ययन करें जो 5 विषयों A, B, C, D और E में 5 छात्र P, Q, R, S और T द्वारा प्राप्त प्रतिशत अंक के बारे में बताता है। प्रत्येक विषय के लिए अधिकतम अंक प्रत्येक विषय के सामने ब्रैकेट में दिए गए हैं।

छात्र \ विषय	A(50)	B(75)	C(75)	D(150)	E(50)
P	60	76	80	56	52
Q	66	72	64	58	68
R	58	84	72	70	74
S	78	56	76	48	86
T	88	60	72	60	70

SubQuestion No : 20

Q.2 सभी विषयों में छात्र 'P' द्वारा प्राप्त कुल प्रतिशत अंक (दो दशमलव स्थानों पर सही) क्या है?

Question ID : 16794312962

- Ans
- ☒ 1. 63.75%
 - ☒ 2. 64.25%
 - ☒ 3. 64.35%
 - ☒ 4. 64.86%

Section : General English

Q.1 Select the most appropriate option to fill in the blank.

Question ID : 16794312968

_____ my foot was in a bad shape, I managed to play the match.

- Ans
- ☒ 1. As long as
 - ☒ 2. Because
 - ☒ 3. In case
 - ☒ 4. Although

Q.2 In the following sentence, four words/phrases have been underlined. One of them is incorrect. Choose the incorrect word/phrase from the given options.

Question ID : 16794312978

You are not allowed in this club unless you are not a member.

- Ans
- ☒ 1. in this club
 - ☒ 2. You are
 - ☒ 3. not a member
 - ☒ 4. allowed

Q.3 Arrange parts of the sentence in meaningful and grammatically correct order.

Question ID : 16794312976

- A. in most government departments
- B. on seniority basis
- C. and there is no incentive
- D. promotions are given
- E. for a hard working person

- Ans
- ☒ 1. ABDCE
 - ☒ 2. ADBCE

☒ 3. DEBCA

☒ 4. DABCE

Q.4 Select the most appropriate option to fill in the blank.

Question ID : 16794312967

It happened a long time ago _____ I can still remember that horrible night.

Ans ☒ 1. and

☒ 2. but

☒ 3. or

☒ 4. so

Q.5 Select the most appropriate option to fill in the blank.

Question ID : 16794312964

Talks are to be held _____ the Race Course Road bungalow.

Ans ☒ 1. on

☒ 2. at

☒ 3. in

☒ 4. into

Q.6 Select the antonym of the given word.

Question ID : 16794312973

CRAFTY

Ans ☒ 1. noisy

☒ 2. naive

☒ 3. cunning

☒ 4. remarkable

Q.7 Select the most appropriate option to fill in the blank.

Question ID : 16794312966

“Where is Anoop?”

“He _____ to England for two weeks.”

Ans ☒ 1. is going

☒ 2. has gone

☒ 3. will be going

☒ 4. went

Q.8 Select the synonym of the given word.

Question ID : 16794312972

CONCISE

Ans ☒ 1. brief

☒ 2. fine

☒ 3. extended

☒ 4. sarcastic

Q.9 Select the sentence structure that is grammatically correct.

Question ID : 16794312975

Ans ☒ 1.

The branches of the Dragon tree hollowed out and as musical instruments can be used.

☒ 2.

The branches of the Dragon tree can be used as musical instruments and hollowed out.

 3.

The musical instruments can be hollowed out and used as branches of the Dragon tree.

 4.


The branches of the Dragon tree can be hollowed out and used as musical instruments.


Q.10 In the following sentence, four words/phrases have been underlined. One of them is incorrect. Choose the incorrect word/phrase from the given options.

Yesterday I met an old friend of mine when I am going to the bank.

Question ID : 16794312977

Ans  1. when

 2. am going


 3. an old friend


 4. I met


Q.11 Select the most appropriate option to fill in the blank.


Nowadays the younger generation is so overpowered by mobile phones that their social _____ have become almost negligible.

Question ID : 16794312970

Ans  1. interactions


 2. requests


 3. emotions


 4. affairs


Q.12 Select the synonym of the given word.

MISERY

Ans  1. nervousness

 2. anger

 3. sorrow

 4. confusion


Question ID : 16794312971


Q.13 Select the most appropriate option to fill in the blank.


The child ran away and hid _____ the tree.

Question ID : 16794312965

Ans  1. behind

 2. over


 3. along


 4. through

Q.14 Select the antonym of the given word.

EVACUATE

Ans  1. invade

 2. vacate

 3. emerge

 4. fill


Question ID : 16794312974

Q.15 Select the most appropriate option to fill in the blank.

The crops in many districts of Maharashtra were affected by a long spell of _____. The farmers had no water to irrigate the fields.

Question ID : 16794312969

Ans  1. drought

 2. summer

 3. storms

Comprehension:

Read the following passage and answer the questions given after it.

'Aha!' said the undertaker; looking up from the book, and pausing in the middle of a word; 'is that you, Bumble?'

'No one else, Mr. Sowerberry,' replied the beadle. 'Here! I've brought the boy.'

Oliver made a bow. 'Oh! that's the boy, is it?' said the undertaker: raising the candle above his head, to get a better view of Oliver. 'Mrs. Sowerberry, will you have the goodness to come here a moment, my dear?'

Mrs. Sowerberry emerged from a little room behind the shop, and presented the form of a short, then, squeezed-up woman, with a vixenish countenance. 'My dear,' said Mr. Sowerberry, 'this is the boy from the workhouse that I told you of.'

Oliver bowed again. 'Dear me!' said the undertaker's wife, 'he's very small.'

'Why, he IS rather small,' replied Mr. Bumble: looking at Oliver as if it were his fault that he was no bigger; 'he is small. There's no denying it. But he'll grow, Mrs. Sowerberry-- he'll grow.'

'Ah! I dare say he will,' replied the lady pettishly, 'on our victuals and our drink. I see no saving in parish children, not I; for they always cost more to keep, than they're worth.'

However, men always think they know best. There! Get downstairs, little bag o' bones.'

With this, the undertaker's wife opened a side door, and pushed Oliver down a steep flight of stairs into a stone cell, damp and dark: forming the ante-room to the coal-cellar, and denominated 'kitchen'; wherein sat a slatternly girl, in shoes down at heel, and blue worsted stockings very much out of repair.





'Here, Charlotte,' said Mr. Sowerberry, who had followed Oliver down, 'give this boy some of the cold bits that were put by for Trip. He hasn't come home since the morning, so he may go without 'em. I dare say the boy isn't too dainty to eat 'em--are you, boy?'

Oliver, whose eyes had glistened at the mention of meat, and who was trembling with eagerness to devour it, replied in the negative; and a plateful of coarse broken victuals was set before him.

SubQuestion No : 16

Q.1
6 From the reading of the passage, what type of a mistress, do you think, would Mrs. Sowerberry prove to be for little Oliver?

Question ID : 16794312983

- Ans
-  1. kind and generous
 -  2. cultured and caring
 -  3. matronly and sensitive
 -  4. stern and dominating

Comprehension:

Read the following passage and answer the questions given after it.

'Aha!' said the undertaker; looking up from the book, and pausing in the middle of a word; 'is that you, Bumble?'

'No one else, Mr. Sowerberry,' replied the beadle. 'Here! I've brought the boy.'

Oliver made a bow. 'Oh! that's the boy, is it?' said the undertaker: raising the candle above his head, to get a better view of Oliver. 'Mrs. Sowerberry, will you have the goodness to come here a moment, my dear?'

Mrs. Sowerberry emerged from a little room behind the shop, and presented the form of a short, then, squeezed-up woman, with a vixenish countenance. 'My dear,' said Mr. Sowerberry, 'this is the boy from the workhouse that I told you of.'

Oliver bowed again. 'Dear me!' said the undertaker's wife, 'he's very small.'

'Why, he IS rather small,' replied Mr. Bumble: looking at Oliver as if it were his fault that he was no bigger; 'he is small. There's no denying it. But he'll grow, Mrs. Sowerberry-- he'll grow.'

'Ah! I dare say he will,' replied the lady pettishly, 'on our victuals and our drink. I see no saving in parish children, not I; for they always cost more to keep, than they're worth.'

However, men always think they know best. There! Get downstairs, little bag o' bones.'

With this, the undertaker's wife opened a side door, and pushed Oliver down a steep flight of stairs into a stone cell, damp and dark: forming the ante-room to the coal-cellar, and denominated 'kitchen'; wherein sat a slatternly girl, in shoes down at heel, and blue worsted stockings very much out of repair.

'Here, Charlotte,' said Mr. Sowerberry, who had followed Oliver down, 'give this boy some of the cold bits that were put by for Trip. He hasn't come home since the morning, so he may go without 'em. I dare say the boy isn't too dainty to eat 'em--are you, boy?'


Oliver, whose eyes had glistened at the mention of meat, and who was trembling with eagerness to devour it, replied in the negative; and a plateful of coarse broken victuals was set before him.


SubQuestion No : 17


Q.1 Match the words with their meaning.


Question ID : 16794312982

- | | |
|----------------|-------------|
| a. vixenish | 1. food |
| b. countenance | 2. Fox like |
| c. victuals | 3. Face |

Ans  1. a - 2, b - 1, c - 3

 2. a - 3, b - 2, c - 1

 3. a - 1, b - 3, c - 2

 4. a - 2, b - 3, c - 1

Comprehension:

Read the following passage and answer the questions given after it.

'Aha!' said the undertaker; looking up from the book, and pausing in the middle of a word; 'is that you, Bumble?'

'No one else, Mr. Sowerberry,' replied the beadle. 'Here! I've brought the boy.'

Oliver made a bow. 'Oh! that's the boy, is it?' said the undertaker: raising the candle above his head, to get a better view of Oliver. 'Mrs. Sowerberry, will you have the goodness to come here a moment, my dear?'

Mrs. Sowerberry emerged from a little room behind the shop, and presented the form of a short, then, squeezed-up woman, with a vixenish countenance. 'My dear,' said Mr. Sowerberry, 'this is the boy from the workhouse that I told you of.'

Oliver bowed again. 'Dear me!' said the undertaker's wife, 'he's very small.'

'Why, he IS rather small,' replied Mr. Bumble: looking at Oliver as if it were his fault that he was no bigger; 'he is small. There's no denying it. But he'll grow, Mrs. Sowerberry-- he'll grow.'

'Ah! I dare say he will,' replied the lady pettishly, 'on our victuals and our drink. I see no saving in parish children, not I; for they always cost more to keep, than they're worth.'

However, men always think they know best. There! Get downstairs, little bag o' bones.'

With this, the undertaker's wife opened a side door, and pushed Oliver down a steep flight of stairs into a stone cell, damp and dark: forming the ante-room to the coal-cellar, and denominated 'kitchen'; wherein sat a slatternly girl, in shoes down at heel, and blue worsted stockings very much out of repair.

'Here, Charlotte,' said Mr. Sowerberry, who had followed Oliver down, 'give this boy some of the cold bits that were put by for Trip. He hasn't come home since the morning, so he may go without 'em. I dare say the boy isn't too dainty to eat 'em--are you, boy?'

Oliver, whose eyes had glistened at the mention of meat, and who was trembling with eagerness to devour it, replied in the negative; and a plateful of coarse broken victuals was set before him.

SubQuestion No : 18

Q.1
8 The passage is an extract from:

Question ID : 16794312980

- Ans
- ☒ 1. an article
 - ☒ 2. a biography
 - ☒ 3. a report
 - ☒ 4. a novel

Comprehension:

Read the following passage and answer the questions given after it.

'Aha!' said the undertaker; looking up from the book, and pausing in the middle of a word; 'is that you, Bumble?'

'No one else, Mr. Sowerberry,' replied the beadle. 'Here! I've brought the boy.'

Oliver made a bow. 'Oh! that's the boy, is it?' said the undertaker: raising the candle above his head, to get a better view of Oliver. 'Mrs. Sowerberry, will you have the goodness to come here a moment, my dear?'

Mrs. Sowerberry emerged from a little room behind the shop, and presented the form of a short, then, squeezed-up woman, with a vixenish countenance. 'My dear,' said Mr. Sowerberry, 'this is the boy from the workhouse that I told you of.'

Oliver bowed again. 'Dear me!' said the undertaker's wife, 'he's very small.'

'Why, he IS rather small,' replied Mr. Bumble: looking at Oliver as if it were his fault that he was no bigger; 'he is small. There's no denying it. But he'll grow, Mrs. Sowerberry-- he'll grow.'

'Ah! I dare say he will,' replied the lady pettishly, 'on our victuals and our drink. I see no saving in parish children, not I; for they always cost more to keep, than they're worth. However, men always think they know best. There! Get downstairs, little bag o' bones.'

With this, the undertaker's wife opened a side door, and pushed Oliver down a steep flight of stairs into a stone cell, damp and dark: forming the ante-room to the coal-cellar, and denominated 'kitchen'; wherein sat a slatternly girl, in shoes down at heel, and blue worsted stockings very much out of repair.

'Here, Charlotte,' said Mr. Sowerberry, who had followed Oliver down, 'give this boy some of the cold bits that were put by for Trip. He hasn't come home since the morning, so he may go without 'em. I dare say the boy isn't too dainty to eat 'em--are you, boy?'

Oliver, whose eyes had glistened at the mention of meat, and who was trembling with eagerness to devour it, replied in the negative; and a plateful of coarse broken victuals was set before him.

SubQuestion No : 19

Q.1
9 Who has brought the boy and to whom?

Question ID : 16794312981

Select the correct pair.

- Ans
- ☒ 1. Mr. Sowerberry - Oliver
 - ☒ 2. Mr. Sowerberry - Mr. Bumble
 - ☒ 3. Mr. Bumble - Oliver
 - ☒ 4. Mr. Bumble - Mr. Sowerberry

Comprehension:

Read the following passage and answer the questions given after it.

'Aha!' said the undertaker; looking up from the book, and pausing in the middle of a word; 'is that you, Bumble?'

'No one else, Mr. Sowerberry,' replied the beadle. 'Here! I've brought the boy.'

Oliver made a bow. 'Oh! that's the boy, is it?' said the undertaker: raising the candle above his head, to get a better view of Oliver. 'Mrs. Sowerberry, will you have the goodness to come here a moment, my dear?'

Mrs. Sowerberry emerged from a little room behind the shop, and presented the form of a short, then, squeezed-up woman, with a vixenish countenance. 'My dear,' said Mr. Sowerberry, 'this is the boy from the workhouse that I told you of.'

Oliver bowed again. 'Dear me!' said the undertaker's wife, 'he's very small.'

'Why, he IS rather small,' replied Mr. Bumble: looking at Oliver as if it were his fault that he was no bigger; 'he is small. There's no denying it. But he'll grow, Mrs. Sowerberry-- he'll grow.'

'Ah! I dare say he will,' replied the lady pettishly, 'on our victuals and our drink. I see no saving in parish children, not I; for they always cost more to keep, than they're worth. However, men always think they know best. There! Get downstairs, little bag o' bones.'

With this, the undertaker's wife opened a side door, and pushed Oliver down a steep flight of stairs into a stone cell, damp and dark: forming the ante-room to the coal-cellar, and denominated 'kitchen'; wherein sat a slatternly girl, in shoes down at heel, and blue worsted stockings very much out of repair.

'Here, Charlotte,' said Mr. Sowerberry, who had followed Oliver down, 'give this boy some of the cold bits that were put by for Trip. He hasn't come home since the morning, so he may go without 'em. I dare say the boy isn't too dainty to eat 'em--are you, boy?'

Oliver, whose eyes had glistened at the mention of meat, and who was trembling with eagerness to devour it, replied in the negative; and a plateful of coarse broken victuals was set before him.

SubQuestion No : 20

Q.2 "There! Get downstairs, little bag o' bones."

Question ID : 16794312984

Why does Mrs. Sowerberry call Oliver 'bag of bones'?

Because he is:

- Ans
- ☒ 1. too small
 - ☒ 2. very poor
 - ☒ 3. too anxious
 - ☒ 4. very foolish (Distractors are weak)

Q.1 'सरपट भागना' के अर्थ में कौन-सा मुहावरा प्रयुक्त होता है?

Question ID : 16794313001

- Ans
- ☒ 1. प्रतियोगिता में भाग लेना
 - ☒ 2. नौ दो ग्यारह होना
 - ☒ 3. व्यर्थ में दखल देना
 - ☒ 4. दौड़ में प्रथम आना

Q.2 'उसने यह चित्र पेंसिल से ही बना दिया।' वाक्य के रेखांकित अंश में कारक है:

Question ID : 16794312994

- Ans
- ☒ 1. करण
 - ☒ 2. अधिकरण
 - ☒ 3. अपादान
 - ☒ 4. संबंध

Q.3 निम्नलिखित में से अन्तःस्थ व्यंजन वाला वर्ग कौन-सा है?

Question ID : 16794312986

- Ans
- ☒ 1. प ध न
 - ☒ 2. व ह ण
 - ☒ 3. श ह र
 - ☒ 4. य ल व

Q.4 निम्नलिखित में अशुद्ध पद कौन-सा है?

Question ID : 16794313003

वाक्य: मेरा बेटा और बेटी बाज़ार गई हैं।

- Ans
- ☒ 1. मेरा बेटा
 - ☒ 2. बाज़ार
 - ☒ 3. गई हैं।
 - ☒ 4. और बेटी

Q.5 'वह पत्र लिख रही है।' वाक्य के रेखांकित अंश में कारक है:

Question ID : 16794312989

- Ans
- ☒ 1. कर्म
 - ☒ 2. कर्ता
 - ☒ 3. करण
 - ☒ 4. सम्प्रदान

Q.6 'परीक्षा' शब्द में उपसर्ग लगा है:

Question ID : 16794312993

- Ans
- ☒ 1. परि
 - ☒ 2. पर
 - ☒ 3. परी
 - ☒ 4. प्र

Q.7 'आज-कल' शब्द में समास है:

Question ID : 16794312991

Ans

- ☒ 1. दवंदव
- ☐ 2. अव्ययीभाव
- ☐ 3. दविगु
- ☐ 4. तत्पुरुष

Q.8 'किनारा' शब्द का पर्यायवाची है:

Question ID : 16794312995

Ans

- ☒ 1. कूल
- ☐ 2. प्रवाह
- ☐ 3. कुल
- ☐ 4. दर्प

Q.9 'न करने योग्य' वाक्यांश के लिए एक शब्द होगा:

Question ID : 16794312997

Ans

- ☒ 1. अकरणीय
- ☐ 2. कर्तव्य
- ☐ 3. अनुसरणीय
- ☐ 4. अनुकरणीय

Q.10 'गुरुपदेश' शब्द में कौन-सी संधि है?

Question ID : 16794312990

Ans

- ☐ 1. यण्
- ☒ 2. दीर्घ
- ☐ 3. वृद्धि
- ☐ 4. अयादी

Q.11 'शुष्क' शब्द का विलोम होगा:

Question ID : 16794312996

Ans

- ☒ 1. आर्द्र
- ☐ 2. सीलन
- ☐ 3. सरस
- ☐ 4. नीरस

Q.12 'वह दौड़ता फिरता है।' वाक्य में 'दौड़ना' क्रिया है:

Question ID : 16794313000

Ans

- ☐ 1. सकर्मक
- ☐ 2. प्रेरणार्थक
- ☒ 3. अकर्मक
- ☐ 4. दविकर्मक

Q.13 'मैं गया था और मेरा भाई यही रहा।' वाक्य में समुच्चयबोधक पद कौन-सा है?

Question ID : 16794313004

Ans

- ☐ 1. मैं
- ☒ 2. और

☒ 3. गया था

☒ 4. मेरा भाई यही रहा।

Q.14 निम्नलिखित में से 'भाववाचक संज्ञा' शब्द पहचानिए।

Question ID : 16794312998

Ans ☒ 1. अनार्य

☒ 2. मानवीय

☒ 3. कौमार्य

☒ 4. आर्य

Q.15 'कवि' शब्द का बहुवचन (अविभक्तिक) होता है:

Question ID : 16794312999

Ans ☒ 1. कविओ

☒ 2. कवि

☒ 3. कविएँ

☒ 4. कवियों

Q.16 'मैं दिल्ली जा रहा हूँ।' वाक्य किस काल का है?

Question ID : 16794312988

Ans ☒ 1. आसन्न भूत

☒ 2. सामान्य वर्तमान

☒ 3. संदिग्ध वर्तमान

☒ 4. अपूर्ण वर्तमान

Q.17 'चोर की दाढ़ी में तिनका' इस लोकोक्ति का अर्थ है:

Question ID : 16794313002

Ans ☒ 1. थोड़े समय का सुख

☒ 2. बिलकुल अनपढ़/मूर्ख

☒ 3. दोषी व्यक्ति स्वयं डरता है

☒ 4. महा कंजूस होना

Q.18 निम्नलिखित में से अशुद्ध शब्द कौन-सा है?

Question ID : 16794312987

Ans ☒ 1. प्रफुल्ल

☒ 2. सौजन्य

☒ 3. संसारिक

☒ 4. महत्त्व

Q.19 बुद्धिमती शब्द में प्रत्यय है:

Question ID : 16794312992

Ans ☒ 1. ती

☒ 2. ई

☒ 3. मती

✗ 4. मति

Q.20 निम्नलिखित में से जिस वर्ग में सभी स्वर दीर्घ हैं, उसे चुनिए।

Question ID : 16794312985

Ans

- ✓ 1. आ ई ऊ
✗ 2. इ ई उ
✗ 3. अ ऊ ए
✗ 4. उ ऊ इ

Section : Subject Related

Q.1 महाराणा प्रताप नाटक के लेखक कौन हैं?

Question ID : 16794313010

Ans

- ✓ 1. राधाकृष्ण दास
✗ 2. प्रसाद
✗ 3. भारतेन्दु
✗ 4. रामकुमार वर्मा

Q.2 'मारेसि मोहि कुठाँव' किसका निबंध है?

Question ID : 16794313011

Ans

- ✗ 1. रामचन्द्र शुक्ल
✓ 2. चन्द्रधर शर्मा गुलेरी
✗ 3. मिश्रबंधु
✗ 4. कुबेरनाथ

Q.3 'दुःखिनी बाला' नाटक के लेखक कौन हैं?

Question ID : 16794313007

Ans

- ✗ 1. श्रीधर पाठक
✗ 2. किशोरीलाल गोस्वामी
✗ 3. हरिवंश राय बच्चन
✓ 4. राधाकृष्ण दास

Q.4 रचना काल के आधार पर निम्नलिखित कवियों का सही अनुक्रम है:

Question ID : 16794313006

Ans

- ✓ 1.
ललित ललाम, भाव विलास, शृंगार निर्णय, जगत विनोद
✗ 2.
जगत विनोद, भाव विलास, ललित ललाम, शृंगार निर्णय
✗ 3.
शृंगार निर्णय, ललित ललाम, जगत विनोद, भाव विलास
✗ 4.
भाव विलास, ललित ललाम, जगत विनोद, शृंगार निर्णय

Q.5 'हिन्दी साहित्य का इतिहास' में रामचन्द्र शुक्ल ने कृष्ण भक्ति शाखा के कवियों को किस क्रम में प्रस्तुत किया?

Question ID : 16794313005

Ans

☒ 1.

चतुर्भुज दास, छीत स्वामी, गोविन्द स्वामी, परमानंद दास

☒ 2.

गोविन्द स्वामी, चतुर्भुज दास, परमानंद दास, छीत स्वामी

☒ 3.

गोविन्द स्वामी, छीत स्वामी, चतुर्भुज दास, परमानंद दास

☒ 4.

परमानंद दास, चतुर्भुज दास, छीत स्वामी, गोविन्द स्वामी

Q.6 कौन सा रामचन्द्र शुक्ल के चिंतामणि का सैद्धान्तिक समीक्षा संबंधी निबंध नहीं है?

Question ID : 16794313023

Ans

☒ 1. कविता क्या है

☒ 2. रसात्मक बोध के विविध रूप

☒ 3. मानस की धर्मभूमि

☒ 4. साधारणीकरण और व्यक्ति वैचित्र्यवाद

Q.7 'कुकुरमत्ता' किसकी कृति है?

Question ID : 16794313024

Ans

☒ 1. निराला

☒ 2. जायसी

☒ 3. अज्ञेय

☒ 4. मुक्तिबोध

Q.8 कौन सी कृति केदारनाथ अग्रवाल की नहीं है?

Question ID : 16794313017

Ans

☒ 1. फूल नहीं रंग बोलते हैं

☒ 2. माझी न बजाओ वंशी

☒ 3. पांचाली

☒ 4. बसंती हवा

Q.9 "किन्तु पाऊँगा नहीं कर आज अपने पर नियंत्रण तीर पर कैसे रुकूँ मैं आज लहरों में निमग्नण।"
प्रस्तुत पंक्तियाँ किसके द्वारा रचित हैं?

Question ID : 16794313014

Ans

☒ 1. दिनकर

☒ 2. नरेन्द्र शर्मा

☒ 3. माखनलाल चतुर्वेदी

☒ 4. हरिवंशराय बच्चन

Q.10 "अँसुवन जल सिंचि सिंचि, प्रेम बोल बोई।" यह किसकी पंक्ति है?

Question ID : 16794313022

Ans

☒ 1. रसखान

☒ 2. सूरदास

☒ 3. मीरा

☒ 4. रहीम

Q.11 'प्रिय नीलकंठी' किसका निबंध संग्रह है?

Question ID : 16794313021

Ans

- ☒ 1. कुबेरनाथ राय
- ☐ 2. रामकुमार वर्मा
- ☐ 3. उषा प्रियंवदा
- ☐ 4. विद्यानिवास मिश्र

Q.12 राहुल सांकृत्यान द्वारा रचित 'यात्रा के पन्ने' की रचना की विधा है:

Question ID : 16794313018

Ans

- ☐ 1. निबंध
- ☐ 2. संस्मरण
- ☐ 3. आलोचना
- ☒ 4. यात्रा साहित्य

Q.13 "बीती विभावरी जाग री अम्बर पनघट में डूबी रही तारा-घट उषा नागरी।"
यह पंक्ति जयशंकर प्रसाद के किस काव्य संग्रह में संकलित है?

Question ID : 16794313008

Ans

- ☐ 1. प्रेम पथिक
- ☐ 2. झरना
- ☒ 3. लहर
- ☐ 4. कानन कुसुम

Q.14 कौन सा रांगेय राघव का रिपोर्ताज है?

Question ID : 16794313012

Ans

- ☐ 1. लक्ष्मीपुरा
- ☐ 2. प्लाट का मोर्चा
- ☐ 3. युद्ध यात्रा
- ☒ 4. तूफानों के बीच

Q.15 फणीश्वरनाथ रेणु की कहानी 'तीसरी कसम' का एक और नाम क्या है?

Question ID : 16794313009

Ans

- ☐ 1. पंचलैट
- ☒ 2. मारे गये गुलफाम
- ☐ 3. मिरदंगिया
- ☐ 4. राजा निरबसिया

Q.16 हिन्दी के प्रथम महाकाव्य का नाम है:

Question ID : 16794313015

Ans

- ☐ 1. कामायनी
- ☐ 2. रामचरितमानस
- ☐ 3. पद्मावत
- ☒ 4. पृथ्वीराज रासो

Q.17 'नेफा की एक शाम' किसकी नाट्यकृति है?

Question ID : 16794313016

- Ans
- ☒ 1. भीष्म साहनी
 - ☒ 2. ज्ञानदेव अग्निहोत्री
 - ☒ 3. हबीब तनवीर
 - ☒ 4. नरेन्द्र कोहली

Q.18 हिन्दी को पुरानी हिन्दी नाम किसने दिया?

Question ID : 16794313013

- Ans
- ☒ 1. देवकी नंदन खत्री
 - ☒ 2. चन्द्रधर शर्मा गुलेरी
 - ☒ 3. उदयशंकर भट्ट
 - ☒ 4. भारतेन्दु हरिश्चन्द्र

Q.19 सूफी साधना के चार पड़ावों में शामिल नहीं है:

Question ID : 16794313019

- Ans
- ☒ 1. मारिफत
 - ☒ 2. हकीकत
 - ☒ 3. शराफत
 - ☒ 4. शरीअत

Q.20 महावीर प्रसाद द्विवेदी ने सरस्वती का संपादन कब संभाला?

Question ID : 16794313020

- Ans
- ☒ 1. 1902 ई. में
 - ☒ 2. 1903 ई. में
 - ☒ 3. 1900 ई. में
 - ☒ 4. 1901 ई. में

Section : Subject Related

Q.1 "अधर - मधुरता, कठिनता-कुच, तीक्ष्णता-त्यूँर।
रस-कवित्त-परिपक्वता जाने रसिक न और।"

Question ID : 16794313044

उक्त दोहे के द्वारा किस आचार्य कवि ने काव्य-रसिक को परिभाषित किया है?

- Ans
- ☒ 1. चिंतामणि
 - ☒ 2. बेनी प्रवीन
 - ☒ 3. भिखारी दास
 - ☒ 4. जसवंतसिंह

Q.2 'मेरे राम का मुकुट भीग रहा है' किसका निबंध संग्रह है?

Question ID : 16794313029

- Ans
- ☒ 1. कुबेरनाथ राय
 - ☒ 2. श्यामसुंदर दास
 - ☒ 3. विद्यानिवास मिश्र

✗ 4. रामविलास शर्मा

Q.3 विरह प्रधान रासो काव्य कौन सा है?

Question ID : 16794313028

- Ans
- ✗ 1. परमाल रासो
 - ✓ 2. वीसलदेव रासो
 - ✗ 3. पृथ्वीराज रासो
 - ✗ 4. हम्मीर रासो

Q.4 कौन मार्क्सवादी समीक्षक नहीं है?

Question ID : 16794313025

- Ans
- ✓ 1. डा. विजयेन्द्र स्नातक
 - ✗ 2. शिवदान सिंह
 - ✗ 3. रामविलास शर्मा
 - ✗ 4. अमृत राय

Q.5 “अधिकार सुख कितना मादक और सारहीन होता है”

Question ID : 16794313041

यह किस नाटक की पंक्ति है?

- Ans
- ✗ 1. चन्द्रगुप्त
 - ✓ 2. स्कन्दगुप्त
 - ✗ 3. ध्रुवस्वामिनी
 - ✗ 4. अजातशत्रु

Q.6 जैनेन्द्र का प्रथम कहानी संग्रह है:

Question ID : 16794313026

- Ans
- ✗ 1. ध्रुवयात्रा
 - ✗ 2. पाजेब
 - ✓ 3. फाँसी
 - ✗ 4. एक रात

Q.7 “गोरी गदकारी परै हंसत कपलनु गाड़।
कैसी लसति गंवारि यह सुनकिरवा की आड़।”

Question ID : 16794313039

इन पंक्तियों में बिहारी ने किसका वर्णन किया?

- Ans
- ✗ 1. नायक का सौन्दर्य वर्णन
 - ✗ 2. नायिका की मूर्खता का वर्णन
 - ✗ 3. विरह व्यथा का वर्णन
 - ✓ 4. नायिका का सौन्दर्य वर्णन

Q.8

Question ID : 16794313038

“नैन बांक सरि पूज न कोऊ। मानस भेदक उलथाई दोउ।
राते कंबल करहिं अलि भवा। घूमहिं माति चहहिं अपसवां॥”

ये पंक्तियाँ किसकी हैं?

Ans

- ☒ 1. घनानंद
- ☒ 2. जायसी
- ☒ 3. बिहारी
- ☒ 4. तुलसीदास

Q.9 “विहसि लखनु बोले मृदु बानी। अहो मुनीसु महा भटमानी।
पुनि पुनि मोहि देखाव कुठारु। चहत उड़ावन फूँकिपहारु॥”

Question ID : 16794313040

यह किस के बीच संवाद है?

Ans

- ☒ 1. तुलसी - परशुराम
- ☒ 2. भरत - लक्ष्मण
- ☒ 3. परशुराम - लक्ष्मण
- ☒ 4. राम - लक्ष्मण

Q.10 “जय-जय शंकर जय त्रिपुरारि। जय अध पुरुष जयति अध नारी।
आध धवल तनु आधा गोरा। आध सहज कुच आधा कटोरा॥”

Question ID : 16794313037

ये पंक्तियाँ कहाँ से आई हैं?

Ans

- ☒ 1. विद्यापति पदावली
- ☒ 2. नागमती वियोग
- ☒ 3. कवितावली
- ☒ 4. पृथ्वीराज रासो

Q.11 कौन रीतिबद्ध काव्यधारा का कवि नहीं है?

Question ID : 16794313027

Ans

- ☒ 1. मतिराम
- ☒ 2. आलम
- ☒ 3. केशवदास
- ☒ 4. गवाल

Q.12 “बालचंद बिज्जाबड़ भासा
दुहु नहि लग्गइ दुज्जन हासा॥”

Question ID : 16794313043

ये काव्य पंक्तियाँ किसकी हैं?

Ans

- ☒ 1. नरपतिनाल्ह
- ☒ 2. विद्यापति
- ☒ 3. मधुकर कवि

✗ 4. स्वयंभू

Q.13 "मधुर राग बन विश्व सुलाती
सौरभ बन कण-कण बस जाती।"

Question ID : 16794313042

ये पंक्तियाँ किस कवि की हैं?

Ans

- ✓ 1. महादेवी वर्मा
- ✗ 2. अज्ञेय
- ✗ 3. भुवनेश्वर
- ✗ 4. मुक्तिबोध

Q.14 कृष्णदास किसके शिष्य थे?

Question ID : 16794313036

Ans

- ✓ 1. बल्लाभाचार्य
- ✗ 2. छीत स्वामी
- ✗ 3. चतुर्भुज दास
- ✗ 4. गोविन्द स्वामी

Q.15 उसमान ने जहांगीर के शासन काल में कौन सी पुस्तक लिखी?

Question ID : 16794313034

Ans

- ✓ 1. चित्रावली
- ✗ 2. ज्ञानवली
- ✗ 3. कवितावली
- ✗ 4. इन्द्रावली

Q.16 'युग की गंगा' नामक संग्रह में क्या वर्णन है?

Question ID : 16794313035

Ans

- ✓ 1. यथार्थवादी रचनाएँ और जनगीत
- ✗ 2. प्रकृति चित्रण
- ✗ 3. धार्मिक रचनाएँ
- ✗ 4. बौद्धिक दृष्टिकोण

Q.17 कवित्त रत्नाकर किसकी रचना है?

Question ID : 16794313031

Ans


- ✗ 1. ग्वाल कवि
- ✗ 2. पद्माकर
- ✗ 3. देवकवि
- ✓ 4. सेनापति


Q.18 आचार्य रामचन्द्र शुक्ल ने किसे वैज्ञानिक आधार दिया है?

Question ID : 16794313033

Ans


- ✓ 1. रस-विवेचन
- ✗ 2. ध्वनि-विवेचन को


 3. सभी रसों को


 4. रीति-विवेचन को


Q.19 जयशंकर प्रसाद रचित जन्मेजय का नागयज्ञ का रचना वर्ष है:

Question ID : 16794313030

Ans  1. 1937 ई. में

 2. 1926 ई. में

 3. 1928 ई. में

 4. 1927 ई. में

Q.20 पद्मावत में सिंहल द्वीप किसका प्रतीक है?

Question ID : 16794313032

Ans  1. आत्मा

 2. हृदय


 3. धन


 4. मनीषा


Section : Subject Related


Q.1 निम्नलिखित में से राही मासूम रजा द्वारा लिखित उपन्यास कौन सा है?

Question ID : 16794313053

Ans  1. कब तक पुकारूँ

 2. कितने पाकिस्तानी

 3. तमस

 4. आधा गाँव


Q.2 “बहमणेहि म जाणंत हि भेऊ। एवइ पिढ़अउ एच्चउबेऊ।।
माट्टी पाणीकुस लइ पढ़ंत। घरहि बइसी अगिग हुणंत।”


Question ID : 16794313046

उपरोक्त काव्य पंक्तियाँ किस कवि की हैं?

Ans  1. रैदास

 2. सरहपा


 3. कबीरदास


 4. गोरखनाथ


Q.3 ‘गोदान’ का प्रकाशन कब हुआ?

Question ID : 16794313061

Ans  1. 1930 ई. में

 2. 1935 ई. में

 3. 1936 ई. में

 4. 1932 ई. में

Q.4 ‘समाज और धर्म के निबंधकार ने उत्तर प्रदेश के मुख्यमंत्री के पद को सुशोभित किया था।’ वे कौन थे?

Question ID : 16794313052

Ans

- ☒ 1. नारायणदत्त तिवारी
- ☒ 2. वीरबहादुर सिंह
- ☒ 3. सम्पूर्णानन्द
- ☒ 4. वजेन्द्र बाला

Q.5 "अमिय हलाहल मद भरे स्याम श्वेत रतनार।
जिअत मरत झुकि-झुकि परत जेहि चितवत इक बार।"

Question ID : 16794313048

यह किस कवि के द्वारा लिखा गया है?

- Ans
- ☒ 1. भिखारीदास
 - ☒ 2. मतिराम
 - ☒ 3. रसलीन
 - ☒ 4. बिहारी

Q.6 "कुसुम कानन अंचल में मंद पवन प्रेरित सौरभ साकार।" यह पंक्ति किस कवि की है?

Question ID : 16794313045

- Ans
- ☒ 1. जयशंकर प्रसाद
 - ☒ 2. अज्ञेय
 - ☒ 3. रामनरेश त्रिपाठी
 - ☒ 4. सुमित्रानंदन पंत

Q.7 कौन सी पहाड़ी बोली नहीं है?

Question ID : 16794313064

- Ans
- ☒ 1. नेपाली
 - ☒ 2. बुन्देली
 - ☒ 3. गढ़वाली
 - ☒ 4. कुमायूनी

Q.8 कौन सा उपन्यास भगवतीचरण वर्मा का है?

Question ID : 16794313058

- Ans
- ☒ 1. यही सच है
 - ☒ 2. ममता
 - ☒ 3. सबहिं नचावत राम गोसाइ
 - ☒ 4. अकेली

Q.9 शेखर एक जीवनी के प्रथम भाग में कौन सा खंड नहीं है?

Question ID : 16794313059

- Ans
- ☒ 1. प्रकृति और पुरुष
 - ☒ 2. बन्धन और जिज्ञासा
 - ☒ 3. बीज और अंकुर
 - ☒ 4. उषा और ईश्वर

Q.10 कौन सा हरिऔध का नहीं है?

Question ID : 16794313050

- Ans
- ☐ 1. चोखेचौपदे
 - ☐ 2. रसकलश
 - ☐ 3. प्रियप्रवास
 - ☒ 4. यशोधरा

Q.11 'हरी घाटी' किसका यात्रावृत्त है?

Question ID : 16794313057

- Ans
- ☒ 1. डा. रघुवंश
 - ☐ 2. मोहन राकेश
 - ☐ 3. डा. नगेन्द्र
 - ☐ 4. यशपाल

Q.12 राहुल संस्कृतायन ने हम्मीर रासो को किस कवि की रचना माना है?

Question ID : 16794313047

- Ans
- ☐ 1. नल्ह
 - ☐ 2. हम्मीर
 - ☐ 3. रज्जब
 - ☒ 4. जज्जल

Q.13 इसमें से भूषण का लक्षणा-ग्रंथ कौन सा है?

Question ID : 16794313049

- Ans
- ☐ 1. पद्माभरण
 - ☒ 2. शिवराज भूषण
 - ☐ 3. जगत-विनोद
 - ☐ 4. रसिक प्रिया

Q.14 'ठेले पर हिमालय' किसके द्वारा रचित है?

Question ID : 16794313056

- Ans
- ☒ 1. धर्मवीर भारती
 - ☐ 2. जैनेन्द्र
 - ☐ 3. विवेकीराय
 - ☐ 4. भारतेन्दु हरिश्चन्द्र

Q.15 किस धारा में हिन्दी को भारत की राजभाषा घोषित किया गया है?

Question ID : 16794313063

- Ans
- ☒ 1. धारा 343
 - ☐ 2. धारा 349
 - ☐ 3. धारा 345
 - ☐ 4. धारा 347

Q.16 कौन सा उपेन्द्र नाथ अशक का नाटक नहीं है?

Question ID : 16794313055

- Ans
- ☐ 1. अंजो दीदी
 - ☐ 2. कैद

☒ 3. जय-पराजय

☒ 4. कोणार्क

Q.17 शिवराम पाण्डेय का संस्मरण कौन सा है?

Question ID : 16794313051

Ans ☒ 1. झलक

☒ 2.

मदनमोहन के संबंध में कुछ पुरानी स्मृतियाँ

☒ 3. मेरी जीवन कथा के कुछ पृष्ठ

☒ 4. बोलती प्रतिमा

Q.18 'जानवर और जानवर' किसका कहानी-संकलन है?

Question ID : 16794313054

Ans ☒ 1. मोहन राकेश

☒ 2. कमलेश्वर

☒ 3. जैनेन्द्र

☒ 4. राजेन्द्र यादव

Q.19 कन्नौजी किस उपभाषा वर्ग की बोली है?

Question ID : 16794313062

Ans ☒ 1. डोगरी की

☒ 2. पश्चिमी हिन्दी की

☒ 3. मेवाती की

☒ 4. पूर्वी हिन्दी की

Q.20 सावित्री किस नाटक की नायिका है?

Question ID : 16794313060

Ans ☒ 1. लहरों के राजहंस

☒ 2. चंद्रगुप्त

☒ 3. कफरू

☒ 4. आधे-अधूरे

Section : Subject Related

Q.1 'इधर, उधर, जिधर' किस प्रकार के अव्यय है?

Question ID : 16794313071

Ans ☒ 1. स्थिति वाचक

☒ 2. काल वाचक

☒ 3. स्थान वाचक

☒ 4. दिशा वाचक

Q.2 शुद्ध शब्द छाँटिए।

Question ID : 16794313074

Ans ☒ 1. शुद्धिकरण

- ☐ 2. विसन्न
- ☒ 3. सुषुप्ति
- ☐ 4. विभिषिका

Q.3 बालकृष्ण भट्ट किस पत्रिका के संपादक थे?

Question ID : 16794313067

- Ans
- ☒ 1. हिन्दी प्रदीप
 - ☐ 2. राष्ट्र प्रदीप
 - ☐ 3. भाषा प्रदीप
 - ☐ 4. प्रेम प्रदीप

Q.4 मूर्धन्य, अल्पप्राण, सघोष और अनुनासिक वर्ण कौन सा है?

Question ID : 16794313072

- Ans
- ☐ 1. न
 - ☒ 2. ण
 - ☐ 3. त्र
 - ☐ 4. ड

Q.5 'भोजपुरी' किस भाषा की बोली है?

Question ID : 16794313068

- Ans
- ☐ 1. डोगरी
 - ☒ 2. बिहारी
 - ☐ 3. गुजराती
 - ☐ 4. डिंगल

Q.6 अर्थ के आधार पर संयुक्त क्रिया के भेद हैं:

Question ID : 16794313082

- Ans
- ☒ 1. 11
 - ☐ 2. 9
 - ☐ 3. 12
 - ☐ 4. 10

Q.7 इनमें से भाववाचक संज्ञा नहीं है?

Question ID : 16794313075

- Ans
- ☐ 1. वाहवाही
 - ☒ 2. निकट
 - ☐ 3. कठोरता
 - ☐ 4. अपनापन

Q.8 कौन सी मागधी अपभ्रंश से विकसित आधुनिक भाषा है?

Question ID : 16794313065

- Ans
- ☐ 1. लहंदा
 - ☐ 2. गुजराती
 - ☐ 3. मराठी
 - ☒ 4. असमिया

Q.9 संस्कृत से बहुत बड़ी विरासत किस भाषा ने ली?

Question ID : 16794313069

- Ans
- ☒ 1. हिन्दी
 - ☐ 2. उड़िया
 - ☐ 3. गुजराती
 - ☐ 4. मराठी

Q.10 संज्ञा के जिस रूप से किसी वस्तु के अलग होने का भाव प्रकट होता है, उसे क्या कहते हैं?

Question ID : 16794313077

- Ans
- ☐ 1. संबंध कारक
 - ☐ 2. संप्रदान कारक
 - ☒ 3. अपादान कारक
 - ☐ 4. करण कारक

Q.11 माली आवत देखकर, कलियन करी पुकार फूली-फूली चुनि लई, काल्हि हमारी बारा। इसमें अलंकार है:

Question ID : 16794313070

- Ans
- ☐ 1. दृष्टान्त
 - ☐ 2. सन्देह
 - ☐ 3. श्लेष
 - ☒ 4. अन्योक्ति

Q.12 तत्सम शब्द छाँटिए।

Question ID : 16794313076

- Ans
- ☒ 1. अभिव्यक्ति
 - ☐ 2. झंझट
 - ☐ 3. ठिलिया
 - ☐ 4. उलझन

Q.13 राम कहता है कि, "मैं मोहन की पुस्तकें पढ़ सकता हूँ। इसमें कौन सा पद-संज्ञा, जातिवाचक, स्त्रीलिंग, बहुवचन तथा कर्मकारक आदि पदान्वय में है?

Question ID : 16794313083

- Ans
- ☒ 1. पुस्तकें
 - ☐ 2. पढ़ना
 - ☐ 3. राम
 - ☐ 4. मोहन

Q.14 कौन सा वाच्य में प्रयोग का भेद नहीं है?

Question ID : 16794313080

- Ans
- ☐ 1. कर्मणी प्रयोग
 - ☐ 2. कर्तरि
 - ☒ 3. सार्वनामिक
 - ☐ 4. भावे प्रयोग

Q.15 पितृण - किस प्रकार की संधि है?

Question ID : 16794313073

- Ans
- ☒ 1. दीर्घ
 - ☐ 2. यण

✗ 3. गुण

✗ 4. वृद्धि

Q.16 उर्दू किस भाषा का शब्द है?

Question ID : 16794313066

Ans ✗ 1. मराठी

✓ 2. तुर्की

✗ 3. फारसी

✗ 4. अरबी

Q.17 जिन व्यंजनों का उच्चारण करते समय जीभ झटके से ऊपर जाती है, उसे क्या कहते हैं?

Question ID : 16794313084

Ans ✗ 1. लुंठित

✗ 2. पार्श्विक

✗ 3. स्पर्श

✓ 4. उत्क्षिप्त

Q.18 हेतुहेतुमद भविष्य का वाक्य है:

Question ID : 16794313081

Ans ✓ 1. वह आए तो मैं जाऊँ।

✗ 2. मैं पढ़ूँगा और वह भी पढ़ेगा।

✗ 3. संभवतः रमेश कल आएगा।

✗ 4. वह कल घर पर नहीं होगा।

Q.19 बात का नामधातु क्रिया होगा:

Question ID : 16794313079

Ans ✗ 1. बताना

✓ 2. बतियाना

✗ 3. बातूनी

✗ 4. बतलाना

Q.20 मध्यम पुरुष, बहुवचन, सर्वनाम का संप्रदान कारक बहुवचन रूप होगा:

Question ID : 16794313078

Ans ✓ 1. तुम लोगों को

✗ 2. तुझे

✗ 3. तुझमें

✗ 4. तुम में

Section : Subject Related

Q.1 इनमें से दीर्घ स्वर संधि नहीं है?

Question ID : 16794313085

Ans ✗ 1. गिरीन्द्र

✓ 2. महेन्द्र

✗ 3. महीन्द्र

✗ 4. पृथ्वीश

Q.2 कौन सा तत्सम शब्द नहीं है?

Question ID : 16794313086

Ans ✗ 1. विसर्जन

✗ 2. दातव्य

✗ 3. रज्जु

✓ 4. प्यास

Comprehension:

निम्नलिखित कविता को पढ़िए और दिये गए प्रश्नों के सही उत्तर दीजिए।

झुरमुट में दुपहरिया कुम्हलायी
खेतों पर अन्हियारी घिर आयी
पश्चिम की सुनहरियाँ धुँधरायी
टीलों पर, तालों पर
इक्के-दुक्के अपने घर पर जाने वालों पर
धीरे-धीरे उतरी शाम।

SubQuestion No : 3

Q.3 इसका उपयुक्त शीर्षक है:

Question ID : 16794313090

Ans ✗ 1. गाँव की रात

✓ 2. गाँव की शाम

✗ 3. खेतों की रात

✗ 4. शहर की रात

Comprehension:

निम्नलिखित कविता को पढ़िए और दिये गए प्रश्नों के सही उत्तर दीजिए।

झुरमुट में दुपहरिया कुम्हलायी
खेतों पर अन्हियारी घिर आयी
पश्चिम की सुनहरियाँ धुँधरायी
टीलों पर, तालों पर
इक्के-दुक्के अपने घर पर जाने वालों पर
धीरे-धीरे उतरी शाम।

SubQuestion No : 4

Q.4 इसमें किस प्रकार की शब्दावली का प्रयोग हुआ है?

Question ID : 16794313089

- Ans
- ☒ 1. तत्सम
 - ☒ 2. खिचड़ी
 - ☒ 3. लोक
 - ☒ 4. विदेशी

Comprehension:

निम्नलिखित कविता को पढ़िए और दिये गए प्रश्नों के सही उत्तर दीजिए।

झुरमुट में दुपहरिया कुम्हलायी
खेतों पर अन्हियारी घिर आयी
पश्चिम की सुनहरियाँ धुँधरायी
टीलों पर, तालों पर
इक्के-दुक्के अपने घर पर जाने वालों पर
धीरे-धीरे उतरी शाम।

SubQuestion No : 5

Q.5 इन पंक्तियों में किस प्रकार के चित्र का वर्णन है?

Question ID : 16794313088

- Ans
- ☒ 1. शहर का कोलाहल
 - ☒ 2. गाँव के सवेरे
 - ☒ 3. शहर की व्यस्तता
 - ☒ 4. गाँव की संध्या

Comprehension:

निम्नलिखित गद्यांश को पढ़िए और दिये गए प्रश्नों के सही उत्तर दीजिए।

यूरोप के देशों की जो इतनी उन्नति है तथा अमेरिका, जापान आदि जो इस समय मनुष्य जाति के सिरताज हो रहे हैं, इसका यही कारण है कि उन देशों में लोग अपने भरोसे पर रहना या कोई काम करना जानते हैं। हिन्दुस्तान का जो सत्यानाश है, इसका यही कारण है कि यहाँ के लोग अपने भरोसे पर रहना भूल गये हैं। अपने भरोसे पर रहना जब हमारा गुण नहीं तब क्यों कर संभव है जिसमें प्रमुख शक्ति का अवकाश मिले।

SubQuestion No : 6

Q.6 कौन मनुष्य जाति के सिरताज हैं?

Question ID : 16794313094

- Ans
- ☒ 1. अमेरिका, जापान के लोग
 - ☒ 2. हिन्दुस्तान के लोग
 - ☒ 3. पाकिस्तान के लोग
 - ☒ 4. नेता लोग

Comprehension:

निम्नलिखित गद्यांश को पढ़िए और दिये गए प्रश्नों के सही उत्तर दीजिए।

यूरोप के देशों की जो इतनी उन्नति है तथा अमेरिका, जापान आदि जो इस समय मनुष्य जाति के सिरताज हो रहे हैं, इसका यही कारण है कि उन देशों में लोग अपने भरोसे पर रहना या कोई काम करना जानते हैं। हिन्दुस्तान का जो सत्यानाश है, इसका यही कारण है कि यहाँ के लोग अपने भरोसे पर रहना भूल गये हैं। अपने भरोसे पर रहना जब हमारा गुण नहीं तब क्यों कर संभव है जिसमें प्रमुख शक्ति का अवकाश मिले।

SubQuestion No : 7

Q.7 कुछ पाश्चात्य देशों की उन्नति होने की वजह क्या है?

Question ID : 16794313092

Ans  1.

अपने भरोसे पर रहना और काम करने की कला रखना।

 2.

अपने भरोसे रहना और दूसरों की चिंता न करना।

 3.

अपने भरोसे के अनुसार काम न करना।

 4.

अपने पास अधिक धन होने के कारण।

Comprehension:


निम्नलिखित गद्यांश को पढ़िए और दिये गए प्रश्नों के सही उत्तर दीजिए।

यूरोप के देशों की जो इतनी उन्नति है तथा अमेरिका, जापान आदि जो इस समय मनुष्य जाति के सिरताज हो रहे हैं, इसका यही कारण है कि उन देशों में लोग अपने भरोसे पर रहना या कोई काम करना जानते हैं। हिन्दुस्तान का जो सत्यानाश है, इसका यही कारण है कि यहाँ के लोग अपने भरोसे पर रहना भूल गये हैं। अपने भरोसे पर रहना जब हमारा गुण नहीं तब क्यों कर संभव है जिसमें प्रमुख शक्ति का अवकाश मिले।

SubQuestion No : 8

Q.8 हिन्दुस्तान की उन्नति न होने का कारण है:

Question ID : 16794313093

Ans  1. ये लोग अपने भरोसे पर रहना भूल चुके हैं।

 2.

ये लोग काम को अच्छी तरह करते हैं।

 3.

ये लोग अपने बलबूते पर काम नहीं करते हैं।

✗ 4.

ये लोग यूरोप से भी ज्यादा जानी और परिश्रमी हैं।

Comprehension:

निम्नलिखित गद्यांश को पढ़िए और दिये गए प्रश्नों के सही उत्तर दीजिए।

यूरोप के देशों की जो इतनी उन्नति है तथा अमेरिका, जापान आदि जो इस समय मनुष्य जाति के सिरताज हो रहे हैं, इसका यही कारण है कि उन देशों में लोग अपने भरोसे पर रहना या कोई काम करना जानते हैं। हिन्दुस्तान का जो सत्यानाश है, इसका यही कारण है कि यहाँ के लोग अपने भरोसे पर रहना भूल गये हैं। अपने भरोसे पर रहना जब हमारा गुण नहीं तब क्यों कर संभव है जिसमें प्रमुख शक्ति का अवकाश मिले।

SubQuestion No : 9

Q.9 हम लोगों में प्रभुत्व शक्ति को अवकाश क्यों नहीं मिलता?

Question ID : 16794313096

Ans

✗ 1. क्योंकि हम अपना सर्वनाश करते हैं।

✗ 2. क्योंकि हमारे देश की उन्नति हो चुकी है।

✓ 3.

क्योंकि अपने भरोसे रहना हमारा गुण नहीं है।

✗ 4. क्योंकि हम अपने भरोसे पर काम करते हैं।

Comprehension:

निम्नलिखित गद्यांश को पढ़िए और दिये गए प्रश्नों के सही उत्तर दीजिए।

यूरोप के देशों की जो इतनी उन्नति है तथा अमेरिका, जापान आदि जो इस समय मनुष्य जाति के सिरताज हो रहे हैं, इसका यही कारण है कि उन देशों में लोग अपने भरोसे पर रहना या कोई काम करना जानते हैं। हिन्दुस्तान का जो सत्यानाश है, इसका यही कारण है कि यहाँ के लोग अपने भरोसे पर रहना भूल गये हैं। अपने भरोसे पर रहना जब हमारा गुण नहीं तब क्यों कर संभव है जिसमें प्रमुख शक्ति का अवकाश मिले।

SubQuestion No : 10

Q.10 मनुष्य जाति के सिरताज का तात्पर्य क्या है?

Question ID : 16794313095

Ans

✗ 1. समग्र मनुष्य जाति के न्यून

✗ 2. देशों में ताज पहनने वाला

✗ 3. जातियों में श्रेष्ठ कहने वाला

✓ 4. समग्र मनुष्य जाति में विकसित

Q.11 नीचे दिये गए विकल्पों में से एक विकल्प के साथ वाक्य को पूर्ण करें।

Question ID : 16794313103

पाठन को एक _____ के रूप में परिभाषित किया जा सकता है।

Ans ✓ 1.

कूटानुवाद (डीकोडिंग) प्रतीकों की जटिल संज्ञानात्मक प्रक्रिया

✗ 2.

निर्धारित अपेक्षाओं के साथ साथ दोहरी कार्य प्रक्रिया

✗ 3.

दिये गए पाठ की एकाधिक कार्यप्रणाली प्रक्रिया

✗ 4.

दिये गए प्रतीकों की सरल समझ-बूझ प्रक्रिया

Q.12 "शैक्षणिक सामग्री ज्ञान" शब्द पहली बार किसने प्रस्तुत किया?

Question ID : 16794313102

Ans ✗ 1. टॉलमैन

✗ 2. वाइगाट्स्की

✓ 3. ली शुलमैन

✗ 4. गार्डनर

Q.13 अनुभवजन्य ज्ञान के मूल स्रोत में से एक _____ है।

Question ID : 16794313105

Ans ✗ 1. हमारा मन

✓ 2. हमारी इंद्रियाँ

✗ 3. हमारी प्रतिक्रियाएँ

✗ 4. हमारे कार्य

Q.14 नीचे दिये गए विकल्पों में से सही उत्तर चुनें।

Question ID : 16794313101

इस विश्वास के साथ अपने परिवार के एक सदस्य की हत्या कर देना ना कि पीड़ित ने परिवार को निराश किया है और परिवार को शर्मिंदा किया है, क्या कहलाता है?

Ans ✓ 1. सम्मान हत्या

✗ 2. दहेज के कारण मृत्यु

✗ 3. गुप्त हत्या

✗ 4. पुलिस हिरासत में मृत्यु

Q.15 वैज्ञानिक विधि एक प्रक्रिया का पालन करती है। पहचानें कि निम्नलिखित में से कौन सा विकल्प वैज्ञानिक प्रक्रिया का भाग नहीं है।

Question ID : 16794313100

Ans ✗ 1. परिकल्पना करना

✗ 2. डेटा एकत्रित करना

✓ 3. समस्या को बढ़ाना

✗ 4. समस्या को पहचानना

Q.16 इनमें से क्या कभी-कभार सीखने को प्रभावित करता है?

Question ID : 16794313099

Ans

- ☒ 1. शिक्षार्थी की सांस्कृतिक पृष्ठभूमि
- ☒ 2. शिक्षार्थी की क्षमता
- ☒ 3. शिक्षार्थी का सामाजिक व्यवहार
- ☒ 4. शिक्षार्थी की वृद्धि

Q.17 कथन पूरा करने के लिए सर्वश्रेष्ठ विकल्प चुनें।

Question ID : 16794313104

शोध के अनुसार "संगीत चलते रहने के दौरान प्रमत्तिष्क बल्कुट के सभी भाग सक्रिय रहते हैं।" इसलिए हम कह सकते हैं कि _____।

Ans

- ☒ 1. कला के माध्यम से सामूहिक कार्य सीमित हो जाता है
- ☒ 2. कला के माध्यम से स्वतंत्र शिक्षा प्राप्त नहीं की जा सकती है
- ☒ 3. कला के माध्यम से संज्ञानात्मक उद्दीपन को बढ़ाया जाता है
- ☒ 4. कला केवल सौंदर्य उद्दीपन विकसित करती है

Q.18 शैक्षणिक मनोविज्ञान एक ऐसी शाखा है जो _____ के व्यवहार को समझने से संबंधित है।

Question ID : 16794313097

Ans

- ☒ 1. माता-पिताओं
- ☒ 2. कर्मचारियों
- ☒ 3. प्रबंधकों
- ☒ 4. छात्रों

Q.19 सर्वाधिक उपयुक्त विकल्प चुनें।

Question ID : 16794313106

समावेशी तब अधिक प्रभावी होते हैं जब _____।

Ans

- ☒ 1. इसमें विशेष शिक्षाविद् होते हैं
- ☒ 2. इसमें समावेशी दर्शन होता है
- ☒ 3. इसके शिक्षक उपयुक्त रूप से सक्षम होते हैं
- ☒ 4. इसमें परामर्शदाता होते हैं

Q.20 संग्रहालयों में जाने से, टी.वी. देखने से या पत्रिकाओं को पढ़ने से प्राप्त ज्ञान में किस प्रकार की शिक्षा सम्मिलित है?

Question ID : 16794313098

Ans

- ☒ 1. दूरस्थ शिक्षा
- ☒ 2. औपचारिक शिक्षा
- ☒ 3. गैर-औपचारिक शिक्षा
- ☒ 4. अनौपचारिक शिक्षा

DSSSB AUG 2018

Participant ID:	
Participant Name:	HaryanaJobs.in
Test Center Name:	
Test Date:	28/08/2018
Test Time:	8:30 AM - 10:30 AM
Subject:	TGT HINDI FEMALE

Section : Mental Ability

Q.1 दिये गए विकल्पों में से विषम संख्यात्मक युग्म ज्ञात करें।

Question ID : 7230533181

- Ans
- ☒ 1. 4 : 65
 - ☒ 2. 3 : 28
 - ☒ 3. 9 : 729
 - ☒ 4. 7 : 344

Q.2 निम्नलिखित श्रृंखला में आगामी पद क्या होगा?

Question ID : 7230533183

K2, M4, O6, Q8, S10, _____

- Ans
- ☒ 1. U12
 - ☒ 2. T11
 - ☒ 3. U8
 - ☒ 4. T12

Q.3 कुत्तों और बत्तखों के एक समूह में, टांगों की संख्या, सिरों की संख्या के दोगुने से 10 अधिक है। तो दिये गए विकल्पों में से कुत्तों की सही संख्या क्या होगी?

Question ID : 7230533178

- Ans
- ☒ 1. 10
 - ☒ 2. 7
 - ☒ 3. 12
 - ☒ 4. 5

Q.4 श्वेता, राम्या की बहन है। राम्या के पिता की बहन का संबंध श्वेता के साथ किस रूप में है?

Question ID : 7230533176

- Ans
- ☒ 1. चचेरी बहन
 - ☒ 2. मामी/चाची/मौसी/बुआ/फूफी/काकी
 - ☒ 3. भतीजी/भांजी
 - ☒ 4. बहन

Q.5 एक दर्पण सदा क्या करता है?

Question ID : 7230533174

सही विकल्प का चयन करें।

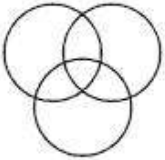
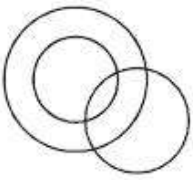
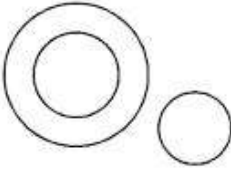

Ans

- ☒ 1. विकृत करता है
- ☒ 2. परावर्तित करता है
- ☒ 3. सत्य उद्घाटित करता है
- ☒ 4. प्रतिकर्षित करता है

Q.6 निम्नलिखित समुच्चय (सेट) "फल, अंगूर, जल" के लिए वेन आरेख चुनें।

Question ID : 7230533175

Ans

- ☒ 1. 
- ☒ 2. 
- ☒ 3. 
- ☒ 4. 

Q.7 यदि \$ का अर्थ + है, # का अर्थ - है, @ का अर्थ × है और + का अर्थ ÷ है, तो निम्नलिखित का मान क्या होगा?

Question ID : 7230533177

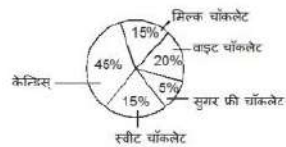
10\$6@3#64+8?

Ans

- ☒ 1. 16
- ☒ 2. 24
- ☒ 3. 18
- ☒ 4. 20

Q.8 निम्नलिखित पाई लेखाचित्र (चार्ट) "LMN" कंपनी द्वारा चॉकलेट के उत्पादन के संबंध में जानकारी दर्शाता है। सभी उत्पादों की बिक्री द्वारा प्राप्त राजस्व \$ 12,400 है।

Question ID : 7230533169



शर्करायुक्त (स्वीट) चॉकलेट की बिक्री द्वारा प्राप्त राजस्व कितना है?

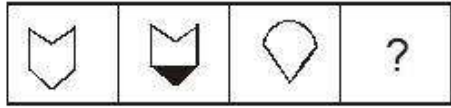
Ans

- ☒ 1. \$ 1,860
- ☒ 2. \$ 930
- ☒ 3. \$ 465
- ☒ 4. \$ 7,440

Q.9

श्रृंखला में अगली आकृति कौन सी होगी?

Question ID : 7230533168



Ans

- ☒ 1.
- ☒ 2.
- ☒ 3.
- ☒ 4.

Q.10 दिये गए विकल्पों में से शब्दों के विषम युग्म का चयन करें।

Question ID : 7230533180

Ans

- ☒ 1. Spanner : Grip
- ☒ 2. Axe : Chop
- ☒ 3. Spoon : Feed
- ☒ 4. Gun : Cut

Q.11 पिता और उसके पुत्र की वर्तमान आयु का योग 60 वर्ष है। दो वर्ष पूर्व पिता की आयु पुत्र की आयु की 3 गुना थी। आठ वर्ष पश्चात पुत्र की आयु क्या होगी? दिये गए विकल्पों में से ज्ञात करें।

Question ID : 7230533179

Ans

- ☒ 1. 24
- ☒ 2. 16
- ☒ 3. 26
- ☒ 4. 8

Q.12 समांतर श्रेणी की निम्नलिखित श्रृंखला में 15वीं संख्या क्या होगी?

Question ID : 7230533182

3, 8, 13, 18, 23, ____

Ans

- ☒ 1. 78
- ☒ 2. 63
- ☒ 3. 73
- ☒ 4. 68

Q.13 मीटर, दूरी से उसी प्रकार संबंधित है जिस प्रकार सेकंड _____ से संबंधित है।

Question ID : 7230533164

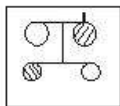
दिये गए विकल्पों में से पहचानें।

Ans

- ☒ 1. भार
- ☒ 2. बल
- ☒ 3. समय
- ☒ 4. संपत्ति

Q.14 निम्नलिखित आकृति के लिए जल प्रतिबिंब का चयन करें।

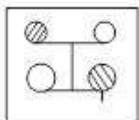
Question ID : 7230533167



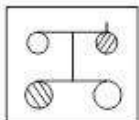
A B

Ans

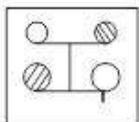
☒ 1.



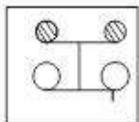
☒ 2.



☒ 3.



☒ 4.



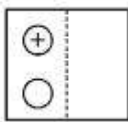
Q.15 जब पारदर्शी पत्रक (शीट) को बिंदुदार रेखा पर मोड़ा जाता है तो आकृति कैसी प्रतीत होगी?

Question ID : 7230533173

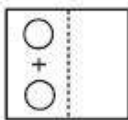


Ans

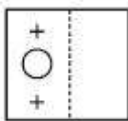
☒ 1.



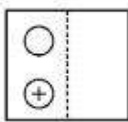
☒ 2.



☒ 3.



☒ 4.



Q.16

Question ID : 7230533170

जात करें कि किस विकल्प में दी गई आकृति स्थापित (एम्बेडेड) है?

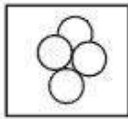


Ans

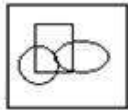
✗ 1.



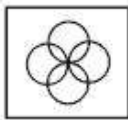
✗ 2.



✗ 3.



✓ 4.



Q.17 विकल्पों में से विषम आकृति का चयन करें।

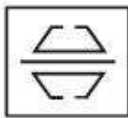
Question ID : 7230533166

Ans

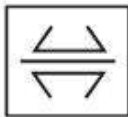
✗ 1.



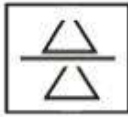
✗ 2.



✗ 3.

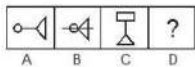


✓ 4.



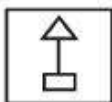
Q.18 D के लिए उस उपयुक्त आकृति का चयन करें जो निचे दिए गए समुच्चय (सेट) का यथार्थतः प्रतिनिधित्व करता है।

Question ID : 7230533165

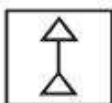


Ans

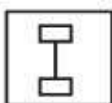
✗ 1.



✗ 2.



✗ 3.



✓ 4.



Q.19 निम्नलिखित जानकारी को सावधानीपूर्वक पढ़ें और नीचे दिये गए प्रश्न का उत्तर दें:
एक शोध संगठन में वैज्ञानिक की भर्ती के मापदंड निम्नलिखित हैं। अभ्यर्थी -

Question ID : 7230533171

(1) न्यूनतम 65% अंकों के साथ गणित/भौतिकी/रसायन विज्ञान विषय में स्नातकोत्तर होना चाहिए

(2) 01-01-2018 को 26 वर्ष से कम और 35 वर्ष से अधिक नहीं होना चाहिए

(3) के पास 50% से अधिक अंकों के साथ पोस्ट-डॉक्टोरल उपाधि होनी चाहिए

(4) को उपरोक्त क्षेत्रों में कम से कम 3 वर्ष का कार्यानुभव होना चाहिए

(5) को एक वर्ष के लिए परीक्षा (प्रोबेशन) अवधि के लिए तैयार होना होना चाहिए

यदि अभ्यर्थी (3) के अतिरिक्त उपरोक्त सभी मापदंडों को पूर्ण करता है तो उसे परियोजना वैज्ञानिक के रूप में निर्दिष्ट किया जा सकता है।

यदि अभ्यर्थी (3) और (4) के अतिरिक्त उपरोक्त सभी मापदंडों को पूर्ण करता है तो उसे कनिष्ठ (जूनियर) वैज्ञानिक के रूप में निर्दिष्ट किया जा सकता है।

यदि अभ्यर्थी प्रासंगिक क्षेत्रों में 7 वर्षों के अनुभव के साथ उपरोक्त सभी मापदंडों को पूर्ण करता है तो उसे वरिष्ठ वैज्ञानिक के रूप में निर्दिष्ट किया जा सकता है। यदि अभ्यर्थी प्रासंगिक क्षेत्र में 12 वर्षों के अनुभव के साथ उपरोक्त सभी मापदंडों को पूर्ण करता है तो उसे मुख्य वैज्ञानिक के रूप में निर्दिष्ट किया जा सकता है।

मोहन ने विशेषज्ञता के क्षेत्र में 10 वर्षों के अनुभव के साथ 62% अंक के साथ भौतिकी में पोस्ट-डॉक्टोरल उपाधि पूर्ण की है। उसने विशेषज्ञता के रूप में भौतिकी में अपनी स्नातकोत्तर उपाधि (मास्टर्स डिग्री) पूर्ण की थी और स्नातकोत्तर में 78% अंक और स्नातक में 65% अंक प्राप्त किए थे। वह एक वर्ष के लिए परीक्षा (प्रोबेशन) में भी सम्मिलित होने के लिए तैयार है।

मोहन को किस पद के लिए निर्दिष्ट किया जा सकता है?

Ans

✗ 1. वैज्ञानिक

✗ 2. वरिष्ठ वैज्ञानिक

✗ 3. मुख्य वैज्ञानिक

✓ 4. डेटा अपर्याप्त है

Q.20 आप एक पार्क में क्रिकेट खेल रहे हैं। जब आप गेंद को मारते हैं, तो यह एक निकटवर्ती घर की छिड़की के फलक के कांच से टकराती है और कांच को तोड़ देती है। आप क्या करेंगे?

Question ID : 7230533172

Ans

✗ 1. चुपके से अपनी गेंद वापस ले लेंगे

✗ 2.

गृह स्वामी से घर खाली करने के लिए कहेंगे

✓ 3.

गृह स्वामी से क्षमा मांगेंगे और कांच को प्रतिस्थापित करने के लिए अनिवार्य-भुगतान (कंटीड्यूशन) करेंगे

✗ 4.

गृह स्वामी से अपनी गेंद की वापसी की मांग करेंगे

Section : General Awareness

Q.1 हॉकी के खेल में, जब नियमों का उल्लंघन संभावित गोल को रोकता है, तो नियमों का उल्लंघन करने वाले को _____ दिया जाता है।

Question ID : 7230533191

Ans

✗ 1. पेनाल्टी कॉर्नर

✗ 2. फ्री हिट

✓ 3. पेनाल्टी स्ट्रोक

✗ 4. लाल कार्ड

Q.2 अलेक्जेंडर द ग्रेट का आगमन किस राज्य से हुआ था?

Question ID : 7230533185

Ans ✗ 1. पर्शिया

✗ 2. स्पार्टा

✓ 3. मैसेडोनिया

✗ 4. एथेंस

Q.3 _____ अरुणाचल प्रदेश को तिब्बत की राजधानी ल्हासा से जोड़ता है।

Question ID : 7230533194

Ans ✗ 1. चांग-ला

✗ 2. दीफू दर्रा

✓ 3. बोमडिला

✗ 4. दीहांग दर्रा

Q.4 2017 के लिए विश्व बैंक के आंकड़ों के अनुसार भारत सकल घरेलू उत्पाद (जी.डी.पी.) के मामले में विश्व की _____ अर्थव्यवस्था बन गया।

Question ID : 7230533196

Ans ✓ 1. छठी सबसे बड़ी

✗ 2. पाँचवीं सबसे बड़ी

✗ 3. सातवीं सबसे बड़ी

✗ 4. आठवीं सबसे बड़ी

Q.5 अखिल भारतीय आयुर्विज्ञान संस्थान (AIIMS) की स्थापना 1958 में _____ हुई थी।

Question ID : 7230533202

Ans ✓ 1. संसद के एक अधिनियम द्वारा

✗ 2. एक बहुराष्ट्रीय निगम के रूप में

✗ 3. एक सार्वजनिक लिमिटेड कंपनी के रूप में

✗ 4. सार्वजनिक-निजी साझेदारी के अंतर्गत

Q.6 _____ सर्वाधिक सामान्य रक्त प्रकार है।

Question ID : 7230533199

Ans ✗ 1. B पॉजिटिव

✗ 2. O नेगेटिव

✓ 3. O पॉजिटिव

✗ 4. AB पॉजिटिव

Q.7 प्रथम लोक सभा का प्रथम सत्र कब प्रारंभ हुआ था?

Question ID : 7230533187

Ans

- ☒ 1. 25 अक्टूबर 1951 को
- ☒ 2. 01 जनवरी 1952 को
- ☒ 3. 13 मई 1952 को
- ☒ 4. 21 फ़रवरी 1952 को

Q.8 अनुच्छेद 85 (1) के संदर्भ में, राष्ट्रपति को एक सत्र में अपनी पिछली बैठक और आगामी सत्र में पहली बैठक की तिथि के बीच _____ के अंदर संसद के प्रत्येक सदन को बुलाया जाना चाहिए।

Question ID : 7230533188

Ans

- ☒ 1. छह महीने
- ☒ 2. साढ़े चार महीने
- ☒ 3. चार महीने
- ☒ 4. पाँच महीने

Q.9 भगोरिया त्योहार _____ राज्य में एक लोकप्रिय त्योहार है।

Question ID : 7230533193

Ans

- ☒ 1. असम
- ☒ 2. महाराष्ट्र
- ☒ 3. नागालैंड
- ☒ 4. मध्य प्रदेश

Q.10 भारत में 'राष्ट्रीय वायु गुणवत्ता सूचकांक' (ए.क्यू.आई.) का आरंभ _____ में किया गया था।

Question ID : 7230533200

Ans

- ☒ 1. 2016
- ☒ 2. 2013
- ☒ 3. 2014
- ☒ 4. 2015

Q.11 आई.बी.बी.आई. (IBBI) का अर्थ 'इंस्टीट्यूट ऑफ बैंकरप्डसी _____ ऑफ़ इंडिया' है।

Question ID : 7230533197

Ans

- ☒ 1. बैंक
- ☒ 2. बाई-लॉज़
- ☒ 3. बैंच
- ☒ 4. बोर्ड

Q.12 _____ पलानी पहाड़ियों में स्थित एक पहाड़ी पर्यटनस्थल है।

Question ID : 7230533195

Ans

- ☒ 1. मुन्नार
- ☒ 2. कूर्ग
- ☒ 3. कोडईकनाल
- ☒ 4. ऊटी

Q.13 निम्नलिखित में से कौन सा संगठन मुख्य रूप से मानवाधिकारों पर केंद्रित है?

Question ID : 7230533203

Ans

- ☒ 1.

सर्वक्षमा अंतरराष्ट्रीय (एमनेस्टी इंटरनेशनल)

✗ 2.

संयुक्त राष्ट्र सुरक्षा परिषद् (यूनाइटेड नेशंस सेक्योरिटी काउंसिल)

✗ 3.

अंतरराष्ट्रीय मानकीकरण संगठन (इंटरनेशनल ऑर्गेनाइजेशन फॉर स्टैंडर्डिजेशन)

✗ 4.

अंतरराष्ट्रीय रेड क्रॉस समिति (इंटरनेशनल कमिटी ऑफ रेड क्रॉस)

Q.14 टी.ओ.पी.एस. (TOPS) का अर्थ '_____ ओलिंपिक पोडियम स्कीम' है।

Question ID : 7230533190

Ans

✗ 1. टेक ओवर

✗ 2. ट्रायल

✓ 3. टार्गेट

✗ 4. टैलेंट

Q.15 निम्नलिखित में से कौन राजीव गांधी के पश्चात् भारतीय राष्ट्रीय कांग्रेस का अध्यक्ष बना?

Question ID : 7230533189

Ans

✗ 1. सीताराम केसरी

✓ 2. पी.वी. नरसिम्हा राव

✗ 3. सोनिया गांधी

✗ 4. मनमोहन सिंह

Q.16 निम्नलिखित में से कौन 2013-2017 के लिए उत्कृष्ट संसदीय पुरस्कार प्राप्तकर्ता नहीं है?

Question ID : 7230533186

Ans

✗ 1. नजमा हेपतुल्ला

✓ 2. सच्चिदानंद हरि साक्षी

✗ 3. दिनेश त्रिवेदी

✗ 4. गुलाम नबी आज़ाद

Q.17 एन.ए.आर.एल (NARL) का अर्थ 'नेशनल _____ रिसर्च लेबोरेटरी' है।

Question ID : 7230533201

Ans

✗ 1. ऐडमिनिस्ट्रेटिव

✗ 2. ऐस्ट्रोलॉजिकल

✓ 3. ऐटमॉस्फेरिक

✗ 4. ऐस्ट्रोनॉमिकल

Q.18 '_____' 1859 में बंगाल में हजारों रैयती (शामीण किसानों के लिए संपूर्ण भारत में प्रयोग किया जाने वाला एक सामान्य आर्थिक शब्द) द्वारा नील के पौधों (इंडिगो प्लांट्स) को विकसित करने से इंकार करने से संबंधित है।

Question ID : 7230533184

Ans

✓ 1. नील विद्रोह

✗ 2. श्वेत विद्रोह





✗ 3. गुलाबी विद्रोह

4. हरित विद्रोह

Q.19 सोलहवीं शताब्दी के आरंभ में सिख धर्म की स्थापना _____ ने की थी।

Question ID : 7230533192




Ans

-  1. गुरु नानक देव
-  2. गुरु राम दास
-  3. गुरु अमर दास
-  4. गुरु अंगद देव

Q.20 एक _____ विद्युत् ऊर्जा को थर्मल ऊर्जा में परिवर्तित कर देता है।

Question ID : 7230533198

Ans

-  1. प्राकृतिक गैस स्टोव
-  2. टोस्टर
-  3. सम्मिश्रक (ब्लेंडर)
-  4. पवन-चक्की (विंडमिल)

Section : Arithmetic Ability

Q.1 एक कक्षा के सेक्शन A और B में विद्यार्थियों की कुल संख्या 110 है। A में विद्यार्थियों की संख्या B के विद्यार्थियों की संख्या से 20% अधिक है। एक परीक्षा में, B के विद्यार्थियों का औसत प्राप्तिक A के विद्यार्थियों के औसत प्राप्तिक से 20% अधिक है। यदि कक्षा के सभी विद्यार्थियों का औसत प्राप्तिक 84 है, तो A के विद्यार्थियों का औसत प्राप्तिक क्या है?

Question ID : 7230533212



Ans

-  1. 78
-  2. 72
-  3. 77
-  4. 75

Q.2 A और B की आयों में 9 : 4 का अनुपात है और उनके व्ययों में 7 : 3 का अनुपात है। यदि B की आय A के व्यय के बराबर हो, तो A और B की बचतों में अनुपात है:

Question ID : 7230533213

Ans

-  1. 3 : 1
-  2. 35 : 16
-  3. 2 : 1
-  4. 33 : 16

Q.3 तीन बर्तनों में, जिनकी धारिताएँ 3, 4 और 5 लीटर हैं, अम्ल और पानी के घोल हैं, जिनमें अम्ल और पानी का अनुपात क्रमशः 2 : 3, 3 : 7, तथा 4 : 11 है। तीनों बर्तनों के घोलों को एक अम्ल बर्तन में उलट दिया जाता है। इस प्रकार प्राप्त घोल में से 180 मिली घोल लेकर उसमें 72 मिली पानी मिलाया जाता है। इस प्रकार प्राप्त अंतिम घोल में अम्ल और पानी का अनुपात है:

Question ID : 7230533214

Ans

-  1. 2 : 7
-  2. 3 : 7
-  3. 2 : 5
-  4. 1 : 3

Q.4 यदि $x = 37^{146} + 64^{243} + 243^{67}$ है, तो x में इकाई का अंक है:

Question ID : 7230533204

Ans

- ✓ 1. 0
 ✗ 2. 4
 ✗ 3. 7
 ✗ 4. 9

Q.5 5% वार्षिक दर से ₹ 64000 की एक राशि पर एक निश्चित अवधि के लिए चक्रवृद्धि ब्याज ₹ 4921 है, जबकि ब्याज अर्धवार्षिक संयोजित है। उसी राशि पर उसी दर से उसी अवधि के लिए चक्रवृद्धि ब्याज कितना होगा, यदि ब्याज वार्षिक संयोजित होता हो?

Question ID : 7230533216

- Ans ✗ 1. ₹ 4890
 ✓ 2. ₹ 4880
 ✗ 3. ₹ 4820
 ✗ 4. ₹ 4860

Q.6 माना की x एक वह बड़ी से बड़ी संख्या है, जिससे जब 1892, 2105 तथा 2531 को भाग दें, तो प्रत्येक दशा में एक समान शेषफल प्राप्त होता है। x और शेषफल का अंतर है:

Question ID : 7230533207

- Ans ✗ 1. 46
 ✗ 2. 23
 ✗ 3. 50
 ✓ 4. 25

Q.7 A, B से 20% कम है जबकि C, D से 20% अधिक है। यदि D, A से 25% कम है, तो निम्नलिखित में से कौन सा सत्य है?

Question ID : 7230533208

- Ans ✗ 1. $25 B = 18 C$
 ✓ 2. $18 B = 25 C$
 ✗ 3. $27 B = 40 C$
 ✗ 4. $40 B = 27 C$

Q.8 जब दो अंकों वाली एक संख्या ab , जहाँ $b > a$ है, को इसके अंकों के योग से गुणा किया जाता है तो संख्या 52 प्राप्त होती है। जब दो अंकों वाली संख्या के अंकों को परस्पर बदलने पर प्राप्त संख्या को उसके अंकों के योग से गुणा किया जाता है तो संख्या 124 प्राप्त होती है। $(14a - 3b)$ का मान है:

Question ID : 7230533205

- Ans ✗ 1. 3
 ✓ 2. 5
 ✗ 3. 11
 ✗ 4. 6

Q.9 एक दुकानदार एक वस्तु को ₹ x में बेचता है। वस्तु के अंकित मूल्य पर $d\%$ की छुट देने के पश्चात यदि वह छुट नहीं देता तो उसे वस्तु के क्रयमूल्य पर $p\%$ का लाभ होता। वस्तु का क्रयमूल्य (₹ में) है:

Question ID : 7230533211

- Ans ✓ 1. $\frac{100^2 x}{(100 - d)(100 + p)}$
 ✗ 2. $\frac{100^2 x}{(100 + d)(100 + p)}$
 ✗ 3. $\frac{100x}{(100 - d)(100 + p)}$
 ✗ 4. $\frac{100x}{(100 + d)(100 + p)}$

Q.10 बेची गई वस्तुओं की संख्या में 10% की वृद्धि होने पर भी, इस प्रकार कुल मिलाकर प्राप्त राजस्व में 10% की कमी हो जाती है। बेची गई प्रत्येक वस्तु के मूल्य में प्रतिशत बदलाव है:

Question ID : 7230533209

Ans

☒ 1. $9\frac{1}{11}\%$, कमी

☒ 2. $18\frac{2}{11}\%$, वृद्धि

☒ 3. $9\frac{1}{11}\%$, वृद्धि

☒ 4. $18\frac{2}{11}\%$, कमी

Q.11 A और B किसी काम को क्रमशः 30 दिन और 45 दिन में पूरा कर सकते हैं। 10 दिन एक साथ काम करने के पश्चात्, B चला गया और फिर A तथा C ने मिलकर शेष काम को अगले 10 दिनों में पूरा कर दिया। उसी काम को C अकेला कितने दिन में पूरा कर सकता है?

Question ID : 7230533219

Ans

☒ 1. 80

☒ 2. 60

☒ 3. 72

☒ 4. 90

Q.12 $3\frac{1}{5} \div 4\frac{1}{2} \text{ of } 5\frac{1}{3} + \left[11 - \left(3 - 1\frac{1}{4} + \frac{5}{8} \right) \right] + 1\frac{29}{120}$ का मान है:

Question ID : 7230533206

Ans

☒ 1. $3\frac{9}{17}$

☒ 2. $28\frac{1}{3}$

☒ 3. $4\frac{11}{17}$

☒ 4. $28\frac{2}{3}$

Q.13 शांत जल में एक नाव की गति धारा की गति का पांच गुना है। यदि नाव को 36 किमी की दूरी धारा के प्रतिकूल जाने में तथा वापस फिर उसी स्थान पर आने में कुल $3\frac{3}{4}$ घंटे लगते हों, तो धारा के अनुकूल जाने में नाव की गति (किमी/घं में) क्या होगी?

Question ID : 7230533217

Ans

☒ 1. 20

☒ 2. 24

☒ 3. 15

☒ 4. 18

Q.14 किसी व्यक्ति ने 20 वस्तुएँ ₹ 2000 में बेचीं और उसे 10% की हानि हुई। वह ₹ 2000 में कितनी वस्तुएँ बेचे कि उसे 20% का लाभ प्राप्त हो?

Question ID : 7230533210

Ans

☒ 1. 15

☒ 2. 16

☒ 3. 18

☒ 4. 12

Q.15

अनिता ने अपनी बचत को स्कीम A तथा B में 2 वर्ष के लिए 2 : 3 के अनुपात में निवेश किया। स्कीम A में चक्रवृद्धि ब्याज मिलता है, जहाँ ब्याज वार्षिक संयोजित है और B में साधारण ब्याज मिलता है। B में वार्षिक ब्याज दर 15% और A में B से ब्याज दर 33 $\frac{1}{3}$ % अधिक है। यदि दोनों से प्राप्त ब्याज में ₹ 1350 का अंतर है, तो A और B में निवेश की गई राशियों में अंतर है:

Question ID : 7230533215

- Ans  1. ₹ 15000
-  2. ₹ 12000
-  3. ₹ 12800
-  4. ₹ 15600





Q.16 3 सेमी ऊँचाई वाले एक खोखले बेलन को पिघलाकर 9 सेमी ऊँचाई वाले एक ठोस बेलन के रूप में ढाला जाता है। यदि खोखले बेलन की बाह्य विज्या और अंतः विज्या क्रमशः 4.3 सेमी और 1.1 सेमी हैं, तो ठोस बेलन का संपूर्ण पृष्ठीय क्षेत्रफल (सेमी² में) क्या है?

Question ID : 7230533220

- Ans  1. 54.72 π
-  2. 48.96 π
-  3. 57.12 π
-  4. 50.36 π

Q.17 एक पाइप एक टंकी को 12 घंटे में भर सकता है, जबकि उसकी तली में रिसाव होने के कारण, वह भरी हुई टंकी को 16 घंटे में खाली कर सकता है। यदि पाइप की कार्यक्षमता 50% बढ़ा दी जाए और रिसाव की कार्यक्षमता आधी कर दी जाए, तो टंकी का 90% भाग भरने में समय लगेगा:

Question ID : 7230533218

- Ans  1. 9 घंटे 30 मिनट
-  2. 8 घंटे 35 मिनट
-  3. 8 घंटे 30 मिनट
-  4. 9 घंटे 36 मिनट

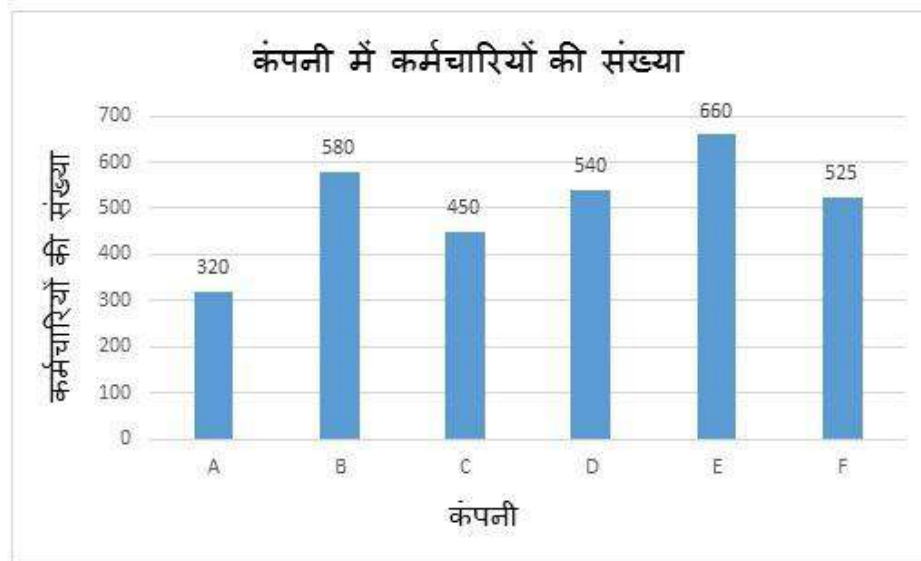
Q.18 किसी त्रिभुजाकार मैदान की भुजाएँ 949 मी, 1095 मी तथा 1022 मी हैं। 1022 मी लंबी भुजा से उसके सामने वाले शीर्ष (कोने) की न्यूनतम दूरी कितनी है?

Question ID : 7230533221

- Ans  1. 876
-  2. 730
-  3. 432
-  4. 584

Comprehension:

निम्नलिखित ग्राफ और सारणी को पढ़िए तथा प्रश्नों के उत्तर दीजिए।



कंपनी	पुरुष तथा महिला कर्मचारियों की संख्या में अनुपात पुरुष : महिला
A	7 : 9
B	18 : 11
C	8 : 7
D	14 : 13
E	25 : 41
F	13 : 12

SubQuestion No : 19

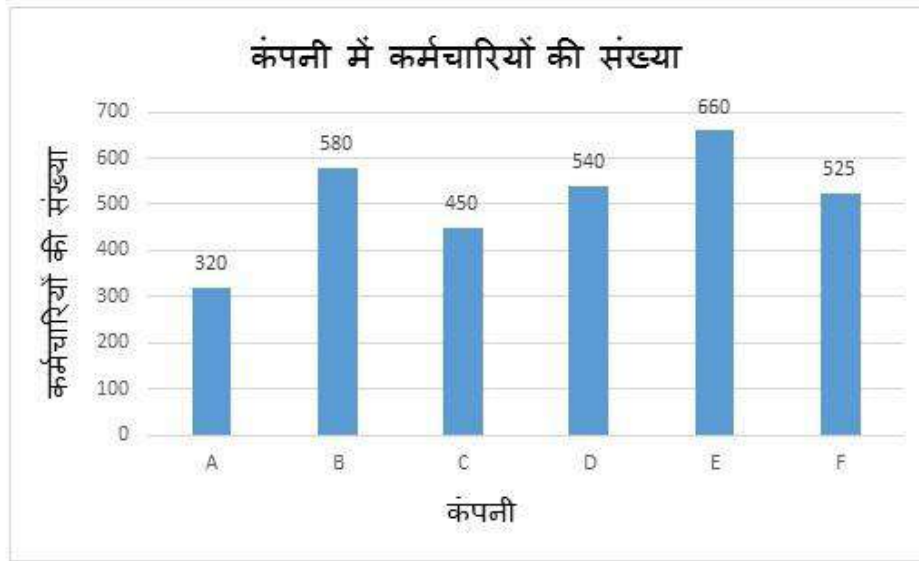
Q.1 $\frac{9}{9}$ कंपनी B, D, E और F में पुरुष कर्मचारियों की कुल संख्या कंपनी A, C और E में महिला कर्मचारियों की कुल संख्या से कितने प्रतिशत अधिक है?

Question ID : 7230533224

- Ans
- ☒ 1. 48.2
 - ☒ 2. 46.6
 - ☒ 3. 45.4
 - ☒ 4. 43.8

Comprehension:

निम्नलिखित ग्राफ और सारणी को पढ़िए तथा प्रश्नों के उत्तर दीजिए।



कंपनी	पुरुष तथा महिला कर्मचारियों की संख्या में अनुपात पुरुष : महिला
A	7 : 9
B	18 : 11
C	8 : 7
D	14 : 13
E	25 : 41
F	13 : 12

SubQuestion No : 20

Q.2
0 कंपनी A से F में कुल मिलाकर पुरुष कर्मचारियों की कुल संख्या तथा महिला कर्मचारियों की कुल संख्या में क्या अंतर है?

Question ID : 7230533223

- Ans
- ✓ 1. 11
 - ✗ 2. 9
 - ✗ 3. 13
 - ✗ 4. 10

Section : General English

Q.1

Question ID : 7230533234

Given below is an incorrect sentence. From the given options, select the part that has an error.

An analysis involving 6, 00,000 people found that one table spoon of butter will be associated with four percent decrease in diabetes risk without increasing the risk of a stroke.

- Ans
- ☒ 1. 6, 00,000 people found
 - ☒ 2. will be associated
 - ☒ 3. four percent decrease
 - ☒ 4. without increasing the risk

Q.2 Fill in the blank in the sentence given below with the correct option.

HMS Bounty was one of the _____ recognizable ships in the world. It was a classic tall ship. Its three masts rose _____ than 100 feet.

Question ID : 7230533231

- Ans
- ☒ 1. More ; most
 - ☒ 2. Most ; more
 - ☒ 3. Long ; high
 - ☒ 4. Much ; most

Q.3 Detect the mis-spelt word from the given options.

Question ID : 7230533227

- Ans
- ☒ 1. adept
 - ☒ 2. adapt
 - ☒ 3. adopt
 - ☒ 4. adege

Q.4 Fill in the blank in the sentence given below with the correct option.

Lack of stipulated hours of sleep _____ a lot of people, but sleeping pills _____ not the only answer.

Question ID : 7230533232

- Ans
- ☒ 1. Affects ; are
 - ☒ 2. Affecting ; do
 - ☒ 3. have affected ; will
 - ☒ 4. Affected ; have

Q.5 Select the indirect form of narration of the given sentence.

Prema told her teacher, "I want to thank you for being so helpful. I have brought this purse which I have made in my Arts and Crafts class for you. I will be very happy if you accept this."





Question ID : 7230533237

- Ans
- ☒ 1.
Prema said to her teacher that she wants to thank her for being so helpful. She has brought this purse which she has made in the Arts and Crafts class for herself. She further said that she will be very happy if she accepted this gift.
 - ☒ 2.
Prema told her teacher, I want to thank you for being so helpful. I have brought this purse which I have made in my Arts and Crafts class for you. I will be very happy if you accept this.
 - ☒ 3.
Prema told her teacher that she wanted to thank her (the teacher) for being so helpful. She (Prema) further said that she had brought that purse which she (Prema) had made in her Arts and Crafts class for her teacher. She would be very happy if the teacher accepted that purse.
 - ☒ 4.
Prema told her teacher that she wanted to thank her for being so helpful. She had brought this purse which she has made in her Arts and Crafts class for her. She will be very happy if she accepted this purse.

Q.6 Given below is an incorrect sentence. From the given options, select the part that has an error.





The Regional Research Laboratory, Trivandrum has helped women engaged in plaiting coconut leaves learn the process of extent of life of coconut leave thatch.

Question ID : 7230533235

- Ans  1. extent of life of coconut leave thatch.
-  2. The Regional Research Laboratory,
-  3. has helped women engaged
-  4. plaiting coconut leaves

Q.7 From the given options choose the one that would mean the SAME as flawless.





Question ID : 7230533225

- Ans  1. brave
-  2. faultless
-  3. daring
-  4. obstacle

Q.8 From the given options, select the one that represents the appropriate meaning of the underlined IDIOM in the sentence given below.





Question ID : 7230533228

Isn't it strange that though we live in the same city, I get to see my sister once in a blue moon?

- Ans  1. all the time
-  2. once in fifteen days
-  3. frequently
-  4. occasionally

Q.9 From the given options choose the one that means the OPPOSITE of enduring.





Question ID : 7230533226

- Ans  1. short-lived
-  2. famous
-  3. long-lasting
-  4. survive

Q.10 Fill in the blank in the sentence given below with the correct option.

Question ID : 7230533230





Do not _____ consulting the doctor any more. This low grade fever has continued for about a fortnight.

- Ans  1. Put back
-  2. Put off
-  3. Put on
-  4. Put through

Q.11 Fill in the blank in the sentence given below with the correct option.

Question ID : 7230533233

The CEO of a Malaysian company recently _____ after his smartphone _____.

- Ans  1. dies ; explode
-  2. die ; exploding
-  3. is dying ; explode
-  4. died ; exploded

Q.12 Choose the best option to combine the given sentences into a single sentence.

Question ID : 7230533238

Onion is known to lower blood pressure. Onion is known to reduce incidents of heart attacks. It also helps lower blood sugar by triggering increased insulin production.

- Ans  1.

Onion is helpful in controlling diseases like blood pressure, blood sugar and heart attacks by increasing insulin production.

 2.

Onion is known not only to lower blood pressure and reduce incidents of heart attacks but it also helps to lower blood sugar by triggering increased insulin production.

 3.

Onion is known to lower blood pressure and onion is known to reduce incidents of heart attacks and it also helps to lower blood sugar by triggering increased insulin production.

 4.

Onion is known to lower blood pressure, blood sugar and reduce heart attacks.

Q.13 Choose the passage that is correctly punctuated.

Question ID : 7230533239

Ans  1.

The English are the only nation on the planet that is passionate about queuing be it in the supermarket at the post office or at bus stops. They won't tolerate queue -jumping. So even if theres only one person waiting at a bus stop you better stand behind them and let them board first.

 2.

The English are the only nation on the planet that is passionate about queuing. Be it in the Supermarket, at the post office, or at bus stops. They won't tolerate queuee -jumping. So even if theres only one person waiting at a bus stop--you better stand behind them, and let them board first.

 3.

The English are the only nation on the planet that is passionate about queuing, be it in the supermarket, at the post office or at bus stops. They won't tolerate queue -jumping. So even if there's only one person waiting at a bus stop, you better stand behind them and let them board first.


 4.


The English are the only nation on the planet that is passionate about queuing be it the supermarket at the post office or at bus stops. They won't tolerate queuee -jumping. So even if theres only one person waiting at a bus stop you better stand behind them and let them board first.


Q.14 From the given options, select the word that can substitute the underlined words in the sentence given below.


Question ID : 7230533229

An ulcer in the stomach was long known to be caused by both physical and mental conditions.

Ans  1. psychopathic

 2. psychosomatic


 3. psychedelic

 4. psychiatric


Q.15 Select the PASSIVE VOICE form of the given sentence.


Question ID : 7230533236

When the chief guest arrives he _____ by the Principal.

Ans  1. need to be received

 2. can be received

 3. will be received

 4. must be received

Comprehension:

Read the passage and answer the questions that follow.

The Ramayana is much shorter than the Mahabharata despite later additions. The scene is set in the middle Ganges Plain and the Vindhyan forests. The original version is attributed to the poet Valmiki, who probably brought together oral fragments and crafted them into poetry that was to become a hallmark of early Sanskrit literature. It is frequently described as the first literary composition, the adi-kavya, a description not used for the other epic, Mahabharata.

The original version of the Ramayana is generally dated to the mid-first millennium B.C. The conflict between Rama and Ravana probably reflects a detailed version of local conflicts, occurring between the expanding kingdoms of the Gangetic Plain and the tribes of the Vindhyan region. The kingdom of Kosala represents the newly emerging monarchies and is a contrast to the society of the rakshasas, or the forest tribes who were demonized because their pattern of life was so different from that of the monarchies. The transference of events to a more southerly location may have been the work of a later period, reflecting an expanded geography, as was possibly also the case in the depiction of Lanka itself as a city of immense wealth.

SubQuestion No : 16

Q.1
6 Choose the correct option to complete the statement.

Question ID : 7230533241

The Ramayana is _____ the Mahabharata.

- Ans
- ☒ 1. of the same length
 - ☒ 2. Shorter than
 - ☒ 3. longer than
 - ☒ 4. dated later

Comprehension:

Read the passage and answer the questions that follow.

The Ramayana is much shorter than the Mahabharata despite later additions. The scene is set in the middle Ganges Plain and the Vindhyan forests. The original version is attributed to the poet Valmiki, who probably brought together oral fragments and crafted them into poetry that was to become a hallmark of early Sanskrit literature. It is frequently described as the first literary composition, the adi-kavya, a description not used for the other epic, Mahabharata.

The original version of the Ramayana is generally dated to the mid-first millennium B.C. The conflict between Rama and Ravana probably reflects a detailed version of local conflicts, occurring between the expanding kingdoms of the Gangetic Plain and the tribes of the Vindhyan region. The kingdom of Kosala represents the newly emerging monarchies and is a contrast to the society of the rakshasas, or the forest tribes who were demonized because their pattern of life was so different from that of the monarchies. The transference of events to a more southerly location may have been the work of a later period, reflecting an expanded geography, as was possibly also the case in the depiction of Lanka itself as a city of immense wealth.

SubQuestion No : 17

Q.1
7 The Ramayana represents the enmity between the kingdoms of the _____ and the _____ south of the Vindhyas.

Question ID : 7230533242

- Ans
- ☒ 1. Indus valley ; kingdoms
 - ☒ 2. Yamuna plains ; rakshasas
 - ☒ 3. Narmada valley ; kingdoms
 - ☒ 4. Ganges valley ; forest tribes

Comprehension:

Read the passage and answer the questions that follow.

The Ramayana is much shorter than the Mahabharata despite later additions. The scene is set in the middle Ganges Plain and the Vindhyan forests. The original version is attributed to the poet Valmiki, who probably brought together oral fragments and crafted them into poetry that was to become a hallmark of early Sanskrit literature. It is frequently described as the first literary composition, the *adi-kavya*, a description not used for the other epic, Mahabharata.

The original version of the Ramayana is generally dated to the mid-first millennium B.C. The conflict between Rama and Ravana probably reflects a detailed version of local conflicts, occurring between the expanding kingdoms of the Gangetic Plain and the tribes of the Vindhyan region. The kingdom of Kosala represents the newly emerging monarchies and is a contrast to the society of the *rakshasas*, or the forest tribes who were demonized because their pattern of life was so different from that of the monarchies. The transference of events to a more southerly location may have been the work of a later period, reflecting an expanded geography, as was possibly also the case in the depiction of Lanka itself as a city of immense wealth.

SubQuestion No : 18

Q.1
8 The forest tribes are described as *rakshasas* because of their _____.

Question ID : 7230533244

Ans

☒ 1.

Language which was not understood by their enemies

☒ 2. totally different way of life

☒ 3. Their strange eating habits

☒ 4. Lack of manners and education

Comprehension:

Read the passage and answer the questions that follow.

The Ramayana is much shorter than the Mahabharata despite later additions. The scene is set in the middle Ganges Plain and the Vindhyan forests. The original version is attributed to the poet Valmiki, who probably brought together oral fragments and crafted them into poetry that was to become a hallmark of early Sanskrit literature. It is frequently described as the first literary composition, the adi-kavya, a description not used for the other epic, Mahabharata.

The original version of the Ramayana is generally dated to the mid-first millennium B.C. The conflict between Rama and Ravana probably reflects a detailed version of local conflicts, occurring between the expanding kingdoms of the Gangetic Plain and the tribes of the Vindhyan region. The kingdom of Kosala represents the newly emerging monarchies and is a contrast to the society of the rakshasas, or the forest tribes who were demonized because their pattern of life was so different from that of the monarchies. The transference of events to a more southerly location may have been the work of a later period, reflecting an expanded geography, as was possibly also the case in the depiction of Lanka itself as a city of immense wealth.

SubQuestion No : 19

Q.1
9 Valmiki, based the epic on sources which were available from _____ of that period.

Question ID : 7230533243

- Ans
- ☒ 1. coins
 - ☒ 2. word-of-mouth
 - ☒ 3. written records
 - ☒ 4. travelogues

Comprehension:

Read the passage and answer the questions that follow.

The Ramayana is much shorter than the Mahabharata despite later additions. The scene is set in the middle Ganges Plain and the Vindhyan forests. The original version is attributed to the poet Valmiki, who probably brought together oral fragments and crafted them into poetry that was to become a hallmark of early Sanskrit literature. It is frequently described as the first literary composition, the adi-kavya, a description not used for the other epic, Mahabharata.

The original version of the Ramayana is generally dated to the mid-first millennium B.C. The conflict between Rama and Ravana probably reflects a detailed version of local conflicts, occurring between the expanding kingdoms of the Gangetic Plain and the tribes of the Vindhyan region. The kingdom of Kosala represents the newly emerging monarchies and is a contrast to the society of the rakshasas, or the forest tribes who were demonized because their pattern of life was so different from that of the monarchies. The transference of events to a more southerly location may have been the work of a later period, reflecting an expanded geography, as was possibly also the case in the depiction of Lanka itself as a city of immense wealth.

SubQuestion No : 20

Q.2 What, according to the text, was not originally written by Valmiki, and was added later?

Question ID : 7230533245

Ans ☒ 1. The duties of an ideal king.

☒ 2.

The conflict between advancing monarchies and tribal societies.

☒ 3. The admirable qualities of the forest tribes.

☒ 4. The fabulous wealth of the king of Lanka.

Section : General Hindi

Q.1 'जो इन्द्रियों से न जाना जा सके' वाक्यांश के लिए एक शब्द है:

Question ID : 7230533256

Ans ☒ 1. इन्द्रियजन्य

☒ 2. सेंद्रिय

☒ 3. अतीन्द्रिय

☒ 4. लब्धेन्द्रिय

Q.2 निम्नलिखित में सभी स्पर्श व्यंजन कौन-से वर्ग में हैं?

Question ID : 7230533247

Ans ☒ 1. क ज फ

☒ 2. भ ल र

☒ 3. य द श

✗ 4. रह ष

Q.3 'आय' शब्द का विलोम शब्द होगा:

Question ID : 7230533259

- Ans
- ✗ 1. आमद
 - ✗ 2. घाटा
 - ✗ 3. खर्च
 - ✓ 4. व्यय

Q.4 'दाता' शब्द का स्त्रीलिंग रूप होता है:

Question ID : 7230533249

- Ans
- ✗ 1. देत्या
 - ✓ 2. दात्री
 - ✗ 3. दाती
 - ✗ 4. दातृ

Q.5 'अमृत' का पर्यायवाची शब्द है:

Question ID : 7230533254

- Ans
- ✗ 1. माधुर्य
 - ✗ 2. हलाहल
 - ✗ 3. पावन
 - ✓ 4. पीयूष

Q.6 कौन-सा शब्द तत्सम है?

Question ID : 7230533255

- Ans
- ✓ 1. कर
 - ✗ 2. हाथ
 - ✗ 3. हाथी
 - ✗ 4. आँख

Q.7 'दोषी व्यक्ति स्वयं से डरता है'। इस आशय के लिए लोकोक्ति है:

Question ID : 7230533261

- Ans
- ✗ 1. चलती का नाम गाड़ी
 - ✗ 2. काला ज्वर भैंस बराबर
 - ✗ 3. घर का भेदी लंका ढाए
 - ✓ 4. चोर की दाढ़ी में तिनका

Q.8 आज तो वह कर से आया है। वाक्य में क्रिया-विशेषण पद है:

Question ID : 7230533258

- Ans
- ✗ 1. आज तो
 - ✓ 2. कर से
 - ✗ 3. वह

✗ 4. आया है

Q.9 अव्ययीभाव समास वाला शब्द छाँटिए:

Question ID : 7230533252

- Ans
- ✗ 1. रसोई घर
 - ✗ 2. सुख-दुःख
 - ✓ 3. यथासंभव
 - ✗ 4. राजपुत्र

Q.10 स्वरसंधि वाला शब्द है:

Question ID : 7230533251

- Ans
- ✗ 1. सद्भाव
 - ✗ 2. मनोरथ
 - ✓ 3. अन्वय
 - ✗ 4. चिन्मय

Q.11 'बहाना बनाना' इस अर्थ के लिए मुहावरा होगा:

Question ID : 7230533260

- Ans
- ✗ 1. आँखे खुलना
 - ✗ 2. आग में घी डालना
 - ✗ 3. अक्ल पर पत्थर पड़ना
 - ✓ 4. अगर-मगर करना

Q.12 कौन-सा शब्द तद्भव है?

Question ID : 7230533253

- Ans
- ✗ 1. संबंध
 - ✗ 2. आशय
 - ✗ 3. रात्रि
 - ✓ 4. पाँव

Q.13 मैंने अभी-अभी घर जाना होगा। वाक्य में अशुद्ध पद है:

Question ID : 7230533264

- Ans
- ✓ 1. मैंने
 - ✗ 2. घर
 - ✗ 3. अभी-अभी
 - ✗ 4. जाना है

Q.14 सही वर्तनी वाले शब्द को चुनिए:

Question ID : 7230533248

- Ans
- ✗ 1. अवग्या
 - ✗ 2. वदोपरांत

✓ 3. पुनरुक्ति

✗ 4. अनाधिकार

Q.15 निम्नलिखित में से पुलिंग शब्द छाँटिए:

Question ID : 7230533265

Ans ✗ 1. गाजर

✗ 2. आहट

✓ 3. अनार

✗ 4. अरहर

Q.16 'कुलीन' शब्द में प्रत्यय है:

Question ID : 7230533263

Ans ✗ 1. इन

✓ 2. ईन

✗ 3. न

✗ 4. लीन

Q.17 'अनुवाद' शब्द में कौन-सा उपसर्ग लगा है?

Question ID : 7230533262

Ans ✗ 1. अन

✗ 2. अन्

✗ 3. अ

✓ 4. अनु

Q.18 "वह पुस्तक पढ़ रही थी।" वाक्य का काल है:

Question ID : 7230533250

Ans ✗ 1. संदिग्ध भूत

✗ 2. पूर्णभूत काल

✓ 3. अपूर्ण भूत

✗ 4. आसन्त भूत

Q.19 निम्नलिखित में से मूलस्वरों वाला वर्ग छाँटिए?

Question ID : 7230533246

Ans ✗ 1. अ ऐ ओ

✗ 2. अ आ ऊ

✗ 3. ए ओ उ

✓ 4. अ इ उ

Q.20 निम्नलिखित में से विशेषण शब्द छाँटिए:

Question ID : 7230533257

Ans ✗ 1. भावना

✗ 2. भवन

✓ 3. सुंदर

✗ 4. माधुर्य

Section : Subject Related

Q.1 'गोदान' कब प्रकाशित हुआ?

Question ID : 7230533270

Ans ✗ 1. 1932 ई.

✗ 2. 1918 ई.

✓ 3. 1936 ई.

✗ 4. 1926 ई.

Q.2 'यदि गद्य कवियों या लेखकों की कसौटी है तो निबंध गद्य की कसौटी है।' यह कथन किसका है?

Question ID : 7230533284

Ans ✗ 1. हजारीप्रसाद द्विवेदी

✓ 2. रामचन्द्र शुक्ल

✗ 3. रामविलास शर्मा

✗ 4. महावीर प्रसाद द्विवेदी

Q.3 'हिन्दी प्रदीप' पत्र के संपादक कौन थे?

Question ID : 7230533267

Ans ✗ 1. बदरीनारायण चौधरी

✗ 2. भारतेन्दु हरिश्चंद्र

✗ 3. प्रतापनारायण मिश्र

✓ 4. बालकृष्ण भट्ट

Q.4 'बनारस अखबार' पत्र कौन निकालता था?

Question ID : 7230533266

Ans ✗ 1. राजा लक्ष्मण सिंह

✗ 2. राजा राममोहन राय

✗ 3. भारतेन्दु हरिश्चंद्र

✓ 4. राजा शिवप्रसाद सिंह

Q.5 निम्नलिखित में से कौन सा सही सुमेलित नहीं है?

Question ID : 7230533277

Ans ✗ 1. डाची - उपेंद्रनाथ अशक

✗ 2. फाँसी - जैनेन्द्र

✓ 3. आहुति - यशपाल

✗ 4. विपगथा - अजेय

Q.6 'उसने कहा था' कहानी का प्रकाशन कब हुआ?

Question ID : 7230533275

- Ans
- ✗ 1. 1918 ई.
 - ✓ 2. 1915 ई.
 - ✗ 3. 1920 ई.
 - ✗ 4. 1925 ई.

Q.7 निम्नलिखित में से कौन-सा सही सुमेलित नहीं है?

Question ID : 7230533279

- Ans
- ✗ 1. तीसरी कसम - फणीश्वरनाथ रेणु
 - ✗ 2. राजा निरबंसिया - कमलेश्वर
 - ✗ 3. कर्मनाशा की हार - शिवप्रसाद सिंह
 - ✓ 4. जिंदगी और जोंक - राजेंद्र यादव

Q.8 'श्यामा स्वप्न' उपन्यास के लेखक थे:

Question ID : 7230533269

- Ans
- ✗ 1. देवकी नन्दन खत्री
 - ✓ 2. जगमोहन सिंह
 - ✗ 3. लाला श्रीनिवास दास
 - ✗ 4. किशोरीलाल गोस्वामी

Q.9 'साहित्यालोचन' किसकी कृति है?

Question ID : 7230533285

- Ans
- ✗ 1. रामचन्द्र शुक्ल
 - ✗ 2. बालमुकुन्द गुप्त
 - ✗ 3. महावीर प्रसाद द्विवेदी
 - ✓ 4. बाबू श्यामसुंदर दास

Q.10 'संयोगिता स्वयंवर' नाटक के रचनाकार हैं:

Question ID : 7230533280

- Ans
- ✗ 1. प्रतापनारायण मिश्र
 - ✓ 2. श्रीनिवास दास
 - ✗ 3. राधाचरण गोस्वामी
 - ✗ 4. भारतेन्दु हरिश्चंद्र

Q.11 निम्नलिखित में से कौन-सा सही सुमेलित नहीं है?

Question ID : 7230533273

Ans

- ☒ 1. अल्मा कबूतरी - मैत्रेयी पुष्पा
- ☒ 2. जिंदगीनामा - कृष्णा सोबती
- ☒ 3. माई - प्रभा खेतान
- ☒ 4. बेघर - ममता कालिया

Q.12 'भाग्यवती' उपन्यास के लेखक कौन थे?

Question ID : 7230533268

Ans

- ☒ 1. श्रद्धाराम फुल्लौरी
- ☒ 2. किशोरीलाल गोस्वामी
- ☒ 3. लाला श्रीनिवास दास
- ☒ 4. राधाकृष्ण दास

Q.13 कौन सा उपन्यास जैनेन्द्र का नहीं है?

Question ID : 7230533272

Ans

- ☒ 1. त्यागपत्र
- ☒ 2. कल्याणी
- ☒ 3. जहाज का पंछी
- ☒ 4. सुनीता

Q.14 निम्नलिखित में से कौन-सा सही सुमेलित नहीं है?

Question ID : 7230533271

Ans

- ☒ 1. आधा गाँव - राही मासूम रजा
- ☒ 2. रागदरबारी - फणीश्वरनाथ रेणु
- ☒ 3. तमस - भीष्म साहनी
- ☒ 4. दिव्या - यशपाल

Q.15 भारतेन्दु द्वारा अनूदित नाटक कौन-सा है?

Question ID : 7230533281

Ans


- ☒ 1. सत्य हरिश्चंद्र
- ☒ 2. नीलदेवी
- ☒ 3. अंधेर नगरी
- ☒ 4. प्रेमयोगिनी

Q.16 निम्नलिखित में से कौन-सा नाटक जयशंकर प्रसाद का नहीं है?

Question ID : 7230533282





Ans

- ☒ 1. रक्षाबंधन
- ☒ 2. अजातशत्रु
- ☒ 3. स्कन्दगुप्त

 4. ध्रुवस्वामिनी





Q.17 'दुलाईवाली' कहानी किसके द्वारा रचित है?

Question ID : 7230533274

- Ans
-  1. गिरिजादत्त वाजपेयी
 -  2. बंग महिला
 -  3. भगवान दास
 -  4. किशोरीलाल गोस्वामी





Q.18 नामवर सिंह ने नयी कहानी की पहली कहानी किसे माना है?

Question ID : 7230533278

- Ans
-  1. डिप्टी कलकटरी
 -  2. मलबे का मालिक
 -  3. परिदे
 -  4. यही सच है





Q.19 'पृथ्वीराज की आँखें' किसका एकांकी संग्रह है?

Question ID : 7230533283

- Ans
-  1. जगदीश चंद्र माथुर
 -  2. लक्ष्मीनारायण मिश्र
 -  3. रामकुमार वर्मा
 -  4. उदयशंकर भट्ट

Q.20 निम्नलिखित में से कौन सी कहानी प्रेमचंद की नहीं है?

Question ID : 7230533276

- Ans
-  1. पंच परमेश्वर
 -  2. कानों में कंगना
 -  3. कफन
 -  4. ईदगाह

Section : Subject Related

Q.1 'पृथ्वीराज रासो' में कितने समय (सर्ग) हैं?

Question ID : 7230533299

- Ans
-  1. 59
 -  2. 61
 -  3. 69
 -  4. 65

Q.2 'हरडेवानी' नाम से किसकी रचनाओं का संग्रह है?

Question ID : 7230533302

- Ans
- ☒ 1. दादूदयाल
 - ☐ 2. रज्जब
 - ☐ 3. सुंदरदास
 - ☐ 4. गुरुनानक

Q.3 'प्रेमचंद घर में' जीवनी का रचनाकार कौन है?

Question ID : 7230533293

- Ans
- ☐ 1. हंसराज रहबर
 - ☒ 2. शिवरानी देवी
 - ☐ 3. मदन गोपाल
 - ☐ 4. अमृत राय

Q.4 'अपनी धरती अपने लोग' किसकी आत्मकथा है?

Question ID : 7230533292

- Ans
- ☐ 1. हरिवंश राय बच्चन
 - ☐ 2. चतुरसेन शास्त्री
 - ☒ 3. रामविलास शर्मा
 - ☐ 4. वृन्दावनलाल वर्मा

Q.5 किसे सूफी काव्य परंपरा के पहले कवि माने जाते हैं?

Question ID : 7230533303

- Ans
- ☒ 1. मुल्ला दाउद
 - ☐ 2. मंझन
 - ☐ 3. जायसी
 - ☐ 4. कुतुबन

Q.6 आदिकाल के किस कवि ने पहेलियाँ और मुकरियाँ लिखी हैं?

Question ID : 7230533297

- Ans
- ☐ 1. चन्दवरदायी
 - ☐ 2. विद्यापति
 - ☐ 3. स्वयंभू
 - ☒ 4. अमीर खुसरो

Q.7 रामानन्द का संबंध किस संप्रदाय से था?

Question ID : 7230533300

- Ans
- ☐ 1. ब्राह्म संप्रदाय
 - ☐ 2. रुद्र संप्रदाय
 - ☒ 3. श्री संप्रदाय

✗ 4. सनकादि संप्रदाय

Q.8 'बीसलदेव रासो' के रचयिता कौन हैं?

Question ID : 7230533295

- Ans
- ✗ 1. दलपति विजय
 - ✓ 2. नरपति नाल्ह
 - ✗ 3. चन्दवरदायी
 - ✗ 4. जगनिक

Q.9 'साहित्य जनसमूह के हृदय का विकास है।' निबंध किसका है?

Question ID : 7230533286

- Ans
- ✗ 1. रामचन्द्र शुक्ल
 - ✗ 2. भारतेन्दु हरिश्चंद्र
 - ✓ 3. बालकृष्ण भट्ट
 - ✗ 4. बालमुकुन्द गुप्त

Q.10 निम्नलिखित में से कौन सा सही सुमेलित नहीं है?

Question ID : 7230533287

- Ans
- ✗ 1. हिन्दी साहित्य बीसवीं शताब्दी - नन्ददुलारे वाजपेयी
 - ✓ 2. अशोक के फूल - विद्यानिवास मिश्र
 - ✗ 3. मिट्टी की ओर - रामधारी सिंह दिनकर
 - ✗ 4. श्रृंखला का कड़ियाँ - महादेवी वर्मा

Q.11 'अतीत के चलचित्र' किसकी कृति है?

Question ID : 7230533290

- Ans
- ✓ 1. महादेवी वर्मा
 - ✗ 2. जगदीश चंद्र माथुर
 - ✗ 3. शिवपूजन सहाय
 - ✗ 4. रामवृक्ष बेनीपुरी

Q.12 जायसी की रचना नहीं है:

Question ID : 7230533304

- Ans
- ✓ 1. मधुमालती
 - ✗ 2. आखिरी कलाम
 - ✗ 3. अखरावट
 - ✗ 4. पद्मावत

Q.13 'एक बूँद सहसा उछली' किस विधा की रचना है?

Question ID : 7230533288

- Ans
- ☐ 1. उपन्यास
 - ☐ 2. काव्य
 - ☐ 3. नाटक
 - ☒ 4. यात्रा-वृत्तांत

Q.14 'माटी की मूर्तें' के रचनाकार कौन हैं?

Question ID : 7230533291

- Ans
- ☐ 1. प्रकाश चंद्र गुप्त
 - ☐ 2. महादेवी वर्मा
 - ☒ 3. रामवृक्ष बेनीपुरी
 - ☐ 4. हरिवंश राय बच्चन

Q.15 'गुरु नानक' का संबंध किस प्रान्त से था?

Question ID : 7230533301

- Ans
- ☐ 1. गुजरात
 - ☐ 2. उत्तर प्रदेश
 - ☐ 3. महाराष्ट्र
 - ☒ 4. पंजाब

Q.16 आदिकाल के किस कवि को 'मैथिलकोकिल' कहा गया?

Question ID : 7230533296

- Ans
- ☐ 1. चन्दवरदायी
 - ☐ 2. नरपति नाल्ह
 - ☐ 3. अमीर खुसरो
 - ☒ 4. विद्यापति

Q.17 'तूफानों के बीच' शीर्षक रिपोर्टाज के लेखक कौन हैं?

Question ID : 7230533294

- Ans
- ☐ 1. शमशेर बहादुर सिंह
 - ☐ 2. धर्मवीर भारती
 - ☒ 3. रांगेय राघव
 - ☐ 4. विवेकी राय

Q.18 'संदेशरासक' का रचयिता कौन है?

Question ID : 7230533298

- Ans
- ☐ 1. हेमचन्द्र
 - ☐ 2. धनपाल
 - ☒ 3. अद्दहमाण
 - ☐ 4. लक्ष्मीधर

Q.19 'किन्नर देश में' किसका यात्रा-साहित्य है?

Question ID : 7230533289

- Ans
- ☐ 1. निर्मल वर्मा
 - ☐ 2. अज्ञेय
 - ☐ 3. रामधारी सिंह दिनकर
 - ☒ 4. राहुल सांकृत्यायन

Q.20 कौन सा सही सुमेलित नहीं है?

Question ID : 7230533305

- Ans
- ☐ 1. चित्रावली - उसमान
 - ☒ 2. मिरगावत - मंझन
 - ☐ 3. ज्ञानद्वीप - शेखनबी
 - ☐ 4. अनुराग बांसुरी - नूर मुहम्मद

Section : Subject Related

Q.1 'चाँद का मुँह टेढ़ा है' किसकी काव्य रचना है?

Question ID : 7230533321

- Ans
- ☐ 1. अज्ञेय
 - ☐ 2. नागार्जुन
 - ☒ 3. मुक्तिबोध
 - ☐ 4. शमशेर

Q.2 'जमीन पक रही है' किसका काव्य संग्रह है?

Question ID : 7230533325

- Ans
- ☐ 1. धूमिल
 - ☐ 2. रघुवीर सहाय
 - ☐ 3. कुँवर नारायण
 - ☒ 4. केदारनाथ सिंह

Q.3 'तारसप्तक' कब प्रकाशित हुआ?

Question ID : 7230533323

- Ans
- ☒ 1. 1943 ई.
 - ☐ 2. 1945 ई.
 - ☐ 3. 1959 ई.
 - ☐ 4. 1951 ई.

Q.4 'श्रीकृष्णगीतावली' के ग्रंथकार कौन हैं?

Question ID : 7230533306

- Ans
- ☒ 1. तुलसीदास
 - ☐ 2. सुंदरदास
 - ☐ 3. नन्ददास
 - ☐ 4. सूरदास

Q.5 'कत बिधि सुजौ नारि जग माहीं। पराधीन सपनेहुं सुख नाहीं।' पंक्ति की रचना किसने की है?

Question ID : 7230533307

- Ans
- ☐ 1. सूरदास
 - ☐ 2. जायसी
 - ☒ 3. तुलसीदास
 - ☐ 4. मीराबाई

Q.6 'प्रथम रश्मि का आना रंगिणि! तूने कैसे पहचाना?' पंक्ति किसके द्वारा रचित है?

Question ID : 7230533319

- Ans
- ☐ 1. प्रसाद
 - ☐ 2. महादेवी वर्मा
 - ☒ 3. पंत
 - ☐ 4. निराला

Q.7 'तंत्रीनाद कवित्त रस, सरस राग रति रंग' पंक्ति के रचयिता कौन हैं?

Question ID : 7230533311

- Ans
- ☐ 1. भूषण
 - ☐ 2. केशवदास
 - ☐ 3. चिंतामणि
 - ☒ 4. बिहारी

Q.8 'भक्तमाल' की रचना किसने की थी?

Question ID : 7230533308

- Ans
- ☐ 1. कृष्णदास
 - ☐ 2. रामानन्द
 - ☐ 3. सूरदास
 - ☒ 4. नाभादास

Q.9 'निज भाषा उन्नति अहै, सब उन्नति को मूल।' पंक्ति किसकी है?

Question ID : 7230533315

- Ans
- ☐ 1. रामधारी सिंह दिनकर
 - ☐ 2. मैथिलीशरण गुप्त
 - ☒ 3. भारतेन्दु हरिश्चंद्र
 - ☐ 4. प्रताप नारायण मिश्र

Q.10 'चतुर्भुजदास' किसके पुत्र थे?

Question ID : 7230533309

- Ans
- ☒ 1. सूरदास
 - ☒ 2. परमानन्ददास
 - ☒ 3. नन्ददास
 - ☒ 4. कुंभनदास

Q.11 'खूंटियों पर टँगे लोग' किसका काव्य संग्रह है?

Question ID : 7230533324

- Ans
- ☒ 1. नागार्जुन
 - ☒ 2. सर्वेश्वर दयाल सक्सेना
 - ☒ 3. केदारनाथ अग्रवाल
 - ☒ 4. त्रिलोचन

Q.12 'प्रिय प्रवास' महाकाव्य के रचयिता हैं:

Question ID : 7230533316

- Ans
- ☒ 1. जयशंकर प्रसाद
 - ☒ 2. रामधारी सिंह दिनकर
 - ☒ 3. हरिऔध
 - ☒ 4. मैथिलीशरण गुप्त

Q.13 कौन सी काव्य रचना निराला की नहीं है?

Question ID : 7230533320

- Ans
- ☒ 1. गीतिका
 - ☒ 2. परिमल
 - ☒ 3. दीपशिखा
 - ☒ 4. अनामिका

Q.14 'ललित ललाम' किसकी रचना है?

Question ID : 7230533312

- Ans
- ☒ 1. देव
 - ☒ 2. रत्नाकर
 - ☒ 3. पद्माकर
 - ☒ 4. मतिराम

Q.15 निम्न में से कौन-सा काव्य ग्रंथ रामनरेश त्रिपाठी का नहीं है?

Question ID : 7230533317

- Ans
- ☒ 1. स्वप्न
 - ☒ 2. भारत-भारती
 - ☒ 3. पथिक

✗ 4. मिलन

Q.16 कौन-सी रचना केशवदास की नहीं है?

Question ID : 7230533310

- Ans
- ✗ 1. कविप्रिया
 - ✓ 2. भाषाभूषण
 - ✗ 3. रामचंद्रिका
 - ✗ 4. रसिकप्रिया

Q.17 'कुरुक्षेत्र' किसका काव्य है?

Question ID : 7230533322

- Ans
- ✓ 1. रामधारी सिंह दिनकर
 - ✗ 2. त्रिलोचन
 - ✗ 3. नागार्जुन
 - ✗ 4. मैथिलीशरण गुप्त

Q.18 कौन सा सही सुमेलित नहीं है?

Question ID : 7230533314

- Ans
- ✓ 1. सुजान सागर - बिहारी
 - ✗ 2. रस विलास - देव
 - ✗ 3. विरह बारीश - बोधा
 - ✗ 4. आलम केलि - आलम

Q.19 'नैन नचाय कही मुसकाय, लला फिर आइयो खेलन होरी' पंक्ति का रचयिता कौन है?

Question ID : 7230533313

- Ans
- ✓ 1. पद्माकर
 - ✗ 2. घनानन्द
 - ✗ 3. रत्नाकर
 - ✗ 4. बिहारी

Q.20 कौन-सी रचना जयशंकर प्रसाद की नहीं है?

Question ID : 7230533318

- Ans
- ✓ 1. युगवाणी
 - ✗ 2. लहर
 - ✗ 3. आँसू
 - ✗ 4. झरना

Section : Subject Related

Q.1 निम्नलिखित में से कौन सा अलंकार अर्थालंकार है?

Question ID : 7230533343

- Ans
- ☒ 1. यमक
 - ☒ 2. उत्प्रेक्षा
 - ☒ 3. अनुप्रास
 - ☒ 4. श्लेष

Q.2 'तुम्हें सौपता हूँ' किसकी काव्य रचना है?

Question ID : 7230533326

- Ans
- ☒ 1. त्रिलोचन
 - ☒ 2. केदारनाथ अग्रवाल
 - ☒ 3. नागार्जुन
 - ☒ 4. शमशेर

Q.3 उपमेय में उपमान के निषेध रहित आरोप होने पर अलंकार होगा:

Question ID : 7230533342

- Ans
- ☒ 1. रूपक
 - ☒ 2. यमक
 - ☒ 3. उपमा
 - ☒ 4. उत्प्रेक्षा

Q.4 'पश्चिमी हिन्दी' उपभाषा के अंतर्गत कौन-सी बोली नहीं आती?

Question ID : 7230533328

- Ans
- ☒ 1. बघेली
 - ☒ 2. ब्रज
 - ☒ 3. बुन्देली
 - ☒ 4. कन्नौजी

Q.5 निम्नलिखित में से कौन-सा वर्ण तालव्य है?

Question ID : 7230533331

- Ans
- ☒ 1. क
 - ☒ 2. ट
 - ☒ 3. च
 - ☒ 4. त

Q.6 शुद्ध खड़ी बोली के नमूने किस कवि के यहाँ प्राप्त होते हैं?

Question ID : 7230533327

- Ans
- ☒ 1. विद्यापति
 - ☒ 2. अमीर खुसरो
 - ☒ 3. स्वयंभू
 - ☒ 4. चन्दवरदायी

Q.7 'कोष-कोश' शब्द-युग्म का सही अर्थ है:

Question ID : 7230533337

Ans

- ✓ 1. खजाना, शब्द-संग्रह
- ✗ 2. खजाना, दूरी
- ✗ 3. शब्द-संग्रह, खजाना
- ✗ 4. दूरी, शब्द-संग्रह

Q.8 'बिजली' का पर्यायवाची नहीं है:

Question ID : 7230533334

- Ans
- ✗ 1. दामिनी
 - ✗ 2. चपला
 - ✓ 3. रमणी
 - ✗ 4. चंचला

Q.9 देवनागरी लिपि के संदर्भ में कौन-सा कथन गलत है?

Question ID : 7230533330

- Ans
- ✗ 1. इस लिपि के लेखन और मुद्रण के अक्षर एकरूप हैं।
 - ✗ 2. देवनागरी लिपि का प्रयोग बहुत व्यापक है।
 - ✗ 3. देवनागरी की वर्णमाला का वर्णक्रम वैज्ञानिक है।
 - ✓ 4. मुद्रण की दृष्टि से देवनागरी आसान लिपि है।

Q.10 'खग' का अर्थ नहीं होता है:

Question ID : 7230533336

- Ans
- ✗ 1. तारा
 - ✓ 2. आकाश
 - ✗ 3. पक्षी
 - ✗ 4. बाण

Q.11 'जगती जगती की मूक प्यास' पंक्ति में अलंकार है:

Question ID : 7230533344

- Ans
- ✓ 1. यमक
 - ✗ 2. अनुप्रास
 - ✗ 3. श्लेष
 - ✗ 4. उपमा

Q.12 अर्थ के आधार पर वाक्य के कितने भेद हैं?

Question ID : 7230533340

- Ans
- ✓ 1. 8
 - ✗ 2. 6
 - ✗ 3. 2

✗ 4. 4

Q.13 देवनागरी लिपि का सर्वप्रथम प्रयोग किस राज्य के शिलालेख में मिलता है?

Question ID : 7230533329

Ans

✗ 1. महाराष्ट्र

✓ 2. गुजरात

✗ 3. उत्तर प्रदेश

✗ 4. पंजाब

Q.14 निम्नलिखित में से कौन-सा शब्द अविकारी नहीं है?

Question ID : 7230533339

Ans

✓ 1. नया

✗ 2. तब

✗ 3. जब

✗ 4. अभी

Q.15 निम्नलिखित में से वर्तनी की दृष्टि से शुद्ध है:

Question ID : 7230533332

Ans

✗ 1. कवयत्री

✓ 2. कवयित्री

✗ 3. कवियत्री

✗ 4. कवियित्री

Q.16 साक्षात संकेतित अर्थ का बोध कराने वाली शब्द शक्ति को कहते हैं:

Question ID : 7230533345

Ans

✗ 1. शाब्दी व्यंजना

✗ 2. व्यंजना

✗ 3. लक्षणा

✓ 4. अभिधा

Q.17 'गौरव' का विलोम है:

Question ID : 7230533335

Ans

✗ 1. अपमान

✗ 2. लघु

✓ 3. लाघव

✗ 4. दुःख

Q.18 'तुम जाओ।' कैसा वाक्य है?

Question ID : 7230533341

Ans

✗ 1. विस्मयवाचक

✗ 2. निषेधवाचक

✓ 3. आज्ञावाचक

✗ 4. प्रश्नवाचक

Q.19 संधि मूलतः कितने प्रकार की होती है?

Question ID : 7230533333

- Ans
- ☒ 1. 4
 - ☒ 2. 5
 - ☒ 3. 3
 - ☒ 4. 6

Q.20 वह विकारी शब्द जो किसी संज्ञा के बदले आता है, कहलाता है:

Question ID : 7230533338

- Ans
- ☒ 1. संज्ञा
 - ☒ 2. सर्वनाम
 - ☒ 3. क्रिया
 - ☒ 4. विश्लेषण

Section : Subject Related

Q.1 'लक्षणा' शब्द शक्ति का भेद नहीं है:

Question ID : 7230533346

- Ans
- ☒ 1. गौणी
 - ☒ 2. रूढ़ा
 - ☒ 3. प्रयोजनवती
 - ☒ 4. शाब्दी

Q.2 'संघ की राजभाषा हिन्दी होगी' यह प्रावधान संविधान के किस अनुच्छेद में है?

Question ID : 7230533349

- Ans
- ☒ 1. 342
 - ☒ 2. 345
 - ☒ 3. 343
 - ☒ 4. 344

Q.3 'खेल खिलाड़ी का पैसा मदारी का।' लोकोक्ति का सही अर्थ है:

Question ID : 7230533348

- Ans
- ☒ 1. ज्यादा मेहनत करने पर ज्यादा लाभ होता है।
 - ☒ 2. जिसकी मेहनत उसका लाभ।
 - ☒ 3. लाभ के लिए श्रम करना जरूरी है।
 - ☒ 4. मेहनत किसी की, लाभ दूसरे का।

Q.4 राजभाषा अधिनियम, 1976 के अनुसार हिन्दी-प्रयोग की दृष्टि से राज्यों को कितने वर्गों में बाँटा गया है?

Question ID : 7230533350

- Ans
- ☒ 1. 5
 - ☒ 2. 3
 - ☒ 3. 6

Q.5 'घी के दिये जलना' मुहावरे का सही अर्थ है:

Question ID : 7230533347

Ans

- ☒ 1. मूर्ख होना
- ☒ 2. नुकसान होना
- ☒ 3. अपमान करना
- ☒ 4. आनंद मंगल होना

Comprehension:

नीचे दिये गए गद्यांश को पढ़कर पूछे गये प्रश्नों के उत्तर दीजिए।

भोजपत्र हिमालय प्रदेश में पैदा होने वाले 'भूर्ज' नामक वृक्ष की छाल है। इनकी ऊँचाई कभी-कभी 60 फुट तक जाती है। हिमालय में साधारणतः 14000 फुट की ऊँचाई पर ये बहुतायत से पाए जाते हैं। इनकी छाल कागज की भांति होती है। इस छाल को लेखक लोग अपनी इच्छानुसार लंबाई-चौड़ाई को काट-कर उस पर स्याही से लिखते थे। अब तो यह केवल तंत्र-मंत्र के काम ही आता है, पर किसी जमाने में कश्मीर तथा हिमालय प्रदेशों में भूर्जपत्र पर ही पोथियाँ लिखी जाती थीं। अधिकतर भूर्जपत्र की पुस्तकें कश्मीर से ही मिलती हैं। भोजपत्र की सबसे पुरानी पुस्तक खरोष्ठी लिपि में लिखा हुआ प्राकृत (पालीवाला नहीं) 'धम्मपद' नामक प्रसिद्ध ग्रंथ है, जो संभवतः ईसवी सन् की तीसरी शताब्दी का है। सबसे पुरानी संस्कृत-पुस्तक जो भोजपत्र पर लिखी मिली है, वह 'संयुक्तागम सूत्र' है। खरोष्ठीवाली पुस्तक का काल निश्चित रूप से नहीं कहा जा सकता। यह खोतान से प्राप्त हुई थी।

SubQuestion No : 6

Q.6 भूर्जपत्र की अधिकतर पुस्तकें कहाँ से मिलती हैं?

Question ID : 7230533354

Ans

- ☒ 1. हरियाणा
- ☒ 2. उत्तरांचल
- ☒ 3. कश्मीर
- ☒ 4. पंजाब

Comprehension:

नीचे दिये गए गद्यांश को पढ़कर पूछे गये प्रश्नों के उत्तर दीजिए।

भोजपत्र हिमालय प्रदेश में पैदा होने वाले 'भूर्ज' नामक वृक्ष की छाल है। इनकी ऊँचाई कभी-कभी 60 फुट तक जाती है। हिमालय में साधारणतः 14000 फुट की ऊँचाई पर ये बहुतायत से पाए जाते हैं। इनकी छाल कागज की भांति होती है। इस छाल को लेखक लोग अपनी इच्छानुसार लंबाई-चौड़ाई को काट-कर उस पर स्याही से लिखते थे। अब तो यह केवल तंत्र-मंत्र के काम ही आता है, पर किसी जमाने में कश्मीर तथा हिमालय प्रदेशों में भूर्जपत्र पर ही पोथियाँ लिखी जाती थीं। अधिकतर भूर्जपत्र की पुस्तकें कश्मीर से ही मिलती हैं। भोजपत्र की सबसे पुरानी पुस्तक खरोष्ठी लिपि में लिखा हुआ प्राकृत (पालीवाला नहीं) 'धम्मपद' नामक प्रसिद्ध ग्रंथ है, जो संभवतः ईसवी सन् की तीसरी शताब्दी का है। सबसे पुरानी संस्कृत-पुस्तक जो भोजपत्र पर लिखी मिली है, वह 'संयुक्तागम सूत्र' है। खरोष्ठीवाली पुस्तक का काल निश्चित रूप से नहीं कहा जा सकता। यह खोतान से प्राप्त हुई थी।

SubQuestion No : 7

Q.7 भोजपत्र पर लिखी सबसे पुरानी संस्कृत पुस्तक है:

Question ID : 7230533355

Ans

- ☒ 1. रामायण
- ☒ 2. संयुक्तागम सूत्र
- ☒ 3. अभिज्ञान शाकुन्तलम्
- ☒ 4. महाभारत

Comprehension:

नीचे दिये गए गद्यांश को पढ़कर पूछे गये प्रश्नों के उत्तर दीजिए।

भोजपत्र हिमालय प्रदेश में पैदा होने वाले 'भूर्ज' नामक वृक्ष की छाल है। इनकी ऊँचाई कभी-कभी 60 फुट तक जाती है। हिमालय में साधारणतः 14000 फुट की ऊँचाई पर ये बहुतायत से पाए जाते हैं। इनकी छाल कागज की भांति होती है। इस छाल को लेखक लोग अपनी इच्छानुसार लंबाई-चौड़ाई को काट-कर उस पर स्याही से लिखते थे। अब तो यह केवल तंत्र-मंत्र के काम ही आता है, पर किसी जमाने में कश्मीर तथा हिमालय प्रदेशों में भूर्जपत्र पर ही पोथियाँ लिखी जाती थीं। अधिकतर भूर्जपत्र की पुस्तकें कश्मीर से ही मिलती हैं। भोजपत्र की सबसे पुरानी पुस्तक खरोष्ठी लिपि में लिखा हुआ प्राकृत (पालीवाला नहीं) 'धम्मपद' नामक प्रसिद्ध ग्रंथ है, जो संभवतः ईसवी सन् की तीसरी शताब्दी का है। सबसे पुरानी संस्कृत-पुस्तक जो भोजपत्र पर लिखी मिली है, वह 'संयुक्तागम सूत्र' है। खरोष्ठीवाली पुस्तक का काल निश्चित रूप से नहीं कहा जा सकता। यह खोतान से प्राप्त हुई थी।

SubQuestion No : 8

Q.8 भोजपत्र का संबंध किस क्षेत्र से है?

Question ID : 7230533352

- Ans
- ☒ 1. हिमालय प्रदेश
 - ☐ 2. अरावली प्रदेश
 - ☐ 3. दक्षिण भारत
 - ☐ 4. दक्कन

Comprehension:

नीचे दिये गए गद्यांश को पढ़कर पूछे गये प्रश्नों के उत्तर दीजिए।

भोजपत्र हिमालय प्रदेश में पैदा होने वाले 'भूर्ज' नामक वृक्ष की छाल है। इनकी ऊँचाई कभी-कभी 60 फुट तक जाती है। हिमालय में साधारणतः 14000 फुट की ऊँचाई पर ये बहुतायत से पाए जाते हैं। इनकी छाल कागज की भांति होती है। इस छाल को लेखक लोग अपनी इच्छानुसार लंबाई-चौड़ाई को काट-कर उस पर स्याही से लिखते थे। अब तो यह केवल तंत्र-मंत्र के काम ही आता है, पर किसी जमाने में कश्मीर तथा हिमालय प्रदेशों में भूर्जपत्र पर ही पोथियाँ लिखी जाती थीं। अधिकतर भूर्जपत्र की पुस्तकें कश्मीर से ही मिलती हैं। भोजपत्र की सबसे पुरानी पुस्तक खरोष्ठी लिपि में लिखा हुआ प्राकृत (पालीवाला नहीं) 'धम्मपद' नामक प्रसिद्ध ग्रंथ है, जो संभवतः ईसवी सन् की तीसरी शताब्दी का है। सबसे पुरानी संस्कृत-पुस्तक जो भोजपत्र पर लिखी मिली है, वह 'संयुक्तागम सूत्र' है। खरोष्ठीवाली पुस्तक का काल निश्चित रूप से नहीं कहा जा सकता। यह खोतान से प्राप्त हुई थी।

SubQuestion No : 9

Q.9 भोजपत्र का नामकरण किस वृक्ष के आधार पर हुआ?

Question ID : 7230533353

- Ans
- ☒ 1. कुटज
 - ☒ 2. भोज
 - ☒ 3. चीड़
 - ☒ 4. भूर्ज

Comprehension:

नीचे दिये गए गद्यांश को पढ़कर पूछे गये प्रश्नों के उत्तर दीजिए।

भोजपत्र हिमालय प्रदेश में पैदा होने वाले 'भूर्ज' नामक वृक्ष की छाल है। इनकी ऊँचाई कभी-कभी 60 फुट तक जाती है। हिमालय में साधारणतः 14000 फुट की ऊँचाई पर ये बहुतायत से पाए जाते हैं। इनकी छाल कागज की भांति होती है। इस छाल को लेखक लोग अपनी इच्छानुसार लंबाई-चौड़ाई को काट-कर उस पर स्याही से लिखते थे। अब तो यह केवल तंत्र-मंत्र के काम ही आता है, पर किसी जमाने में कश्मीर तथा हिमालय प्रदेशों में भूर्जपत्र पर ही पोथियाँ लिखी जाती थीं। अधिकतर भूर्जपत्र की पुस्तकें कश्मीर से ही मिलती हैं। भोजपत्र की सबसे पुरानी पुस्तक खरोष्ठी लिपि में लिखा हुआ प्राकृत (पालीवाला नहीं) 'धम्मपद' नामक प्रसिद्ध ग्रंथ है, जो संभवतः ईसवी सन् की तीसरी शताब्दी का है। सबसे पुरानी संस्कृत-पुस्तक जो भोजपत्र पर लिखी मिली है, वह 'संयुक्तागम सूत्र' है। खरोष्ठीवाली पुस्तक का काल निश्चित रूप से नहीं कहा जा सकता। यह खोतान से प्राप्त हुई थी।

SubQuestion No : 10

Q.10 प्राकृत ग्रंथ 'धम्मपद' कहाँ से प्राप्त हुआ था?

Question ID : 7230533356

- Ans
- ☒ 1. खोतान
 - ☐ 2. जयपुर
 - ☐ 3. चंडीगढ़
 - ☐ 4. पटियाला

Q.11 नीचे दिये गए विकल्प में से सही उत्तर चुनें।

Question ID : 7230533360

जब शिक्षकों को विषय सामग्री, पाठ्यक्रम और _____ का सुरक्षित ज्ञान हो, तब कक्षा शिक्षण प्रभावी हो सकता है।

- Ans
- ☐ 1. शिक्षा पहल
 - ☐ 2. शैक्षणिक प्रावधान
 - ☐ 3. नीतियाँ
 - ☒ 4. शैक्षणिक सामग्री

Q.12 सही विकल्प चुनें।

Question ID : 7230533362

जब पुरुष और महिलाएँ समान अधिकारों का उपभोग करती हैं, तो इसे _____ कहा जाता है।

- Ans
- ☐ 1. लैंगिक रूढ़ धारणा
 - ☒ 2. लैंगिक समानता
 - ☐ 3. लैंगिक असमानता
 - ☐ 4. लैंगिक निष्पक्षता

Q.13 सरसरी निगाह से देखना (स्कैमिंग) और कम वीक्षण (स्कैनिंग) _____ के प्रकार हैं।

Question ID : 7230533364

Ans

- ☒ 1. पाठन तकनीक
- ☐ 2. दृश्य तकनीक
- ☐ 3. लेखन तकनीक
- ☐ 4. निरीक्षण तकनीक

Q.14 रिक्त स्थान की पूर्ति के लिए उपयुक्त विकल्प चुनें।

Question ID : 7230533357

पाठ या कागज जैसी सामान्य वस्तुओं के लिए जितना संभव हो उतना उपयोग सूपोषक करना _____ के लिए एक परीक्षण है।

Ans

- ☐ 1. ज्ञान
- ☐ 2. भावनाएँ
- ☐ 3. बुद्धि
- ☒ 4. रचनात्मकता

Q.15 निम्नलिखित में से चुनें।

Question ID : 7230533358

शिक्षा प्रणाली और शिक्षक मान्यता के प्रबंधन के लिए उत्तरदायी बोर्ड _____ हैं।

Ans

- ☐ 1. सी.बी.एस.ई. और एन.यू.ई.पी.ए.
- ☐ 2. सी.बी.एस.ई. और एन.सी.ई.आर.टी.
- ☐ 3. एन.यू.ई.पी.ए. और एन.आई.ओ.एस.
- ☒ 4. एन.यू.ई.पी.ए. और एन.सी.ई.आर.टी.

Q.16 खोजी गतिविधियों में छात्रों को सम्मिलित करना उन में निम्नलिखित में से कौन सा गुण विकसित करने की एक उपयुक्त कार्यनीति है?

Question ID : 7230533359

Ans

- ☐ 1. दल (टीम) भावना
- ☒ 2. आत्म-विश्वास
- ☐ 3. क्रोध प्रबंधन
- ☐ 4. देखभाल और चिंता

Q.17 निम्नलिखित विकल्पों में से कौन सा उदाहरण एक अनुशासन और एक विषय का है?

Question ID : 7230533361

Ans

- ☐ 1. जीवविज्ञान और फ्रेंच
- ☐ 2. दंत चिकित्सा और भाषाविज्ञान
- ☐ 3. दर्शन और समाजशास्त्र
- ☒ 4. मनोविज्ञान और अंग्रेज़ी

Q.18 ज्ञान के मूल स्रोत _____ हैं।

Question ID : 7230533366

Ans

- ☐ 1. प्रकटीकरण
- ☐ 2. किताबें और पाठन

✓ 3. अनुभूति और अनुभवजन्य ज्ञान

✗ 4. प्रतिफल

Q.19 मूर्तिकला _____ का एक उदाहरण है।

Question ID : 7230533365

Ans

✗ 1. प्रदर्शन कला

✗ 2. समकालीन कला

✓ 3. दृश्य कला

✗ 4. रंगमंच स्वरूप

Q.20 सूक्ष्म-शिक्षण की सीमाओं में से एक यह है कि _____।

Question ID : 7230533363

Ans

✓ 1.

कौशल पर बल दिया जाता है न कि सामग्री पर

✗ 2. सभी कौशल समाविष्ट हैं

✗ 3.

इसका निरीक्षण या मूल्यांकन नहीं किया जा सकता है

✗ 4. इसमें समय लगता है

DSSSB AUG 2018

Participant ID:	HaryanaJobs.in
Participant Name:	
Test Center Name:	iON Digital Zone iDZ 2 GT Karnal Road
Test Date:	28/08/2018
Test Time:	12:30 PM - 2:30 PM
Subject:	TGT HINDI MALE

Section : Mental Ability

Q.1 यदि L का अर्थ + है, M का अर्थ - है, N का अर्थ \times है, P का अर्थ \div है, तो निम्नलिखित का मान क्या होगा?

Question ID : 7230532974

6N12L14P7M5=?

- Ans
- ☒ 1. 65
 - ☒ 2. 69
 - ☒ 3. 70
 - ☒ 4. 72

Q.2 निम्नलिखित श्रृंखला में अनुपस्थित पद क्या होगा?

Question ID : 7230532980

B3, D6, H12, N24, ?

- Ans
- ☒ 1. V48
 - ☒ 2. Q48
 - ☒ 3. S48
 - ☒ 4. P48

Q.3 एम्मीटर, विद्युत धारा से उसी प्रकार संबंधित है, जिस प्रकार बैरोमीटर _____ से संबंधित है।

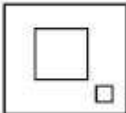
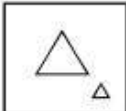
Question ID : 7230532961

दिये गए विकल्पों में से ज्ञात करें।

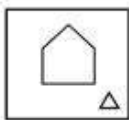
- Ans
- ☒ 1. शक्ति
 - ☒ 2. तापमान
 - ☒ 3. वोल्टेज
 - ☒ 4. दाब

Q.4 श्रृंखला में से विषम आकृति का चयन करें।

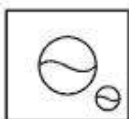
Question ID : 7230532963

- Ans
- ☒ 1. 
 - ☒ 2. 

✓ 3.

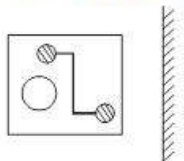


✗ 4.



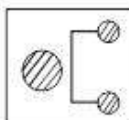
Q.5 निम्नलिखित आकृति के लिए दर्पण छवि की पहचान करें।

Question ID : 7230532964

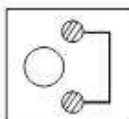


Ans

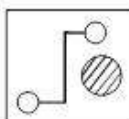
✗ 1.



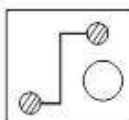
✗ 2.



✗ 3.

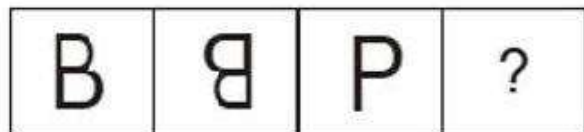


✓ 4.



Q.6 श्रृंखला में आगामी आकृति कौन सी होगी?

Question ID : 7230532965



Ans

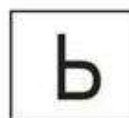
✓ 1.



✗ 2.



✗ 3.



✗ 4.

9

Q.7 समीर और प्रशांत की वर्तमान आयु क्रमशः 2 : 3 के अनुपात में है। 6 वर्ष पश्चात आयु का अनुपात क्रमशः 4 : 5 हो जाएगा। प्रशांत की वर्तमान आयु क्या है?

Question ID : 7230532976

Ans ✗ 1. 6

✗ 2. 36

✗ 3. 12

✓ 4. 9

Q.8 आप कार से कार्यालय जा रहे हैं। यदि आप सड़क पर सहायता के लिए पुकार रहे किसी दुर्घटनाग्रस्त व्यक्ति को देखते हैं, तो वह सर्वोत्तम विकल्प चुनें जो आप पहले करेंगे।

Question ID : 7230532969

Ans ✓ 1.

एम्बुलेंस को फ़ोन करेंगे या उसे उपचार के लिए किसी भी माध्यम से अस्पताल ले जाएंगे

✗ 2.

उसकी देखभाल करने के लिए उसके परिवार के सदस्यों को फ़ोन करेंगे

✗ 3.

उसे छोड़ देंगे और अपने कार्य के लिए आगे बढ़ जाएंगे

✗ 4. पुलिस स्टेशन को फ़ोन करेंगे

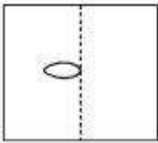
Q.9 जब पारदर्शी पत्रक (शीट) को बिंदुवार रेखा (डॉटेड लाइन) पर मोड़ा जाता है तो आकृति कैसी प्रतीत होती है?

Question ID : 7230532970

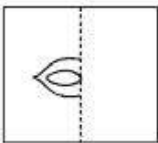


Ans

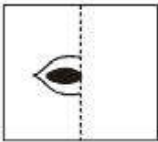
✗ 1.



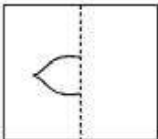
✓ 2.



✗ 3.



✗ 4.



Q.10

Question ID : 7230532968

निम्नलिखित जानकारी को सावधानीपूर्वक पढ़ें और नीचे दिये गए प्रश्न का उत्तर दें

एक शोध संगठन (रिसर्च ऑर्गेनाइजेशन) में वैज्ञानिक की भर्ती के मापदंड

निम्नलिखित हैं। अभ्यर्थी -

- (1) न्यूनतम 65% अंकों के साथ गणित/ भौतिकी/ रसायन विज्ञान विषय में स्नातकोत्तर होना चाहिए
- (2) 01-01-2018 को 26 वर्ष से कम और 35 वर्ष से अधिक नहीं होना चाहिए
- (3) के पास 50% से अधिक अंकों के साथ पोस्ट-डॉक्टोरल की उपाधि होनी चाहिए
- (4) को उपरोक्त क्षेत्रों में कम से कम 3 वर्ष का अनुभव होना चाहिए
- (5) को एक वर्ष के लिए परीक्षा (प्रोबेशन) के लिए तैयार होना चाहिए

यदि अभ्यर्थी (3) के अतिरिक्त उपरोक्त सभी मापदंडों को पूर्ण करता है तो उसे परियोजना वैज्ञानिक के रूप में निर्दिष्ट किया जा सकता है।

यदि अभ्यर्थी (3) और (4) के अतिरिक्त उपरोक्त सभी मापदंडों को पूर्ण करता है तो उसे कनिष्ठ वैज्ञानिक के रूप में निर्दिष्ट किया जा सकता है।

यदि अभ्यर्थी प्रासंगिक क्षेत्रों में 7 वर्षों के अनुभव के साथ उपरोक्त सभी मापदंडों को पूर्ण करता है तो उसे वरिष्ठ वैज्ञानिक के रूप में निर्दिष्ट किया जा सकता है। यदि अभ्यर्थी प्रासंगिक क्षेत्र में 12 वर्षों के अनुभव के साथ उपरोक्त सभी मापदंडों को पूर्ण करता है तो उसे मुख्य वैज्ञानिक के रूप में निर्दिष्ट किया जा सकता है।

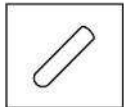
सुधीर की आयु 1/1/18 को 28 वर्ष है, उसके पास गणित में पोस्ट डॉक्टोरियल और स्नातकोत्तर की उपाधियाँ हैं, उसने अकादमिक शिक्षा में भी 75% से अधिक अंक प्राप्त किये हैं। उसके पास कोई अनुभव नहीं है, किंतु वह नौकरी के एक वर्ष के लिए परीक्षा (प्रोबेशन) पर रहने के लिए तैयार है। उसे किस पद के लिए निर्दिष्ट किया जा सकता है?

Ans

- ☒ 1. मुख्य वैज्ञानिक
- ☒ 2. वैज्ञानिक
- ☒ 3. कनिष्ठ वैज्ञानिक
- ☒ 4. वरिष्ठ वैज्ञानिक

Q.11 जात करें कि किस विकल्प में दी गई आकृति अंतःस्थापित (एम्बेडेड) है।

Question ID : 7230532967



Ans

- ☒ 1.
- ☒ 2.
- ☒ 3.
- ☒ 4.

Q.12 शब्दों के विषम युग्म का चयन करें।

Question ID : 7230532977

- Ans
- ☒ 1. हृदय रोग विज्ञान : हृदय
 - ☒ 2. कवक विज्ञान : कीट
 - ☒ 3. रक्त रोग विज्ञान : रक्त
 - ☒ 4. शरीर क्रिया विज्ञान : शरीर

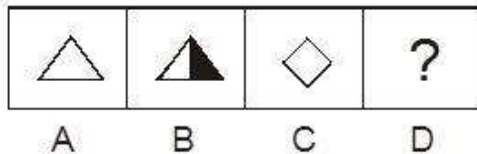
Q.13 एक व्यक्ति की ओर संकेत करते हुए, एक महिला ने कहा, वह मेरे पिता की बहन का पुत्र है। तो उस व्यक्ति का संबंध उस महिला के साथ किसके रूप में है?

Question ID : 7230532973

- Ans
- ☒ 1. चाचा/ मामा/ फूफा/ मौसा/ काका/ ताऊ
 - ☒ 2. चचेरे भाई/ ममेरे भाई
 - ☒ 3. पिता
 - ☒ 4. भाई

Q.14 'D' के लिए उपयुक्त आकृति का चयन करें।

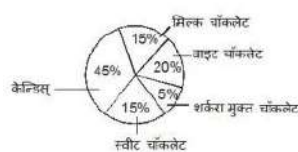
Question ID : 7230532962



- Ans
- ☒ 1.
 - ☒ 2.
 - ☒ 3.
 - ☒ 4.

Q.15 निम्नलिखित पाई लेखाचित्र (चार्ट) "LMN" कंपनी द्वारा चॉकलेट के उत्पादन के संबंध में जानकारी दर्शाता है। सभी उत्पादों की बिक्री द्वारा प्राप्त राजस्व \$ 12,400 है।

Question ID : 7230532966



शर्करा मुक्त (शुगर फ्री) चॉकलेट की बिक्री द्वारा प्राप्त राजस्व कितना है?

- Ans
- ☒ 1. \$ 620

☒ 2. \$ 2,480

☒ 3. \$ 310

☒ 4. \$ 1,240

Q.16 कैप्टन और सैनिकों सहित 1600 व्यक्तियों का एक समूह रेलगाड़ी में यात्रा कर रहा है। प्रत्येक 15 सैनिकों के लिए एक कैप्टन है। समूह में कैप्टनों की संख्या कितनी है? दिये गए विकल्पों में से ज्ञात करें।

Question ID : 7230532975

Ans ☒ 1. 25

☒ 2. 50

☒ 3. 100

☒ 4. 75

Q.17 दिये गए विकल्पों में से संख्या के विषम युग्म का चयन करें।

Question ID : 7230532978

Ans ☒ 1. 81 : 729

☒ 2. 25 : 125

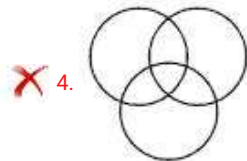
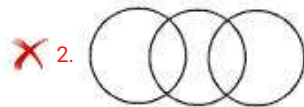
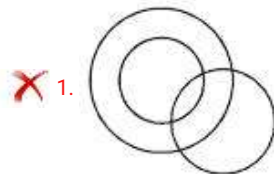
☒ 3. 64 : 256

☒ 4. 49 : 343

Q.18 निम्नलिखित समुच्चय (सेट) "पेडल, हैंडल, साइकिल" के लिए वेन आरेख चुनें।

Question ID : 7230532972

Ans



Q.19 एक पुस्तक में सदा _____ होते हैं।

Question ID : 7230532971

कथन को पूर्ण करने के लिए सर्वोत्तम विकल्प का चयन करें।

Ans ☒ 1. चित्र

☒ 2. पाठ

☒ 3. पृष्ठ

☒ 4. उदाहरण

Q.20 ज्यामितीय उत्तरोत्तर श्रेणी की निम्नलिखित श्रृंखला में सातवीं संख्या क्या होगी?

Question ID : 7230532979

5, 35, 245, 1715, ____

- Ans
- ☐ 1. 84035
 - ☐ 2. 4117715
 - ☐ 3. 12005
 - ☒ 4. 588245

Section : General Awareness

Q.1 जलोढ़ी मिट्टी के संबंध में निम्नलिखित में से कौन सा विकल्प असत्य है?

Question ID : 7230532992

- Ans
- ☐ 1. यह उत्तरी भारत के डेल्टा क्षेत्रों के अधिकांश भागों में पायी जाती है
 - ☐ 2. यह मिट्टी और रेत का मिश्रण है
 - ☐ 3. यह पोषक तत्वों से भरपूर है
 - ☒ 4. यह सब्जियाँ और फल उगाने के लिए उपयुक्त नहीं है

Q.2 _____ कार्बोलिक एसिड में पाया जाने वाला एक हानिकारक पदार्थ है।

Question ID : 7230532996

- Ans
- ☐ 1. सज्जीदार विलयन
 - ☐ 2. लाल मदिरा
 - ☐ 3. अनबुझा चूना
 - ☒ 4. फिनाँल

Q.3 बहाई मंदिर कहाँ स्थित है?

Question ID : 7230532989

- Ans
- ☐ 1. उदयपुर में
 - ☒ 2. नई दिल्ली में
 - ☐ 3. तंजावुर में
 - ☐ 4. मथुरा में

Q.4 टेनिस के खेल में, सर्विस बॉक्स में गेंद इस प्रकार डालते हैं कि उसे विरोधी खिलाड़ी अपने पैकेट से स्पर्श या वापस नहीं कर सकता/सकती है, उसे क्या कहा जाता है?

Question ID : 7230532988

- Ans
- ☐ 1. लेट
 - ☒ 2. एस
 - ☐ 3. फॉल्ट
 - ☐ 4. लॉब

Q.5

Question ID : 7230532999

भारतीय मृदा विज्ञान संस्थान (IISS) कहाँ स्थित है?

Ans

- ☒ 1. लुधियाना, पंजाब
- ☒ 2. कोयंबतूर, तमिलनाडु
- ☒ 3. भोपाल, मध्य प्रदेश
- ☒ 4. करनाल, हरियाणा

Q.6 निम्नलिखित में से क्या तत्वों के वर्गीकरण के अंतर्गत नहीं आता है?

Question ID : 7230532995

Ans

- ☒ 1. जल
- ☒ 2. धातुएँ
- ☒ 3. उपधातुएँ
- ☒ 4. गैर-धातुएँ

Q.7 जैसा कि अंतरराष्ट्रीय ओलिंपिक समिति द्वारा निश्चित किया गया है, _____ ओलिंपिक खेल 2024 की मेज़बानी करेगा।

Question ID : 7230532987

Ans

- ☒ 1. लॉस एंजिल्स
- ☒ 2. टोक्यो
- ☒ 3. पेरिस
- ☒ 4. माँस्को

Q.8 भारत ने 1974 और 1976 में किये गए समझौते के अंतर्गत श्रीलंका को _____ द्वीप का स्वामित्व सौंपा।

Question ID : 7230532991

Ans

- ☒ 1. नील
- ☒ 2. हैवलाक
- ☒ 3. साल्सेट
- ☒ 4. कच्छथीवू

Q.9 निम्नलिखित में से तीन विकल्प भारत में प्रचलित प्रकार के न्यूक्लियर फंड्स का सही वर्गीकरण करते हैं। विषय विकल्प ज्ञात करें।

Question ID : 7230532994

Ans

- ☒ 1. लार्ज कैप फंड्स
- ☒ 2. शॉर्ट कैप फंड्स
- ☒ 3. मल्टी कैप फंड्स
- ☒ 4. मिड कैप फंड्स

Q.10 निम्नलिखित में से वे कौन भारत के पूर्व प्रधान मंत्री हैं, जो लोकसभा के सदस्य नहीं थे?

Question ID : 7230532983

Ans

- ☒ 1. चंद्रशेखर
- ☒ 2. विश्वनाथ प्रताप सिंह

✓ 3. मनमोहन सिंह

✗ 4. पी.वी. नरसिम्हा राव

Q.11 2015 में, वैज्ञानिकों ने लिगो (LIGO) नामक उपकरण का प्रयोग करके पहली बार _____ तरंगों का पता लगाया।

Question ID : 7230532998

Ans

✗ 1. सोनार

✗ 2. भूकंपीय

✗ 3. विद्युत् चुम्बकीय

✓ 4. गुरुत्वाकर्षण

Q.12 निम्नलिखित में से किसने भारत के वित्त मंत्री के रूप में कार्य नहीं किया?

Question ID : 7230532986

Ans

✗ 1. यशवंत सिन्हा

✓ 2. लालकृष्ण आडवाणी

✗ 3. पी. चिदंबरम्

✗ 4. जसवंत सिंह

Q.13 निम्नलिखित में से कौन दूसरी बार भारत के प्रधान मंत्री नहीं बने?

Question ID : 7230532984

Ans

✓ 1. अटल बिहारी वाजपेयी

✗ 2. इंदिरा गांधी

✗ 3. जवाहर लाल नेहरू

✗ 4. मनमोहन सिंह

Q.14 _____ का मुख्यालय वियेना, ऑस्ट्रिया में है।

Question ID : 7230533000

Ans

✗ 1. विश्व व्यापार संगठन (डब्ल्यू.टी.ओ.)

✗ 2. विश्व स्वास्थ्य संगठन (डब्ल्यू.एच.ओ.)

✓ 3.

पेट्रोलियम निर्यातक देशों का संगठन (ओ.पी.इ.सी.)

✗ 4. अंतरराष्ट्रीय श्रम संगठन (आय.एल.ओ)

Q.15 भारतीय राष्ट्रीय ध्वज में सफेद पट्टी के केंद्र में स्थित अशोक चक्र क्या दर्शाता है?

Question ID : 7230532985

Ans

✗ 1. त्याग

✗ 2. शक्ति और साहस

✓ 3. धर्म

✗ 4. उर्वरता और विकास

Q.16 अलेक्जेंडर रोड और थॉमस मुनरो के शासनकाल के दौरान _____ व्यवस्था को धीरे-धीरे संपूर्ण दक्षिण भारत में विस्तारित किया गया था।

Question ID : 7230532982

- Ans
- ☒ 1. महलवारी
 - ☒ 2. रैयतवाड़ी
 - ☒ 3. जागीरदारी
 - ☒ 4. स्थायी निपटान

Q.17 यदि किसी संपत्ति को उसके मूल्य में किसी प्रकार की हानि के बिना बेचना या नकद में परिवर्तित करना सरल हो, तो उसे क्या कहा जाता है?

Question ID : 7230532993

- Ans
- ☒ 1. सरलता से प्राप्त धन
 - ☒ 2. वित्तीय आस्ति
 - ☒ 3. द्रव आस्ति
 - ☒ 4. तरल आस्ति

Q.18 निम्नलिखित में से कौन दिल्ली सल्तनत से संबंधित नहीं था?

Question ID : 7230532981

- Ans
- ☒ 1. मोहम्मद गोरी
 - ☒ 2. अलाउद्दीन खिलजी
 - ☒ 3. गयास-उद-दीन बलबान
 - ☒ 4. मोहम्मद बिन तुगलक

Q.19 _____ को विश्व व्याप्त संजाल (वर्ल्ड वाइड वेब) का आविष्कार करने का श्रेय दिया जाता है।

Question ID : 7230532997

- Ans
- ☒ 1. टिम बर्नर्स - ली
 - ☒ 2. जेम्स डायसन
 - ☒ 3. हेनरी फ़ोर्ड
 - ☒ 4. बिल गेट्स

Q.20 क्षेत्र का उसी क्षेत्र से संबंधित कला से संबद्ध पारंपरिक रंगमंच स्वरूप का मिलान करें।

Question ID : 7230532990

a. भांड पाथर	e. गुजरात
b. यक्षगान	f. कश्मीर
c. भवाई	g. पश्चिम बंगाल
d. जात्रा	h. कर्नाटक

- Ans
- ☒ 1. c-h, b-e, a-f, d-g
 - ☒ 2. d-f, a-g, b-h, c-e
 - ☒ 3. d-g, b-h, c-e, a-f
 - ☒ 4. b-f, a-h, c-e, d-g

Section : Arithmetic Ability

Q.1 माना की x एक न्यूनतम संख्या है जो 12, 16 तथा 24 से विभाज्य है, लेकिन जब इसे 13 से भाग दें, तो शेषफल 1 है। जब x को 52 से भाग दिया जाए तो शेषफल क्या होगा?

Question ID : 7230533004

Ans

- ✓ 1. 40
 ✗ 2. 39
 ✗ 3. 37
 ✗ 4. 42

Q.2 यदि $x = 57^{492} \times 74^{231} \times 23^{59}$ है, तो x में इकाई का अंक क्या है?

Question ID : 7230533001

- Ans ✗ 1. 7
 ✗ 2. 4
 ✗ 3. 1
 ✓ 4. 8

Q.3 धातु के एक ठोस आयताकार ब्लॉक, जिसकी लंबाई 16 सेमी, चौड़ाई 11 सेमी और ऊँचाई 7 सेमी हैं, को पिघलाकर एक ठोस लंब वृत्तीय बेलन के रूप में ढाला जाता है, जिसकी ऊँचाई 8 सेमी है। बेलन का संपूर्ण पृष्ठीय क्षेत्रफल है: ($\pi = \frac{22}{7}$ लीजिए)

Question ID : 7230533017

- Ans ✓ 1. 660 सेमी^2
 ✗ 2. 550 सेमी^2
 ✗ 3. 308 सेमी^2
 ✗ 4. 352 सेमी^2

Q.4 वस्तुएँ A तथा B के क्रय मूल्यों में $x : y$ का अनुपात है। अगले दो वर्षों में A के मूल्य में 10% की वृद्धि और B के मूल्य में 20% की कमी हुई है। यदि दो वर्ष के पश्चात, उनके मूल्यों में 10 : 7 का अनुपात है, तो $\frac{80y - 2x}{50y + 6x}$ का क्या मान है?

Question ID : 7230533010

- Ans ✗ 1. $1\frac{31}{69}$
 ✗ 2. $1\frac{13}{17}$
 ✓ 3. $1\frac{3}{17}$
 ✗ 4. $1\frac{3}{69}$

Q.5 किसी वस्तु के अंकित मूल्य और क्रय मूल्य में 5 : 3 का अनुपात है, जबकि उसके अंकित मूल्य और विक्रय मूल्य में 9 : 5 का अनुपात है। लाभ हानि प्रतिशत क्या है?

Question ID : 7230533007

- Ans ✓ 1. $7\frac{11}{27}\%$ हानि
 ✗ 2. 8% हानि
 ✗ 3. 8% लाभ
 ✗ 4. $7\frac{11}{27}\%$ लाभ

Q.6 अविन अपनी आय का 70% खर्च करता है। उसकी आय में $x\%$ की वृद्धि तथा उसके खर्च में 10% की वृद्धि होती है। यदि उसकी बचत में $16\frac{2}{3}\%$ की वृद्धि हो, तो x का मान क्या है?

Question ID : 7230533005

- Ans ✗ 1. 15
 ✗ 2. 10
 ✓ 3. 12

✗ 4. 18

Q.7 एक मैदान समबाहु त्रिभुजाकार है। मैदान के अन्दर किसी एक बिंदु से इसकी भुजाओं की न्यूनतम दूरियाँ 16 मी, 20 मी और 22 मी हैं। मैदान का क्षेत्रफल क्या है? (एक पूर्णांक के सन्निकट)

Question ID : 7230533018

Ans ✗ 1. 2040

✗ 2. 1964

✓ 3. 1942

✗ 4. 1840

Q.8 ₹ 50460 की एक राशि को दो भागों A और B में इस प्रकार बांटा गया है कि 8 वर्ष पश्चात A का मिश्रधन और 10 वर्ष के पश्चात B का मिश्रधन चक्रवृद्धि ब्याज द्वारा 5% वार्षिक दर से बराबर है, जबकि ब्याज वार्षिक संयोजित है। A और B का अंतर क्या है?

Question ID : 7230533012

Ans ✗ 1. ₹ 2400

✗ 2. ₹ 2500

✓ 3. ₹ 2460

✗ 4. ₹ 2640

Q.9 एक नाव धारा के प्रतिकूल 4 किमी की दूरी और धारा के अनुकूल 6 किमी की दूरी एक घंटे में तय करती है, जबकि यह धारा के प्रतिकूल 6 किमी की दूरी और धारा के अनुकूल 4 किमी की दूरी एक घंटे 5 मिनट में तय करती है। नाव की शांत जल में चाल (किमी/घं में) क्या है?

Question ID : 7230533014

Ans ✗ 1. 9

✓ 2. 10

✗ 3. 8

✗ 4. 12

Q.10 तीन घोलों में स्पिरिट तथा पानी का अनुपात क्रमशः 2 : 3, 3 : 4 और 4 : 5 हैं और उनको 5 : 3 : 2 को अनुपात में मिलाया जाता है। इस प्रकार प्राप्त घोल के 1.26 लीटर घोल में 318 मिलीलीटर पानी मिलाया जाता है। अंतिम घोल में स्पिरिट और पानी की अनुपात है:

Question ID : 7230533011

Ans ✓ 1. 1 : 2

✗ 2. 2 : 3

✗ 3. 4 : 5

✗ 4. 3 : 4

Q.11 $\left(8 \div \frac{2}{3} \text{ of } \frac{4}{5}\right) \times \frac{(0.89)^2 + 0.64(1.53)}{(0.89)^3 - (0.64)^3} \div \left(8 \times \frac{2}{3} \div \frac{4}{5}\right)$ का मान है:

Question ID : 7230533003

Ans ✗ 1. 0.9

✓ 2. 9

✗ 3. 3

✗ 4. 0.3

Q.12 एक व्यक्ति 4 पंखे और 9 घड़ियाँ ₹ 26800 में खरीदता है। यदि वह पंखों को 10% लाभ और घड़ियों को 20% लाभ पर बेचता है तो उसे ₹ 3760 का लाभ प्राप्त होता है। 2 पंखे और 3 घड़ियों का कुल कितना क्रय मूल्य है?

Question ID : 7230533008

Ans ✗ 1. ₹ 15600

✗ 2. ₹ 14400

✓ 3. ₹ 11600

✗ 4. ₹ 12800

Q.13 किसी व्यक्ति को 360 किमी की दूरी 30 किमी/घं की घाल से तय करनी है। प्रतिदिन वह अपने गंतव्य पर शाम के पांच बजे पहुंच जाता है। एक दिन, उसने 2 घंटे की देरी से चलना आरंभ किया, लेकिन फिर भी शाम के पांच बजे ही पहुंच गया। उसने अपनी घाल में कितने प्रतिशत की वृद्धि की?

Question ID : 7230533015

- Ans
- ☒ 1. 25%
 - ☒ 2. 20%
 - ☒ 3. $16\frac{2}{3}\%$
 - ☒ 4. 24%

Q.14 पंद्रह संख्याओं का औसत 72.4 है। पहली छः संख्याओं का औसत 69.5 तथा अगली छः संख्याओं का औसत 74.5 है। 13वीं संख्या 14वीं संख्या से 8 कम है लेकिन 15वीं संख्या से 8 अधिक है। 13वीं और 15वीं संख्याओं का औसत है:

Question ID : 7230533009

- Ans
- ☒ 1. 78
 - ☒ 2. 71.6
 - ☒ 3. 70
 - ☒ 4. 73.5

Q.15 यदि A के $\frac{1}{3}$ भाग का 50%, B के 25% भाग के 50% के दुगुने के बराबर हो, तो A, B से कितना प्रतिशत अधिक या कम है?

Question ID : 7230533006

- Ans
- ☒ 1. 100% कम
 - ☒ 2. 125% कम
 - ☒ 3. 250% अधिक
 - ☒ 4. 150% अधिक

Q.16 उधार ली गई एक धनराशी को प्रत्येक ₹ 1764 की वार्षिक दो बराबर किस्तों में लौटाया जाना है। यदि ब्याज दर 5% है और ब्याज वार्षिक संयोजित है, तो इस स्कीम में जो ब्याज दिया गया, वह निम्नलिखित है:

Question ID : 7230533013

- Ans
- ☒ 1. ₹ 188
 - ☒ 2. ₹ 248
 - ☒ 3. ₹ 224
 - ☒ 4. ₹ 218

Q.17 किसी काम को करने के लिए A और B बारी बारी से एक-एक दिन काम करते हैं और शुरुआत B करता है। A अकेला उस काम को 48 दिन में पूरा कर सकता है। यदि काम $11\frac{1}{3}$ दिन में पूरा हुआ हो, तो B अकेला उस काम को कितने दिन में पूरा कर सकता है?

Question ID : 7230533016

- Ans
- ☒ 1. $8\frac{1}{2}$ दिन
 - ☒ 2. $6\frac{1}{2}$ दिन
 - ☒ 3. $6\frac{3}{4}$ दिन
 - ☒ 4. $8\frac{1}{4}$ दिन

Q.18 किसी संख्या को 5, 7 और 9 से उत्तरोत्तर भाग देने पर क्रमशः 2, 4 और 6 शेष बचते हैं और अंतिम भागफल 2 है। यदि भाजकों का क्रम उल्टा दिया जाए तो शेषफल क्या होंगे?

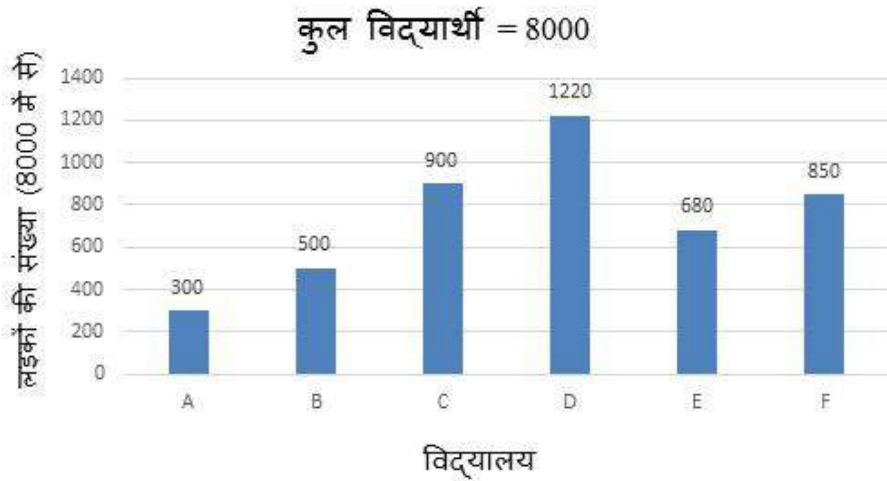
Question ID : 7230533002

- Ans
- ☒ 1. 7, 3 और 2
 - ☒ 2. 6, 3 और 1
 - ☒ 3. 6, 4 और 2

✓ 4. 7, 4 और 3

Comprehension:

निम्नलिखित ग्राफ और सारणी को पढ़िए तथा प्रश्नों के उत्तर दीजिए।



विद्यालय	विद्यार्थियों की प्रतिशतता
A	12
B	10
C	25
D	20
E	15
F	18

SubQuestion No : 19

Q.1 सभी छः विद्यार्थियों में कुल मिलाकर, लड़कियों की कुल संख्या विद्यार्थियों की कुल संख्या का कितना प्रतिशत है?

Question ID : 7230533020

Ans

✗ 1. $45\frac{5}{8}$

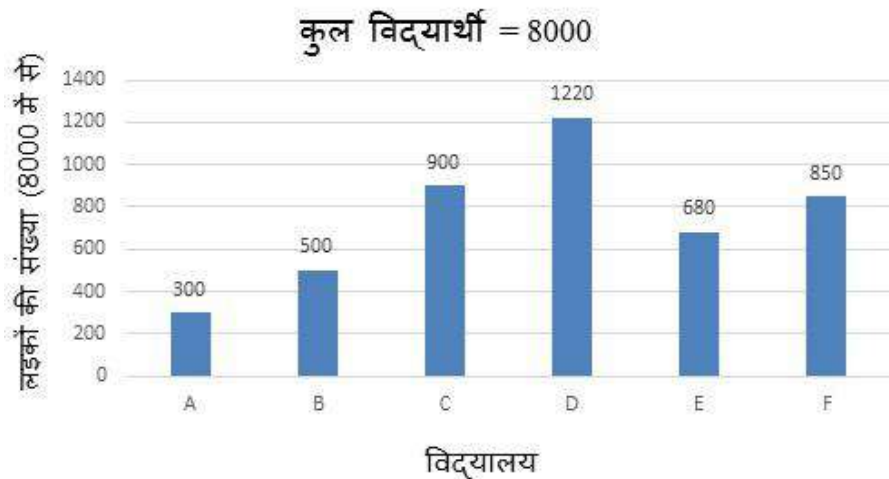
✓ 2. $44\frac{3}{8}$

✗ 3. $55\frac{5}{8}$

✗ 4. $55\frac{3}{8}$

Comprehension:

निम्नलिखित ग्राफ और सारणी को पढ़िए तथा प्रश्नों के उत्तर दीजिए।



विद्यालय	विद्यार्थियों की प्रतिशतता
A	12
B	10
C	25
D	20
E	15
F	18

SubQuestion No : 20

Q.2 किनते विद्यार्थियों में, लड़कों की संख्या सभी विद्यालयों में मिलाकर लड़कियों की औसत संख्या से अधिक है?

Question ID : 7230533021

- Ans
- ☒ 1. 2
 - ☒ 2. 4
 - ☒ 3. 3
 - ☒ 4. 1

Section : General English

Q.1 Fill in the blank in the sentence given below with the correct option.

Question ID : 7230533028

A: I am very hungry. Give me _____ to eat before lunch time.

B: Have _____ banana then. There are quite _____ on the dining table.

- Ans
- ☒ 1. snacks ; some ; many
 - ☒ 2. anything ; a few ; much

✓ 3. something ; a ; a few

✗ 4. any ; the ; many

Q.2 Choose the best option to combine the given sentences into a single sentence.

Question ID : 7230533035

The Mahabharata has a Jain version. In this version, the battle is between Krishna of Dwaraka and Jarasandha, the emperor of Magadha. The battle is not between the Pandavas and the Kauravas.

Ans ✓ 1.

In the Jain tradition of the Mahabharata, the battle is not between the Pandavas and the Kauravas but between Krishna of Dwaraka and Jarasandha, the emperor of Magadha.

✗ 2.

The Jain version of the Mahabharata highlight the battle of Krishna with Jarasandha.

✗ 3.

The Pandavas supported Krishna of Dwaraka against Jarasandha, the emperor of Magadha and the Kauravas supported Jarasandha in the Jain version of the Mahabharata.

✗ 4.

In the Jain version of the Mahabharata, the Pandavas support Krishna of Dwaraka whereas the Kauravas support Jarasandha, the emperor of Magadha.

Q.3 Fill in the blank in the sentence given below with the correct option.

Question ID : 7230533029

I _____ to be rude either to you or to Amit.

Ans ✗ 1. have been wanting

✓ 2. do not want

✗ 3. was not want

✗ 4. am not wanting

Q.4 Fill in the blank in the sentence given below with the correct option.

Question ID : 7230533030

Shivani _____ no sooner _____ the book than her friend _____ her.

Ans ✗ 1. has ; open ; call

✗ 2. has ; found ; call

✗ 3. having ; opening ; calling

✓ 4. had ; opened ; called

Q.5 Fill in the blank in the sentence given below with the correct option.

Question ID : 7230533027

I need to _____ what preventive measures are available to us at this stage of the disease.

Ans ✗ 1. look up to

✗ 2. look down

✗ 3. look forward to

✓ 4. look up

Q.6 Given below is an incorrect sentence. From the given options, select the part that has an error.

Question ID : 7230533031

Have you ever noticed how tired my looks sometime?

Ans ✗ 1. Have you

✗ 2. how tired

✓ 3. looks sometime

✗ 4. ever noticed

Q.7

From the given options, select the word that can substitute the underlined words in the sentence given below.

Question ID : 7230533026

We really don't understand the pain of those who have to walk miles every day to get safe drinking water.

- Ans
- ☒ 1. edible
 - ☒ 2. reliable
 - ☒ 3. potable
 - ☒ 4. dribble

Q.8 Select the indirect form of narration of the given sentence.

Question ID : 7230533034

"Do you know that samosas, kebabs and pulao came to India from the Middle East?" asked my friend Yasmin. "But the use of Indian spices changed the original taste."

- Ans
- ☒ 1. Samosas, kebabs and pulao—all have come to India from the Middle East, my friend Yasmin informed me. But the use of Indian spices changed the taste of these items.
 - ☒ 2. My friend Yasmin asked me if I knew that samosas, kebabs and pulao came to India from the Middle East. She further added that the use of Indian spices changed the original taste.
 - ☒ 3. Indian spices changed the taste of samosas, kebabs and pulao although all these food came from the Middle East.
 - ☒ 4. My friend Yasmin told me that samosas, kebabs and pulao came to India from the Middle East. But the use of Indian spices changed the original taste.

Q.9 Detect the mis-spelt word from the given options.

Question ID : 7230533024

- Ans
- ☒ 1. begining
 - ☒ 2. bereaved
 - ☒ 3. bestow
 - ☒ 4. bemused

Q.10 Choose the passage that is correctly punctuated.

Question ID : 7230533036

- Ans
- ☒ 1. There are many stories about Krishna's childhood, his mother yashoda and the gopikas.
 - ☒ 2. Indians prefer retelling the stories of krishna's childhood and youth with his mother yashoda and the gopikas.
 - ☒ 3. Indians prefer retelling the story of Krishna, his mother yashoda and the gopikas.
 - ☒ 4. Indians prefer retelling stories of Krishna's childhood and youth with his mother Yashoda and the Gopikas.

Q.11 Given below is an incorrect sentence. From the given options, select the part that has an error.

Question ID : 7230533032

Babies given solid food along with milk from three months of age sleep best than those who are solely fed on milk, finds a research study.

- Ans
- ☒ 1. from three months
 - ☒ 2. solely fed on milk,
 - ☒ 3. Babies given solid food
 - ☒ 4. sleep best than those

Q.12 Select the PASSIVE VOICE form of the given sentence.

Question ID : 7230533033

In India, some people consider keeping the Mahabharata in the house inauspicious because it deals with bloodshed and the break-up of a family.

- Ans
- ☒ 1. Some people in India consider the Mahabharata inauspicious because it deals with bloodshed and the break-up of a family.
 - ☒ 2.

In India, the Mahabharata is considered inauspicious (by some people) because it deals with bloodshed and the breakup of a family.

 3.


In India people do not want to keep the Mahabharata in their house because it deals with bloodshed and the break-up of a family.


 4.


As the Mahabharata deals with bloodshed and the breakup of a family, Indians consider the epic inauspicious.


Q.13 From the given options choose the one that would mean the SAME as amiable.

Question ID : 7230533022

Ans  1. aggressive

 2. hostile


 3. good-natured


 4. unfriendly


Q.14 From the given options, select the one that represents the appropriate meaning of the underlined IDIOM in the sentence given below.


Question ID : 7230533025

I feel like a fish out of water when my friends discuss latest fashions and gourmet food.

Ans  1. use an opportunity to best advantage


 2. to feel uncomfortable


 3. wild with excitement


 4. prepare false accounts


Q.15 From the given options choose the one that means the OPPOSITE of terminate.

Question ID : 7230533023

Ans  1. distressing

 2. discontinue

 3. wonderful

 4. introduce

Comprehension:

Read the passage given below and answer the questions that follow.

On June 15, 2018 heavy rains had washed away soil under a portion of the track at Dhancherra between Mungiakami and Ambassa railway stations. Swapan and his nine year old daughter Sumati, saw this while crossing this track in search of bamboo shoots, edible leaves, bark, root, stem and small aquatic animals which they sell to earn some money. But that day Swapan decided to stay beside the track lest a train comes along. The father- daughter duo waited for a long time, and with no track inspection staff in sight, decided to carry on the vigil. Later, they heard the whistle of an approaching train from Ambassa. Realizing that if the train tries to cross the track--- made loose by the heavy downpour—it could mean certain disaster, the two started running towards it, waving a piece of cloth he had on himself. This caught the co-pilot's attention and nearly 2000 passengers managed to escape unhurt.

Since then, Swapan and his daughter have achieved celebrity status. The other members of his family—his wife, four children and his parents—are basking in reflected glory. The state government has already felicitated them in the state assembly and both have been recommended for a bravery award. Swapan has received over Rs. 70,000 in cash and plenty of dresses, sweets and citations. He has also got cheques worth more than Rs. three lakh from various institutions and individuals. But he doesn't know how to encash them. He has been unable to get an Aadhar card or open a bank account because he is illiterate. Recently, all formalities to open a bank account have been completed with the help of local educationists.

SubQuestion No : 16

Q.1
6 Choose the correct option to complete the sentence.

Question ID : 7230533039

Heavy rains had washed away a portion of the railway track between _____ and _____ stations at _____ in Tripura.

- Ans
- ☒ 1. Kumarghat ; Ambassa ; Agartala
 - ☒ 2. Udaipur ; Sabrum ; Agartala
 - ☒ 3. Dharmanagar ; Agartala ; Dhancherra
 - ☒ 4. Mungiakami ; Ambassa ; Dhancherra

Comprehension:

Read the passage given below and answer the questions that follow.

On June 15, 2018 heavy rains had washed away soil under a portion of the track at Dhancherra between Mungiakami and Ambassa railway stations. Swapan and his nine year old daughter Sumati, saw this while crossing this track in search of bamboo shoots, edible leaves, bark, root, stem and small aquatic animals which they sell to earn some money. But that day Swapan decided to stay beside the track lest a train comes along. The father- daughter duo waited for a long time, and with no track inspection staff in sight, decided to carry on the vigil. Later, they heard the whistle of an approaching train from Ambassa. Realizing that if the train tries to cross the track--- made loose by the heavy downpour---it could mean certain disaster, the two started running towards it, waving a piece of cloth he had on himself. This caught the co-pilot's attention and nearly 2000 passengers managed to escape unhurt.

Since then, Swapan and his daughter have achieved celebrity status. The other members of his family—his wife, four children and his parents—are basking in reflected glory. The state government has already felicitated them in the state assembly and both have been recommended for a bravery award. Swapan has received over Rs. 70,000 in cash and plenty of dresses, sweets and citations. He has also got cheques worth more than Rs. three lakh from various institutions and individuals. But he doesn't know how to encash them. He has been unable to get an Aadhar card or open a bank account because he is illiterate. Recently, all formalities to open a bank account have been completed with the help of local educationists.

SubQuestion No : 17

Q.1
7 Choose the correct option.

Question ID : 7230533041

Why could Swapan not encash his cheques?

- Ans
- ☒ 1. There are no banks in Dhancherra village.
 - ☒ 2. He doesn't know about Aadhar card rules.
 - ☒ 3.

He is very poor and earns little money. He doesn't have a bank account.

- ☒ 4.
- Swapan doesn't believe in keeping money in banks.
He kept all his money at home.

Comprehension:

Read the passage given below and answer the questions that follow.

On June 15, 2018 heavy rains had washed away soil under a portion of the track at Dhancherra between Mungiakami and Ambassa railway stations. Swapan and his nine year old daughter Sumati, saw this while crossing this track in search of bamboo shoots, edible leaves, bark, root, stem and small aquatic animals which they sell to earn some money. But that day Swapan decided to stay beside the track lest a train comes along. The father- daughter duo waited for a long time, and with no track inspection staff in sight, decided to carry on the vigil. Later, they heard the whistle of an approaching train from Ambassa. Realizing that if the train tries to cross the track--- made loose by the heavy downpour—it could mean certain disaster, the two started running towards it, waving a piece of cloth he had on himself. This caught the co-pilot's attention and nearly 2000 passengers managed to escape unhurt.

Since then, Swapan and his daughter have achieved celebrity status. The other members of his family—his wife, four children and his parents—are basking in reflected glory. The state government has already felicitated them in the state assembly and both have been recommended for a bravery award. Swapan has received over Rs. 70,000 in cash and plenty of dresses, sweets and citations. He has also got cheques worth more than Rs. three lakh from various institutions and individuals. But he doesn't know how to encash them. He has been unable to get an Aadhar card or open a bank account because he is illiterate. Recently, all formalities to open a bank account have been completed with the help of local educationists.

SubQuestion No : 18


Q.1 Complete the statement by choosing the correct option.

Question ID : 7230533038

The text is about _____

Ans  1.

The state government of Tripura recognizing the extraordinary achievement of an ordinary man.

 2. A poor and illiterate father and daughter who saved the lives of 2000 railway passengers.

 3.

The recognition, awards and gifts that follow an act of selflessness and bravery.

 4.

A brave railway linesman doing his duty against all odds.

Comprehension:

Read the passage given below and answer the questions that follow.

On June 15, 2018 heavy rains had washed away soil under a portion of the track at Dhancherra between Mungiakami and Ambassa railway stations. Swapan and his nine year old daughter Sumati, saw this while crossing this track in search of bamboo shoots, edible leaves, bark, root, stem and small aquatic animals which they sell to earn some money. But that day Swapan decided to stay beside the track lest a train comes along. The father- daughter duo waited for a long time, and with no track inspection staff in sight, decided to carry on the vigil. Later, they heard the whistle of an approaching train from Ambassa. Realizing that if the train tries to cross the track--- made loose by the heavy downpour—it could mean certain disaster, the two started running towards it, waving a piece of cloth he had on himself. This caught the co-pilot's attention and nearly 2000 passengers managed to escape unhurt.

Since then, Swapan and his daughter have achieved celebrity status. The other members of his family—his wife, four children and his parents—are basking in reflected glory. The state government has already felicitated them in the state assembly and both have been recommended for a bravery award. Swapan has received over Rs. 70,000 in cash and plenty of dresses, sweets and citations. He has also got cheques worth more than Rs. three lakh from various institutions and individuals. But he doesn't know how to encash them. He has been unable to get an Aadhar card or open a bank account because he is illiterate. Recently, all formalities to open a bank account have been completed with the help of local educationists.

SubQuestion No : 19


Q.1 Choose the correct option to complete the statement.

Question ID : 7230533042

Swapan supports his family by collecting forest produce and selling them. Yet on June 25, he stayed beside the railway track for a very long time without going about his daily routine. This proves that he _____

Ans  1.

Doesn't bother about his family responsibilities.

 2. Is acutely concerned about others and determined to prevent a tragedy.

 3.

Wanted to get and save some money for his family.

 4.

Extremely idle and doesn't miss an opportunity to relax.

Comprehension:

Read the passage given below and answer the questions that follow.

On June 15, 2018 heavy rains had washed away soil under a portion of the track at Dhancherra between Mungiakami and Ambassa railway stations. Swapan and his nine year old daughter Sumati, saw this while crossing this track in search of bamboo shoots, edible leaves, bark, root, stem and small aquatic animals which they sell to earn some money. But that day Swapan decided to stay beside the track lest a train comes along. The father- daughter duo waited for a long time, and with no track inspection staff in sight, decided to carry on the vigil. Later, they heard the whistle of an approaching train from Ambassa. Realizing that if the train tries to cross the track--- made loose by the heavy downpour—it could mean certain disaster, the two started running towards it, waving a piece of cloth he had on himself. This caught the co-pilot's attention and nearly 2000 passengers managed to escape unhurt.

Since then, Swapan and his daughter have achieved celebrity status. The other members of his family—his wife, four children and his parents—are basking in reflected glory. The state government has already felicitated them in the state assembly and both have been recommended for a bravery award. Swapan has received over Rs. 70,000 in cash and plenty of dresses, sweets and citations. He has also got cheques worth more than Rs. three lakh from various institutions and individuals. But he doesn't know how to encash them. He has been unable to get an Aadhar card or open a bank account because he is illiterate. Recently, all formalities to open a bank account have been completed with the help of local educationists.

SubQuestion No : 20


Q.2
0 Choose the INCORRECT option.


Question ID : 7230533040


The qualities of the father and the daughter that stand out are:

- a. concern for others
- b. sharp observation
- c. greed for money
- d. unselfishness
- e. courage
- f. patience
- g. bad-temper
- h. laziness

Ans  1. b, c, g

 2. a, b, f

 3. c, g, h

 4. e, f, g

Section : General Hindi

Q.1 'अनुराग' शब्द का विलोम होता है:

Question ID : 7230533054

- Ans
- ☒ 1. विराग
 - ☐ 2. आकर्षण
 - ☐ 3. राग
 - ☐ 4. रागिनी

Q.2 'बहुत प्रिय' के लिए मुहावरा है:

Question ID : 7230533057

- Ans
- ☐ 1. आँख से ओझल होना
 - ☒ 2. आँखों का तारा होना
 - ☐ 3. आँखे चार होना
 - ☐ 4. आँखे में धूल झोंकना

Q.3 निम्नलिखित में से स्त्रीलिंग शब्द छाँटिए:

Question ID : 7230533062

- Ans
- ☐ 1. आलू
 - ☐ 2. टमाटर
 - ☒ 3. मटर
 - ☐ 4. धनिया

Q.4 वह धीरे-धीरे मेरी ओर आ रहा है। वाक्य में क्रियाविशेषण पद है:

Question ID : 7230533056

- Ans
- ☐ 1. वह
 - ☐ 2. आ रहा है
 - ☒ 3. धीरे धीरे
 - ☐ 4. मेरी ओर

Q.5 'जो बाणी दवार व्यक्त न किया जा सके'। इस वाक्यांश के लिए एक शब्द होगा:

Question ID : 7230533053

- Ans
- ☐ 1. मानसिक
 - ☒ 2. अनिर्वचनीय
 - ☐ 3. अव्यक्त
 - ☐ 4. मौखिक

Q.6 'कर्ता' शब्द का स्त्रीलिंग रूप होगा:

Question ID : 7230533046

- Ans
- ☐ 1. कर्तु
 - ☒ 2. कर्त्री

☒ 3. कारत्री

☒ 4. करत्री

Q.7 व्यंजन संधि का शब्द है:

Question ID : 7230533048

Ans

☒ 1. जगदीश

☒ 2. सूर्योदय

☒ 3. सदैव

☒ 4. अन्विति

Q.8 डिबिया शब्द में प्रत्यय लगा है:

Question ID : 7230533060

Ans

☒ 1. ईया

☒ 2. इया

☒ 3. या

☒ 4. आ

Q.9 'पर्वत' शब्द का पर्यायवाची शब्द नहीं है:

Question ID : 7230533052

Ans

☒ 1. गिरि

☒ 2. पर्वत

☒ 3. नग

☒ 4. शैलजा

Q.10 वह खाना बना रही है। वाक्य का काल है:

Question ID : 7230533047

Ans

☒ 1. सामान्य वर्तमान

☒ 2. पूर्ण वर्तमान

☒ 3. आसन्न भूत

☒ 4. अपूर्ण वर्तमान

Q.11 कौन-से वर्ग में ओष्ठ्य वर्ण है?

Question ID : 7230533044

Ans

☒ 1. क ख ग

☒ 2. घ च न

☒ 3. ब प म

☒ 4. य श ह

Q.12 मेरे को आज ही दिल्ली जाना है। वाक्य में अशुद्ध पद है:

Question ID : 7230533061

Ans

☒ 1. मेरे को

☒ 2. दिल्ली

☒ 3. आज ही

☒ 4. जाना है

Q.13 निम्नलिखित में से 'विशेषण' शब्द छाँटिए:

Question ID : 7230533055

Ans ☒ 1. आगमन

☒ 2. महाराष्ट्र

☒ 3. शहर

☒ 4. ग्रामीण

Q.14 निम्नलिखित में से तत्सम शब्द चुनिए:

Question ID : 7230533051

Ans ☒ 1. ऊँचा

☒ 2. काजल

☒ 3. अश्रु

☒ 4. जेठ

Q.15 कौन-से वर्ग में दीर्घ स्वर नहीं है?

Question ID : 7230533043

Ans ☒ 1. आ इ ए

☒ 2. ई उ आ

☒ 3. अ उ इ

☒ 4. ऐ ओ अं

Q.16 'अनपढ़' शब्द में उपसर्ग लगा है:

Question ID : 7230533059

Ans ☒ 1. अ

☒ 2. आ

☒ 3. अनु

☒ 4. अन

Q.17 सही वर्तनी वाला शब्द कौन-सा है?

Question ID : 7230533045

Ans ☒ 1. व्यवसायिक

☒ 2. अहल्या

☒ 3. वदोपरान्त

☒ 4. इच्छिक

Q.18 निम्नलिखित में से तद्भव शब्द छाँटिए:

Question ID : 7230533050

Ans ☒ 1. छात्र

☒ 2. चंद्र

☒ 3. दश

✓ 4. कोयल

Q.19 'तू चतुर है मगर मैं तुम से भी ज्यादा' इस भाव को व्यक्त करने के लिए लोकोक्ति है:

Question ID : 7230533058

Ans

- ✗ 1. थोथा चना वाजे घना
- ✗ 2. दादा बड़ा न भैया सबसे बड़ा रूपया
- ✗ 3. दूध का दूध पानी का पानी
- ✓ 4. तू डाल-डाल में पात-पात

Q.20 तत्पुरुष समास कौन-से शब्द में है?

Question ID : 7230533049

Ans

- ✓ 1. गृहागत
- ✗ 2. प्रतिदिन
- ✗ 3. माता-पिता
- ✗ 4. नीलगाय

Section : Subject Related

Q.1 'रानी केतकी की कहानी' के लेखक थे:

Question ID : 7230533064

Ans

- ✗ 1. प्रेमचंद
- ✓ 2. इंशा अल्ला खाँ
- ✗ 3. शिवप्रसाद सिंह
- ✗ 4. देवकीनन्दन खत्री

Q.2 कौन सा उपन्यास अजेय का नहीं है?

Question ID : 7230533073

Ans

- ✗ 1. शेखर एक जीवनी
- ✓ 2. अजय की डायरी
- ✗ 3. अपने-अपने अजनबी
- ✗ 4. नदी के द्वीप

Q.3 'सचेतन कहानी' के पुरोधा हैं:

Question ID : 7230533076

Ans

- ✗ 1. कमलेश्वर
- ✗ 2. गंगाप्रसाद विमल
- ✗ 3. राजेंद्र यादव
- ✓ 4. महीप सिंह

Q.4

‘उदन्त मार्तंड’ नामक हिन्दी पत्र किसने निकाला?

Ans

- ☒ 1. राजा राममोहन राय
- ☒ 2. राममोहन राय
- ☒ 3. राजा लक्ष्मण सिंह
- ☒ 4. पं. जुगुल किशोर

Q.5 भारतेन्दु द्वारा रचित मौलिक नाटक कौन सा है?

Question ID : 7230533079

Ans

- ☒ 1. विद्या सुंदर
- ☒ 2. भारत जननी
- ☒ 3. मुद्रा राक्षस
- ☒ 4. भारत दुर्दशा

Q.6 ‘आनंद कादंबिनी’ पत्र के संपादक थे:

Question ID : 7230533068

Ans

- ☒ 1. भारतेन्दु हरिश्चंद्र
- ☒ 2. बदरीनारायण चौधरी
- ☒ 3. प्रतापनारायण मिश्र
- ☒ 4. बालकृष्ण भट्ट

Q.7 फोर्ट विलियम कालेज के प्राध्यापक नहीं थे:

Question ID : 7230533063

Ans

- ☒ 1. शिवप्रसाद सिंह
- ☒ 2. इंशा अल्ला खाँ
- ☒ 3. सदासुख लाल
- ☒ 4. सदल मिश्र

Q.8 निम्न में कौन सा सही सुमेलित नहीं है?

Question ID : 7230533081

Ans

- ☒ 1. कोणार्क - जगदीश चंद्र माथुर
- ☒ 2. आठवाँ सर्ग - उदयशंकर भट्ट
- ☒ 3. मादा कैक्टस - लक्ष्मीनारायण लाल
- ☒ 4. सिंदूर की होली - लक्ष्मीनारायण मिश्र

Q.9 निम्न में कौन सा सही सुमेलित नहीं है?

Question ID : 7230533074

Ans

- ☒ 1. गुनाहों के देवता - धर्मवीर भारती

- ☒ 2. कितने पाकिस्तान - कमलेश्वर
- ☒ 3. सारा आकाश - राजेंद्र यादव
- ☒ 4. उसका बचपन - मन्नू भण्डारी

Q.10 'नासिकेतोपाख्यान' किसकी रचना है?

Question ID : 7230533065

- Ans
- ☒ 1. सदासुख लाल
 - ☒ 2. लल्लू लाल
 - ☒ 3. सदन मिश्र
 - ☒ 4. लक्ष्मण सिंह

Q.11 'इन्दुमती' कहानी के लेखक कौन थे?

Question ID : 7230533075

- Ans
- ☒ 1. भगवान दास
 - ☒ 2. किशोरीलाल गोस्वामी
 - ☒ 3. राधाचरण गोस्वामी
 - ☒ 4. गिरिजा दत्त वाजपेयी

Q.12 'प्रजा हितैषी' नामक पत्र कौन निकालता था?

Question ID : 7230533067

- Ans
- ☒ 1. राजा लक्ष्मण सिंह
 - ☒ 2. राजा शिवप्रसाद सिंह
 - ☒ 3. भारतेन्दु हरिश्चंद्र
 - ☒ 4. राजा राममोहन राय

Q.13 निम्न में कौन-सा सही सुमेलित नहीं है?

Question ID : 7230533077

- Ans
- ☒ 1. जगदंबा बाबू गाँव आ रहे हैं - चित्रा मुद्गल
 - ☒ 2. यही सच है - मन्नू भण्डारी
 - ☒ 3. डेफोडिल जल रहे हैं - मृदुला गर्ग
 - ☒ 4. बादलों के घेरे - उषा प्रियंवदा

Q.14 निम्न में से कौन सा नाटक मोहन राकेश का नहीं है?

Question ID : 7230533080

- Ans
- ☒ 1. हानूश
 - ☒ 2. आधे-अधूरे
 - ☒ 3. लहरों के राजहंस
 - ☒ 4. आषाढ़ का एक दिन

Q.15 निम्न में से कौन सा प्रेमचंद का उपन्यास नहीं है?

Question ID : 7230533071

- Ans
- ☐ 1. गबन
 - ☐ 2. निर्मला
 - ☐ 3. सेवासदन
 - ☒ 4. देहाती दुनिया

Q.16 'परीक्षा गुरु' उपन्यास कब प्रकाशित हुआ था?

Question ID : 7230533069

- Ans
- ☐ 1. 1877 ई.
 - ☒ 2. 1882 ई.
 - ☐ 3. 1872 ई.
 - ☐ 4. 1887 ई.

Q.17 'निस्सहाय हिन्दू' उपन्यास के लेखक थे:

Question ID : 7230533070

- Ans
- ☐ 1. जगमोहन सिंह
 - ☒ 2. राधाकृष्ण दास
 - ☐ 3. बालकृष्ण भट्ट
 - ☐ 4. लाला श्रीनिवास दास

Q.18 'कारवाँ' एकांकी के रचनाकार कौन हैं?

Question ID : 7230533082

- Ans
- ☐ 1. जयशंकर प्रसाद
 - ☐ 2. गिरिजा कुमार माथुर
 - ☐ 3. रामकुमार वर्मा
 - ☒ 4. भुवनेश्वर प्रसाद

Q.19 'नहुष' नाटक के रचनाकार हैं-

Question ID : 7230533078

- Ans
- ☐ 1. भारतेन्दु हरिश्चंद्र
 - ☐ 2. श्रीनिवास दास
 - ☒ 3. गोपाल चंद्र
 - ☐ 4. जयशंकर प्रसाद

Q.20 निम्न में कौन सा सही सुमेलित नहीं है?

Question ID : 7230533072

- Ans
- ☐ 1. वैशाली की नगरवधू - चतुरसेन शास्त्री

- ☒ 2. चित्रलेखा - भगवती चरण वर्मा
- ☒ 3. बाणभट्ट की आत्मकथा - राहुल सांकृत्यायन
- ☒ 4. अमृत और विष - अमृतलाल नागर

Section : Subject Related

Q.1 रामचन्द्र शुक्ल ने आदिकाल को क्या नाम दिया है?

Question ID : 7230533092

- Ans
- ☒ 1. चारण काल
 - ☒ 2. वीरगाथा काल
 - ☒ 3. सिद्ध सामंतकाल
 - ☒ 4. वीरकाल

Q.2 'स्मृति की रेखाएँ' किसकी रचना है?

Question ID : 7230533087

- Ans
- ☒ 1. हरिवंश राय बच्चन
 - ☒ 2. रामवृक्ष बेनीपुरी
 - ☒ 3. रामधारी सिंह दिनकर
 - ☒ 4. महादेवी वर्मा

Q.3 'ऋण जल धन जल' रिपोर्टाज के लेखक कौन हैं?

Question ID : 7230533091

- Ans
- ☒ 1. रांगेय राघव
 - ☒ 2. धर्मवीर भारती
 - ☒ 3. फणीश्वर नाथ रेणु
 - ☒ 4. विवेकी राय

Q.4 'नामदेव' का संबंध किस प्रान्त से था?

Question ID : 7230533097

- Ans
- ☒ 1. गुजरात
 - ☒ 2. उत्तर प्रदेश
 - ☒ 3. राजस्थान
 - ☒ 4. महाराष्ट्र

Q.5 'चंदायन' के रचयिता हैं:

Question ID : 7230533099

- Ans
- ☒ 1. मुल्ला दाउद
 - ☒ 2. जायसी
 - ☒ 3. कुतुबन

✗ 4. मंझन

Q.6 बेकन के निबंधों का हिन्दी अनुवाद 'बेकन विचार रत्नावली' नाम से किसने किया?

Question ID : 7230533084

Ans

- ✗ 1. बालमुकुन्द गुप्त
- ✗ 2. रामचन्द्र शुक्ल
- ✗ 3. बालकृष्ण भट्ट
- ✓ 4. महावीर प्रसाद द्विवेदी

Q.7 'भाषा की पूर्ण शक्ति का विकास निबंधों में ही सबसे अधिक संभव होता है।' यह कथन किसका है?

Question ID : 7230533083

Ans

- ✗ 1. महावीर प्रसाद द्विवेदी
- ✗ 2. नन्ददुलारे वाजपेयी
- ✓ 3. रामचन्द्र शुक्ल
- ✗ 4. हजारीप्रसाद द्विवेदी

Q.8 दादू दयाल की रचनाओं का सम्पादन 'अंगवधू' नाम से कसने किया?

Question ID : 7230533098

Ans

- ✗ 1. सुंदरदास
- ✗ 2. गुरुनानक
- ✗ 3. रैदास
- ✓ 4. रज्जब

Q.9 'निराला की साहित्य साधना' के लेखक हैं:

Question ID : 7230533090

Ans

- ✗ 1. बच्चन सिंह
- ✗ 2. मुक्तिबोध
- ✓ 3. रामविलास शर्मा
- ✗ 4. नन्दकिशोर नवल

Q.10 कौन सा सही सुमेलित नहीं है?

Question ID : 7230533101

Ans

- ✓ 1. मधुमालती - कुतुबन
- ✗ 2. चित्रावली - उसमान
- ✗ 3. हंस जवाहिर - कासिम शाह
- ✗ 4. इंद्रावती - नूर मुहम्मद

Q.11 हिन्दी काव्य में बारहमासा वर्णन सबसे कहले कहाँ मिलता है?

Question ID : 7230533095

Ans

- ✗ 1. पद्मावत

☒ 2. पृथ्वीराज रासो

☒ 3. बीसलदेव रासो

☒ 4. परमाल रासो

Q.12 'देश-विदेश' किसका यात्रा-साहित्य है?

Question ID : 7230533086

Ans

☒ 1. राहुल सांकृत्यायन

☒ 2. निर्मल वर्मा

☒ 3. रामधारी सिंह दिनकर

☒ 4. धर्मवीर भारती

Q.13 'कवितावली' के ग्रंथकार कौन हैं?

Question ID : 7230533102

Ans

☒ 1. नन्ददास

☒ 2. सूरदास

☒ 3. तुलसीदास

☒ 4. केशवदास

Q.14 'खुमान रासो' के रचयिता कौन हैं?

Question ID : 7230533094

Ans

☒ 1. जगनिक

☒ 2. नरपति नाल्ह

☒ 3. श्रीधर

☒ 4. दलपति विजय

Q.15 वल्लभाचार्य का संबंध किस संप्रदाय से था?

Question ID : 7230533096

Ans

☒ 1. ब्राह्म संप्रदाय

☒ 2. श्री संप्रदाय

☒ 3. पुष्टि संप्रदाय

☒ 4. सनकादि संप्रदाय

Q.16 'गोरी सोवै सेज पर, मुख पर डारै केस' पंक्ति किसके द्वारा रचित है?

Question ID : 7230533093

Ans

☒ 1. अमीर खुसरो

☒ 2. जगनिक

☒ 3. चन्दवरदायी

☒ 4. विद्यापति

Q.17

‘हम हशमत’ संस्मरण किसके द्वारा रचित है?

Question ID : 7230533088

Ans

- ☒ 1. विष्णु प्रभाकर
- ☒ 2. कृष्णा सोबती
- ☒ 3. दूधनाथ सिंह
- ☒ 4. काशीनाथ सिंह

Q.18 ‘अरे यायावर रहेगा याद’ किस विधा की रचना है?

Question ID : 7230533085

Ans

- ☒ 1. उपन्यास
- ☒ 2. यात्रा-वृत्तांत
- ☒ 3. काव्य
- ☒ 4. नाटक

Q.19 बनारसी दास कृत ‘अर्द्धकथा’ है:

Question ID : 7230533089

Ans

- ☒ 1. कहानी
- ☒ 2. उपन्यास
- ☒ 3. आत्मकथा
- ☒ 4. जीवनी

Q.20 जायसी की रचना नहीं है:

Question ID : 7230533100

Ans

- ☒ 1. मिरगावत
- ☒ 2. पद्मावत
- ☒ 3. अखरावट
- ☒ 4. कन्हावत

Section : Subject Related

Q.1 ‘बतरस लालच लाल की, मुरली धरी लुकाई’ पंक्ति के रचयिता हैं?

Question ID : 7230533108

Ans

- ☒ 1. केशवदास
- ☒ 2. पद्माकर
- ☒ 3. बिहारी
- ☒ 4. मतिराम

Q.2 कौन सी रचना भूषण की नहीं है?

Question ID : 7230533109

Ans

- ☒ 1. शिवराज भूषण
- ☒ 2. काव्य रसायन

☒ 3. छत्रसाल दशक

☒ 4. शिवा बावनी

Q.3 'नरसी जी का मायारा' किसकी रचना है?

Question ID : 7230533106

Ans ☒ 1. रहीम

☒ 2. हरिदास

☒ 3. रसखान

☒ 4. मीराबाई

Q.4 'तारसप्तक' के संपादक कौन थे?

Question ID : 7230533120

Ans ☒ 1. नेमिचंद्र जैन

☒ 2. रामविलास शर्मा

☒ 3. अज्ञेय

☒ 4. मुक्तिबोध

Q.5 भक्तिकाल के किस कवि ने बरवै नायिका भेद लिखा है?

Question ID : 7230533104

Ans ☒ 1. नन्ददास

☒ 2. रहीम

☒ 3. रसखान

☒ 4. कृष्णदास

Q.6 रीतिकालीन कवि चिंतामणि किसके भाई थे?

Question ID : 7230533107

Ans ☒ 1. घनानन्द

☒ 2. केशवदास

☒ 3. भूषण

☒ 4. बिहारी

Q.7 कौन सा सही सुमेलित नहीं है?

Question ID : 7230533111

Ans ☒ 1. गंगालहरी - पद्माकर

☒ 2. गंगावतरण - रत्नाकर

☒ 3. कवित्त रत्नाकर - सेनापति

☒ 4. कोकसार - आलम

Q.8 कौन सा कवि 'अष्टछाप' में शामिल नहीं है?

Question ID : 7230533105

Ans ☒ 1. गोविंद स्वामी

- ☐ 2. सूरदास
- ☒ 3. सुंदरदास
- ☐ 4. परमानन्ददास

Q.9 कौन सी रचना सुमित्रानन्दन पंत की नहीं है?

Question ID : 7230533115

- Ans
- ☐ 1. गुंजन
 - ☐ 2. पल्लव
 - ☐ 3. युगांत
 - ☒ 4. प्रेमपथिक

Q.10 'अमिय हलाहल मदभरे, सेत, स्याम रतनार' पंक्ति के रचयिता कौन हैं?

Question ID : 7230533110

- Ans
- ☒ 1. रसलीन
 - ☐ 2. कुलपति मिश्र
 - ☐ 3. बिहारी
 - ☐ 4. देव

Q.11 'संतन को कहा सीकरी सो काम।' किसने कहा था?

Question ID : 7230533103

- Ans
- ☐ 1. भिखारीदास
 - ☒ 2. कुंभनदास
 - ☐ 3. तुलसीदास
 - ☐ 4. सूरदास

Q.12 निम्न में से कौन सा काव्य ग्रंथ मैथिली शरण गुप्त द्वारा रचित नहीं है?

Question ID : 7230533114

- Ans
- ☐ 1. जयद्रथ वध
 - ☐ 2. यशोधरा
 - ☐ 3. साकेत
 - ☒ 4. वैदेही वनवास

Q.13 'हुंकार' किसका काव्यसंग्रह है?

Question ID : 7230533119

- Ans
- ☒ 1. रामधारी सिंह दिनकर
 - ☐ 2. केदारनाथ अग्रवाल
 - ☐ 3. नागार्जुन
 - ☐ 4. मैथिलीशरण गुप्त

Q.14 'एकांतवासी योगी' किसकी रचना है?

Question ID : 7230533113

- Ans
- ☒ 1. हरिऔध
 - ☒ 2. श्रीधर पाठक
 - ☒ 3. मैथिलीशरण गुप्त
 - ☒ 4. भारतेन्दु हरिश्चंद्र

Q.15 'तीसरा सप्तक' कब प्रकाशित हुआ?

Question ID : 7230533121

- Ans
- ☒ 1. 1959 ई.
 - ☒ 2. 1951 ई.
 - ☒ 3. 1943 ई.
 - ☒ 4. 1955 ई.

Q.16 कौन सी काव्य रचना महादेवी वर्मा की नहीं है?

Question ID : 7230533117

- Ans
- ☒ 1. बेला
 - ☒ 2. सांध्यगीत
 - ☒ 3. नीहार
 - ☒ 4. नीरजा

Q.17 'सीढ़ियों पर धूप में' किसका काव्य संग्रह है?

Question ID : 7230533122

- Ans
- ☒ 1. दुष्यंत कुमार
 - ☒ 2. धूमिल
 - ☒ 3. रघुवीर सहाय
 - ☒ 4. सर्वेश्वर दयाल सक्सेना

Q.18 'बीती विभावरी जाग री!' किसकी कविता है?


Question ID : 7230533116


- Ans
- ☒ 1. पंत
 - ☒ 2. जयशंकर प्रसाद
 - ☒ 3. निराला
 - ☒ 4. महादेवी वर्मा

Q.19 'पै धन विदेश चलि जात इहै अति खवारी।' पंक्ति किसकी है?

Question ID : 7230533112


- Ans
- ☒ 1. हरिऔध
 - ☒ 2. प्रताप नारायण मिश्र


 3. मैथिलीशरण गुप्त


 4. भारतेन्दु हरिश्चंद्र


Q.20 'हरी घास पर क्षण भर' किसकी काव्य रचना है?

Question ID : 7230533118

Ans  1. मुक्तिबोध

 2. नागार्जुन

 3. अज्ञेय

 4. त्रिलोचन


Section : Subject Related


Q.1 'संसद से सड़क तक' काव्य संग्रह का रचयिता कौन है?

Question ID : 7230533123

Ans  1. केदारनाथ अग्रवाल


 2. धूमिल

 3. त्रिलोचन

 4. नागार्जुन


Q.2 देवनागरी लिपि के संदर्भ में कौन-सा कथन गलत है?

Question ID : 7230533128

Ans  1. एक ध्वनि के लिए एक ही वर्ण है।

 2.

देवनागरी की वर्णमाला का वर्णक्रम अवैज्ञानिक है।

 3. एक वर्ण से एक ही ध्वनि संकेतित होता है।


 4.


देवनागरी का प्रत्येक अक्षर उच्चरित होता है।

Q.3 'शफरी सी जल में, बिहंगिनी सी व्योम में' पंक्ति में कौन सा अलंकार है?

Question ID : 7230533142

Ans  1. उपमा

 2. उत्प्रेक्षा

 3. रूपक


 4. श्लेष

Q.4 वह विकारी शब्द जिससे किसी विशेष वस्तु, भाव और जीव के नाम का बोध हो, क्या कहलाता है?

Question ID : 7230533136

Ans  1. सर्वनाम

 2. संज्ञा

 3. विश्लेषण

✗ 4. क्रिया

Q.5 विद्यापति कृत कीर्तिलता की भाषा है:

Question ID : 7230533124

- Ans
- ✗ 1. संस्कृत
 - ✗ 2. अपभ्रंश
 - ✓ 3. अवहट्ट
 - ✗ 4. मैथिली

Q.6 देवनागरी लिपि का विकास किस लिपि से हुआ है?

Question ID : 7230533127

- Ans
- ✓ 1. ब्राह्मी लिपि
 - ✗ 2. फारसी लिपि
 - ✗ 3. सिंधुघाटी की लिपि
 - ✗ 4. खरोष्ठी लिपि

Q.7 निम्न में वर्तनी की दृष्टि से शुद्ध है:

Question ID : 7230533130

- Ans
- ✗ 1. अनूकुल
 - ✗ 2. अनुकुल
 - ✗ 3. अनूकूल
 - ✓ 4. अनुकूल

Q.8 'अवधी' हिन्दी की किस उपभाषा के अंतर्गत आती है?

Question ID : 7230533125

- Ans
- ✓ 1. पूर्वी हिन्दी
 - ✗ 2. पश्चिमी हिन्दी
 - ✗ 3. बिहारी हिन्दी
 - ✗ 4. राजस्थानी हिन्दी

Q.9 उपमेय में उपमान की संभावना होने पर अलंकार क्या होगा?

Question ID : 7230533140

- Ans
- ✓ 1. उत्प्रेक्षा
 - ✗ 2. यमक
 - ✗ 3. श्लेष
 - ✗ 4. रूपक

Q.10 'कृतज्ञ' का विलोम है:

Question ID : 7230533133

- Ans
- ✓ 1. कृतघ्न
 - ✗ 2. अज्ञ

☒ 3. विज्ञ

☒ 4. दुष्ट

Q.11 कौन सी बोली 'राजस्थानी' उपभाषा के अंतर्गत नहीं आती?

Question ID : 7230533126

Ans ☒ 1. गढ़वाली

☒ 2. मालवी

☒ 3. मेवाती

☒ 4. मारवाड़ी

Q.12 निम्न में कौन-सा वर्ण दंत्य है?

Question ID : 7230533129

Ans ☒ 1. ग

☒ 2. न

☒ 3. ज

☒ 4. ड

Q.13 'तुम कहाँ रहते हो?' कैसा वाक्य है?

Question ID : 7230533139

Ans ☒ 1. इच्छावाचक

☒ 2. संदेहवाचक

☒ 3. आज्ञावाचक

☒ 4. प्रश्नवाचक

Q.14 निम्न में कौन-सा शब्द अविकारी नहीं है?

Question ID : 7230533137

Ans ☒ 1. कब

☒ 2. इधर

☒ 3. किन्तु

☒ 4. लंबा

Q.15 'अक्ष' का अर्थ नहीं होता है:

Question ID : 7230533134

Ans ☒ 1. आँख

☒ 2. सर्प

☒ 3. धुरी

☒ 4. पृथ्वी

Q.16 रचना के आधार पर वाक्य के कितने भेद होते हैं?

Question ID : 7230533138

Ans ☒ 1. 2

☒ 2. 3

☒ 3. 5

✗ 4. 4

Q.17 'चिर-चीर' शब्द-युग्म का सही अर्थ क्या है?

Question ID : 7230533135

- Ans
- ✓ 1. पुराना, कपड़ा
 - ✗ 2. कपड़ा, पुराना
 - ✗ 3. वृक्ष, पुराना
 - ✗ 4. पुराना, वृक्ष

Q.18 निम्न में कौन सा अलंकार शब्दालंकार है?

Question ID : 7230533141

- Ans
- ✗ 1. रूपक
 - ✗ 2. अतिशयोक्ति
 - ✓ 3. यमक
 - ✗ 4. उपमा

Q.19 स्वर संधि कितने प्रकार की होती है?

Question ID : 7230533131

- Ans
- ✓ 1. 5
 - ✗ 2. 6
 - ✗ 3. 3
 - ✗ 4. 4

Q.20 'नौका' का पर्यायवाची नहीं है:

Question ID : 7230533132

- Ans
- ✗ 1. तरिणी
 - ✗ 2. पतंग
 - ✗ 3. तरी
 - ✓ 4. तटिनी

Section : Subject Related

Q.1 'घर का जोगी जोगड़ा आन गाँव का सिद्ध' लोकोक्ति का सही अर्थ है-

Question ID : 7230533145

- Ans
- ✗ 1. सिद्ध होने के लिए जोगी होना जरूरी है।
 - ✓ 2. अपने लोगों में आदर नहीं होता।
 - ✗ 3. जोगी घर छोड़े बिना सिद्ध नहीं हो सकता।
 - ✗ 4. अपने लोगों में जो आदर मिलता है, वह बाहर नहीं मिल सकता।

Q.2 मुख्यार्थ के बाधित होने पर जब उससे सम्बद्ध दूसरा अर्थ लिया जाता है तो शब्द-शक्ति क्या होती है?

Question ID : 7230533143

- Ans
- ✗ 1. अभिधा

- ☒ 2. व्यंजना
- ☒ 3. आर्थी व्यंजना
- ☒ 4. लक्षणा

Q.3 'घड़ों पानी पड़ जाना' मुहावरे का सही अर्थ क्या है?

Question ID : 7230533144

- Ans
- ☒ 1. भीग जाना
 - ☒ 2. बहुत शर्मिदा होना
 - ☒ 3. नहाना
 - ☒ 4. डूब जाना

Q.4 संविधान में हिन्दी को राजभाषा के रूप में मान्यता कब मिली?

Question ID : 7230533146

- Ans
- ☒ 1. 15 अगस्त 1947
 - ☒ 2. 14 सितम्बर 1949
 - ☒ 3. 26 जनवरी 1950
 - ☒ 4. 14 नवम्बर 1949

Q.5 किस अनुच्छेद में निर्देश है कि 'संघ का कर्तव्य है कि वह हिन्दी का प्रसार बढ़ाये।'

Question ID : 7230533147

- Ans
- ☒ 1. 350
 - ☒ 2. 351
 - ☒ 3. 353
 - ☒ 4. 352

Comprehension:

नीचे दिये गए गद्यांश को पढ़कर पूछे गये प्रश्नों के उत्तर दीजिए।

जैसे-जैसे भारतवर्ष में नवीन जागरण उत्पन्न हुआ है, वैसे-वैसे पुरानी पोथियों के संग्रह करने और पढ़ने की ओर भी प्रवृत्ति बढ़ती गई है। कश्मीर, नेपाल, तिब्बत, केरल, तमिल आदि प्रदेशों से अनेक नूतन ग्रंथरत्नों का उद्धार हुआ है। कौटिल्य का प्रसिद्ध अर्थशास्त्र पाया जा सका है, टी. गणपति शास्त्री ने भास के नाटकों का उद्धार किया है, हरप्रसाद शास्त्री के परिश्रम से नेपाल दरबार लाइब्रेरी से अनेक ग्रंथरत्नों का पता चला है, मुकुन्दराम शास्त्री ने कश्मीर की ग्रंथराशि को प्रकाशित करने का प्रयत्न किया है, श्रेडर ने वैष्णव संहिताओं के अध्ययन की ओर विद्वानमंडलों का ध्यान आकृष्ट किया है, वुडरफ के प्रयत्नों से तंत्र-ग्रन्थों के अध्ययन को बल मिला है और राहुल जी ने तिब्बत से अनेक बहुमूल्य बौद्ध ग्रंथों का उद्धार किया है।

Q.6 तिब्बत के बहुमूल्य ग्रन्थों का उद्धार किसने किया?

Question ID : 7230533152

- Ans
- ☒ 1. श्रेडर
 - ☒ 2. वुडरफ
 - ☒ 3. राहुल सांकृत्यायन
 - ☒ 4. मुकुन्दराम शास्त्री

Comprehension:

नीचे दिये गए गद्यांश को पढ़कर पूछे गये प्रश्नों के उत्तर दीजिए।

जैसे-जैसे भारतवर्ष में नवीन जागरण उत्पन्न हुआ है, वैसे-वैसे पुरानी पोथियों के संग्रह करने और पढ़ने की ओर भी प्रवृत्ति बढ़ती गई है। कश्मीर, नेपाल, तिब्बत, केरल, तमिल आदि प्रदेशों से अनेक नूतन ग्रंथरत्नों का उद्धार हुआ है। कौटिल्य का प्रसिद्ध अर्थशास्त्र पाया जा सका है, टी. गणपति शास्त्री ने भास के नाटकों का उद्धार किया है, हरप्रसाद शास्त्री के परिश्रम से नेपाल दरबार लाइब्रेरी से अनेक ग्रंथरत्नों का पता चला है, मुकुन्दराम शास्त्री ने कश्मीर की ग्रंथराशि को प्रकाशित करने का प्रयत्न किया है, श्रेडर ने वैष्णव संहिताओं के अध्ययन की ओर विद्वानमंडलों का ध्यान आकृष्ट किया है, वुडरफ के प्रयत्नों से तंत्र-ग्रन्थों के अध्ययन को बल मिला है और राहुल जी ने तिब्बत से अनेक बहुमूल्य बौद्ध ग्रंथों का उद्धार किया है।

SubQuestion No : 7

Q.7 वैष्णव संहिताओं के अध्ययन की ओर किसने ध्यान आकृष्ट किया?

Question ID : 7230533151

- Ans
- ☒ 1. मुकुन्दराम शास्त्री
 - ☒ 2. टी. गणपति शास्त्री
 - ☒ 3. श्रीधर
 - ☒ 4. हरप्रसाद शास्त्री

Comprehension:

नीचे दिये गए गद्यांश को पढ़कर पूछे गये प्रश्नों के उत्तर दीजिए।

जैसे-जैसे भारतवर्ष में नवीन जागरण उत्पन्न हुआ है, वैसे-वैसे पुरानी पोथियों के संग्रह करने और पढ़ने की ओर भी प्रवृत्ति बढ़ती गई है। कश्मीर, नेपाल, तिब्बत, केरल, तमिल आदि प्रदेशों से अनेक नूतन ग्रंथरत्नों का उद्धार हुआ है। कौटिल्य का प्रसिद्ध अर्थशास्त्र पाया जा सका है, टी. गणपति शास्त्री ने भास के नाटकों का उद्धार किया है, हरप्रसाद शास्त्री के परिश्रम से नेपाल दरबार लाइब्रेरी से अनेक ग्रंथरत्नों का पता चला है, मुकुन्दराम शास्त्री ने कश्मीर की ग्रंथराशि को प्रकाशित करने का प्रयत्न किया है, श्रेडर ने वैष्णव संहिताओं के अध्ययन की ओर विद्वानमंडलों का ध्यान आकृष्ट किया है, वुडरफ के प्रयत्नों से तंत्र-ग्रन्थों के अध्ययन को बल मिला है और राहुल जी ने तिब्बत से अनेक बहुमूल्य बौद्ध ग्रंथों का उद्धार किया है।

SubQuestion No : 8

Q.8 'अर्थशास्त्र' के रचयिता हैं?

Question ID : 7230533149

- Ans
- ☒ 1. प्लेटो
 - ☒ 2. अरस्तू
 - ☒ 3. सुकरात
 - ☒ 4. कौटिल्य

Comprehension:

नीचे दिये गए गद्यांश को पढ़कर पूछे गये प्रश्नों के उत्तर दीजिए।

जैसे-जैसे भारतवर्ष में नवीन जागरण उत्पन्न हुआ है, वैसे-वैसे पुरानी पोथियों के संग्रह करने और पढ़ने की ओर भी प्रवृत्ति बढ़ती गई है। कश्मीर, नेपाल, तिब्बत, केरल, तमिल आदि प्रदेशों से अनेक नूतन ग्रंथरत्नों का उद्धार हुआ है। कौटिल्य का प्रसिद्ध अर्थशास्त्र पाया जा सका है, टी. गणपति शास्त्री ने भास के नाटकों का उद्धार किया है, हरप्रसाद शास्त्री के परिश्रम से नेपाल दरबार लाइब्रेरी से अनेक ग्रंथरत्नों का पता चला है, मुकुन्दराम शास्त्री ने कश्मीर की ग्रंथराशि को प्रकाशित करने का प्रयत्न किया है, श्रेडर ने वैष्णव संहिताओं के अध्ययन की ओर विद्वानमंडलों का ध्यान आकृष्ट किया है, वुडरफ के प्रयत्नों से तंत्र-ग्रन्थों के अध्ययन को बल मिला है और राहुल जी ने तिब्बत से अनेक बहुमूल्य बौद्ध ग्रंथों का उद्धार किया है।

SubQuestion No : 9

Q.9 कश्मीर की ग्रंथ राशि को प्रकाशित करने का प्रयास किसने किया?

Question ID : 7230533150

Ans

- ✓ 1. मुकुन्दराम शास्त्री
- ✗ 2. टी. गणपति शास्त्री
- ✗ 3. हरप्रसाद शास्त्री
- ✗ 4. पं. राहुल सांकृत्यायन

Comprehension:

नीचे दिये गए गद्यांश को पढ़कर पूछे गये प्रश्नों के उत्तर दीजिए।

जैसे-जैसे भारतवर्ष में नवीन जागरण उत्पन्न हुआ है, वैसे-वैसे पुरानी पोथियों के संग्रह करने और पढ़ने की ओर भी प्रवृत्ति बढ़ती गई है। कश्मीर, नेपाल, तिब्बत, केरल, तमिल आदि प्रदेशों से अनेक नूतन ग्रंथरत्नों का उद्धार हुआ है। कौटिल्य का प्रसिद्ध अर्थशास्त्र पाया जा सका है, टी. गणपति शास्त्री ने भास के नाटकों का उद्धार किया है, हरप्रसाद शास्त्री के परिश्रम से नेपाल दरबार लाइब्रेरी से अनेक ग्रंथरत्नों का पता चला है, मुकुन्दराम शास्त्री ने कश्मीर की ग्रंथराशि को प्रकाशित करने का प्रयत्न किया है, श्रेडर ने वैष्णव संहिताओं के अध्ययन की ओर विद्वानमंडलों का ध्यान आकृष्ट किया है, वुडरफ के प्रयत्नों से तंत्र-ग्रन्थों के अध्ययन को बल मिला है और राहुल जी ने तिब्बत से अनेक बहुमूल्य बौद्ध ग्रंथों का उद्धार किया है।

SubQuestion No : 10

Q.10 गद्यांश का उपयुक्त शीर्षक क्या होगा?

Question ID : 7230533153

- Ans
- ☒ 1. पुरानी पोथियाँ
 - ☒ 2. उद्धार
 - ☒ 3. भारतवर्ष
 - ☒ 4. नवीन जागरण

Q.11 पाठ्यक्रम की कौन सी विशेषता उसे विद्यालयों और समुदायों की विशेष आवश्यकताओं के अनुकूल बनाती है?

Question ID : 7230533163

- Ans
- ☒ 1. अनुभव संचालित
 - ☒ 2. आवश्यकतानुसार अनुकूलता
 - ☒ 3. सामग्री उन्मुखता
 - ☒ 4. समावेशिता

Q.12 राष्ट्रीय माध्यमिक शिक्षा अभियान महत्वपूर्ण विशेषता है और माध्यमिक शिक्षा में किस पहल का विस्तार है?

Question ID : 7230533155

- Ans
- ☒ 1. राजीव विद्या मिशन
 - ☒ 2. सर्व शिक्षा अभियान
 - ☒ 3. राष्ट्रीय उच्चतर शिक्षा अभियान
 - ☒ 4. सर्व शिक्षा मिशन

Q.13 आवश्यकताओं के मैट्रो के पदानुक्रम के अनुसार स्व-वास्तविकता और सौंदर्य आवश्यकताएँ _____ का भाग हैं।

Question ID : 7230533154

- Ans
- ☒ 1. शरीर-क्रियात्मक आवश्यकताएँ

- ☒ 2. मनोवैज्ञानिक आवश्यकताएँ
- ☐ 3. स्व-संतुष्टि आवश्यकताएँ
- ☐ 4. सामाजिक आवश्यकताएँ

Q.14 पाठों का पाठन और प्रतिबिंबन करने का मुख्य उद्देश्य _____ को बढ़ाना है।

Question ID : 7230533161

- Ans
- ☐ 1. सामाजिक कौशलों
 - ☐ 2. भावनात्मक बुद्धि
 - ☐ 3. सामग्री का ज्ञान
 - ☒ 4. भाषा योग्यता

Q.15 जब शिक्षण कार्यनीतियाँ प्रत्येक छात्र की आवश्यकताओं और हितों के लिए स्थिति के अनुरूप (फ्लेक्सिबल) होती हैं, तो यह निम्नलिखित में से किस का एक सामान्य उदाहरण है?

Question ID : 7230533156

- Ans
- ☒ 1. विभेदन
 - ☐ 2. भाषा शिक्षण
 - ☐ 3. परियोजना प्रणाली
 - ☐ 4. क्रीड़ा प्रणालियाँ

Q.16 विद्यालय के विषयों के अध्ययन में 3 'आर' किस का संकेत हैं?

Question ID : 7230533157

- Ans
- ☐ 1. पाठ करना, लेखन करना, स्मरण करना
 - ☐ 2. पाठ करना, स्मरण करना, पुनरावृत्ति करना
 - ☒ 3. पाठ करना, लेखन करना, अंकगणित
 - ☐ 4. पाठ करना, स्मरण रखना, लेखन करना

Q.17 छायांकन (फोटोग्राफी) _____ का एक उदाहरण है।

Question ID : 7230533162

- Ans
- ☐ 1. दृश्य कला
 - ☒ 2. समकालीन कला
 - ☐ 3. रंगमंच स्वरूप
 - ☐ 4. प्रदर्शन कला

Q.18 अन्य वर्ग के लोगों की अपेक्षा एक वर्ग के लोगों को वरीयता देना क्या कहलाता है?

Question ID : 7230533159

- Ans
- ☐ 1. निष्पक्षता
 - ☐ 2. समानता
 - ☐ 3. रूढ़ धारणा
 - ☒ 4. पक्षपात

Q.19 दल शिक्षण तभी सर्वाधिक उपयुक्त है जब _____।

Question ID : 7230533160

Ans

- ✓ 1. संसाधन सीमित हों
- ✗ 2. स्थान सीमित हो
- ✗ 3. विद्यालय नव स्थापित हो
- ✗ 4. प्रौद्योगिकी एक बाधा हो

Q.20 छात्र और शिक्षक किस पाठ्यक्रम अभिकल्प (डिज़ाइन) में परिवर्तन के अभिकर्ता (एजेंट) हैं?

Question ID : 7230533158

Ans

- ✗ 1. अनुभव- केंद्रित अभिकल्प (डिज़ाइन)
- ✗ 2. मानववादी अभिकल्प (डिज़ाइन)
- ✓ 3. मूल अभिकल्प (डिज़ाइन)
- ✗ 4. बाल केंद्रित अभिकल्प (डिज़ाइन)

DSSSB AUG 2018

Participant ID:	HaryanaJobs.in
Participant Name:	
Test Center Name:	iON Digital Zone iDZ 2 Sector 62
Test Date:	28/08/2018
Test Time:	4:30 PM - 6:30 PM
Subject:	TGT HINDI MALE

Section : Mental Ability

Q.1 Seat is related to vacant in the same way as vessel is related to:

Question ID : 7230533367

Identify from the given options.



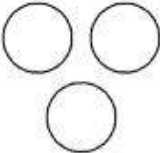
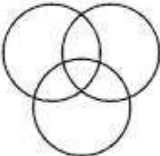
- Ans
- ☒ 1. Worth
 - ☒ 2. Extra
 - ☒ 3. Empty
 - ☒ 4. Blank

Q.2 Choose the venn diagram for the following set:

Question ID : 7230533378

“Festivals, Dasara, Diwali”

Ans

- ☒ 1. 
- ☒ 2. 
- ☒ 3. 
- ☒ 4. 

Q.3

Question ID : 7230533374

निम्नलिखित सूचना का ध्यानपूर्वक अध्ययन करें और नीचे दिये गए प्रश्न का उत्तर दें।

एक शोध संगठन में वैज्ञानिक की नियुक्ति के लिए निम्नलिखित मानदंड प्रस्तुत किये गए हैं। अभ्यर्थी:

- 1) को गणित/भौतिक विज्ञान/रसायन विज्ञान विषय में न्यूनतम 65% अंकों सहित स्नातकोत्तर होना चाहिए
- 2) की आयु 01-01-2018 को 26 वर्ष से कम और 35 वर्ष से अधिक नहीं होनी चाहिए
- 3) के पास 50% से अधिक अंकों सहित पोस्ट डॉक्टोरल उपाधि होनी चाहिए
- 4) को उपरोक्त क्षेत्रों में न्यूनतम 3 वर्षों का अनुभव होना चाहिए
- 5) को एक वर्ष के लिए परीक्षा के अधीन रहने हेतु तैयार रहना चाहिए

यदि अभ्यर्थी (3) के अतिरिक्त सभी मानदंडों को पूर्ण करता है तो उसे परियोजना वैज्ञानिक के रूप में निर्दिष्ट किया जा सकता है।

यदि अभ्यर्थी (3) और (4) के अतिरिक्त उपरोक्त सभी मानदंडों को पूर्ण करता है तो उसे कनिष्ठ वैज्ञानिक के पद के लिए निर्दिष्ट किया जा सकता है।

यदि अभ्यर्थी संबंधित क्षेत्रों में, उपरोक्त सभी मानदंडों को 7 वर्षों के अनुभव के साथ पूर्ण करता है, तो उसे वरिष्ठ वैज्ञानिक के रूप में निर्दिष्ट किया जा सकता है। यदि अभ्यर्थी संबंधित क्षेत्र में, 12 वर्षों के अनुभव के साथ उपरोक्त सभी मानदंडों को पूर्ण करता है तो उसे प्रमुख वैज्ञानिक के रूप में निर्दिष्ट किया जा सकता है।

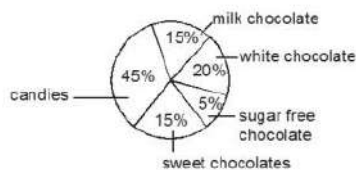
1/1/18 को वरुण की आयु 27 वर्ष है, उसने रसायन के क्षेत्र में स्नातक, और स्नातकोत्तर की उपाधि क्रमशः 72% और 78% अंकों के साथ प्राप्त की। उसे संबंधित क्षेत्र में 4 वर्षों का अनुभव भी था और वह नौकरी के एक वर्ष हेतु परीक्षा के अधीन भी रहने के लिए तैयार था। उसे किस पद के लिए निर्दिष्ट किया जा सकता है?

Ans

- ☒ 1. कनिष्ठ वैज्ञानिक
- ☒ 2. वैज्ञानिक
- ☒ 3. परियोजना वैज्ञानिक
- ☒ 4. वरिष्ठ वैज्ञानिक

Q.4 The following pie chart shows information about the production of chocolates by the company "LMN". The revenue produced by the sales of all the products is \$ 12,400.

Question ID : 7230533372



What is the revenue produced by the sale of candies?

Ans

- ☒ 1. \$ 5580
- ☒ 2. \$ 2860
- ☒ 3. \$ 2790
- ☒ 4. \$ 1240

Q.5 If + means \div , \div means $-$, $-$ means \times , \times means $+$, then:

Question ID : 7230533380

$$80 + 4 \div 15 - 3 \times 50 = ?$$

Ans

- ☒ 1. 30
- ☒ 2. 24
- ☒ 3. 36
- ☒ 4. 25

Q.6 What will be the missing term in the following series?

Question ID : 7230533386

A7, E14, _____, O56, U112

Ans

- ☒ 1. I24
- ☒ 2. I30

✓ 3. I28

✗ 4. I49

Q.7 दिये गए विकल्पों में से शब्दों के विषम युग्म का चयन करें।

Question ID : 7230533383

Ans

✗ 1. कार्य : जूल

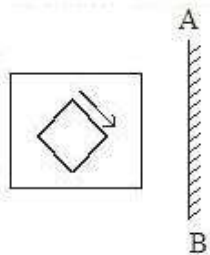
✓ 2. दबाव : न्यूटन

✗ 3. विद्युत् शक्ति : वाट

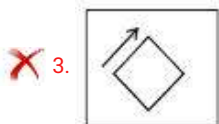
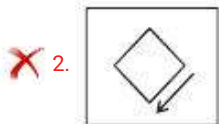
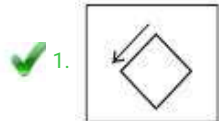
✗ 4. तापमान : अंश (डिग्री) सेल्सियस

Q.8 Choose the mirror image for the following figure:

Question ID : 7230533370



Ans



Q.9 What will be 17th term in the following Arithmetic progressive series 3, 7, 11, 15,....

Question ID : 7230533385

Ans

✗ 1. 63

✗ 2. 71

✓ 3. 67

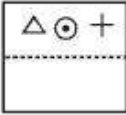
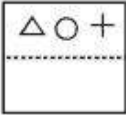
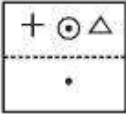
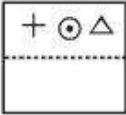
✗ 4. 59

Q.10 How the pattern would appear when the transparent sheet is folded at the dotted line?

Question ID : 7230533376



Ans

- ✗ 1. 
- ✗ 2. 
- ✗ 3. 
- ✓ 4. 

Q.11 आप एक नदी के पास से गुजर रहे हैं तथा आप को तैरना आता है। अचानक, आपको एक डूबते हुए बच्चे के रोने की आवाज सुनाई देती है, आप कौन सा सर्वोत्तम विकल्प चुनेंगे?

Question ID : 7230533375

Ans

✗ 1. बच्चे के माता-पिता को ढूँढ़ेंगे

✗ 2.

उसको बचाने के लिए आप व्यावसायिक गोताखोरों को ढूँढ़ेंगे

✗ 3.

सहायता के लिए किसी अन्य व्यक्ति को बुलाने के लिए खतरे का संकेत देंगे

✓ 4. उसे बचाने के लिए नदी में कूद जाएंगे

Q.12 Find out the odd pair among the given options.

Question ID : 7230533384

Ans

✗ 1. 200 : 20100

✗ 2. 50 : 1275

✓ 3. 150 : 22500

✗ 4. 100 : 5050

Q.13 Choose the odd figure among the series:

Question ID : 7230533369

Ans

✗ 1. 

✗ 2. 

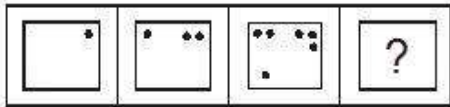
✓ 3. 

✗ 4. 

Q.14


What will be the next figure in the series?

Question ID : 7230533371




Ans


✓ 1.



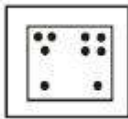
✗ 2.



✗ 3.



✗ 4.



Q.15 एक पर्वत पर सदा _____ उपस्थित होता है।

Question ID : 7230533377

कथन को पूर्ण करने के लिए सर्वोत्तम विकल्प का चयन करें।

Ans

✗ 1. वृक्ष

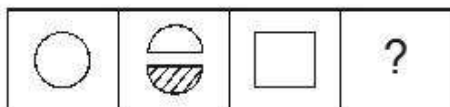
✓ 2. ऊँचाई

✗ 3. पशु

✗ 4. जल

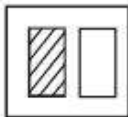
Q.16 Choose the image which represents '?'.

Question ID : 7230533368

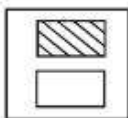


Ans

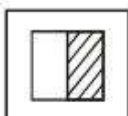
✗ 1.



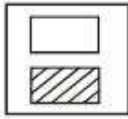
✗ 2.



✗ 3.



✓ 4.




Q.17 ज्ञात करें कि दी गई आकृति निम्नलिखित में से किस विकल्प में अंतः स्थापित है।

Question ID : 7230533373

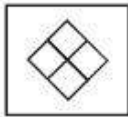


Ans

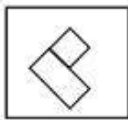
✗ 1.



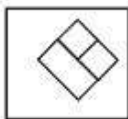
✓ 2.



✗ 3.



✗ 4.



Q.18 Eight years ago, P was half of Q in age. If the ratio of their present ages is 2 : 3, What will be the total of their present ages?

Question ID : 7230533382

Ans

✗ 1. 35

✗ 2. 16

✗ 3. 24

✓ 4. 40

Q.19 Amardeep built a fence around his square plot. He used 22 fence poles on each side of the square. How many poles did he need altogether?

Question ID : 7230533381

Ans

✓ 1. 84

✗ 2. 88

✗ 3. 82

✗ 4. 80

Q.20 Sandhya is sister of Praveena. How is Praveena's father's sister's mother related to Sandhya?

Question ID : 7230533379

Ans

✗ 1. Aunt

✓ 2. Grand mother

✗ 3. Cousin

✗ 4. Sister

Section : General Awareness

Q.1 The area drained by a single river system is called:

Question ID : 7230533398

Ans

✗ 1. Drainage pattern

- ☒ 2. Catchment area
- ☒ 3. Drainage basin
- ☒ 4. Water divide

Q.2 संसदीय या अर्द्धबलौ निर्वाचन क्षेत्रों की सीमाओं (सीमा) को फिर से निकालने के लिए भारत में यह सुनिश्चित करने के लिए किया जाता है कि व्यावहारिक रूप में, प्रत्येक निर्वाचन क्षेत्र में समान _____ है।

Question ID : 7230533389

Ans

- ☒ 1. पुरुष-स्त्री का अनुपात
- ☒ 2. लोगों की संख्या
- ☒ 3. कर राजस्व
- ☒ 4. प्रत्येक निर्वाचन क्षेत्र में क्षेत्र

Q.3 Indian National Anthem was adopted in its Hindi version by the Constituent Assembly on:

Question ID : 7230533391

Ans

- ☒ 1. 26th January 1951
- ☒ 2. 26th November 1949
- ☒ 3. 15th August 1947
- ☒ 4. 24th January 1950

Q.4 माच मध्य प्रदेश का पारंपरिक _____ है।

Question ID : 7230533395

Ans

- ☒ 1. लोक नृत्य
- ☒ 2. कठपुतली फार्म
- ☒ 3. शास्त्रीय नृत्य
- ☒ 4. थिएटर फॉर्म

Q.5 _____ is a non-profit organisation related to indian information technology industry.

Question ID : 7230533406

Ans

- ☒ 1. FICCI
- ☒ 2. CII
- ☒ 3. ASSOCHAM
- ☒ 4. NASSCOM

Q.6 स्विफ्टकी के संबंध में नीचे कौन सा सत्य नहीं है?

Question ID : 7230533404

Ans

- ☒ 1. यह आपके अगले शब्द का सुझाव देने के लिए आपकी लेखन शैली नहीं सीखता है।
- ☒ 2. इसमें एक स्वतः सुधार सुविधा है
- ☒ 3. यह आपकी गलत वर्तनी को चिन्हित करता है
- ☒ 4. यह तेजी से टाइपिंग सक्षम बनाता है

Q.7 East India Company introduced the Permanent Settlement system in:

Question ID : 7230533387

Ans

- ☒ 1. 1802

- ☐ 2. 1765
- ☐ 3. 1822
- ☒ 4. 1793

Q.8 Find out the incorrect answer option that does NOT describe exactly the means of income tax collection by the Government of India.

Question ID : 7230533399

- Ans ☒ 1. Tax Reduced at Source
- ☐ 2. Tax Deducted at Source
- ☐ 3. Tax Collected at Source
- ☐ 4. Self-Assessment Tax

Q.9 As per notification issued by the Election Commission of India in April 2018, how many recognised national political parties are there in India?

Question ID : 7230533390

- Ans ☐ 1. 10
- ☐ 2. 13
- ☒ 3. 7
- ☐ 4. 18

Q.10 Select the option that is incorrect with regard to burning of fossil fuels.

Question ID : 7230533401

- Ans ☒ 1. It is a source of renewable energy
- ☐ 2. It causes greenhouse effect of gases
- ☐ 3. It causes acid rain
- ☐ 4. It releases oxides of carbon

Q.11 Article 371A of the Indian Constitution refers to special provisions relating to the State of:

Question ID : 7230533392

- Ans ☒ 1. Nagaland
- ☐ 2. Andhra Pradesh
- ☐ 3. Manipur
- ☐ 4. Jammu & Kashmir

Q.12 टेनिस के खेल में, नेट पर आगे और पीछे गेंद को मारने को कहा जाता है:

Question ID : 7230533394

- Ans ☐ 1. पासिंग शॉट
- ☒ 2. रैली
- ☐ 3. सर्व
- ☐ 4. स्लाइस

Q.13 The historical edifice 'Bara Imambara' is located in:

Question ID : 7230533396

- Ans ☐ 1. Aligarh
- ☐ 2. Ajmer
- ☐ 3. Agra
- ☒ 4. Lucknow

Q.14 Stone tools found during mesolithic period are generally tiny and called as:

Question ID : 7230533388

- Ans
- ☒ 1. Biface
 - ☒ 2. Microblade
 - ☒ 3. Microliths
 - ☒ 4. Macrolithics

Q.15 _____ soil is also known as the 'Regur Soil'.

Question ID : 7230533397

- Ans
- ☒ 1. Laterite
 - ☒ 2. Arid
 - ☒ 3. Black
 - ☒ 4. Desert

Q.16 The National Academy of Agricultural Research Management is located in:

Question ID : 7230533405

- Ans
- ☒ 1. New Delhi
 - ☒ 2. Lucknow
 - ☒ 3. Hyderabad
 - ☒ 4. Patna

Q.17 Which of the following statement is NOT true with regard to Tungsten?

Question ID : 7230533402

- Ans
- ☒ 1. It produces much more heat than light
 - ☒ 2. It is a light metallic element
 - ☒ 3. It is used in the filaments of electric lamps
 - ☒ 4. It has the highest melting point among all the metals

Q.18 Bitcoin is a:

Question ID : 7230533403

- Ans
- ☒ 1. Gold currency
 - ☒ 2. Cryptocurrency
 - ☒ 3. Artificial currency
 - ☒ 4. Hard currency

Q.19 International Olympic Committee (IOC) announced that _____ would be the host city of the Olympic Winter Games 2022.

Question ID : 7230533393

- Ans
- ☒ 1. Beijing
 - ☒ 2. London
 - ☒ 3. Pyeongchang
 - ☒ 4. Tokyo

Q.20 FEMA stands for 'Foreign Exchange _____ Act'.

Question ID : 7230533400

- Ans
- ☒ 1. Monopoly
 - ☒ 2. Maintenance
 - ☒ 3. Management

Section : Arithmetic Ability

Q.1 The sum of two numbers is 1215 and their HCF is 81. If one of the numbers lies between 250 and 350 and the other lies between 800 and 900, then what is the difference between the two numbers?

Question ID : 7230533410

- Ans
- ☒ 1. 162
 - ☒ 2. 243
 - ☒ 3. 567
 - ☒ 4. 324

Q.2 अनुराधा ने कोई एक राशी चक्रवृद्धि ब्याज पर उधार ली, जबकि ब्याज वार्षिक संयोजित था और उसके बराबर की एक और राशी साधारण ब्याज पर उधार ली। वार्षिक ब्याज दर प्रतिशत दोनों में एक सामान्य थी। उसने पाया कि चक्रवृद्धि ब्याज और साधारण ब्याज में 3 वर्ष पश्चात तथा चक्र वृद्धि और साधारण ब्याज में 2 वर्ष पश्चात जो अंतर था उसका अनुपात 127 : 40 था। वार्षिक ब्याज दर थी:

Question ID : 7230533417

- Ans
- ☒ 1. 17.5%
 - ☒ 2. 16%
 - ☒ 3. 16.5%
 - ☒ 4. 12%

Q.3 The sides of a triangular field are in the ratio 13 : 14 : 15 and its perimeter is 840 m. The area of the field, in hectares, is:

Question ID : 7230533423

- Ans
- ☒ 1. 3.42
 - ☒ 2. 3.36
 - ☒ 3. 3.12
 - ☒ 4. 3.24

Q.4 A sum of ₹ 50000 amounts to ₹ 60500 after 2 years at a certain rate percent p.a when the interest is compounded annually. The same sum will amount to what after $3\frac{1}{2}$ years at the same rate of interest? (nearest to a ₹)

Question ID : 7230533416

- Ans
- ☒ 1. ₹ 69888
 - ☒ 2. ₹ 69887
 - ☒ 3. ₹ 69878
 - ☒ 4. ₹ 69788

Q.5 माना कि $x = 23^{729} \times 78^{900} + 57^{492}$ है। x में इकाई का अंक है:

Question ID : 7230533407

- Ans
- ☒ 1. 1
 - ☒ 2. 8
 - ☒ 3. 6
 - ☒ 4. 9

Q.6 The driver of a car driving at the speed of 88 km/h locates a bus 80 m moving ahead of him in the same direction. After 40 seconds, the bus is 120 m behind. The speed (in km/h) of the bus is:

Question ID : 7230533421

- Ans
- ☒ 1. 66
 - ☒ 2. 78
 - ☒ 3. 70
 - ☒ 4. 75

Q.7 Four positive integers are given. If the average of any two of them is added to the remaining two integers, the numbers 46, 49, 48, 45, 44 and 47 are obtained. What is the average of the given four integers?

- Ans ☒ 1. 15.5
☒ 2. 14.5
☒ 3. 14
☒ 4. 15

Question ID : 7230533415

Q.8 If the value of $\frac{(1.25)^3 + 2.25 \times (1.25)^2 + (3.75) \times (0.75)^2 + (0.75)^3}{(1.25)^3 - 2.25(1.25)^2 + 3 \times 1.25(0.75)^2 - (0.75)(0.5625)}$ is x , then \sqrt{x} is equal to:

Question ID : 7230533409

- Ans ☒ 1. 8
☒ 2. 0.4
☒ 3. 0.8
☒ 4. 4

Q.9 एक व्यक्ति एक वस्तु को 20% लाभ पर बेचता है। यदि वह इसे 20% कम पर खरीदता और ₹ 180 कम पर बेचता तो उसे 25% का लाभ होता। यदि वह इस वस्तु को ₹ 976.50 बेचे, तो लाभ/ हानि प्रतिशत है:

Question ID : 7230533413

- Ans ☒ 1. 8.5%, लाभ
☒ 2. 8%, लाभ
☒ 3. 9%, हानी
☒ 4. 9.5%, हानी

Q.10 दो रेलगाड़ियाँ एक ही समय पर, एक A से B की ओर तथा दूसरी B से A की ओर, चलना प्रारंभ करती हैं। ये रस्ते में एक दुसरे को पार करने के पश्चात क्रमशः B पर तथा A पर पहुंचने में $6\frac{1}{4}$ घंटे तथा 9 घंटे का समय लेती हैं। A से प्रारंभ हुई रेलगाड़ी की गति यदि 72 किमी/घं है, तो दूसरी रेलगाड़ी की गति (किमी/घं में) क्या है?

Question ID : 7230533420

- Ans ☒ 1. 60
☒ 2. 64
☒ 3. 54
☒ 4. 56

Q.11 The ratio of number of male and female employees in a company was 5 : 4. Some new males and females joined the company in the ratio 2 : 3. The total number of employees became 1620 and the ratio of males to females became 68 : 67. Initially what was the total number of employees in the company?

Question ID : 7230533418

- Ans ☒ 1. 1080
☒ 2. 960
☒ 3. 840
☒ 4. 1200

Q.12 The sum of a two-digit number lying between 10 and 60 and the number obtained by reversing the digits of that number is divisible both by 11 and 8. The difference of the digits is 6. If the original number is divided by 11, the remainder is:

Question ID : 7230533408

- Ans ☒ 1. 6
☒ 2. 3
☒ 3. 5
☒ 4. 7

Q.13 A solid metallic cone of base radius 2.1 cm and height 8.4 cm is melted and recast into a sphere. What is the surface area (in cm^2) of the sphere? (use $\pi = \frac{22}{7}$)

Question ID : 7230533424

- Ans ☒ 1. 55.44
☒ 2. 40.65
☒ 3. 44.55

 4. 36.96





Q.14 A shopkeeper sold his articles at ₹ 368 each after giving 8% discount on the marked price. Had he not given any discount, he would have earned a profit of 25% on the cost price. What is the cost price of each article?

Question ID : 7230533414

- Ans
-  1. ₹ 350
 -  2. ₹ 300
 -  3. ₹ 320
 -  4. ₹ 284

Q.15 Two taps A and B can fill a tank in x and 80 minutes respectively. To fill the empty tank, both taps are kept opened for 20 minutes and then B is turned off. If the total time to fill the tank is 45 minutes, then what is the value of x ?

Question ID : 7230533422

- Ans
-  1. 56 minutes
 -  2. 72 minutes
 -  3. 60 minutes
 -  4. 64 minutes

Q.16 If $(x^3 + y^3) : (x^3 - y^3) = 14 : 13$, then $(x^2 + y^2) : (x^2 - y^2) =$

Question ID : 7230533419

- Ans
-  1. 9 : 7
 -  2. 5 : 4
 -  3. 4 : 3
 -  4. 7 : 5





Q.17 When the price of sugar was increased by 32%, a family reduced its consumption in such a way that the expenditure on sugar was only 10% more than before. If 10.8 kg was consumed per month before, then the new consumption of sugar per month is:

Question ID : 7230533412

- Ans
-  1. 8 kg
 -  2. 9 kg
 -  3. 8.4 kg
 -  4. 9.2 kg

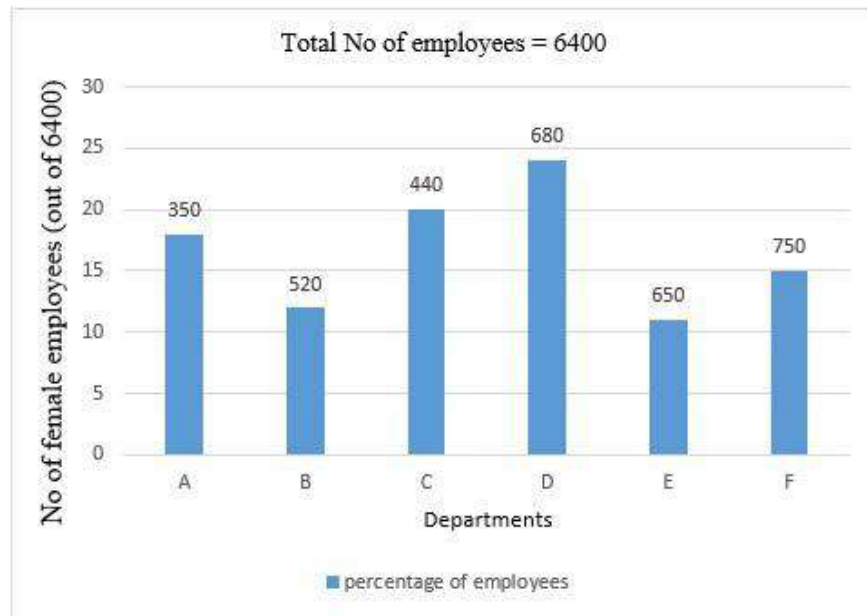
Q.18 If the numerator of a fraction (in lowest terms) is increased by 150% and the denominator is increased by 300%, then the denominator of the resulting fraction is 260% more than its numerator. What is the original fraction?

Question ID : 7230533411

- Ans
-  1. $\frac{8}{11}$
 -  2. $\frac{8}{9}$
 -  3. $\frac{4}{5}$
 -  4. $\frac{4}{9}$

Comprehension:

Study the following graph showing the number of females in different departments of a company and table and answer questions .



Department	Percentage of employees
A	18
B	12
C	20
D	24
E	11
F	15

SubQuestion No : 19

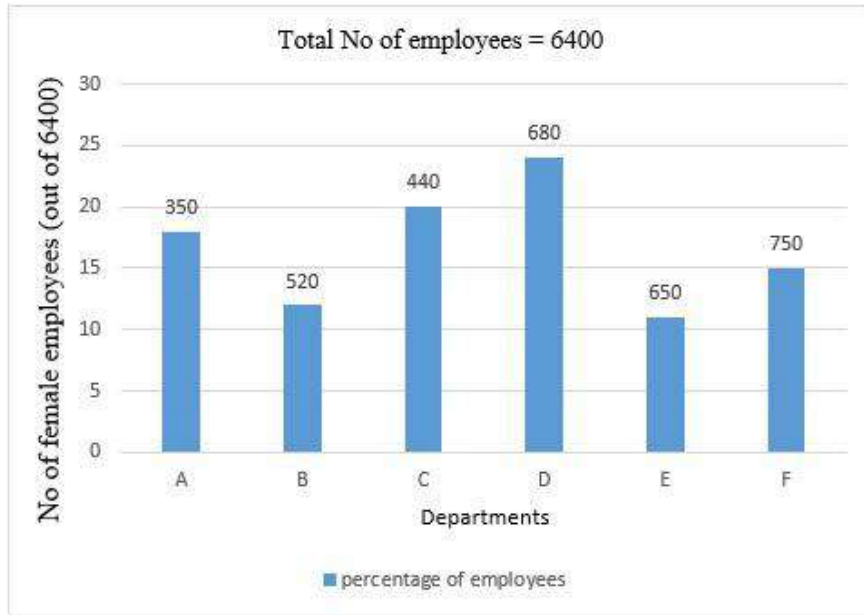
Q.1
9 What is the ratio of total number of male employees to the total number of female employees in B, D and F?

Question ID : 7230533426

- Ans
- ✓ 1. 63 : 65
 - ✗ 2. 65 : 63
 - ✗ 3. 65 : 42
 - ✗ 4. 42 : 65

Comprehension:

Study the following graph showing the number of females in different departments of a company and table and answer questions .



Department	Percentage of employees
A	18
B	12
C	20
D	24
E	11
F	15

SubQuestion No : 20

Q.2 The total number of male employees is approximately what percent of total number of employees in the company?

Question ID : 7230533427

- Ans
- ✓ 1. 47%
 - ✗ 2. 52%
 - ✗ 3. 44%
 - ✗ 4. 49%


Section : General English

Q.1 Select the most appropriate option to fill in the blank.

Question ID : 7230533432

She accepted the job _____ the salary, which was rather low.

- Ans
- ✗ 1. in case
 - ✗ 2. as if
 - ✓ 3. in spite of

 4. because of


Q.2 Select the most appropriate option to fill in the blank.

Question ID : 7230533433

I will make every _____ to help you.

Ans  1. effort

 2. try

 3. intent

 4. step

Q.3 Select the most appropriate option to fill in the blank.

Question ID : 7230533431

Do you want me to tell Father, _____ does he already know?

Ans  1. and

 2. so

 3. or

 4. but

Q.4 Select the sentence structure that is meaningful and grammatically correct.

Question ID : 7230533439

Ans  1.

In the dry regions is common the Dragon tree in Africa.

 2.

The Dragon tree in Africa is common of the dry regions.

 3.

The Dragon tree is common in the dry regions of Africa.


 4.


The dry regions is common in the Dragon tree of Africa.

Q.5 In the following sentence four words/phrases have been underlined. One of them is incorrect. Choose the incorrect word/phrase from the given options.


Question ID : 7230533442

The protesters campaigned for some months now against the sealing of commercial establishments in residential colonies.

Ans  1. sealing of

 2. against

 3. now


 4. campaigned


Q.6 Select the most appropriate option to fill in the blank.


Question ID : 7230533434

His new book was _____ by the Vice President at Vigyan Bhawan.

Ans  1. initiated

 2. launched

 3. opened

 4. inducted

Q.7

Question ID : 7230533435

Select the synonym of the given word.

MEDIOCRE

- Ans
- ☒ 1. medieval
 - ☒ 2. average
 - ☒ 3. bitter
 - ☒ 4. religious

Q.8 Select the most appropriate option to fill in the blank.

Question ID : 7230533429

Kavya scattered her toys all _____ the floor of the drawing room.

- Ans
- ☒ 1. under
 - ☒ 2. over
 - ☒ 3. along
 - ☒ 4. through

Q.9 Select the most appropriate option to fill in the blank.

Question ID : 7230533430

Are you tired? You _____ since morning. You should rest for a while.

- Ans
- ☒ 1. walked
 - ☒ 2. have been walking
 - ☒ 3. were walking
 - ☒ 4. will have been walking

Q.10 In the following sentence, four words/phrases have been underlined. One of them is incorrect. Choose the incorrect word/phrase from the given options.

Question ID : 7230533441

Unless the aid arrives tomorrow, these flood victims are starving.

- Ans
- ☒ 1. are starving.
 - ☒ 2. arrives
 - ☒ 3. Unless
 - ☒ 4. these

Q.11 Arrange parts of the sentence in meaningful and grammatically correct order.

Question ID : 7230533440

- A. in a lab in 2014
- B. to successfully grow human lungs
- C. was the first
- D. the research team
- E. at University of Texas Medical Branch





- Ans
- ☒ 1. ABDEC
 - ☒ 2. DECBA
 - ☒ 3. DACBE
 - ☒ 4. EDCBA

Q.12 Select the antonym of the given word.

Question ID : 7230533437

ADVOCATE




Ans

-  1. remove
-  2. oppose
-  3. support
-  4. define

Q.13 Select the antonym of the given word.

Question ID : 7230533438





DECLINE

- Ans
-  1. drop
 -  2. accept
 -  3. forgo
 -  4. regret

Q.14 Select the most appropriate option to fill in the blank.

Question ID : 7230533428


There has been a serious accident _____ the Yamuna Expressway.

- Ans
-  1. into
 -  2. at
 -  3. on
 -  4. in

Q.15 Select the synonym of the given word.

Question ID : 7230533436

INSIPID

- Ans
-  1. lucid
 -  2. talkative
 -  3. flat
 -  4. exciting

Comprehension:

Read the following passage and answer the questions given after it.

To popularise authentic tribal products across the country and increase its market share, the Tribal Affairs Ministry now plans to bottle mahua, the traditional tribal drink, and sell it in the open market across the country.

Pravir Krishna, Managing Director, Tribal Cooperative Marketing Development Federation of India (TRIFED), said, "We plan to add various flavours to mahua such as ginger, pomegranate and ajwain (carom seeds), and sell it in the market like a mildly-alcoholic beverage, on the lines of the (Bacardi) Breezer." He said it would be "sourced mostly from Bastar, and will be sold all over the country under the brand name Mahua".

For this, TRIFED has signed a memorandum of understanding (MoU) with IIT-Delhi.

Called the Van Dhan Vikas Karyakram, ₹ 500-600 crore has been earmarked under the nation-wide programme for training tribal clusters to add value to their produce and sell it in a packaged format, aiming to increase their income manifold.

Besides mahua, other tribal staples such as tamarind and amla will be de-seeded and brought to the market in the form of candies and jams.

A Ministry official said: "The first model Van Dhan Vikas Kendra under the project has been set up in Bijapur, at a cost of ₹ 43 lakh, with a capacity to train 300 people, and provide equipment for primary-level processing. It will focus on tamarind brick making, mahua flower storage facility and chironjee cleaning and packaging."

According to Krishna, the products marketed under the scheme will include only those that need primary-level processing including handicrafts, textiles, food items, jams and pulps, and jewellery. "What Amul did for milk, we want to do for non-timber forest produce through this scheme. Milk sold as milk wouldn't have got the people of Anand anything. But if you turn it into yoghurt, ice-cream, desserts, the income increases manifold. That's the model we will replicate," he said.

Earlier, TRIFED, which was entrusted with setting up of Van Dhan Vikas Kendras to implement the scheme, tied up with IIT-Delhi to use mahua flower syrup to create chutney, jam, squash and non-alcoholic beverages. The resultant Tamarind-Mahua Candy and pickle thus produced has been identified for bulk supply to Air India. This is the first time, however, that the ministry is getting into bottling and sale of alcoholic beverages.

SubQuestion No : 16

Q.1
6 This passage is:

Question ID : 7230533444

- Ans
- ☒ 1. an article
 - ☒ 2. a review
 - ☒ 3. an advertisement
 - ☒ 4. a news item

Comprehension:

Read the following passage and answer the questions given after it.

To popularise authentic tribal products across the country and increase its market share, the Tribal Affairs Ministry now plans to bottle mahua, the traditional tribal drink, and sell it in the open market across the country.

Pravir Krishna, Managing Director, Tribal Cooperative Marketing Development Federation of India (TRIFED), said, "We plan to add various flavours to mahua such as ginger, pomegranate and ajwain (carom seeds), and sell it in the market like a mildly-alcoholic beverage, on the lines of the (Bacardi) Breezer." He said it would be "sourced mostly from Bastar, and will be sold all over the country under the brand name Mahua".

For this, TRIFED has signed a memorandum of understanding (MoU) with IIT-Delhi.

Called the Van Dhan Vikas Karyakram, ₹ 500-600 crore has been earmarked under the nation-wide programme for training tribal clusters to add value to their produce and sell it in a packaged format, aiming to increase their income manifold.

Besides mahua, other tribal staples such as tamarind and amla will be de-seeded and brought to the market in the form of candies and jams.

A Ministry official said: "The first model Van Dhan Vikas Kendra under the project has been set up in Bijapur, at a cost of ₹ 43 lakh, with a capacity to train 300 people, and provide equipment for primary-level processing. It will focus on tamarind brick making, mahua flower storage facility and chironjee cleaning and packaging."

According to Krishna, the products marketed under the scheme will include only those that need primary-level processing including handicrafts, textiles, food items, jams and pulps, and jewellery. "What Amul did for milk, we want to do for non-timber forest produce through this scheme. Milk sold as milk wouldn't have got the people of Anand anything. But if you turn it into yoghurt, ice-cream, desserts, the income increases manifold. That's the model we will replicate," he said.

Earlier, TRIFED, which was entrusted with setting up of Van Dhan Vikas Kendras to implement the scheme, tied up with IIT-Delhi to use mahua flower syrup to create chutney, jam, squash and non-alcoholic beverages. The resultant Tamarind-Mahua Candy and pickle thus produced has been identified for bulk supply to Air India. This is the first time, however, that the ministry is getting into bottling and sale of alcoholic beverages.

SubQuestion No : 17

Q.1
7 Which of the following statements is NOT true according to the passage?

Question ID : 7230533447

Ans  1.

IIT, Delhi has helped the TRIFED use mahua flower syrup to create chutney, jam, squash and non-alcoholic beverages earlier.

 2.

This is the first time that the ministry is getting into bottling and selling alcoholic beverages.



3.

Mahua drink will come in different flavours such as pomegranate, chocolate and vanilla.



4.

The Bijapur centre will focus on making tamarind bricks, mahua flower storage and chironjee cleaning and packaging.

Comprehension:

Read the following passage and answer the questions given after it.

To popularise authentic tribal products across the country and increase its market share, the Tribal Affairs Ministry now plans to bottle mahua, the traditional tribal drink, and sell it in the open market across the country.

Pravir Krishna, Managing Director, Tribal Cooperative Marketing Development Federation of India (TRIFED), said, "We plan to add various flavours to mahua such as ginger, pomegranate and ajwain (carom seeds), and sell it in the market like a mildly-alcoholic beverage, on the lines of the (Bacardi) Breezer." He said it would be "sourced mostly from Bastar, and will be sold all over the country under the brand name Mahua".

For this, TRIFED has signed a memorandum of understanding (MoU) with IIT-Delhi.

Called the Van Dhan Vikas Karyakram, ₹ 500-600 crore has been earmarked under the nation-wide programme for training tribal clusters to add value to their produce and sell it in a packaged format, aiming to increase their income manifold.

Besides mahua, other tribal staples such as tamarind and amla will be de-seeded and brought to the market in the form of candies and jams.

A Ministry official said: "The first model Van Dhan Vikas Kendra under the project has been set up in Bijapur, at a cost of ₹ 43 lakh, with a capacity to train 300 people, and provide equipment for primary-level processing. It will focus on tamarind brick making, mahua flower storage facility and chironjee cleaning and packaging."

According to Krishna, the products marketed under the scheme will include only those that need primary-level processing including handicrafts, textiles, food items, jams and pulps, and jewellery. "What Amul did for milk, we want to do for non-timber forest produce through this scheme. Milk sold as milk wouldn't have got the people of Anand anything. But if you turn it into yoghurt, ice-cream, desserts, the income increases manifold. That's the model we will replicate," he said.

Earlier, TRIFED, which was entrusted with setting up of Van Dhan Vikas Kendras to implement the scheme, tied up with IIT-Delhi to use mahua flower syrup to create chutney, jam, squash and non-alcoholic beverages. The resultant Tamarind-Mahua Candy and pickle thus produced has been identified for bulk supply to Air India. This is the first time, however, that the ministry is getting into bottling and sale of alcoholic beverages.





SubQuestion No : 18

Q.1
8 The TRIFED plans to add value to their products by:

Question ID : 7230533446

- A. selling them in packaged format
- B. training the tribal clusters
- C. changing the form of the raw product

Of these factors which are true?

- Ans  1. A and C are true
-  2. A and B are true
-  3. B and C are true
-  4. A, B and C are true

Comprehension:

Read the following passage and answer the questions given after it.

To popularise authentic tribal products across the country and increase its market share, the Tribal Affairs Ministry now plans to bottle mahua, the traditional tribal drink, and sell it in the open market across the country.

Pravir Krishna, Managing Director, Tribal Cooperative Marketing Development Federation of India (TRIFED), said, "We plan to add various flavours to mahua such as ginger, pomegranate and ajwain (carom seeds), and sell it in the market like a mildly-alcoholic beverage, on the lines of the (Bacardi) Breezer." He said it would be "sourced mostly from Bastar, and will be sold all over the country under the brand name Mahua".

For this, TRIFED has signed a memorandum of understanding (MoU) with IIT-Delhi.

Called the Van Dhan Vikas Karyakram, ₹ 500-600 crore has been earmarked under the nation-wide programme for training tribal clusters to add value to their produce and sell it in a packaged format, aiming to increase their income manifold.

Besides mahua, other tribal staples such as tamarind and amla will be de-seeded and brought to the market in the form of candies and jams.

A Ministry official said: "The first model Van Dhan Vikas Kendra under the project has been set up in Bijapur, at a cost of ₹ 43 lakh, with a capacity to train 300 people, and provide equipment for primary-level processing. It will focus on tamarind brick making, mahua flower storage facility and chironjee cleaning and packaging."

According to Krishna, the products marketed under the scheme will include only those that need primary-level processing including handicrafts, textiles, food items, jams and pulps, and jewellery. "What Amul did for milk, we want to do for non-timber forest produce through this scheme. Milk sold as milk wouldn't have got the people of Anand anything. But if you turn it into yoghurt, ice-cream, desserts, the income increases manifold. That's the model we will replicate," he said.

Earlier, TRIFED, which was entrusted with setting up of Van Dhan Vikas Kendras to implement the scheme, tied up with IIT-Delhi to use mahua flower syrup to create chutney, jam, squash and non-alcoholic beverages. The resultant Tamarind-Mahua Candy and pickle thus produced has been identified for bulk supply to Air India. This is the first time, however, that the ministry is getting into bottling and sale of alcoholic beverages.

What is the main ingredient to be sourced from the jungles according to the passage?

- Ans
-  1. Chironjee
 -  2. Amla
 -  3. Tamarind
 -  4. Mahua

Comprehension:

Read the following passage and answer the questions given after it.

To popularise authentic tribal products across the country and increase its market share, the Tribal Affairs Ministry now plans to bottle mahua, the traditional tribal drink, and sell it in the open market across the country.

Pravir Krishna, Managing Director, Tribal Cooperative Marketing Development Federation of India (TRIFED), said, “We plan to add various flavours to mahua such as ginger, pomegranate and ajwain (carom seeds), and sell it in the market like a mildly-alcoholic beverage, on the lines of the (Bacardi) Breezer.” He said it would be “sourced mostly from Bastar, and will be sold all over the country under the brand name Mahua”.

For this, TRIFED has signed a memorandum of understanding (MoU) with IIT-Delhi.

Called the Van Dhan Vikas Karyakram, ₹ 500-600 crore has been earmarked under the nation-wide programme for training tribal clusters to add value to their produce and sell it in a packaged format, aiming to increase their income manifold.

Besides mahua, other tribal staples such as tamarind and amla will be de-seeded and brought to the market in the form of candies and jams.

A Ministry official said: “The first model Van Dhan Vikas Kendra under the project has been set up in Bijapur, at a cost of ₹ 43 lakh, with a capacity to train 300 people, and provide equipment for primary-level processing. It will focus on tamarind brick making, mahua flower storage facility and chironjee cleaning and packaging.”

According to Krishna, the products marketed under the scheme will include only those that need primary-level processing including handicrafts, textiles, food items, jams and pulps, and jewellery. “What Amul did for milk, we want to do for non-timber forest produce through this scheme. Milk sold as milk wouldn’t have got the people of Anand anything. But if you turn it into yoghurt, ice-cream, desserts, the income increases manifold. That’s the model we will replicate,” he said.

Earlier, TRIFED, which was entrusted with setting up of Van Dhan Vikas Kendras to implement the scheme, tied up with IIT-Delhi to use mahua flower syrup to create chutney, jam, squash and non-alcoholic beverages. The resultant Tamarind-Mahua Candy and pickle thus produced has been identified for bulk supply to Air India. This is the first time, however, that the ministry is getting into bottling and sale of alcoholic beverages.

Q.2 Who will be the main consumer of the tamarind-mahua candy and pickle?

Question ID : 7230533448

- Ans
- ☒ 1. Amul
 - ☒ 2. Tribal Affairs Ministry
 - ☒ 3. Air India
 - ☒ 4. IIT

Section : General Hindi

Q.1 कर्मवाच्य वाला वाक्य पहचानिए:

Question ID : 7230533468

- Ans
- ☒ 1. क्या तुमने व्यायाम किया
 - ☒ 2. मैंने अपना सारा काम कर लिया
 - ☒ 3. उससे आज पढ़ा ही नहीं गया
 - ☒ 4. उससे सोया नहीं जा सका

Q.2 'गुणहीन' शब्द में समास है:

Question ID : 7230533455

- Ans
- ☒ 1. अव्ययीभाव
 - ☒ 2. तत्पुरुष
 - ☒ 3. द्वन्द्व
 - ☒ 4. कर्मधारय

Q.3 'आस टूट गई जिसकी' उसके लिए शब्द है:

Question ID : 7230533459

- Ans
- ☒ 1. हताश
 - ☒ 2. साहसी
 - ☒ 3. धैर्यवान
 - ☒ 4. लक्ष्यभ्रष्ट

Q.4 'साफ इनकार करना' इस अर्थ की अभिव्यक्ति के लिए मुहावरा है:

Question ID : 7230533463

- Ans
- ☒ 1. टका सा जवाब देना
 - ☒ 2. मुँह ताकना
 - ☒ 3. मुठी में होना
 - ☒ 4. मिटटी खराब करना

Q.5 निम्नलिखित में से तत्सम पहचानिए:

Question ID : 7230533457

Ans

- ☒ 1. चाक
- ☒ 2. चन्द्र
- ☒ 3. छाता
- ☒ 4. गाँव

Q.6 सही वर्तनी वाला शुद्ध शब्द कौन-सा है?

Question ID : 7230533451

- Ans
- ☒ 1. कीर्तिवान
 - ☒ 2. शत्-शत् नमन
 - ☒ 3. रीत्यानुसार
 - ☒ 4. संभावना

Q.7 'भौतिक' में भूल शब्द है:

Question ID : 7230533465

- Ans
- ☒ 1. भौत
 - ☒ 2. भौति
 - ☒ 3. भूती
 - ☒ 4. भूत

Q.8 कौन-सा शब्द तद्रव है?

Question ID : 7230533456

- Ans
- ☒ 1. कर्ण
 - ☒ 2. काजल
 - ☒ 3. एकत्र
 - ☒ 4. चक्र

Q.9 कौन-सा शब्द स्त्रीलिंग है?

Question ID : 7230533452

- Ans
- ☒ 1. पुस्तक
 - ☒ 2. चाकू
 - ☒ 3. घर
 - ☒ 4. मुनि

Q.10 'आदान' के लिए विलोम शब्द है:

Question ID : 7230533460

- Ans
- ☒ 1. विदान
 - ☒ 2. प्रदान
 - ☒ 3. संधान
 - ☒ 4. कृपान

Q.11 मोहन घर जा रहा है। वाक्य का काल है:

Question ID : 7230533453

Ans

- ☒ 1. पूर्ण वर्तमान
- ☒ 2. अपूर्ण वर्तमान
- ☒ 3. आसन्न भूत
- ☒ 4. सामान्य भूत

Q.12

तुम तुम्हारा सामान उठा लो। वाक्य अशुद्ध शब्द है:

Question ID : 7230533466

Ans

- ☒ 1. तुम्हारा
- ☒ 2. सामान
- ☒ 3. उठा लो
- ☒ 4. तुम

Q.13

निम्नलिखित में से विशेषण शब्द चुनिए:

Question ID : 7230533461

Ans

- ☒ 1. शक्ति
- ☒ 2. संन्यासी
- ☒ 3. प्रभा
- ☒ 4. पाक्षिक

Q.14

क्षत्रियानी शब्द में प्रत्यय है:

Question ID : 7230533464

Ans

- ☒ 1. इ
- ☒ 2. ई
- ☒ 3. आनी
- ☒ 4. नी

Q.15

जिन स्वरों के उच्चारण में जीभ का अगला भाग ऊपर-नीचे होता है वे सभी कौन से वर्ग में हैं?

Question ID : 7230533449

Ans

- ☒ 1. अ उ आ
- ☒ 2. इ ऐ ओ
- ☒ 3. अ ओ अं
- ☒ 4. इ ई ए

Q.16

वाक्य में क्रिया विशेषण पद, कौन-सा है?

Question ID : 7230533462

परीक्षा नजदीक है कुछ पढ़ भी लो।

Ans

- ☒ 1. पढ़ भी लो
- ☒ 2. नजदीक है
- ☒ 3. परीक्षा

✓ 4. कुछ

Q.17 विसर्ग संधि का उदहारण है:

Question ID : 7230533454

- Ans
- ✗ 1. तदनुकूल
 - ✗ 2. आजानुसार
 - ✗ 3. तथास्तु
 - ✓ 4. मनोरथ

Q.18 पक्षी का पर्यायवाची नहीं है:

Question ID : 7230533458

- Ans
- ✗ 1. खग
 - ✗ 2. दविज
 - ✓ 3. मयूर
 - ✗ 4. विहग

Q.19 कन्द्य ध्वनियाँ कौन-से वर्ग में हैं?

Question ID : 7230533450

- Ans
- ✗ 1. द ल व
 - ✓ 2. क ग ह
 - ✗ 3. च फ र
 - ✗ 4. ट ड ग

Q.20 निम्नलिखित में से कौन-सा शब्द पुल्लिङ्ग है?

Question ID : 7230533467

- Ans
- ✓ 1. घुन
 - ✗ 2. धुन
 - ✗ 3. दुम
 - ✗ 4. अक्कल

Section : Subject Related

Q.1 'सजल नीरद सी कलाकांति थी' पंक्ति के रेखांकित अंश में अलंकार है:

Question ID : 7230533487

- Ans
- ✗ 1. उत्प्रेक्षा
 - ✓ 2. उपमा
 - ✗ 3. रूपक
 - ✗ 4. यमक

Q.2 'अन्वय' शब्द का संधि विच्छेद होगा:

Question ID : 7230533474

- Ans
- ✗ 1. अन्व + य
 - ✗ 2. अन् + वय

- ☐ 3. अ + नव्य
- ☒ 4. अनु + अय

Q.3 सुश्री 'हिमा दास' दौड़ में प्रथम स्थान पर आई हैं। वाक्य में भाववाचक संज्ञा शब्द है:

Question ID : 7230533480

- Ans ☒ 1. दौड़
- ☐ 2. सुश्री
- ☐ 3. प्रथम
- ☐ 4. हिमादास

Q.4 कौन-सा शब्द अश्व का पर्यायवाची नहीं है?

Question ID : 7230533476

- Ans ☐ 1. हय
- ☒ 2. कुरंग
- ☐ 3. घोटक
- ☐ 4. सैधव

Q.5 'न रहेगा बाँस न बजेगी बाँसुरी' लोकोक्ति का अर्थ है:

Question ID : 7230533475

- Ans ☐ 1. न बाँसुरी बजाना न बाँस बेचना
- ☐ 2. न इधर का होना न उधर का
- ☒ 3. न कारण होगा न कार्य
- ☐ 4. काम न करना बहाना करना

Q.6 'विवाद' शब्द का विलोम होता है:

Question ID : 7230533477

- Ans ☐ 1. वैमनस्य
- ☐ 2. कलह
- ☒ 3. निर्विवाद
- ☐ 4. संवाद

Q.7 कौन-से शब्द-युग्म का अर्थ संगत नहीं है?

Question ID : 7230533479

- Ans ☐ 1. अथक - अकथ = बिना थके - जो कहा न जा सके
- ☐ 2. अंश - अंस = हिस्सा - कंधा
- ☒ 3. टुक - टूक = टुकड़ा - फटा हुआ
- ☐ 4. दंश - दश = डंक - दस

Q.8 कौन-से वर्ग में तालव्य वर्ण हैं?

Question ID : 7230533472

- Ans
- ☒ 1. प र थ ह
 - ☒ 2. इ य श च
 - ☒ 3. ह स ल द
 - ☒ 4. ट क त प

Q.9 निम्नलिखित में से विशेषण शब्द छाँटिए:

Question ID : 7230533482

- Ans
- ☒ 1. कविन्त
 - ☒ 2. गंभीर
 - ☒ 3. आचरण
 - ☒ 4. जनपद

Q.10 तुम जाओ और खाना खाओ। वाक्य है:

Question ID : 7230533485

- Ans
- ☒ 1. विधि वाचक
 - ☒ 2. आज्ञा वाचक
 - ☒ 3. प्रश्न वाचक
 - ☒ 4. निषेध वाचक

Q.11 चुप! जुबान मत चलाओ। वाक्य में 'चुप' है:

Question ID : 7230533484

- Ans
- ☒ 1. तिरस्कार बोधक
 - ☒ 2. हर्षबोधक
 - ☒ 3. आश्चर्य बोधक
 - ☒ 4. स्वीकार बोधक

Q.12 निम्नलिखित में से कौन-सा शब्द अनेकार्थी नहीं है?

Question ID : 7230533478

- Ans
- ☒ 1. आयु
 - ☒ 2. अंक
 - ☒ 3. मान
 - ☒ 4. पत्र

Q.13 विशेषण पद का परिचय देते समय क्या बताना आवश्यक नहीं होता?

Question ID : 7230533486

- Ans
- ☒ 1. क्रिया
 - ☒ 2. लिंग
 - ☒ 3. वचन
 - ☒ 4. विशेष्य

Q.14 वह इधर-उधर घूमती रहती है। वाक्य में अव्यय पद है:

Question ID : 7230533483

- Ans
- ☒ 1. वह

- ☒ 2. घूमती
- ☒ 3. रहती है
- ☒ 4. इधर-उधर

Q.15 पश्चिमी हिंदी का विकास हुआ है:

Question ID : 7230533469

- Ans
- ☒ 1. महाराष्ट्री अपभ्रंश से
 - ☒ 2. शौरसेनी अपभ्रंश से
 - ☒ 3. मागधी अपभ्रंश से
 - ☒ 4. खस अपभ्रंश से

Q.16 साक्षात् संकेतित अर्थ का बोध करने वाली शब्द शक्ति को क्या कहते हैं?

Question ID : 7230533488

- Ans
- ☒ 1. लक्षणा
 - ☒ 2. अभिधा
 - ☒ 3. रूढा लक्षणा
 - ☒ 4. व्यंजना

Q.17 देवनागरी लिपि के विकास में 'ज ग क' आदि ध्वनियाँ (वर्ण) आई हैं:

Question ID : 7230533471

- Ans
- ☒ 1. पंजाबी से
 - ☒ 2. संस्कृत से
 - ☒ 3. उर्दू से
 - ☒ 4. अंग्रेजी से

Q.18 कौन-सा शब्द अशुद्ध है?

Question ID : 7230533473

- Ans
- ☒ 1. सौख्य
 - ☒ 2. निरपराध
 - ☒ 3. माधुर्यता
 - ☒ 4. आकाश

Q.19 कौन-सी बोली पूर्वी हिंदी की नहीं है?

Question ID : 7230533470

- Ans
- ☒ 1. छत्तीसगढ़ी
 - ☒ 2. अवधी
 - ☒ 3. ब्रजभाषा
 - ☒ 4. पहाड़ी

Q.20 'संबंधवाचक - सर्वनाम' वाला वाक्य कौन-सा है?

Question ID : 7230533481

Ans

- ✓ 1. वह कौन है जो पड़ा रो रहा है।
- ✗ 2. ऐसा न हो कोई आ जाए।
- ✗ 3. तुम क्या खरीद रहे हो।
- ✗ 4. यह कोई काम नहीं है।

Section : Subject Related

Q.1 कौन-से शब्द की वर्तनी मानक है?

Question ID : 7230533489

- Ans
- ✗ 1. संबन्ध
- ✗ 2. सम्वन्ध
- ✓ 3. संबंध
- ✗ 4. सम्बंध

Q.2 'लहरों के राजहंस' नाटक के नाटककार हैं:

Question ID : 7230533502

- Ans
- ✗ 1. हरिकृष्ण प्रेमी
- ✗ 2. सेठ गोविंद दास
- ✗ 3. उपेन्द्रनाथ अशक
- ✓ 4. मोहन राकेश

Q.3 'धर्मवीर भारती' कृत 'अंधायुग' किस श्रेणी का नाटक है?

Question ID : 7230533503

- Ans
- ✓ 1. गीतिनाट्य
- ✗ 2. ऐतिहासिक
- ✗ 3. प्रतीकात्मक
- ✗ 4. महाकाव्यात्म

Q.4 'महाप्राण व्यंजन' होता है, प्रत्येक वर्ग का:

Question ID : 7230533494

- Ans
- ✗ 1. पहला और दूसरा
- ✓ 2. दूसरा और चौथा
- ✗ 3. तीसरा और पाँचवाँ
- ✗ 4. दूसरा और तीसरा

Q.5 'रेशमी टाई' एकांकी के रचनाकार हैं:

Question ID : 7230533504

- Ans
- ✗ 1. मोहन राकेश

- ☒ 2. भगवती चरण वर्मा
- ☒ 3. डॉ. रामकुमार वर्मा
- ☒ 4. उपेन्द्रनाथ अशक

Q.6 कौन-सी कहानी से 'नई कहानी' की शुरुआत मानी जाती है?

Question ID : 7230533500

Ans

- ☒ 1. परिदे
- ☒ 2. जहाँ लक्ष्मी कैद है।
- ☒ 3. बदबू
- ☒ 4. गरीबी हटाओ।

Q.7 विचारात्मक निबंधों की शैली होती है:

Question ID : 7230533507

Ans

- ☒ 1. धारा शैली
- ☒ 2. व्यास शैली
- ☒ 3. तरंग शैली
- ☒ 4. समास शैली

Q.8 'परख' और 'त्यागपत्र' उपन्यासों के लेखक हैं:

Question ID : 7230533497

Ans

- ☒ 1. जैनेंद्र
- ☒ 2. चतुरसेन शास्त्री
- ☒ 3. अज्ञेय
- ☒ 4. प्रेमचंद

Q.9 'राजभाषा आयोग' गठित करने के प्रावधान संविधान के कौन-से अनुच्छेद में है?

Question ID : 7230533493

Ans

- ☒ 1. 345
- ☒ 2. 346
- ☒ 3. 343
- ☒ 4. 344

Q.10 ऋ स्वर की मात्रा का प्रयोग कौन-से शब्द में है?

Question ID : 7230533495

Ans

- ☒ 1. आम्र
- ☒ 2. रात्रि
- ☒ 3. मातृभूमि
- ☒ 4. क्रिया

Q.11 संविधान की अष्टम अनुसूची में कितनी भाषाओं का उल्लेख है?

Question ID : 7230533490

Ans

- ☒ 1. 15
- ☒ 2. 17
- ☒ 3. 22
- ☒ 4. 10

Q.12 'नूतन ब्रह्मचारी' उपन्यास के लेखक हैं:

Question ID : 7230533496

Ans

- ☒ 1. बालमुकुंद गुप्त
- ☒ 2. महावीर प्रसाद द्विवेदी
- ☒ 3. किशोरी लाल गोस्वामी
- ☒ 4. बालकृष्ण भट्ट

Q.13 जो भाषा दो या दो से अधिक भाषा-भाषियों के बीच संपर्क का काम करती है, वह होती है:

Question ID : 7230533492

Ans

- ☒ 1. संपर्क भाषा
- ☒ 2. राष्ट्रभाषा
- ☒ 3. जनभाषा
- ☒ 4. राजभाषा

Q.14 "उपर्युक्त संकल्प भारत के राजपत्र में प्रकाशित किया जाए"। यह वाक्य है:

Question ID : 7230533491

Ans

- ☒ 1. कार्यालयीन भाषा का।
- ☒ 2. सामान्य भाषा का।
- ☒ 3. संपर्क भाषा का।
- ☒ 4. सूचना-प्रौद्योगिकी का।

Q.15 'लबड़ घों घों' एकांकी संग्रह है:

Question ID : 7230533505

Ans

- ☒ 1. जगदीश चंद्र माधुर का
- ☒ 2. पांडेय बेचन शर्मा उग्र
- ☒ 3. रामकुमार वर्मा का
- ☒ 4. बट्टीनाथ भट्ट का

Q.16 'मित्रो मरजानी' उपन्यास की लेखिका हैं:

Question ID : 7230533499

Ans

- ☒ 1. मृणाल पांडे
- ☒ 2. मृदुला गर्ग
- ☒ 3. कृष्णा सोबती
- ☒ 4. मन्नू भंडारी

Q.17 'सरदारपूर्णसिंह' का निबंध है:

Question ID : 7230533508

Ans

- ☒ 1. मजदूरी और प्रेम।
- ☐ 2. कछुआ धर्म।
- ☐ 3. पुष्पांजलि।
- ☐ 4. शिव शंभु के चिट्ठे।

Q.18 नाटक में पर्दे के पीछे से दी जाने वाली सूचना कहलाती है:

Question ID : 7230533506

Ans

- ☐ 1. विषकंभक
- ☐ 2. प्रवेशक
- ☐ 3. अंकास्य
- ☒ 4. चूलिका

Q.19 'प्रेमचंद्रयुग' को युग कहने का आधार है:

Question ID : 7230533498

Ans

- ☐ 1. लघुकथा
- ☐ 2. कहानी
- ☒ 3. उपन्यास
- ☐ 4. नाटक

Q.20 नाटक को पंचम वेद मानने वाले हैं:

Question ID : 7230533501

Ans

- ☒ 1. भरत मुनि
- ☐ 2. आनंद वर्धन
- ☐ 3. बाबू गुलाब राय
- ☐ 4. डॉ. नगेंद्र

Section : Subject Related

Q.1 रीतिमुक्तधारा में प्रमुख रहा है:

Question ID : 7230533528

Ans

- ☐ 1. आश्रयदाता का गुणगान
- ☐ 2. नीति कथन
- ☒ 3. श्रृंगार चित्रण
- ☐ 4. भक्ति भावना

Q.2 'पुस्तक जल्हण हाथ दै चलि गज्जन नृप काज' यह पंक्ति किस कवि से संबंधित है?

Question ID : 7230533523

Ans

- ☒ 1. नरपति नाल्ह
- ☒ 2. विद्याधर
- ☒ 3. जल्हण
- ☒ 4. चंदवरदाई

Q.3 हिंदी साहित्य का पहला 'रिपोर्ताज' माना जाता है:

Question ID : 7230533515

Ans

- ☒ 1. श्रुत अश्रुत पूर्व
- ☒ 2. नेपाली क्रांति कथा
- ☒ 3. लक्ष्मीपुरा
- ☒ 4. प्लाट का मोर्चा

Q.4 'लाज न आवत आपको दौरे आयहु साथ' पंक्ति का संबंध है:

Question ID : 7230533525

Ans

- ☒ 1. कबीर दास से
- ☒ 2. सूरदास से
- ☒ 3. तुलसीदास से
- ☒ 4. मीराबाई से

Q.5 आदिकाल के काव्यों की प्रधान भाषा थी:

Question ID : 7230533522

Ans

- ☒ 1. खड़ीबोली
- ☒ 2. डिंगल-पिंगल (मिश्रित)
- ☒ 3. पालि
- ☒ 4. प्राकृत

Q.6 'चितवन की छाँह' के रचनाकार हैं:

Question ID : 7230533516

Ans


- ☒ 1. राहुल सांकृत्यायन
- ☒ 2. महादेवी वर्मा
- ☒ 3. विद्यानिवास मिश्र
- ☒ 4. रांगेय राघव


Q.7 'यात्रिक' शीर्षक यात्रावृत्त की लेखिका हैं:

Question ID : 7230533514

Ans

- ☒ 1. चित्रा मृदगल
- ☒ 2. मन्नू भंडारी


 3. मृणाल पांडे


 4. शिवानी


Q.8 निराला के जीवन पर तीन खंडों में जीवनी लिखने वाले रचनाकार हैं:

Question ID : 7230533512

Ans

 1. जगदीशचंद्र माथुर

 2. डॉ नगेन्द्र


 3. दूधनाथ सिंह

 4. रामविलास शर्मा


Q.9 'सभा की सभ्यता' शीर्षक संस्मरण के लेखक हैं:


Question ID : 7230533519

Ans

 1. महावीर प्रसाद दविवेदी

 2. रामवृक्ष बेनी पूरी


 3. भारतेन्दु हरिश्चन्द्र

 4. कन्हैयालाल मिश्र प्रभाकर


Q.10 लार्ड कर्जन और उसकी नौकरशाही पर चुभते व्यंग्य निबंध लिखे:


Question ID : 7230533509

Ans

 1. बाल मुकुंद गुप्त

 2. प्रताप नारायण मिश्र


 3. भारतेन्दु हरिश्चंद्र


 4. चंद्रधर शर्मा गुलेरी


Q.11 कबीरदास की भाषा को कहा है:


Question ID : 7230533527

Ans

 1. पूर्वी भाषा

 2. भोजपुरी


 3. अवधी


 4. सधुक्कड़ी


Q.12 'क्या भूलू क्या याद करूँ' आत्मकथा किसकी है?


Question ID : 7230533513

Ans

 1. विष्णु प्रभाकर

 2. मैथिलीशरण गुप्त

 3. हरिवंशराय बच्चन

 4. चतुरसेन शास्त्री

Q.13 'ज्ञानाश्रयी' शाखा से संबंधित हैं:

Question ID : 7230533526

- Ans
- ☒ 1. तुलसीदास
 - ☒ 2. कबीरदास
 - ☒ 3. मीराबाई
 - ☒ 4. सूरदास

Q.14 हिंदी साहित्य के किस युग को स्वर्णयुग कहा जाता है?

Question ID : 7230533524

- Ans
- ☒ 1. रीतिकाल को
 - ☒ 2. भक्ति काल को
 - ☒ 3. आदिकाल को
 - ☒ 4. आधुनिक काल को

Q.15 महादेवी वर्मा कृत संस्मरण नहीं है:

Question ID : 7230533511

- Ans
- ☒ 1. स्मृति की रेखाएँ
 - ☒ 2. पथ के साथी
 - ☒ 3. अटीट के चलचित्र
 - ☒ 4. हमारे आराध्य

Q.16 'अर्थार्जन' की अपेक्षा श्रम को महत्व देने वाले निबंधकार हैं:

Question ID : 7230533510

- Ans
- ☒ 1. अध्यापक पूर्णसिंह
 - ☒ 2. माधव प्रसाद मिश्र
 - ☒ 3. डॉ. श्याम सुंदर दास
 - ☒ 4. संपूर्णानंद

Q.17 निम्नलिखित में से जीवनी लेखक नहीं है:


Question ID : 7230533517


- Ans
- ☒ 1. हरिशंकर परसाई
 - ☒ 2. गंगा प्रसाद पांडेय
 - ☒ 3. विष्णु चंद्र शर्मा
 - ☒ 4. शिवप्रसाद सिंह

Q.18 जो प्रगतिवादी चिंतकों में नहीं हैं, वह हैं:

Question ID : 7230533518

- Ans
- ☒ 1. त्रिलोचन
 - ☒ 2. नामवर सिंह

 3. रामस्वरूप चतुर्वेदी


 4. भोलाशंकर व्यास

Q.19 आदिकाल के साहित्य में उपेक्षित रहा है:


Question ID : 7230533521

Ans

 1. धार्मिक चेतना

 2. आश्रयदाता-प्रशंसा


 3. सामाजिक चेतना


 4. राष्ट्रीय चेतना


Q.20 'अरे यायावर! याद रहेगा' के रचनाकार हैं:

Question ID : 7230533520

Ans

 1. नगेन्द्र

 2. मुक्तिबोध

 3. निराला


 4. अज्ञेय


Section : Subject Related

Q.1 'तारसप्तक' के कवियों को 'राहों के अन्वेषी' किसने कहा है?


Question ID : 7230533540

Ans

 1. धूमिल

 2. मुक्ति बोध


 3. धर्मवीर भारती

 4. अज्ञेय


Q.2 'जगद्विनोद' किस कवि की रचना है?


Question ID : 7230533529

Ans

 1. घनानंद

 2. पदमाकर


 3. बिहारी लाल


 4. मतिराम


Q.3 'जयद्रथवध' रचना है:

Question ID : 7230533532

Ans

 1. प्रसाद की

 2. निराला जी की

 3. मैथिलीशरण गुप्त की

 4. दिनकर की

Q.4 द्दिवेदी युग का वह कौन सा कवि है जिसने सारी रचनाएँ ब्रजभाषा में की हैं?

Question ID : 7230533534

Ans

- ☒ 1. गया प्रसाद शुक्ल सनेही
- ☒ 2. बालकृष्ण शर्मा नविन
- ☒ 3. जगन्नाथ दास रत्नाकर
- ☒ 4. माखनलाल चुतर्वेदी

Q.5 'इंद्र जिमि जंभ पर, बाइव सुअंभ पर, रावण सदंभ पर रघुकुल राज है'- ये पंक्ति है:

Question ID : 7230533530

Ans

- ☒ 1. बिहारी की
- ☒ 2. भूषण की
- ☒ 3. कवि देव की
- ☒ 4. आलम की

Q.6 'संसद से सड़क तक' किसकी रचना है?

Question ID : 7230533546

Ans

- ☒ 1. अज्ञेय की
- ☒ 2. धूमिल की
- ☒ 3. मुक्तिबोध की
- ☒ 4. निराला की

Q.7 छायावाद को 'मधुचर्या' कहने वाले हैं:

Question ID : 7230533535

Ans

- ☒ 1. हज़ारी प्रसाद द्दिवेदी
- ☒ 2. डॉ नगेन्द्र
- ☒ 3. बाबू गुलाब राय
- ☒ 4. रामचन्द्र शुक्ल

Q.8 आधुनिक काल को 'गद्यकाल' कहा है:

Question ID : 7230533531

Ans

- ☒ 1. प्रताप नारायण मिश्र ने
- ☒ 2. हज़ारी प्रसाद द्दिवेदी ने
- ☒ 3. रामचन्द्र शुक्ल ने
- ☒ 4. बाबू गुलाब राय ने

Q.9 'साये में धूप' कृति है:

Question ID : 7230533545

Ans

- ☒ 1. उपन्यास
- ☒ 2. गज़ल संग्रह

☒ 3. कथा-साहित्य

☒ 4. नाटक

Q.10 हिंदी में प्रगतिवाद का आरंभ हुआ है:

Question ID : 7230533537

Ans ☒ 1. 1906 से

☒ 2. 1917 से

☒ 3. 1926 से

☒ 4. 1936 से

Q.11 हिंदी का कौन-सा कवि मैथिली में 'यात्री' नाम से लिखता था?

Question ID : 7230533547

Ans ☒ 1. त्रिलोचन

☒ 2. नरेन्द्र शर्मा

☒ 3. नागार्जुन

☒ 4. शिवमंगलसिंह सुमन

Q.12 महाभारत के पात्रों पर आधारित रचना है:

Question ID : 7230533543

Ans ☒ 1. अंधा युग

☒ 2. आधे-अधूरे

☒ 3. संशय की रात

☒ 4. सीढ़ियों पर धूप

Q.13 निम्नलिखित में से कौन-से कवि छायावाद के चार स्तंभों में नहीं हैं?

Question ID : 7230533536

Ans ☒ 1. प्रसाद

☒ 2. महादेवी

☒ 3. मैथिली शरण गुप्त

☒ 4. पंत

Q.14 'दुःख सबको माँजता है' प्रसिद्ध पंक्ति है:

Question ID : 7230533542

Ans ☒ 1. सर्वेश्वर दयाल सक्सेना की

☒ 2. मुक्तिबोध की

☒ 3. धर्मवीर भारती की

☒ 4. अज्ञेय की

Q.15 'प्रगतिवाद' को 'वर्ग-संघर्ष' की प्रेरणा मिली है:

Question ID : 7230533538

Ans

- ☒ 1. माओत्से तुंग से
- ☒ 2. स्तालिन से
- ☒ 3. कार्ल मार्क्स से
- ☒ 4. लोंजाइन से

Q.16 प्रयोगवाद की सबसे बड़ी विशेषता है:

Question ID : 7230533541

Ans

- ☒ 1. काव्य की गतिशीलता
- ☒ 2. अभिव्यंजना पर बल
- ☒ 3. दर्शन से मुक्ति
- ☒ 4. अनगढ़ता की प्रतिष्ठा

Q.17 'गा कोकिल बरसा पावक कण' पंक्ति किस रचनाकार की है?

Question ID : 7230533548

Ans

- ☒ 1. नागार्जुन
- ☒ 2. दुष्यन्त कुमार
- ☒ 3. सुमित्रा नंदन पंत
- ☒ 4. श्याम नारायण पांडेय

Q.18 'मुझे चाँद चाहिए' विधा है:

Question ID : 7230533544

Ans

- ☒ 1. नाटक
- ☒ 2. कहानी
- ☒ 3. कविता
- ☒ 4. उपन्यास

Q.19 "प्रयोगवाद इष्ट नहीं वरन वह साधन है" यह कथन है:

Question ID : 7230533539

Ans

- ☒ 1. विजयेन्द्र स्नातक का
- ☒ 2. अज्ञेय का
- ☒ 3. रामविलास शर्मा का
- ☒ 4. डॉ नगेन्द्र का

Q.20 'दिवस का अवसान समीप था, गगन था कुछ लोहित हो चला' - पंक्तियाँ किसकी हैं?

Question ID : 7230533533

Ans

- ☒ 1. मैथिली शरण गुप्त
- ☒ 2. श्रीधर पाठक
- ☒ 3. श्याम नारायण पांडेय
- ☒ 4. अयोध्यासिंह उपाध्याय हरिऔध

Q.1 'एक भारतीय आत्मा' किस कवि का उपनाम है?

Question ID : 7230533549

- Ans
- ☒ 1. गया प्रसाद शुक्ल
 - ☒ 2. हरिवंशराय बच्चन
 - ☒ 3. सियारामशरण गुप्त
 - ☒ 4. माखनलाल चतुर्वेदी

Q.2 जो शब्द संस्कृत से सीधे हिंदी में प्रयुक्त होते हैं, वे कहलाते हैं:

Question ID : 7230533552

- Ans
- ☒ 1. विदेशी
 - ☒ 2. देशज
 - ☒ 3. तद्भव
 - ☒ 4. तत्सम

Q.3 आधुनिक भारतीय भाषाओं का विकास हुआ है:

Question ID : 7230533553

- Ans
- ☒ 1. अपभ्रंश से
 - ☒ 2. संस्कृत से
 - ☒ 3. पाली से
 - ☒ 4. प्राकृत से

Q.4 हिंदी भाषा के विकास क्रम में पहली ईस्वी से 500 ई. तक की भाषा को कहा जाता है:

Question ID : 7230533551

- Ans
- ☒ 1. प्राकृत
 - ☒ 2. लौकिक संस्कृत
 - ☒ 3. पालि
 - ☒ 4. वैदिक संस्कृत

Q.5 हिंदी जिस लिपि में लिखी जाती है, वह है:

Question ID : 7230533550

- Ans
- ☒ 1. गुरुमुखी
 - ☒ 2. देवनागरी
 - ☒ 3. खरोष्ठी
 - ☒ 4. फारसी

Comprehension:

नीचे लिखे गद्यांश को पढ़िये और पूछे गए प्रश्नों के उत्तर दीजिये।

अंततः इस संस्कृति के फैलाव का परिणाम क्या होगा? यह गंभीर चिंता का विषय है। हमारे सीमित संसाधनों का घोर अपव्यय हो रहा है। जीवन की गुणवत्ता आलू के चिप्स से नहीं सुधरती। न बहुविज्ञापित शीतल पेयों से। भले ही वे अंतर्राष्ट्रीय हों। पीज़ा और बर्गर कितने ही आधुनिक हों, हैं वे कूड़ा खाद्य। समाज में वर्गों की दूरी बढ़ रही है, सामाजिक सरोकारों में कमी आ रही है। जीवन स्तर का यह बढ़ता अंतर आक्रोश और अशांति को जन्म दे रहा है। जैसे-जैसे दिखावे की यह संस्कृति फैलेगी, सामाजिक अशांति भी बढ़ेगी। हमारी सांस्कृतिक अस्मिता का हास तो हो ही रहा है, हम लक्ष्य-भ्रम से भी पीड़ित हैं। विकास के विराट उद्देश्य पीछे हट रहे हैं, हम झूठी तुष्टि के तात्कालिक लक्ष्यों का पीछा कर रहे हैं। मर्यादाएँ टूट रही हैं, नैतिक मानदंड ढीले पड़ रहे हैं। व्यक्ति-केंद्रिकता बढ़ रही है, स्वार्थ परमार्थ पर हावी हो रहा है। भोग की आकांक्षाएँ आसमान को छू रही हैं। किस बिंदु पर रुकेगी यह दौड़?

गाँधी जी ने कहा था कि हम स्वस्थ सांस्कृतिक प्रभावों के लिए अपने दरवाज़े-खिड़की खुले रखें पर अपनी बुनियाद पर कायम रहें। उपभोक्ता संस्कृति हमारी सामाजिक नींव को ही हिला रही है। यह एक बड़ा खतरा है। भविष्य के लिए यह एक बड़ी चुनौती है।

SubQuestion No : 6

Q.6 इस संस्कृति के फैलाव का परिणाम क्या होगा?
में किस संस्कृति की बात है?

Question ID : 7230533555

Ans

- ✓ 1. उपभोक्ता संस्कृति की।
- ✗ 2. आर्य संस्कृति की।
- ✗ 3. पाँचसितारा होटल संस्कृति की।
- ✗ 4. अनार्य संस्कृति की।

Comprehension:

नीचे लिखे गद्यांश को पढ़िये और पूछे गए प्रश्नों के उत्तर दीजिये।

अंततः इस संस्कृति के फैलाव का परिणाम क्या होगा? यह गंभीर चिंता का विषय है। हमारे सीमित संसाधनों का घोर अपव्यय हो रहा है। जीवन की गुणवत्ता आलू के चिप्स से नहीं सुधरती। न बहुविज्ञापित शीतल पेयों से। भले ही वे अंतर्राष्ट्रीय हों। पीज़ा और बर्गर कितने ही आधुनिक हों, हैं वे कूड़ा खादय। समाज में वर्गों की दूरी बढ़ रही है, सामाजिक सरोकारों में कमी आ रही है। जीवन स्तर का यह बढ़ता अंतर आक्रोश और अशांति को जन्म दे रहा है। जैसे-जैसे दिखावे की यह संस्कृति फैलेगी, सामाजिक अशांति भी बढ़ेगी। हमारी सांस्कृतिक अस्मिता का हास तो हो ही रहा है, हम लक्ष्य-भ्रम से भी पीड़ित हैं। विकास के विराट उद्देश्य पीछे हट रहे हैं, हम झूठी तुष्टि के तात्कालिक लक्ष्यों का पीछा कर रहे हैं। मर्यादाएँ टूट रही हैं, नैतिक मानदंड ढीले पड़ रहे हैं। व्यक्ति-केंद्रिकता बढ़ रही है, स्वार्थ परमार्थ पर हावी हो रहा है। भोग की आकांक्षाएँ आसमान को छू रही हैं। किस बिंदु पर रुकेगी यह दौड़?

गाँधी जी ने कहा था कि हम स्वस्थ सांस्कृतिक प्रभावों के लिए अपने दरवाज़े-खिड़की खुले रखें पर अपनी बुनियाद पर कायम रहें। उपभोक्ता संस्कृति हमारी सामाजिक नींव को ही हिला रही है। यह एक बड़ा खतरा है। भविष्य के लिए यह एक बड़ी चुनौती है।

SubQuestion No : 7

Q.7 जीवन में अशांति पैदा होने का कारण है:

Question ID : 7230533559

- Ans
- ☒ 1. लक्ष्य भ्रम।
 - ☒ 2. कूड़ा खादय।
 - ☒ 3. शीतल पेय।
 - ☒ 4. जीवनस्तर का अंतर।

Comprehension:

नीचे लिखे गद्यांश को पढ़िये और पूछे गए प्रश्नों के उत्तर दीजिये।

अंततः इस संस्कृति के फैलाव का परिणाम क्या होगा? यह गंभीर चिंता का विषय है। हमारे सीमित संसाधनों का घोर अपव्यय हो रहा है। जीवन की गुणवत्ता आलू के चिप्स से नहीं सुधरती। न बहुविज्ञापित शीतल पेयों से। भले ही वे अंतर्राष्ट्रीय हों। पीज़ा और बर्गर कितने ही आधुनिक हों, हैं वे कूड़ा खाद्य। समाज में वर्गों की दूरी बढ़ रही है, सामाजिक सरोकारों में कमी आ रही है। जीवन स्तर का यह बढ़ता अंतर आक्रोश और अशांति को जन्म दे रहा है। जैसे-जैसे दिखावे की यह संस्कृति फैलेगी, सामाजिक अशांति भी बढ़ेगी। हमारी सांस्कृतिक अस्मिता का हास तो हो ही रहा है, हम लक्ष्य-भ्रम से भी पीड़ित हैं। विकास के विराट उद्देश्य पीछे हट रहे हैं, हम झूठी तुष्टि के तात्कालिक लक्ष्यों का पीछा कर रहे हैं। मर्यादाएँ टूट रही हैं, नैतिक मानदंड ढीले पड़ रहे हैं। व्यक्ति-केंद्रिकता बढ़ रही है, स्वार्थ परमार्थ पर हावी हो रहा है। भोग की आकांक्षाएँ आसमान को छू रही हैं। किस बिंदु पर रुकेगी यह दौड़?

गाँधी जी ने कहा था कि हम स्वस्थ सांस्कृतिक प्रभावों के लिए अपने दरवाज़े-खिड़की खुले रखें पर अपनी बुनियाद पर कायम रहें। उपभोक्ता संस्कृति हमारी सामाजिक नींव को ही हिला रही है। यह एक बड़ा खतरा है। भविष्य के लिए यह एक बड़ी चुनौती है।

SubQuestion No : 8

Q.8 पर अपनी बुनियाद पर कायम रहें।- का आशय है:

Question ID : 7230533557

- Ans
- ☒ 1. बुनियाद हो अच्छी नींद आए अच्छी
 - ☒ 2. बुनियादी शिक्षा शुरू करें
 - ☒ 3. अपनी संस्कृति को न छोड़ें।
 - ☒ 4. घर की बुनियाद मजबूत बनाएँ

Comprehension:

नीचे लिखे गद्यांश को पढ़िये और पूछे गए प्रश्नों के उत्तर दीजिये।

अंततः इस संस्कृति के फैलाव का परिणाम क्या होगा? यह गंभीर चिंता का विषय है। हमारे सीमित संसाधनों का घोर अपव्यय हो रहा है। जीवन की गुणवत्ता आलू के चिप्स से नहीं सुधरती। न बहुविज्ञापित शीतल पेयों से। भले ही वे अंतर्राष्ट्रीय हों। पीज़ा और बर्गर कितने ही आधुनिक हों, हैं वे कूड़ा खाद्य। समाज में वर्गों की दूरी बढ़ रही है, सामाजिक सरोकारों में कमी आ रही है। जीवन स्तर का यह बढ़ता अंतर आक्रोश और अशांति को जन्म दे रहा है। जैसे-जैसे दिखावे की यह संस्कृति फैलेगी, सामाजिक अशांति भी बढ़ेगी। हमारी सांस्कृतिक अस्मिता का हास तो हो ही रहा है, हम लक्ष्य-भ्रम से भी पीड़ित हैं। विकास के विराट उद्देश्य पीछे हट रहे हैं, हम झूठी तुष्टि के तात्कालिक लक्ष्यों का पीछा कर रहे हैं। मर्यादाएँ टूट रही हैं, नैतिक मानदंड ढीले पड़ रहे हैं। व्यक्ति-केंद्रिकता बढ़ रही है, स्वार्थ परमार्थ पर हावी हो रहा है। भोग की आकांक्षाएँ आसमान को छू रही हैं। किस बिंदु पर रुकेगी यह दौड़?

गाँधी जी ने कहा था कि हम स्वस्थ सांस्कृतिक प्रभावों के लिए अपने दरवाज़े-खिड़की खुले रखें पर अपनी बुनियाद पर कायम रहें। उपभोक्ता संस्कृति हमारी सामाजिक नींव को ही हिला रही है। यह एक बड़ा खतरा है। भविष्य के लिए यह एक बड़ी चुनौती है।

SubQuestion No : 9

Q.9 शीतल पेय आदि को बताया है:

Question ID : 7230533556

- Ans
- ☒ 1. बहुत अच्छा
 - ☒ 2. अखाद्य
 - ☒ 3. हानिकारक
 - ☒ 4. लाभकारी

Comprehension:

नीचे लिखे गद्यांश को पढ़िये और पूछे गए प्रश्नों के उत्तर दीजिये।

अंततः इस संस्कृति के फैलाव का परिणाम क्या होगा? यह गंभीर चिंता का विषय है। हमारे सीमित संसाधनों का घोर अपव्यय हो रहा है। जीवन की गुणवत्ता आलू के चिप्स से नहीं सुधरती। न बहुविज्ञापित शीतल पेयों से। भले ही वे अंतर्राष्ट्रीय हों। पीज़ा और बर्गर कितने ही आधुनिक हों, हैं वे कूड़ा खाद्य। समाज में वर्गों की दूरी बढ़ रही है, सामाजिक सरोकारों में कमी आ रही है। जीवन स्तर का यह बढ़ता अंतर आक्रोश और अशांति को जन्म दे रहा है। जैसे-जैसे दिखावे की यह संस्कृति फैलेगी, सामाजिक अशांति भी बढ़ेगी। हमारी सांस्कृतिक अस्मिता का हास तो हो ही रहा है, हम लक्ष्य-भ्रम से भी पीड़ित हैं। विकास के विराट उद्देश्य पीछे हट रहे हैं, हम झूठी तुष्टि के तात्कालिक लक्ष्यों का पीछा कर रहे हैं। मर्यादाएँ टूट रही हैं, नैतिक मानदंड ढीले पड़ रहे हैं। व्यक्ति-केंद्रिकता बढ़ रही है, स्वार्थ परमार्थ पर हावी हो रहा है। भोग की आकांक्षाएँ आसमान को छू रही हैं। किस बिंदु पर रुकेगी यह दौड़?

गाँधी जी ने कहा था कि हम स्वस्थ सांस्कृतिक प्रभावों के लिए अपने दरवाज़े-खिड़की खुले रखें पर अपनी बुनियाद पर कायम रहें। उपभोक्ता संस्कृति हमारी सामाजिक नींव को ही हिला रही है। यह एक बड़ा खतरा है। भविष्य के लिए यह एक बड़ी चुनौती है।

SubQuestion No : 10

Q.10 उपभोक्ता संस्कृति क्या नहीं कर रही?

Question ID : 7230533558

- Ans
- ☒ 1. नैतिकता को बढ़ा रही है
 - ☐ 2. यह मर्यादा को तोड़ रही है
 - ☐ 3. परमार्थ को स्वार्थ पर हावी कर रही है
 - ☐ 4. व्यक्ति केंद्रिकता को बढ़ा रही

Q.11 शिक्षण सीखने की प्रक्रिया "कौन" "क्या" और "कैसे" का एकीकरण है। निम्नलिखित में से कौन इस प्रक्रिया में "कौन" का गठन करता है?

Question ID : 7230533560

- Ans
- ☐ 1. पाठ्यचर्या
 - ☐ 2. दृष्टिकोण
 - ☐ 3. सामग्री

✓ 4. विकास का संज्ञानात्मक स्तर

Q.12 Continuous education process, involvement of students and teacher is the characteristic of which type of education system?

Question ID : 7230533561

- Ans
- ✗ 1. Non-formal education
 - ✗ 2. Adult education
 - ✗ 3. Distance education
 - ✓ 4. Formal education

Q.13 नीचे दिये गए विकल्पों में से सही प्रतिक्रिया चुनें।

Question ID : 7230533569

एक समावेशी कक्षा के आदर्श व्यवस्थापन (सेटअप) में, विशिष्ट शिक्षा आवश्यकताओं वाले छात्र हैं:

- Ans
- ✗ 1. अलग समूहों में बैठे हैं।
 - ✓ 2. कक्षा के शेष विद्यार्थियों के साथ कक्षा में तितर-बितर हो गए हैं।
 - ✗ 3. समूहबद्ध हैं या अन्य छात्रों से अलग किये गए हैं।
 - ✗ 4. विशेष ध्यान देने के लिए विभिन्न कक्षाओं में बैठे हैं।

Q.14 In PCK- Pedagogy, Content and Knowledge; Knowledge refers to:

Question ID : 7230533565

- Ans
- ✓ 1. Knowing the students
 - ✗ 2. Knowing the teaching approaches
 - ✗ 3. Knowing the evolutions in education
 - ✗ 4. Knowing the educational policies

Q.15 सीखने की प्रक्रिया में दो चरण सम्मिलित होते हैं, एक प्रारंभिक चरण है और दूसरा चरण निम्नलिखित में से क्या है?

Question ID : 7230533562

- Ans
- ✗ 1. सीखने का अंतिम चरण
 - ✗ 2. सीखने का स्थावर चरण
 - ✗ 3. सीखने का रचनात्मक चरण
 - ✓ 4. सीखने का वास्तविक चरण

Q.16 निम्नलिखित में से कौन सा कथन "शून्य पाठ्यक्रम" का वर्णन करता है?

Question ID : 7230533568

- Ans
- ✗ 1. वह पाठ्यक्रम जिसे सार्वजनिक रूप से घोषित नहीं किया गया है।
 - ✗ 2. वह पाठ्यक्रम जिसमें कोई विशिष्ट सामग्री नहीं है।
 - ✗ 3. वे विषय, जो एक विशेष आयु समूह के लिए उपयुक्त नहीं हैं।
 - ✓ 4. वे उप-विषय जो पाठ्यक्रम में से हटा दिये गए हैं।

Q.17 Wisdom can be defined as a combination of:

Question ID : 7230533563

- Ans
- ☒ 1. Knowledge and skill
 - ☒ 2. Knowledge and experience
 - ☒ 3. Knowledge and expertise
 - ☒ 4. Knowledge and attitude

Q.18 Choose the right answer.

Question ID : 7230533566

Before reading activity is important in which of these subject as it preempts the student with predictions and vocabulary?

- Ans
- ☒ 1. Science
 - ☒ 2. Languages
 - ☒ 3. Mathematics
 - ☒ 4. Social studies

Q.19 Choose the appropriate option to complete the sentence.

Question ID : 7230533567

“_____ is what feelings sound like”.

- Ans
- ☒ 1. Painting
 - ☒ 2. Dance
 - ☒ 3. Music
 - ☒ 4. Picture

Q.20 रेवंध परिवार का मुखिया है और संपत्ति का नेतृत्व और नियंत्रण रखता है क्योंकि वह निम्नलिखित में से किस सामाजिक प्रणाली का पालन करता है?

Question ID : 7230533564

- Ans
- ☒ 1. साम्राज्य
 - ☒ 2. अराजकता
 - ☒ 3. पितृ सत्ता
 - ☒ 4. मातृ सत्ता