

प्रथम 10 मिनट में अभ्यर्थी अपनी प्रश्न-पुस्तिका के क्रमांक का मिलान ओ०एम०आर० उत्तर पत्रक के क्रमांक से अवश्य कर ले। यदि ओ०एम०आर० उत्तर पत्रक व प्रश्न-पुस्तिका के क्रमांक भिन्न हैं तो केन्द्र अधीक्षक से निवेदन करके प्रश्न-पुस्तिका बदल ले।

Level : 2

TGT : For Classes VI to VIII

Exam. - 2021  
ENGLISH

308365

Sub. Code No. : 202

प्रश्न-पुस्तिका क्रमांक एवं ओ०एम०आर० क्रमांक

Question-Booklet Serial No. &amp; O. M. R. Serial No.

अनुक्रमांक (अंकों में) :

SET : B

Roll No. (In Figures)

अनुक्रमांक (शब्दों में) :

Roll No. (In Words)

परीक्षा केन्द्र का नाम :

Name of Examination Centre

अभ्यर्थी का नाम :

अभ्यर्थी के हस्ताक्षर :

Name of Candidate

Signature of Candidate

इस प्रश्न-पुस्तिका में पृष्ठों की संख्या  
No. of Pages in this Question Booklet

32

प्रश्नों की संख्या  
No. of Questions

150

समय  
Time

2½ hours

निरीक्षक के हस्ताक्षर (Signature of Invigilator) :

अभ्यर्थी को 10 मिनट का समय प्रश्न-पुस्तिका पर छपे निर्देशों को पढ़ने तथा उत्तर पत्रक में अपने विवरण भरने के लिए दिया जाएगा। यदि प्रश्न-पुस्तिका व उत्तर पत्रक की क्रम संख्या गलत अंकित हो तो तुरन्त केन्द्र अधीक्षक से निवेदन करके प्रश्न-पुस्तिका बदल ले। इसके पश्चात् कोई दावा स्वीकार नहीं किया जाएगा। इन 10 मिनटों के अतिरिक्त, प्रश्नों के उत्तर अंकित करने के लिए पूरे 2½ घंटे का समय दिया जाएगा। यदि किसी अभ्यर्थी को प्रश्न-पुस्तिका में दिए गए किसी भी प्रश्न में कोई त्रुटि होने का संदेह हो तो इसके लिए अभ्यर्थियों को परीक्षा समाप्ति के उपरान्त प्रतिवेदन देने के लिए अवसर दिया जाएगा। अतः अभ्यर्थी निर्धारित अवसर के दौरान इस सम्बन्ध में अपना प्रतिवेदन बोर्ड कार्यालय में दर्ज करवा सकते हैं। इस अवसर के बाद, इस सम्बन्ध में प्राप्त प्रतिवेदनों पर कोई विचार नहीं किया जाएगा।

यदि किसी प्रश्न में हिन्दी व अंग्रेजी माध्यम में भिन्नता है तो अंग्रेजी माध्यम का प्रश्न ठीक माना जाएगा।

If there is any variance between Hindi and English Version of any question then English Version would be considered correct.

## अभ्यर्थियों के लिए निर्देश (INSTRUCTIONS FOR THE CANDIDATES) :

- ओ.एम.आर. उत्तर पत्रक इस प्रश्न-पुस्तिका के अन्दर रखा है। जब आपको प्रश्न-पुस्तिका पढ़ने को कहा जाए, तो उत्तर पत्रक निकाल कर ध्यान से केवल काले बॉल प्वाइंट पेन से विवरण भरें। (The OMR Answer Sheet is inside this Question Booklet. When you are directed to read the Question Booklet, take out the OMR Answer Sheet and fill in the particulars carefully with black ball point pen only.)
- परीक्षा की अवधि 2½ घंटे है एवं प्रश्न-पुस्तिका में 150 प्रश्न हैं। कोई ऋणात्मक अंकन नहीं है। (The test is of two-and-half hours duration and consists of 150 questions. There is no negative marking.)
- अपने विवरण अंकित करने एवं उत्तर पत्रक पर निशान लगाने के लिए केवल काले बॉल प्वाइंट पेन का प्रयोग करें। अभ्यर्थी प्रश्न-पुस्तिका का उपयोग करने एवं उत्तर पत्रक को भरने में सावधानी बरतें। (Use Black Ball Point Pen only for writing particulars on this page/darkening responses in the Answer Sheet. The candidate should remain careful in handling the question paper and in darkening the responses on the answer sheet.)
- प्रथम 10 मिनट में, यह भी सुनिश्चित कर लें कि प्रश्न-पुस्तिका क्रमांक और उत्तर पत्रक क्रमांक एक ही हैं। अगर यह भिन्न हों तो अभ्यर्थी दूसरी प्रश्न-पुस्तिका और उत्तर पत्रक लेने के लिए पर्यवेक्षक को तुरन्त अवगत करवाएँ। (Within first 10 minutes, also ensure that your Question Booklet Serial No. and Answer Sheet Serial No. are the same. In case of discrepancy, the candidate should immediately report the matter to the Invigilator for replacement of both the Question Booklet and the Answer Sheet.)

## 5. लेवल-2 (कक्षा VI से VIII के लिए)

- भाग-I : बाल विकास व शिक्षा शास्त्र (प्र० 1 से प्र० 30)  
भाग-II : भाषा : (प्र० 31 से प्र० 60)  
(हिन्दी : 15 प्रश्न व अंग्रेजी : 15 प्रश्न)  
भाग-III : सामान्य अध्ययन : (प्र० 61 से प्र० 90)  
(मात्रात्मक योग्यता : 10 प्रश्न, तार्किक अभिज्ञता : 10 प्रश्न,  
सामान्य ज्ञान एवं अभिज्ञान : 10 प्रश्न)  
भाग-IV : अंग्रेजी (प्र० 91 से प्र० 150)

## 5. Level-2 (For Classes VI to VIII)

- Part-I : Child Development and Pedagogy (Q. 1 to Q. 30)  
Part-II : Language : (Q. 31 to Q. 60)  
(Hindi : 15 Q. & English : 15 Q.)  
Part-III : General Studies : (Q. 61 to Q. 90)  
(Quantitative Aptitude : 10 Q, Reasoning Ability : 10 Q, G. K. & Awareness : 10 Q)  
Part-IV : English (Q. 91 to Q. 150)

नोट : कृपया इस पुस्तिका के अन्त में दिए गए शेष निर्देशों को पढ़ें। (Please read other remaining instructions given on the last page of this booklet.)



[ 3 ]

[ B ]

## भाग - I (PART - I)

## बाल विकास व शिक्षाशास्त्र (CHILD DEVELOPMENT AND PEDAGOGY)

निर्देश : निम्नलिखित प्रश्नों के उत्तर देने के लिए सबसे उचित विकल्प चुनिए।

Direction : Answer the following questions by selecting the most appropriate option.

1. बच्चों के भीतर छुपे सांवेगिक घुटन एवं शक्तियों को बाहर निकालने की प्रक्रिया को क्या कहते हैं ?

- (1) सांवेगिक स्थिरता
- (2) सांवेगिक संवेदनशीलता
- (3) सांवेगिक विरेचन ✓
- (4) सांवेगिक सामर्थ्य

2. जब कोई व्यक्ति अपने विचारों तथा क्रियाओं को किसी ऐसे दूसरे व्यक्ति के अनुरूप बनाना शुरू कर देता है जिसका वह अनुकरण करना चाहता है, तो इस प्रकार की क्रिया कौन-से प्रकार की रक्षा युक्ति कहलाती है ?

- (1) तादात्मीकरण
- (2) प्रक्षेपण ✓
- (3) औचित्य स्थापना
- (4) विस्थापन

3. जीन पियाजे के अनुसार बच्चा किस आयु वर्ग में अमूर्त तर्क विकसित करता है ?

- (1) 6 से 8 वर्ष
- (2) 8 से 10 वर्ष
- (3) 7 से 9 वर्ष
- (4) 11 से 14 वर्ष ✓

1. What is the process of releasing the hidden emotional suffocation and powers inside the children called ?

- (1) Emotional stability
- (2) Emotional sensitivity
- (3) Emotional catharsis
- (4) Emotional competency

2. When a person tried to make his/her thoughts and action according to other whom he like to follow, then this kind of activity called which type of defence mechanism ?

- (1) Identification
- (2) Projection
- (3) Rationalisation
- (4) Displacement

3. According to Jean Piaget between which age the child develops abstract reasoning ?

- (1) 6 to 8 years
- (2) 8 to 10 years
- (3) 7 to 9 years
- (4) 11 to 14 years

[ B ]

4. निम्नलिखित में से कौन-सा बाल्यावस्था का सामान्य भाषण विकार नहीं है ?
- (1) ऊर्जा की कमी
  - (2) तुतलाना
  - (3) अस्पष्ट उच्चारण
  - (4) हकलाना ✓
5. रोशॉ स्याही धब्बा परीक्षण में कितने कार्ड निर्धारित हैं ?
- (1) 12
  - (2) 10
  - (3) 30 ✓
  - (4) 31
6. वयःसंधि अवस्था का आयु विस्तार क्या होता है ?
- (1) 10 से 12 वर्ष
  - (2) 6 से 12 वर्ष ✓
  - (3) 11 से 16 वर्ष
  - (4) 8 से 10 वर्ष
7. 'रॉस' के अनुसार विकास की कौन-सी अवस्था को 'मिथ्या परिपक्वता' अवस्था कहा जाता है ?
- (1) शैशवावस्था
  - (2) बाल्यावस्था
  - (3) किशोरावस्था ✓
  - (4) प्रौढ़ावस्था
8. निम्नलिखित में से कौन-सा एक बुद्धि के निष्पादन परीक्षण का प्रकार नहीं है ?
- (1) आर्मी अल्फा परीक्षण ✓
  - (2) कोह का ब्लॉक डिजाइन परीक्षण
  - (3) घन निर्माण/रचना परीक्षण
  - (4) पास एलॉन्ग परीक्षण

Level-2/202

[ 4 ]

4. Which one of the following is *not* the common speech disorder of childhood ?
- (1) Depletion of Energy
  - (2) Lispings
  - (3) Slurring
  - (4) Stuttering ✓
5. How many cards prescribed in Rorschach Ink Block Test ?
- (1) 12
  - (2) 10
  - (3) 30
  - (4) 31 ✓
6. What is the age range of puberty stage ?
- (1) 10 to 12 years
  - (2) 6 to 12 years
  - (3) 11 to 16 years
  - (4) 8 to 10 years ✓
7. According to 'Ross', which stage of development is known as 'Pseudo Maturity' stage ?
- (1) Infancy
  - (2) Childhood
  - (3) Adolescence
  - (4) Adulthood ✓
8. Out of the following which one is *not* the type of performance test of intelligence ?
- (1) Army alpha test
  - (2) Koh's block design test
  - (3) The cube construction test
  - (4) The pass along test ✓



[ 5 ]

[ B ]

9. निम्नलिखित में से कौन-सी एक विशेषता प्रतिभाशाली बच्चों की दृष्टि से उपयुक्त नहीं है ?

- (1) तेजी से और आसानी से सीखते हैं।
- (2) कठिन मानसिक कार्यों को प्रदर्शित करते हैं।
- (3) बहुत प्रकार की जानकारियाँ रखते हैं जिनके बारे में ज्यादातर बच्चे जागरूक नहीं होते हैं।
- (4) जो कुछ उन्होंने सुना या पढ़ा है उसे बरकरार रखने के लिए उन्हें बहुत अभ्यास की आवश्यकता होती है। ✓

10. निम्नलिखित में से कौन-सा एक बण्डुरा द्वारा प्रदत्त अधिगम सिद्धान्त के अन्तर्गत अवलोकनात्मक अधिगम हेतु सही तार्किक क्रम है ?

- (1) अवधानात्मक → धारणात्मक → अभिप्रेरणात्मक → उत्पादन
- (2) अवधानात्मक → अभिप्रेरणात्मक → धारणात्मक → उत्पादन
- (3) अभिप्रेरणात्मक → अवधानात्मक → धारणात्मक → उत्पादन
- (4) अवधानात्मक → धारणात्मक → उत्पादन → अभिप्रेरणात्मक

11. सोशियोमेट्रिक तकनीक का आविष्कार किसने किया था ?

- (1) जे० ई० एण्डरसन
- (2) जे० एल० मोरेनो
- (3) ई० बी० हरलॉक ✓
- (4) जी० एस० मर्मोर

9. Out of the following which one characteristic *not* suits to gifted children ?

- (1) Learn rapidly and easily.
- (2) Perform difficult mental task.
- (3) Knows about many things of which most of the students are unaware.
- (4) Much drill is required to retain what he/she has heard or read.

10. Which one of the following is the *correct* logical order of observational learning process according Learning Theory of Bandura ?

- (1) Attentional → Retentional → Motivational → Production
- ✓ (2) Attentional → Motivational → Retentional → Production
- (3) Motivational → Attentional → Retentional → Production
- (4) Attentional → Retentional → Production → Motivational

11. Who invented sociometric technique ?

- (1) J. E. Anderson
- (2) J. L. Moreno
- (3) E. B. Hurlock
- (4) G. S. Marmor

[ B ]

12. यह किसने कहा था कि "एक व्यक्ति उसी अनुपात में बुद्धिमान होता है जितना वह अमूर्त रूप से चिन्तन की क्षमता रखता है" ?  
 (1) टर्मन (2) डियरबॉर्न  
 (3) बकिंघम (4) कालविन ✓
13. लड़कियाँ शारीरिक रूप से लड़कों से श्रेष्ठ होती हैं :  
 (1) शैशवावस्था में ✓  
 (2) उत्तर बाल्यावस्था में  
 (3) पूर्व बाल्यावस्था में  
 (4) किशोरावस्था में
14. शैक्षिक मनोविज्ञान के पिता के रूप में किसे जाना जाता है ?  
 (1) ई० एल० थार्नडाइक ✓  
 (2) पेस्तालोजी  
 (3) हर्बर्ट  
 (4) फ्रॉबेल
15. निम्नलिखित में से कौन-सी एक विषय-वस्तु समग्रवादी मनोवैज्ञानिकों के अध्ययन क्षेत्र की है ?  
 (1) संज्ञानात्मक प्रक्रियाएँ  
 (2) चेतना ✓  
 (3) सम्पूर्ण रूप से मानसिक और व्यवहारिक प्रक्रियाएँ ✓  
 (4) अस्तित्व के तरीके और समस्याएँ
16. यह किसने कहा कि "व्यक्तित्व जन्मजात और अर्जित प्रवृत्तियों का योग है" ?  
 (1) मॉर्टिन प्रिन्स (2) ऑलपोर्ट ✓  
 (3) वेलेनटीन (4) कैटेल

[ 6 ]

12. Who stated that "An individual is intelligent in proportion as he is able to carry on abstract thinking" ?  
 (1) Terman (2) Dearborn  
 (3) Buckingham (4) Calvin
13. Girls surpass boys physically in :  
 (1) Infancy  
 (2) Later childhood  
 (3) Early childhood  
 (4) Adolescence
14. Who is known as father of Educational Psychology ?  
 (1) E. L. Thorndike  
 (2) Pestalozzi  
 (3) Herbart  
 (4) Froebel
15. Out of the following which one is the subject matter for study of Gestalt Psychologist ?  
 (1) Cognitive processes  
 (2) Consciousness  
 (3) Mental and behavioural processes a wholes  
 (4) Modes and problems of existence
16. Who stated that "Personality is the sum total of innate and acquired dispositions" ?  
 (1) Mortin Prince (2) Allport  
 (3) Valentine (4) Cattell



[ 7 ]

[ B ]

17. निम्नलिखित में से कौन-सी एक अपराधी बालक की विशेषता *नहीं* है ?

- (1) विद्यालय सम्पत्ति को नष्ट करना
- (2) धमकी देना एवं उपहास करना
- (3) सताना
- (4) शरीर रचना में एस्थेनिक ✓

18. निम्नलिखित में से कौन-सी अंतर्मुखी सोच प्रकार व्यक्तित्व की विशेषता है ?

- (1) यथार्थवादी और व्यावहारिक
- (2) अपनी बौद्धिक खोज में लीन ✓
- (3) तथ्यों के साथ सिद्धान्त का समर्थन
- (4) अपने विचारों को आग्रह और दृढ़ता से प्रचारित करना

19. निम्नलिखित में से कौन-सी एक गतिविधि "जिज्ञासा" मूल प्रवृत्ति को संतुष्ट करने के लिए उपयुक्त *नहीं* है ?

- (1) कक्षा अथवा विद्यालय में गौरवपूर्ण स्थिति प्रदान करना
- (2) विद्यार्थियों के प्रश्नों के उत्तर देना
- (3) समस्या समाधान
- (4) कक्षा में विचार-विमर्श ✓

20. निम्नलिखित में से कौन-सी एक सृजनात्मकता की अवस्था गोर्डन ने अपनी साइनेटिक्स तकनीक में प्रतिपादित *नहीं* की है ?

- (1) संलग्नता अन्तर्भावितता
- (2) समान वस्तु की खोज ✓
- (3) स्थगन
- (4) संकल्पना निर्माण

17. Out of the following which one is *wrong* characteristic of Delinquents ?

- (1) Damaging school property
- (2) Bullying and mockery
- (3) Torturing
- (4) Aesthanic in constitution

18. Which of the following is the characteristic of introverted thinking type personality ?

- (1) Realistic and Practical
- (2) Absorbed in his own intellectual pursuit
- (3) Supports theory with facts
- (4) Propagates his views with insistence and vehemence

19. Out of the following which one activity is *not* suitable for satisfying the instincts curiosity ?

- (1) Awarding positions in the class or school
- (2) Answering the questions of the students
- (3) Problem solving
- (4) Discussion in class

20. Out of the following which one is *not* the stage of creativity prescribed by Gordon in his Synectics Technique ?

- (1) Detachment involvement
- (2) Finding something similar
- (3) Deferment
- (4) Concept formation

[ B ]

21. निम्नलिखित में से कौन-सा एक कथन भावनाओं की विशेषताओं के सन्दर्भ में *गलत* कथन है ?

- (1) संवेग भावनाओं के आधार होते हैं।
- (2) भावनाएँ जन्मजात होती हैं।
- (3) समय के साथ भावनाएँ पुरानी पड़ जाती हैं और वे अपनी स्थिति भी बदल देती हैं।
- (4) ज्यादातर जानवरों में भावनाएँ नहीं होती क्योंकि उनके पास कोई बौद्धिक समझ नहीं होती है।

22. 'एक प्रकार का चिंतन जिसमें अनुभव के साथ संवेदना की व्याख्या की जाती है', क्या कहलाती है ?

- (1) परावर्तक चिंतन ✓
- (2) अवधारणात्मक चिंतन
- (3) सृजनात्मक चिंतन
- (4) आलोचनात्मक चिंतन

23. निम्नलिखित में से कौन-सी एक जेम्स लान्जे "संवेग सिद्धान्त" द्वारा प्रदत्त *सही* शृंखला है ?

- (1) परिस्थिति → शारीरिक अशांति → मानसिक स्थिति
- (2) परिस्थिति → मानसिक स्थिति → शारीरिक अभिव्यक्ति
- (3) परिस्थिति → शारीरिक अभिव्यक्ति → मानसिक स्थिति
- ✓ (4) परिस्थिति → मानसिक स्थिति → शारीरिक अशांति

[ 8 ]

21. Out of the following which one of the statement is *wrong* in context of characteristics of sentiments ?

- (1) Emotions are the basis of sentiments.
- (2) Sentiments are innate.
- (3) Sentiments get older with the passage of time and they may even change their state.
- (4) Most of the animals do not have sentiments because of they do not have intellectual comprehension.

22. A type of thinking in which one's interpret sensation with experience is known as what ?

- (1) Reflective thinking
- (2) Perceptual thinking
- (3) Creative thinking
- (4) Critical thinking

23. Out of the following which is *correct* sequence given by James Lange's "Theory of Emotions" ?

- (1) Situation → Bodily disturbance → Mental state
- (2) Situation → Mental state → Bodily expressions
- (3) Situation → Bodily expressions → Mental state
- (4) Situation → Mental state → Bodily disturbance



[ 9 ]

[ B ]

24. कभी-कभी प्रतिभाशाली माता-पिता के बच्चे अपने माता-पिता की तुलना में कम बुद्धि के साथ जन्म लेते हैं अथवा इसका ठीक उल्टा होता है, यह वंशानुक्रम का कौन-सा नियम कहलाता है ?

- (1) प्रत्यागमन का नियम
- (2) चयनित गुणों का सिद्धान्त ✓
- (3) मातृ व पितृ पक्षों का नियम
- (4) संयोग का नियम

25. एरिकसन के अनुसार व्यक्ति के मनोसामाजिक विकास की चौथी अवस्था कौन-सी है ?

- (1) प्रगाढ़ता बनाम अलगाव
- (2) पहचान बनाम भूमिका संभ्रांति ✓
- (3) परिश्रम प्रियता बनाम हीनता
- (4) उत्पादनशीलता बनाम स्थिरता

26. निम्नलिखित में से कौन-सा विकास के संदर्भ में असत्य कथन है ?

- (1) विकास में परिवर्तन निहित होता है ✓
- (2) विकासात्मक पैटर्न अपूर्वानुमेय होते हैं।
- (3) आरम्भिक विकास, पश्चवर्ती विकास की तुलना में ज्यादा संकटपूर्ण होते हैं।
- (4) विकास परिपक्वता एवं अधिगम का उत्पाद होता है।

24. Sometimes the children of gifted parents are born with less intelligence than their parents or vice versa, which Law of Heredity is called ?

- (1) Law of Regression
- (2) Law of Selective Traits
- (3) Law of Maternal and Paternal Lines
- (4) Law of Chance

25. Which is the fourth stage of psycho-social development of an individual according to Erikson ?

- (1) Intimacy v/s isolation
- (2) Identity v/s role confusion
- (3) Industry v/s inferiority
- (4) Generativity v/s stagnation

26. Which one of the following is *false* statement in context of Development ?

- (1) Development involves change.
- (2) The development pattern is unpredictable.
- (3) Early development is more critical than later development.
- (4) Development is the product of maturation and learning.



[ B ]

[ 10 ]

27. निम्नलिखित में से कौन-सा एक कथन निर्देशन की विशेषताओं एवं प्रकृति के संदर्भ में *गलत* कथन है ?

- (1) निर्देशन किसी व्यक्ति को खुद को समायोजित करने में सहायता करना है।
- (2) निर्देशन आत्म दिशा में व्यक्ति के विकास को बढ़ावा देना है। ✓
- (3) निर्देशन केवल अन्य के प्रयासों के माध्यम से व्यक्ति स्वयं की मदद करना है।
- (4) निर्देशन किसी व्यक्ति को अपना स्थान स्वयं प्राप्त करने में सहायता करना है।

28. लड़कियों के पितृ प्रेमभाव को फ्रायड ने किससे सम्बोधित किया है ?

- (1) ओडीपस भावना ग्रन्थि
- (2) इलेक्ट्रा भावना ग्रन्थि ✓
- (3) स्वप्रेम भावना
- (4) निर्भरता की भावना

29. व्यवहार का अध्ययन करने के लिए सबसे पुरानी विधि कौन-सी है ?

- (1) प्रयोगात्मक विधि ✓
- (2) नैदानिक विधि
- (3) मनोभौतिकी विधि
- (4) आत्मनिरीक्षण विधि

30. निम्नलिखित में से कौन-सी एक अन्तर्दृष्टि की विशेषता *नहीं* है ?

- (1) आकस्मिकता
- (2) नवीन परिस्थिति में अनुक्रिया
- (3) आदत बल
- (4) अनुक्रिया का सहजता से होना ✓

27. Out of the following which one is the *wrong* statement in context of characteristics and nature of guidance ?

- (1) Guidance is assisting the individual to adjust himself.
- (2) Guidance is promotion of the growth of the individual in self Guidance.
- (3) Guidance is helping the individual himself through others efforts only.
- (4) Guidance is assisting an individual to find his place.

28. What did Freud consider the paternal love of girls ?

- (1) Oedipus complex
- (2) Electra complex
- (3) Narcissism
- (4) Feeling of dependence

29. Which is the oldest method for the study of behaviour ?

- (1) Experimental method
- (2) Clinical method
- (3) Psycho-physical method
- (4) Introspection method

30. Out of the following which one is *not* the characteristic of insight ?

- (1) Incidental
- (2) Response in novel situation
- (3) Habit strength
- (4) Response spontaneity



## भाग - II (PART - II)

भाषा (हिन्दी एवं अंग्रेजी) [ LANGUAGES (HINDI &amp; ENGLISH) ]

हिन्दी (HINDI)

निर्देश : निम्नलिखित प्रश्नों के उत्तर देने के लिए सबसे उचित विकल्प चुनिए।

31. किस विकल्प के सभी शब्द विदेशज हैं ?

- (1) लाजवाब, मशीन, पवन
- (2) कारीगर, अतिशयोक्ति, कहानी
- (3) मुमकिन, अमूमन, पक्षवार ✓
- (4) किस्सा, स्कूल, हमला

32. प्रत्यय की दृष्टि से किस शब्द की रचना अनुचित है ?

- (1) मुरेला - एला
- (2) कँटीला - ईला
- (3) विलीन - ईन ✓
- (4) ससुराल - आल

33. किस वाक्य में सर्वनाम संबंधिनी अशुद्धि है ?

- (1) तुम्हारी पुस्तक यह नहीं वह है।
- (2) मैं अपना कार्य कर रहा हूँ।
- (3) जिसने भी खाया है, सराहा है।
- (4) मेरे को कुछ भी याद नहीं आ रहा। ✓

34. किस वाक्य में परिमाणवाचक विशेषण का प्रयोग हुआ है ?

- (1) मैं नीली कमीज नहीं पहनता।
- (2) इस बार बारिश में बहुत ओले गिरे।
- (3) खेल का मैदान लम्बा है। ✓
- (4) दिनेश अच्छा गायक है।

35. विलोम शब्द की दृष्टि से अनुचित युग्म पहचानिए :

- (1) बढ - नेक
- (2) दुश्चरित्र - निश्चरित्र ✓
- (3) विस्तृत - संक्षिप्त
- (4) मधुर - कटु

36. किस विकल्प में 'संकेतार्थक' वाक्य है ?

- (1) प्रियतम मेरा मित्र है।
- (2) यदि तुम आओ तो मैं चलूँ। ✓
- (3) हो सकता है कल मौसम ठीक हो जाए।
- (4) राजेश अपना कमरा साफ़ करो।

37. निम्न में से कौन-सा शब्द 'अनु' उपसर्ग से निर्मित नहीं है ?

- (1) आनुपातिक
- (2) अनुदात्त ✓
- (3) अनूदित
- (4) अनुरंजक

38. 'विपत्ति के समय थोड़ी सहायता भी बड़ी होती है' उक्त भाव की व्यंजक लोकोक्ति चुनिए :

- (1) डूबते को तिनके का सहारा ✓
- (2) चुपड़ी और दो-दो
- (3) चार दिन की चाँदनी फिर अँधेरी रात
- (4) आम के आम गुठलियों के दाम



[ B ]

[ 12 ]

39. किस भाववाचक संज्ञा का निर्माण व्यक्तिवाचक संज्ञा से हुआ है ?

- (1) बचपन (2) कैशोर्य  
(3) ऐश्वर्य ✓ (4) मातृत्व

40. क्रिया के संबंध में कौन-सा युग्म अनुचित है ?

- (1) भिखारी सड़क पर चिल्ला रहे थे। -  
अकर्मक क्रिया  
(2) राधा श्याम को पत्र लिखती है। -  
द्विकर्मक क्रिया  
(3) बगीचे में मोर नाच रहा है। -  
सकर्मक क्रिया  
(4) वह विद्यालय से आकर खाना खाएगा। -  
पूर्वकालिक क्रिया

41. पर्यायवाची शब्दों के संदर्भ में असंगत विकल्प चुनिए :

- (1) जीभ - वाचा, रसना, वाणी  
(2) अहंकार - दंभ, दर्प, मद  
(3) किरण - रश्मि, मयूख, प्रभा  
(4) कौआ - प्रियक, मधुदूत, अतिसौरभ

42. समास-विग्रह की दृष्टि से कौन-सा विकल्प उचित है ?

- (1) हथकरघा - हाथों से चलने वाला करघा  
(2) भुजग - भूमि में जन्म लेने वाला ✓  
(3) देशभक्ति - देश के द्वारा भक्ति x  
(4) पशुबलि - पशु के लिए बलि x

43. किस विकल्प में संधि-विच्छेद अनुचित है ?

- (1) बहिरेकता = बहिः + एकता  
(2) आशीर्वचन = आशीः + वचन  
(3) रतिरंश = रतिः + रंश ✓  
(4) तपश्चर्या = तपः + चर्या

44. निम्न में से किस मुहावरे का अर्थ संगत नहीं है ?

- (1) नहले पर दहला मारना -  
करारा जवाब देना  
(2) बत्तीसी बंद होना - चुप हो जाना  
(3) सिर का पसीना पाँव तक आना -  
कठिन परिश्रम करना

✓(4) थाली का बैंगन होना - सर्व सुलभ होना

45. निम्न में से किस विकल्प का कथन गलत है ?

- (1) 'ऋ' का उच्चारण स्थान 'मूर्धा' है।  
✓(2) विसर्ग ध्वनि की गणना नासिक्य वर्णों में की जाती है।  
(3) 'य' और 'व' को अर्ध स्वर भी कहा जाता है।  
(4) 'ड़' और 'ढ़' उक्षिप्त वर्ण कहलाते हैं।



## अंग्रेजी (ENGLISH)

**Direction :** Answer the following questions by selecting the **most appropriate** option.

- 46.** Select the **appropriate** modal for the expression given :

Harish has annoyed his boss today.  
He ..... be fired soon. (probability)

- (1) may (2) can  
(3) ought to (4) would ✓

- 47.** Choose the **correct** tense form to fill in the blank :

Municipality has decided to ..... the overhead wires.

- (1) did away with  
(2) do away with ✓  
(3) has done away with  
(4) had done away with

- 48.** Select the **appropriate** modal to fill in the blank :

Trespassers ..... be punished.  
(legal notice)

- (1) shall (2) may  
(3) should ✓ (4) ought to ✓

- 49.** Select the **appropriate** preposition to fill in the blank :

His hut is ..... hotel Taj.

- (1) above ✓  
(2) out ×  
(3) besides ✓  
(4) beside

- 50.** Choose the **correct** meaning of the underlined words :

The law and order situation will only become worse in the state due to the riots, if the government does not do something right now to nip it in the bud.

- (1) To plan in detail to stop a threat  
(2) To destroy the problem in the initial stage only ✓  
(3) To arrest the culprits  
(4) To stop something harmful in the initial stage

- 51.** Select the **correct** option (Phrasal Verb) for the underlined word :

She rejected his request to take her home.

- (1) turned up (2) turned down ✓  
(3) turned out (4) turned off

- 52.** Choose the **correct** option to fill in the blank :

This pen is both good ..... cheap.

- (1) as well as (2) as well  
(3) but only (4) and ✓

- 53.** Choose the **correct** option for the following :

One who wastes a lot of money is :

- (1) frugal (2) recluse  
(3) prodigal ✓ (4) reticent



[ B ]

54. Choose the part of the sentence which is *incorrect* :

The party president made

(a)

Rakesh      a M. P. candidate

(b)

(c)

for the coming election.

(d)

(1) a      (2) b

(3) c      (4) d

55. Select the *correct* option (Phrasal Verb) for the blank left in the sentence :

Cholera has ..... in this village.

(1) broken out

(2) broken down

(3) broken up

(4) broken off

56. Choose the *correct* meaning of the underlined words :

The hostess broke the ice by introducing the strangers to each other.

(1) To make people relax with each other

(2) To make people perplexed with each other

(3) To serve welcome drink to the guests

(4) To start a game of puzzle

[ 14 ]

57. Choose the *correct* tense form to fill in the following :

I had consulted my lawyer before I ..... the complaint.

(1) did lodge      (2) had lodged

(3) lodge      (4) lodged

58. Choose the *appropriate* modal to fill in the blank :

He ..... listen to the stories of his Grand Ma before he slept.

(Past habit)

(1) could      (2) shall

(3) would      (4) might

59. Choose the part of the sentence which is *incorrect* :

He did not      keep his words

(a)

(b)

to pick him up      from WTP.

(c)

(d)

(1) b      (2) c

(3) d      (4) a

60. Choose the *appropriate* preposition to fill in the blank :

What is the time ..... your watch ?

(1) in      (2) from

(3) by      (4) on



## भाग - III (PART - III)

## सामान्य अध्ययन (GENERAL STUDIES)

## मात्रात्मक योग्यता, तार्किक अभिक्षमता तथा सामान्य ज्ञान एवं अभिज्ञान (QUANTITATIVE APTITUDE, REASONING ABILITY AND G.K. &amp; AWARENESS)

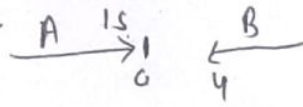

निर्देश : निम्नलिखित प्रश्नों के उत्तर देने के लिए सबसे उचित विकल्प चुनिए।

Direction : Answer the following questions by selecting the most appropriate option.

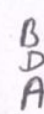
61. एक घनाभ की लम्बाई, चौड़ाई एवं गहराई का योग 19 सेमी है, तथा इसके मुख्य विकर्ण का माप  $5\sqrt{5}$  सेमी है, तो इसका पृष्ठीय क्षेत्रफल है :

- (1)  $361 \text{ सेमी}^2$   
 (2)  $286 \text{ सेमी}^2$   
 (3)  $236 \text{ सेमी}^2$   
 (4)  $340 \text{ सेमी}^2$

62. लड़कों की एक पंक्ति में, A बायीं तरफ से 15वें तथा B दायीं तरफ से चौथे स्थान पर है, एवं A तथा B के मध्य तीन लड़के हैं, C, A के एकदम बायीं ओर है, तो C की स्थिति दायीं ओर से क्या है ?

- (1) 9वीं ✓   
 (2) 10वीं  
 (3) 12वीं   
 (4) 13वीं

63. पाँच व्यक्तियों A, B, C, D तथा E में, A, B से छोटा लेकिन E से लम्बा है, C सबसे लम्बा है, D, B से छोटा है लेकिन A से लम्बा है, तो इनमें से कौन सबसे छोटा है ?

- (1) B (2) A   
 (3) D (4) E ✓

61. The sum of length, breadth and depth of a cuboid is 19 cm and its principal diagonal is  $5\sqrt{5}$  cm, then its surface area is :

- (1)  $361 \text{ cm}^2$  ✓  
 (2)  $286 \text{ cm}^2$   
 (3)  $236 \text{ cm}^2$   
 (4)  $340 \text{ cm}^2$

62. In a row of boys, A is 15th from the left and B is fourth from the right. There are three boys between A and B, C is first left of A. What is the position of C from the right ?

- (1) 9th  
 (2) 10th  
 (3) 12th  
 (4) 13th

63. Among five persons A, B, C, D and E, A is shorter than B but taller than E. C is the tallest. D is shorter than B but taller than A. Who among them is shortest ?

- (1) B (2) A  
 (3) D (4) E



$$\frac{10 \times 5}{\frac{1}{3} \times \frac{5}{3}} = \frac{12 \times 18}{5} = 216 \quad T = \frac{100}{216}$$

$$\frac{400}{50} \times 3$$

[B]

[16]

64. 140 मीटर लम्बी रेलगाड़ी की चाल 60 किमी/घण्टा है, इसे 260 मीटर लम्बे प्लेटफॉर्म को पार करने में कितना समय लगेगा ?

(1) 18 सेकण्ड

(2) 24 सेकण्ड

(3) 30 सेकण्ड

(4) 32 सेकण्ड

$$\frac{140}{1240} \times \frac{60 \times 18}{5} = \frac{384}{16} = 24$$

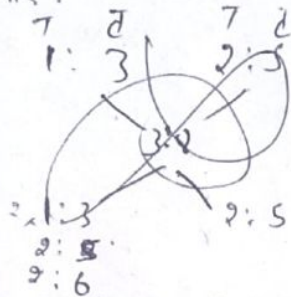
65. दो मिश्रधातु ताँबे तथा टिन से बने हैं पहली मिश्रधातु में ताँबा तथा टिन का अनुपात 1 : 3 है तथा दूसरे में अनुपात 2 : 5 है। इन दोनों मिश्रधातुओं को किस अनुपात में मिलाया जाए, ताकि नई मिश्रधातु में ताँबे तथा टिन का अनुपात 3 : 8 हो जाए ?

(1) 3 : 5

(2) 4 : 9

(3) 4 : 7

(4) 3 : 8



66. यदि 4 पुरुष या 6 महिलाएँ एक कार्य को 7 घण्टे प्रतिदिन कार्य करके 12 दिनों में कर सकते हैं, तो उसी कार्य से दुगुना बड़ा कार्य 10 पुरुष तथा 3 महिलाएँ 8 घण्टे प्रतिदिन कार्य करके कितने दिनों में पूरा कर सकेंगे ?

(1) 6

(2) 7

(3) 8

(4) 9

$$\frac{4 \times 6 \times 7 \times 12}{10 \times 3 \times 8 \times x} = 12$$

67. यदि  $x = \frac{1}{1+\sqrt{2}}$  हो, तो  $x^2 + 2x + 3$  का मान है :

(1) 0

(2) 1

(3) 4

(4) 2

$$4 \times 6$$

64. A train 140 metre long is running at 60 km/hour. How much time will it take to pass a platform 260 metre long ?

(1) 18 sec

(2) 24 sec

(3) 30 sec

(4) 32 sec

65. Two alloys are both made up of copper and tin. The ratio of copper and tin in the first alloy is 1 : 3 and in second alloy is 2 : 5. In what ratio should two alloys be mixed, to obtain a new alloy such that the ratio of copper and tin be 3 : 8 ?

(1) 3 : 5

(2) 4 : 9

(3) 4 : 7

(4) 3 : 8

$$\frac{4 \times 6 \times 7}{12} = 14$$

66. If 4 men or 6 women can do a piece of work in 12 days working 7 hours a day. How many days will it take to complete a work twice as large with 10 men and 3 women working together 8 hours a day ?

(1) 6

(2) 7

(3) 8

(4) 9

67. If  $x = \frac{1}{1+\sqrt{2}}$ , then the value of  $x^2 + 2x + 3$  is :

(1) 0

(2) 1

(3) 4

(4) 2



[ 17 ]

[ B ]

68. निम्न अक्षर श्रेणी का अगला पद होगा :

CAE, HFJ, MKO, RPT, ....

- (1) UTY (2) WUY ✓  
(3) VUZ (4) WUZ

69. एक तार की लम्बाई 66 मीटर है, तो इस तार से बनाए जा सकने वाले 1.32 सेमी परिधि के वृत्तों की संख्या है :

- (1) 1000 ✓ (2) 50  
(3) 500 (4) 5000

70. दो संख्याओं का योग 520 है, यदि उनमें से बड़ी संख्या को 4% कम कर दिया जाए और छोटी को 12% बढ़ा दिया जाए, तो प्राप्त संख्याएँ बराबर होंगी, तो उनमें से छोटी संख्या है :

- (1) 210 (2) 240 ✓  
(3) 270 (4) 300

71. एक कपड़ा विक्रेता 33 मीटर कपड़ा बेचकर, 11 मीटर कपड़े के विक्री मूल्य के बराबर लाभ प्राप्त कर लेता है, तो उसका लाभ प्रतिशत है :

- (1) 11% (2) 22% ✓  
(3) 50% (4) 40%

72. A ने कहा "वह लड़का मेरी माताजी के पति का पौत्र है, मेरा कोई भाई अथवा बहिन नहीं है" लड़का, A से किस प्रकार सम्बन्धित है ?

- (1) चाचा  
(2) पुत्र ✓  
(3) भतीजा  
(4) चचेरा भाई

68. The next term of the following letter series will be :

CAE, HFJ, MKO, RPT, ....

- (1) UTY (2) WUY  
(3) VUZ (4) WUZ

69. The length of a wire is 66 metre, then the number of circles of circumference 1.32 cm that can be made from the wire is :

- (1) 1000 (2) 50  
(3) 500 (4) 5000

70. The sum of two numbers is 520. If the bigger number is decreased by 4% and the smaller number is increased by 12%, then the obtained numbers are equal, then smaller number is :

- (1) 210 (2) 240  
(3) 270 (4) 300

71. A cloth merchant on selling 33 metre of cloth obtains a profit equal to the selling price of 11 metre of cloth. The profit percentage is :

- (1) 11% ✓ (2) 22%  
(3) 50% (4) 40%

72. A said "that boy is the grandson of my mother's husband. I have no brother or sister." How is the boy related to A ?

- (1) Uncle  
(2) Son  
(3) Nephew  
(4) Cousin



[ B ]

73. निम्न श्रेणी में गलत संख्या ज्ञात कीजिए :

135, 226, 353, 552, 739  
 (1) 353 (2) 226  
 (3) 552 ✓ (4) 739

74. ₹ 5,000 पर 12% वार्षिक ब्याज की दर से 2 वर्ष के साधारण ब्याज एवं चक्रवृद्धि ब्याज में अन्तर होगा :

$\frac{5000 \times 12 \times 2}{100} = 1200$   
 $\frac{60 \times 12 \times 1}{100} = 72$   
 (1) ₹ 72 ✓  
 (2) ₹ 84  
 (3) ₹ 96  
 (4) ₹ 36

75. एक समचतुर्भुज का परिमाण 100 सेमी है और उसका एक विकर्ण 40 सेमी है, तो उसका क्षेत्रफल है :

- (1) 300 सेमी<sup>2</sup>  
 (2) 600 सेमी<sup>2</sup>  
 (3) 780 सेमी<sup>2</sup>  
 (4) 900 सेमी<sup>2</sup>

76. निम्नलिखित श्रेणी में गलत पद ज्ञात कीजिए :

G4T, J9R, M20P, P41N, S90L

- (1) J9R  
 (2) M20P  
 (3) P41N ✓  
 (4) S90L

[ 18 ]

73. Find the *wrong* number in the following series :

135, 226, 353, 552, 739

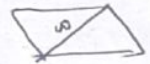
- (1) 353 (2) 226  
 (3) 552 (4) 739

74. The difference between simple interest and the compound interest compounded annually at the rate of 12% per annum on ₹ 5,000 for two years will be :

- (1) ₹ 72  
 (2) ₹ 84  
 (3) ₹ 96  
 (4) ₹ 36

75. The perimeter of a rhombus is 100 cm and one of its diagonal is 40 cm. Then its area is :

- (1) 300 cm<sup>2</sup>  
 (2) 600 cm<sup>2</sup>  
 (3) 780 cm<sup>2</sup>  
 (4) 900 cm<sup>2</sup> ✓



76. Find the *wrong* term of the following series :

G4T, J9R, M20P, P41N, S90L

- (1) J9R  
 (2) M20P  
 (3) P41N  
 (4) S90L

[ 19 ]

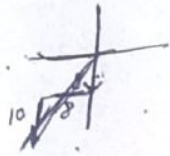
[ B ]

77. यदि  $W = 23$ ,  $STRONG = 93$ , तो  $WEAK$  बराबर है :

- (1) 40
- (2) 41
- (3) 43
- (4) 44

78. यदि एक व्यक्ति 8 किमी दक्षिण में जाकर दायीं तरफ मुड़कर 8 किमी जाता है, पुनः बायीं ओर मुड़कर 10 किमी चलता है, तो वह शुरुआती बिन्दु से किस दिशा में है ?

- (1) पूर्व-दक्षिण
- (2) उत्तर-पूर्व
- (3) उत्तर-दक्षिण
- (4) दक्षिण-पश्चिम ✓



79. यदि  $5a + \frac{1}{3a} = 5$ , तो  $9a^2 + \frac{1}{25a^2}$  का मान है :

- (1)  $\frac{51}{5}$
- (2)  $\frac{29}{5}$  ✓
- (3)  $\frac{52}{5}$
- (4)  $\frac{39}{5}$

$$5 \times 4 + \frac{1}{25 \times 4} = 20 + \frac{1}{100} = \frac{2000}{100} + \frac{1}{100} = \frac{2001}{100}$$

77. If  $W = 23$ ,  $STRONG = 93$ , then  $WEAK$  is equal to :

- (1) 40 ✓
- (2) 41
- (3) 43
- (4) 44

78. If a person walks 8 km towards South then turns right and walks 8 km, again turns left and walks 10 km. In which direction is he from starting point ?

- (1) East-South
- (2) North-East
- (3) North-South
- (4) South-West

79. If  $5a + \frac{1}{3a} = 5$ , then the value of  $9a^2 + \frac{1}{25a^2}$  is :

- (1)  $\frac{51}{5}$
- (2)  $\frac{29}{5}$
- (3)  $\frac{52}{5}$
- (4)  $\frac{39}{5}$



[ B ]

[ 20 ]

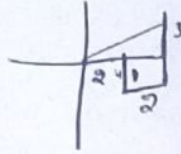
**80.** एक व्यक्ति पूर्व की ओर 2 किमी चलता है फिर वह दक्षिण दिशा में मुड़कर 1 किमी चलता है फिर वह पूर्व दिशा में मुड़कर 2 किमी चलता है, उसके बाद वह उत्तर दिशा में मुड़कर 4 किमी चलता है। अब वह प्रारम्भिक बिन्दु से कितनी दूर खड़ा है ?

(1) 5 किमी ✓

(2) 6 किमी

(3) 3 किमी

(4) 4 किमी



**81.** हरियाणा साहित्य अकादमी के बारे में अधोलिखित कथनों को पढ़िए :

(i) मुख्यमंत्री अकादमी के अध्यक्ष के रूप में कार्य करते हैं।

(ii) 'हरिगंधा' अकादमी की पत्रिका है।

सही कूट चुनिए :

(1) केवल कथन (i) सही है

(2) केवल कथन (ii) सही है

(3) न ही (i) और न ही (ii) सही है

(4) दोनों कथन सही हैं ✓

**82.** 'पंचवटी' नामक तीर्थस्थल हरियाणा में कहाँ स्थित है ?

(1) पलवल में ✓

(2) अंबाला में

(3) हथीन में

(4) बल्लभगढ़ में

**80.** A person walks 2 km towards East and then he turns to South and walk 1 km. Again he turns to East and walks 2 km after that he turns to North and walk 4 km. Now how far is he from his starting point ?

(1) 5 km

(2) 6 km

(3) 3 km

(4) 4 km

**81.** Read the following statements about Haryana Sahitya Academy :

(i) The Chief Minister serves as the President of the academy.

(ii) 'Harigandha' is the Magazine of the academy.

Choose the **correct** code :

(1) Only statement (i) is correct

(2) Only statement (ii) is correct

(3) Neither (i) nor (ii) is correct

(4) Both the statements are correct

**82.** Where the 'Panchwati' pilgrimage site is located in Haryana ?

(1) In Palwal

(2) In Ambala

(3) In Hathin

(4) In Ballabhgarh

[ 21 ]

[ B ]

83. 'चिंकारा प्रजनन केन्द्र' किस जिले में स्थित है ?

- (1) कैथल
- (2) पंचकुला
- (3) हिसार
- (4) भिवानी ✓

84. निम्नलिखित को सुमेलित कीजिए :

नाम	स्थान
(A) बीरबल का रंग महल	(i) नारनौल
(B) आध्यात्मिक संग्रहालय	(ii) गुरुग्राम
(C) चोर गुम्बद	(iii) यमुनानगर
(D) सोहना का किला	(iv) पानीपत

कूट:

- |           |       |       |        |
|-----------|-------|-------|--------|
| (A)       | (B)   | (C)   | (D)    |
| (1) (ii)  | (iii) | (iv)  | (i)    |
| (2) (iii) | (iv)  | (i)   | (ii) ✓ |
| (3) (iv)  | (ii)  | (iii) | (i)    |
| (4) (iii) | (ii)  | (i)   | (iv)   |

85. फरवरी, 2021 में आयोजित '36वीं राष्ट्रीय जूनियर एथलेटिक्स चैम्पियनशिप' में हरियाणा राज्य ने कितने स्वर्ण पदक जीते ?

- (1) 13
- (2) 18
- (3) 21 ✓
- (4) 24

83. In which district the 'Chinkara Breeding Centre' is situated ?

- (1) Kaithal
- (2) Panchkula
- (3) Hisar
- (4) Bhiwani

84. Match the following :

Name	Place
(A) Birbal's Rang Mahal	(i) Narnaul
(B) Spiritual Museum	(ii) Gurugram
(C) Chor Gumbad	(iii) Yamunanagar
(D) Sohna Fort	(iv) Panipat

Code :

- |           |       |       |      |
|-----------|-------|-------|------|
| (A)       | (B)   | (C)   | (D)  |
| (1) (ii)  | (iii) | (iv)  | (i)  |
| (2) (iii) | (iv)  | (i)   | (ii) |
| (3) (iv)  | (ii)  | (iii) | (i)  |
| (4) (iii) | (ii)  | (i)   | (iv) |

85. How many gold medals were won by Haryana state in the '36th National Junior Athletics Championship', which was held in February, 2021 ?

- (1) 13
- (2) 18
- (3) 21
- (4) 24



[ B ]

[ 22 ]

86. निम्नलिखित में से कौन हरियाणा के सर्वाधिक अवधि के लिए राज्यपाल रहे हैं ?

- (1) बी० एन० चक्रवर्ती ✓  
 (2) ए० आर० किदवाई  
 (3) जगन्नाथ पहाड़िया  
 (4) कप्तान सिंह सोलंकी

87. निम्नलिखित में से कौन-सा/कौन-से युग्म सही है/हैं ?

- (i) राज्य पशु – काला हिरण ✓  
 (ii) सरस्वती वन्य जीव अभयारण्य – कैथल ✓  
 (iii) नाहर वन्य जीव अभयारण्य – झज्जर ✗

सही कूट का चयन कीजिए :

- (1) केवल (i) (2) (i) और (iii)  
 (3) (i) और (ii) ✓ (4) केवल (iii)

88. 1857 की क्रान्ति के नायक अब्दुर्रहमान खाँ संबद्ध थे :

- (1) बहादुरगढ़ से (2) फर्रुखनगर से ✗  
 (3) झज्जर से ✓ (4) यमुनानगर से ✗

89. महिला खिलाड़ी को विवाह के अवसर पर 'मुख्यमंत्री विवाह शगुन योजना' के तहत दी जाने वाली राशि है :

- (1) 11,000 रुपये (2) 21,000 रुपये ✓  
 (3) 31,000 रुपये (4) 51,000 रुपये

90. हरियाणा की मंत्री परिषद् में न्यूनतम सदस्य हो सकते हैं :

- (1) 10 (2) 12  
 (3) 14 ✓ (4) 06

86. Who among the following was the longest serving Governor of Haryana ?

- (1) B. N. Chakraborty  
 (2) A. R. Kidwai  
 (3) Jagannath Pahadia  
 (4) Kaptan Singh Solanki

87. Which of the following pair/pairs is/are *true* ?

- (i) State Animal – Black buck  
 (ii) Saraswati Wild Life Sanctuary – Kaithal  
 (iii) Nahar Wild Life Sanctuary – Jhajjar

Choose the *correct* code :

- (1) Only (i) (2) (i) and (iii)  
 (3) (i) and (ii) (4) Only (iii)

88. The hero of 1857 Revolution Abdurrahman Khan was related to :

- (1) Bahadurgarh (2) Farrukhnagar  
 (3) Jhajjar (4) Yamunanagar

89. The amount which is given to the sports woman on the occasion of marriage under 'Mukhyamantri Vivah Shagun Yojna' :

- (1) Rs. 11,000 (2) Rs. 21,000  
 (3) Rs. 31,000 (4) Rs. 51,000

90. The minimum number of members in the Council of Minister of Haryana can be :

- (1) 10 (2) 12  
 (3) 14 (4) 06



[ 23 ]

[ B ]

## भाग - IV (PART - IV)

## अंग्रेजी (ENGLISH)

**Direction :** Answer the following questions by selecting the **most appropriate** option.

**91.** Choose the *correct* antonym of the word 'Benign' :

(1) Malign

(2) Gentle ✓

(3) Kind

(4) Mild

**92.** Match the phrases in Column A with their meaning in Column B :

A

B

(i) Broke out *b* (a) was not able to tolerate

(ii) In accordance with (b) began suddenly in a violent way

(iii) A Helping (c) assistance hand

(iv) Could not (d) acc. to a Stomach *a* particular rule, principle or system

(1) i-b, ii-d, iii-c, iv-a ✓

(2) i-a, ii-b, iii-c, iv-d ✗

(3) i-d, ii-c, iii-b, iv-a

(4) i-b, ii-c, iii-d, iv-a

**93.** The story, 'A Different Kind of School' talks about :

(1) Below Average Kids

(2) Differently Abled ✓

(3) Meritorious Kids

(4) None of the above

**94.** Convert the following positive sentence into comparative sentence :  
This knife is not as sharp as that one.

(1) This knife is sharper than that one. ✓

(2) This knife is sharper.

(3) That knife is sharpest of all.

(4) This knife is more sharper than that one.

**95.** Identify the figure of speech in the following lines :

"The Moan of doves in immemorial elms and murmuring of innumerable bees."

(1) Alliteration

(2) Assonance ✓

(3) Onomatopoeia *d*

(4) Simile



[ B ]

[ 24 ]

96. Fill in the blank with the *correct* article :

I went to ..... Church to see the Golden statue of Jesus Christ.

- (1) The ✓
- (2) A
- (3) An
- (4) Zero article

97. Who's the author of the story, "Three questions" ?

- (1) Leo Tolstoy
- (2) Ruskin Bond ✓
- (3) H. G. Wells
- (4) Graham Greene

98. Fill in the blank with the *correct* phrasal verb :

The car ..... when we were driving through the desert.

- (1) Broke down ✓
- (2) Break out
- (3) Broke off
- (4) Break in

99. Identify the underlined part of speech in the following sentence :

The moral law is above the civil.

- (1) Adverb
- (2) Preposition \*
- (3) Noun \*
- (4) Adjective ✓

100. Identify the *correct* sentence pattern of the given sentence :

They elected him chairman.

- (1) S + V + O + C ✓
- (2) S + V + O + O
- (3) S + V + C + C ✗
- (4) S + O + O + C ✗

**Direction :** Read the following poem and answer the questions given below (Q. Nos. 101-106) :

A silly young cricket, accustomed to sing through the warm, sunny months of gay summer and spring,

Began to complain when he found that, at home,

His cupboard was empty, and winter was come.

Not a crumb to be found on the snow-covered ground :

Not a flower could he see,

Not a leaf on a tree.

"Oh ! what will become, "Says the cricket, "of me ?"

At last by starvation and famine made bold, All dripping with wet, and all trembling with cold

Away he set off to a miserly ant,

To see if, to keep him alive, he would grant Him shelter from rain

And a mouthful of grain

He wished only to borrow;

He'd repay it tomorrow;

If not, he must die of starvation and sorrow.

[ 25 ]

[ B ]

**101.** For what did the cricket go to ant ?

- (1) To give him food
- (2) To give flowers and leaf on tree
- (3) To protect himself from sun
- (4) Shelter from rain and mouthful of grain ✓

**102.** What does the word "crumb" mean in the poem ?

- (1) A small piece of bread
- (2) A little stick
- (3) A protected area ✓
- (4) Something inedible

**103.** What did the cricket complain of ?

- (1) The warm sunny days ✗
- (2) The empty cupboards ✓
- (3) The boring surroundings ✗
- (4) Not able to sing ✗

**104.** A story with animals as characters, that conveys a moral is called :

- (1) A Lyric
- (2) A Fable ✓
- (3) An Anecdote
- (4) A Novel

**105.** The coming of 'which weather' made the cricket 'complain' ?

- (1) Winter ✓
- (2) Spring
- (3) Summer
- (4) Autumn

**106.** Pick out the word which means, "Severe suffering due to a lack of Nutrition" :

- (1) Trembling
- (2) Miserly ✗
- (3) Starvation ✓
- (4) Complain ✗

**107.** "Every year on the occasion of Eid, there was a fair in our village." These lines occur in which story ?

- (1) A Game of Chess
- (2) Eid Celebrations
- (3) Village Fair ✓
- (4) A Game of Chance

**108.** Choose the *correct* option for the underlined modal :We should go on a holiday.

- (1) Suggestion ✓
- (2) Permission
- (3) Ability ✗
- (4) Necessity ✗

**109.** Fill in the blank with the *correct* option :

India is a noble, generous land, teeming ..... natural wealth.

- (1) On
- (2) With ✓
- (3) For
- (4) At



[ B ]

- 110.** Which of the following is spelt *correctly* ?  
 (1) Enterttainment ✗  
 (2) Enviroonment ✗  
 (3) Juxtaposition ✓  
 (4) Numerology ✗
- 111.** Identify the phonetic symbol of the underlined sounds :  
gun come luck  
 (1) ^ (2) ð :  
 (3) μ : (4) ɔ ✓
- 112.** Identify the poet of the poem 'Vocation' from the choices given below :  
 (1) Rabindranath Tagore  
 (2) William Wordsworth ✓  
 (3) Sarojini Naidu  
 (4) John Keats
- 113.** Which of the word is *incorrectly* formed in plural ?  
 (1) Scarves  
 (2) Dwarves  
 (3) Handkerchiefs ✓  
 (4) Loavfs
- 114.** Identify the phonetic symbol of the underlined sounds :  
Thin, Method, Author  
 (1) θ (2) tʃ ✓  
 (3) F (4) ^

[ 26 ]

- 115.** Fill in the blank with the *correct* modal :  
 He ..... not enter my house again. (command)  
 (1) Shall ✗  
 (2) May  
 (3) Might  
 (4) Should ✓
- 116.** Where was Kalpana Chawla born ?  
 (1) Karnal ✓ (2) Sonipat  
 (3) Ambala (4) Gurugram
- 117.** Fill in the blank with the *correct* conjunction :  
 It is ..... useful ..... ornamental.  
 (1) Whether, or  
 (2) Both, or  
 (3) Neither, nor ✓  
 (4) Either, but also
- 118.** The word "Weird" in the story 'A Gift of Chappals' mean :  
 (1) Sweet  
 (2) Malicious  
 (3) Orthodox  
 (4) Strange ✓

[ 27 ]

[ B ]

**119.** The Magistrate was a man with a kindly nature.

Identify the underlined phrase.

- (1) Noun phrase
- (2) Adverb phrase ~~✗~~
- (3) Adjective phrase ✓
- (4) Participle phrase

**120.** How old was Evelyn when she went to the Royal Academy of Music ?

- (1) Seventeen
- (2) Twenty Two
- (3) Nineteen
- (4) Thirteen ✓

**121.** Identify the underlined word in the sentence :

We met a girl carrying a basket of flowers.

- (1) Noun
- (2) Participle ✓
- (3) Gerund
- (4) Infinitive

**122.** Fill in the blank with the *correct* preposition :

There was a beautiful lake ..... us in the valley.

- (1) Below ✗
- (2) Into ✗
- (3) Over ✗
- (4) With ✓

**123.** "My Childhood" is an extract from :

- (1) My family ✗
- (2) The solar system ✗
- (3) My Ambition
- (4) Wings of fire ✓

**124.** Write the Synonym of the word "Benevolent" :

- (1) Malevolent ✓
- (2) Harsh
- (3) Altruistic
- (4) Traitor ✗

**125.** Fill in the blank with the *correct* option :

The report must be read ..... so that the performance can be improved.

- (1) Sorrowfully
- (2) Awfully
- (3) Mischievously
- (4) Carefully ✓

**126.** Name the writer of the story, "The Banyan Tree" :

- (1) William James ✓
- (2) Anna Hathway
- (3) E.V. Lucas
- (4) Ruskin Bond



[ 18 ]

127. Early man was frightened of what in the chapter, "Fire, Friends and Foe" ?

- (1) Lightning and Volcanoes ✓
- (2) Fire
- (3) Rain and Thunderstorm
- (4) Animals

128. Which of the following is *not* a Collective Noun ?

- (1) Fleet
- (2) Crowd
- (3) Army
- (4) Childhood ✓

129. Choose the sentence which is grammatically *correct* ?

- (1) Between you and me, Mr Sharma is not to be trusted.
- (2) Between you and I, Mr Sharma is not to be trusted. ✓
- (3) Between I and me, Mr Sharma is not to be trusted.
- (4) Between you and you, Mr Sharma is not to be trusted.

130. Taro in the story, "Taro's Reward" is a :

- (1) Woodcutter
- (2) Painter ✓
- (3) Magician
- (4) Gatekeeper

[ 28 ]

131. The story, 'A visit to Cambridge' is a meeting between :

- (1) Firdaus Kanga and Issac Newton
- (2) Stephen Hawking and Marie Curie
- (3) Stephen Hawking and Firdaus Kanga ✓
- (4) Henry James and William Chang

132. Which of the following is spelt *correctly* ?

- (1) Conoiseur ✓
- (2) Conooiseur
- (3) Connoisseur
- (4) Conoisieur

133. Who is the poet of the poem, "The School Boy" ?

- (1) William Blake
- (2) William Wordsworth ✓
- (3) William Henry
- (4) William James ✓

134. What did the writer find in the secret drawer in the story, "The Best Christmas Present in the World" ?

- (1) A Necklace ✗
- (2) Jim's Last Letter ✓
- (3) Jim's autobiography
- (4) A pen ✗

[ 29 ]

[ B ]

**135.** Identify the grammatically *correct* sentence :

- (1) All the passengers, with the driver, is killed in the accident,
- (2) All the passengers, with the driver, be killed in the accident.
- (3) All the passengers, with the driver, were killed in the accident. ✓
- (4) All the passengers, with the driver, was killed in the accident.

**136.** A poem of 14 lines is called :

- (1) An Elegy,
- (2) An Epic
- (3) An Allegory
- (4) A Sonnet ✓

**137.** Why does Jody want to bring the fawn home ?

- (1) To beat it
- (2) To raise it
- (3) To gift it to his friend
- (4) To show his father his bravery ✓

**138.** Fill in the blank with *correct* determiner :

I have quite ..... books on art.

- (1) Little
- (2) A few ✓
- (3) The
- (4) This

**139.** Put the verb in the *correct* form :  
It ..... since early morning.

- (1) has been raining ✓
- (2) have been raining
- (3) had rained
- (4) is been raining ✗

**140.** Fill in the blank with *correct* preposition :

Most people work ..... nine to five.

- (1) Since
- (2) At
- (3) For
- (4) From ✓

**141.** Match the words and phrases in Column A & B :

A	B
(i) Homesick	(a) Terrible
(ii) Ghastly	(b) In pain
(iii) Gradually	(c) Wanting to be home
(iv) Painfully	(d) Slowly
(1) i-d, ii-c, iii-b, iv-a	
(2) i-c, ii-a, iii-d, iv-b ✓	
(3) i-a, ii-b, iii-c, iv-d	
(4) i-b, ii-a, iii-c, iv-d	

**142.** Complete the blank phrase with a suitable word :

A ..... of ships.

- (1) Fleet ✓
- (2) Bundle
- (3) Pack
- (4) Herd



[ B ]

**143.** Name the poem that talks about making choices and the choices that shape us :

- (1) The Road not taken
- (2) Wind
- (3) The Lake isle of Innisfree
- (4) Rain on the Roof ✓

**144.** Fill in the blank with *appropriate* modal :

When I was young I ..... climb any tree in the forest. (Past ability).

- (1) Could ✓
- (2) Can
- (3) Might
- (4) May

**145.** Fill in the blank with the *correct* option :

Thieves broke ..... my house.

- (1) Into ✓
- (2) At
- (3) Onto
- (4) Under

**146.** What does the phrase, "Hue and cry" mean ?

- (1) To be kind ✕
- (2) To Hit someone ✕
- (3) Angry protest ✓
- (4) Welcome gesture ✕

[ 30 ]

**147.** The antonym of the word 'Triumph' is :

- (1) Success
- (2) Conquest
- (3) Win
- (4) Defeat ✓

**148.** Transform the following into a negative sentence :

Only a fool could have done it.

- (1) Nobody other than a fool will do it.
- ~~(2) None but a fool could have done it.~~
- ~~(3) Not a fool is going to do it.~~
- (4) None, not only a fool could do it. ✓

**149.** "The bicycle goes easily enough in the morning and a little stuffy after lunch." The remark is :

- (1) Humiliating
- (2) Humorous
- (3) Sarcastic ✓
- (4) Pinching ✕

**150.** The *correct* synonym of the word 'Innocuous' is :

- (1) Nocuous
- (2) Harmless ✓
- (3) Toxic
- (4) Harmful