

HWA-2023/C5

(2)

भाग I/Part I

सामान्य जागरूकता/General Awareness

1. यूनिफाइड डिस्ट्रिक्ट इंफॉर्मेशन सिस्टम फॉर एजुकेशन+ (UDISE+) के बारे में निम्नलिखित में से कौन-सा/से कथन सही है/हैं ?

- I. यह (UDISE+) स्कूल शिक्षा और साक्षरता विभाग, शिक्षा मंत्रालय, भारत सरकार द्वारा शुरू किए गए सबसे बड़े मैनेजमेंट इंफॉर्मेशन सिस्टमों में से एक है।
- II. पूरा सिस्टम ऑनलाइन है और 2014 - 15 से रीयल-टाइम में डाटा एकत्र कर रहा है।
- III. UDISE+ इंफॉर्मेशन का उपयोग योजना बनाने, साधन आबंटन को इष्टतम बनाने और अनेक शिक्षा संबंधी कार्यक्रमों को लागू करने तथा प्रगति का आकलन करने में किया जाता है।

निम्नलिखित में से सही उत्तर का चयन कीजिए :

- | | |
|----------------------------|---------------------------|
| (1) केवल II और III सही हैं | (2) केवल I और III सही हैं |
| (3) केवल I सही है | (4) केवल I और II सही हैं |

Which of the following statements is/are correct about Unified District Information System for Education+ (UDISE+) ?

- I. UDISE+ is one of the largest Management Information Systems initiated by the Department of School Education and Literacy, Ministry of Education, Government of India.
- II. The entire system is online and has been collecting data in real-time since 2014 - 15.
- III. UDISE+ information is utilized for planning, optimizing resource allocation and implementing various education related programs and assessing the progress.

Select the correct answer from the following :

- | | |
|---------------------------------|--------------------------------|
| (1) Only II and III are correct | (2) Only I and III are correct |
| (3) Only I is correct | (4) Only I and II are correct |

2. परियोजना मूल्यांकन (प्रोजेक्ट अप्रैजल), बजट बनाना (बजटिंग), उपलब्धियाँ (एचीवमेंट्स) और डाटा हैंडलिंग सिस्टम (PRABANDH) किसके अंतर्गत आता है ?

- (1) राष्ट्रीय उच्चतर शिक्षा अभियान (आर यू एस ए)
- (2) उच्चतर शिक्षा विभाग, शिक्षा मंत्रालय, भारत सरकार
- (3) समग्र शिक्षा
- (4) वित्त मंत्रालय, भारत सरकार

Project Appraisal, Budgeting, Achievements and Data Handling System (PRABANDH) is under

- (1) Rashtriya Uchcharat Shiksha Abhiyan (RUSA)
- (2) Department of Higher Education, Ministry of Education, GoI
- (3) Samagra Shiksha
- (4) Ministry of Finance, GoI

3. निम्नलिखित में से कौन-सी एक अधातु है ?

- | | | | |
|-----------|--------------|----------------|---------------|
| (1) सल्फर | (2) कैल्शियम | (3) मैग्नीशियम | (4) ऐलुमिनियम |
|-----------|--------------|----------------|---------------|

Which of the following is a non-metal ?

- | | | | |
|-------------|-------------|---------------|---------------|
| (1) Sulphur | (2) Calcium | (3) Magnesium | (4) Aluminium |
|-------------|-------------|---------------|---------------|



4. निम्नलिखित कथनों पर विचार कीजिए :

- I. भारत के संविधान के अनुसार, प्रत्येक राज्य को राज्य सभा में समान संख्या में सीटें प्रदान की गई हैं ।
II. भारत के संविधान के अनुसार, राज्य सभा में राज्यों और संघ राज्य-क्षेत्रों, दोनों, को सीटें आवंटित की गई हैं ।

निम्नलिखित में से सही उत्तर का चयन कीजिए :

- (1) I तथा II दोनों सही हैं ।
(2) I ग़लत है, किन्तु II सही है ।
(3) न तो I सही है और न ही II ।
(4) I सही है, किन्तु II ग़लत है ।

Consider the following statements :

- I. As per the Constitution of India, the number of seats assigned to each of the States in the Rajya Sabha is the same.
II. As per the Constitution of India, seats are allocated in the Rajya Sabha to both, States and the Union Territories.

Select the correct answer from the following :

- (1) Both I and II are correct.
(2) I is wrong, but II is correct.
(3) Neither I nor II is correct.
(4) I is correct, but II is wrong.

5. भारत में, न्यायपालिका को संसद द्वारा पारित कानूनों को रद्द करने की शक्ति प्राप्त है । निम्नलिखित में से कौन-सी संकल्पना इस शक्ति को स्पष्ट करती है ?

- (1) 'अपवाद' का सिद्धान्त
(2) अपीलीय न्यायिक प्रणाली
(3) न्यायिक सक्रियता
(4) न्यायिक समीक्षा

In India, the judiciary has the power to strike down laws passed by the Parliament. Which of the following concepts explains this power ?

- (1) Doctrine of 'exception'
(2) Appellate Judicial System
(3) Judicial Activism
(4) Judicial Review

6. निम्नलिखित में से किसे मरणोपरांत 2023 का पद्म विभूषण पुरस्कार प्रदान किया गया था ?

- (1) मुलायम सिंह यादव
(3) राहुल बजाज

- (2) बिपिन रावत
(4) एस.पी. बालासुब्रह्मण्यम

Who among the following was posthumously awarded the Padma Vibhushan Award for 2023 ?

- (1) Mulayam Singh Yadav
(3) Rahul Bajaj

- (2) Bipin Rawat
(4) S.P. Balasubrahmanyam

HWA-2023/C5

(4)

7. राष्ट्रीय परिवार स्वास्थ्य सर्वेक्षण के अनुसार, भारत के 2022 - 23 के आर्थिक सर्वेक्षण में उल्लेखित, निम्नलिखित में से किस स्वास्थ्य संकेतक में 2015 - 16 की तुलना में, 2019 - 21 के सर्वेक्षण के परिणामों में वृद्धि दर्शाई गई है ?

- (1) पाँच वर्ष से कम आयु के कम वज़न वाले बच्चों
- (2) पाँच वर्ष से कम आयु के अविकसित बच्चों में
- (3) पाँच वर्ष से कम आयु के अधिक वज़न वाले बच्चों में
- (4) पाँच वर्ष से कम आयु के बच्चों की मृत्यु दर में

According to the National Family Health Survey, which of the following health indicators has shown an increase, in the survey results of 2019 - 21, compared to 2015 - 16, as per the Economic Survey of India 2022 - 23 ?

- (1) Children under 5 years who are underweight
- (2) Children under 5 years who are stunted
- (3) Children under 5 years who are overweight
- (4) Under-five mortality rate

8. जापानी भाषा में 'हार्बर वेव्स' (Harbour Waves) को किस नाम से जाना जाता है ?

- (1) तूफ़ान (हरीकेन)
- (2) सुनामी
- (3) प्रचंड तूफ़ान (टाइफ़ून)
- (4) चक्रवात

'Harbour waves' are known as _____, in Japanese language.

- (1) Hurricane
- (2) Tsunami
- (3) Typhoon
- (4) Cyclone

9. 25 मई से 3 जून, 2023 के बीच आयोजित खेलो इंडिया यूनिवर्सिटी गेम्स में निम्नलिखित में से कौन-सी यूनिवर्सिटी ने सर्वाधिक संख्या में स्वर्ण पदक जीते ?

- (1) जैन यूनिवर्सिटी, कर्नाटक
- (2) गुरु नानक देव यूनिवर्सिटी, अमृतसर
- (3) पंजाबी यूनिवर्सिटी, पटियाला
- (4) पंजाब यूनिवर्सिटी, चंडीगढ़

Among the following Universities, which University won the highest number of gold medals in the Khelo India University Games, held between May 25 to June 3, 2023 ?

- (1) Jain University, Karnataka
- (2) Guru Nanak Dev University, Amritsar
- (3) Punjabi University, Patiala
- (4) Panjab University, Chandigarh

10. जलवायु परिवर्तन निष्पादन सूचकांक (CCPI) 2023 में निम्नलिखित में से कौन-से G20 देश का प्रदर्शन सबसे अच्छा रहा है ?

- (1) दक्षिण कोरिया
- (2) रूस
- (3) भारत
- (4) कनाडा

Among the following G20 countries, which is the highest performer in Climate Change Performance Index (CCPI) 2023 ?

- (1) South Korea
- (2) Russia
- (3) India
- (4) Canada

(5)

भाग II/Part II

तर्क क्षमता/Reasoning Ability

11. एक आदमी अपने कार्यालय से दक्षिण दिशा की ओर 10 किमी गाड़ी चलाता है, फिर वह पूर्व दिशा की ओर मुड़ता है और 4 किमी गाड़ी चलाता है। वहाँ से वह उत्तर दिशा की ओर मुड़ता है और 7 किमी गाड़ी चलाता है। वह अपने कार्यालय से कितनी दूर व किस दिशा में है ?

- (1) 5 किमी दक्षिण-पूर्व
(3) 4 किमी दक्षिण-पश्चिम

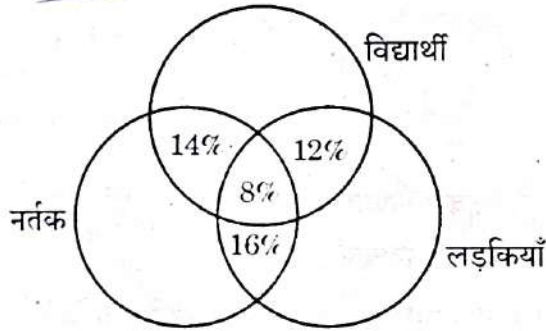
- (2) 5 किमी दक्षिण-पश्चिम
(4) 3 किमी दक्षिण-पूर्व

A man drives 10 km in South direction from his office, then turns towards East and drives 4 km. From there, he turns towards North and drives 7 km. How far and in which direction is he from his office ?

- (1) 5 km South-East
(3) 4 km South-West

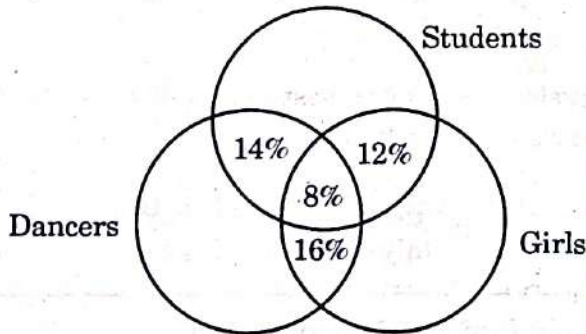
- (2) 5 km South-West
(4) 3 km South-East

12. दिए गए आरेख में 12% वे लड़कियाँ हैं जो विद्यार्थी भी हैं, 14% वह विद्यार्थी हैं जो नर्तक भी हैं और 16% वह लड़कियाँ हैं जो नर्तक भी हैं। 8% वह लड़कियाँ हैं जो विद्यार्थी व नर्तक दोनों हैं। कितने प्रतिशत केवल लड़कियाँ, केवल विद्यार्थी और केवल नर्तक हैं ?



- (1) 72, 74, 70 (2) 80, 78, 76 (3) 64, 74, 80 (4) 64, 66, 62

In the given figure, 12% are those girls who are students too, 14% are students who are dancers too and 16% girls are those who are dancers too. 8% are the girls who are both students and dancers. What percentage are only girls, only students and only dancers ?



- (1) 72, 74, 70 (2) 80, 78, 76

64, 74, 80

- (4) 64, 66, 62

रफ़ कार्य के लिए जगह / SPACE FOR ROUGH WORK

(6)



HWA-2023/C5

13. पाँच मित्रों A, B, C, D और E के अलग-अलग शौक — गायन, नृत्य, चित्रकारी, लेखन और सिलाई करना है, किन्तु इसी क्रम में नहीं है। 'A' और 'C' को न तो गायन पसंद है और न ही नृत्य। 'B' और 'E' को चित्रकारी और सिलाई का शौक नहीं है। 'A' को लेखन और सिलाई का शौक नहीं है। 'D' और 'E' की नृत्य और सिलाई में रुचि नहीं है। 'D' को गायन पसंद नहीं है। 'C' को क्या शौक है ?

(1) नृत्य

(2) लेखन

(3) सिलाई

(4) चित्रकारी

Five friends A, B, C, D and E have different hobbies — singing, dancing, painting, writing and sewing, but not in the same order. 'A' and 'C' like neither singing nor dancing. 'B' and 'E' do not have the hobbies of painting and sewing. Writing and sewing are not the hobbies of 'A'. 'D' and 'E' are not interested in dancing and sewing. 'D' does not like singing. What is the hobby of 'C' ?

(1) Dancing

(2) Writing

(3) Sewing

(4) Painting

14. निम्नलिखित प्रश्न में, विभिन्न तत्वों के बीच का संबंध कथनों में दर्शाया गया है, जिसके बाद दो निष्कर्ष I व II दिए गए हैं। कथनों को सत्य मानते हुए, निश्चय कीजिए कि कौन-सा/से निष्कर्ष अवश्य ही सत्य है/हैं।

कथन :

1. $M < O = N \leq E > Y$ ✓2. $S > A \geq C = D \geq N$ ✓

निष्कर्ष :

I. $O \leq D$ II. $A > M$

(1) निष्कर्ष I व II दोनों सत्य हैं

(2) केवल निष्कर्ष II सत्य है

(3) या तो निष्कर्ष I या निष्कर्ष II सत्य है

(4) केवल निष्कर्ष I सत्य है

In the following question, a relationship between different elements is shown in the statements, followed by two conclusions I and II. Assuming the statements to be true, decide which of the conclusion(s) is/are definitely true.

Statements :

1. $M < O = N \leq E > Y$ 2. $S > A \geq C = D \geq N$

Conclusions :

I. $O \leq D$ II. $A > M$

(1) Both conclusions I and II are true

(2) Only conclusion II is true

(3) Either conclusion I or conclusion II is true

(4) Only conclusion I is true

रफ़ कार्य के लिए जगह

SPACE FOR ROUGH WORK

#15332963



(7)

15. यदि 'O', 'M' की पुत्री है; 'N', 'O' का भाई है; 'K', 'N' का पिता है और 'F', 'K' की माता है; तो 'F', 'M' से किस तरह संबंधित है ?

(4) माता

(1) सास

(2) बहन

(3) ननद

If 'O' is 'M's daughter; 'N' is 'O's brother; 'K' is 'N's father and 'F' is 'K's mother; then how is 'F' related to 'M' ?

(1) Mother-in-law

(2) Sister

(3) Sister-in-law

(4) Mother

16. नीचे एक प्रश्न दिया गया है जिसके पश्चात् दो कथन I और II, प्रत्येक कुछ जानकारी सहित दिए गए हैं। निर्णय कीजिए कि कौन-सा/से कथन प्रश्न का उत्तर देने हेतु पर्याप्त है/हैं?

a का मूल्य/मान क्या है ?

कथन :

I. $2a + 2b = 4 - 2(a - b)$

II. $a + 3b = 2a - 2$

- (1) दोनों कथन I और II इकट्ठे प्रश्न का उत्तर देने के लिए आवश्यक हैं।
- (2) कथन II अकेले ही प्रश्न का उत्तर देने के लिए पर्याप्त है, जबकि कथन I अकेले प्रश्न का उत्तर देने के लिए पर्याप्त नहीं है।
- (3) या तो कथन I अकेले या कथन II अकेले प्रश्न का उत्तर देने के लिए पर्याप्त है।
- (4) कथन I अकेले ही प्रश्न का उत्तर देने के लिए पर्याप्त है, जबकि कथन II अकेले प्रश्न का उत्तर देने के लिए पर्याप्त नहीं है।

Given below is a question followed by two statements numbered I and II, each containing some information. Decide which of the statement(s) is/are sufficient to answer the question.

What is the value of a ?

Statements :

I. $2a + 2b = 4 - 2(a - b)$

II. $a + 3b = 2a - 2$

- (1) Both statements I and II together are necessary to answer the question.
- (2) Statement II alone is sufficient to answer the question, while statement I alone is not sufficient to answer the question.
- (3) Either statement I alone or statement II alone is sufficient to answer the question.
- (4) Statement I alone is sufficient to answer the question, while statement II alone is not sufficient to answer the question.

रफ़ कार्य के लिए जगह / SPACE FOR ROUGH WORK

#1532963

#1532963

#1532963

HWA-2023/C5

(8)

17. नीचे एक प्रश्न दिया गया है जिसके पश्चात् दो कथन I और II, प्रत्येक कुछ जानकारी सहित, दिए गए हैं। निर्णय कीजिए कि कौन-सा/से कथन प्रश्न का उत्तर देने हेतु पर्याप्त है/हैं ?

A, B और C की आयु का कुल योगफल 65 वर्ष है। B की आयु क्या है ?

कथन :

I. B, A से 15 वर्ष छोटा है।

II. C, 40 वर्ष का है।

- (1) दोनों कथन I और II इकट्ठे प्रश्न का उत्तर देने के लिए आवश्यक हैं।
- (2) कथन II अकेले ही प्रश्न का उत्तर देने के लिए पर्याप्त है, जबकि कथन I अकेले प्रश्न का उत्तर देने के लिए पर्याप्त नहीं है।
- (3) या तो कथन I अकेले या कथन II अकेले प्रश्न का उत्तर देने के लिए पर्याप्त है।
- (4) कथन I अकेले ही प्रश्न का उत्तर देने के लिए पर्याप्त है, जबकि कथन II अकेले प्रश्न का उत्तर देने के लिए पर्याप्त नहीं है।

Given below is a question followed by two statements numbered I and II, each containing some information. Decide which of the statement(s) is/are sufficient to answer the question.

The sum of ages of A, B and C is 65 years. What is B's age ?

Statements :

I. B is 15 years younger than A.

II. C is 40 years old.

- (1) Both statements I and II together are necessary to answer the question.
- (2) Statement II alone is sufficient to answer the question, while statement I alone is not sufficient to answer the question.
- (3) Either statement I alone or statement II alone is sufficient to answer the question.
- (4) Statement I alone is sufficient to answer the question, while statement II alone is not sufficient to answer the question.

रफ़ कार्य के लिए जगह / SPACE FOR ROUGH WORK

(9)

18. नीचे दिए गए प्रश्न में एक कथन दिया गया है, जिसके बाद कार्यवाही की दो योजनाएँ I और II दी गई हैं। यह मानते हुए कि कथन में दी गई पूरी जानकारी सही है, निर्णय कीजिए कि दी गई दोनों कार्यवाही की योजनाओं में से कौन-सी तार्किक रूप से करने योग्य है/हैं।

कथन :

RTE अधिनियम के बावजूद, अनेक बच्चे अभी भी शिक्षा से वंचित हैं।

कार्यवाही की योजना :

- I. सरकार को RTE अधिनियम का प्रवर्तन सुनिश्चित करना चाहिए।
 - II. शैक्षिक रूप से वंचित बच्चों के माता-पिता को सजा दी जानी चाहिए।
- (1) I और II दोनों की जानी चाहिए।
 - (2) केवल II की जानी चाहिए।
 - (3) न तो I और न ही II की जानी चाहिए।
 - (4) केवल I की जानी चाहिए।

In the question below is given a statement followed by two courses of action, numbered I and II. It is assumed that everything in the statement is true. Then decide which of two given courses of action logically follow(s) for pursuing.

Statement :

Despite the RTE Act, many children are still deprived of education.

Courses of action :

- I. Government should ensure the enforcement of RTE Act.
 - II. Parents of educationally deprived children should be punished.
- (1) Both I and II follow for pursuing.
 - (2) Only II follows for pursuing.
 - (3) Neither I nor II follows for pursuing.
 - (4) Only I follows for pursuing.

रफ़ कार्य के लिए जगह / (SPACE FOR ROUGH WORK)

HWA-2023/C5

19. नीचे दो कथन दिए गए हैं और उन्हें अभिकथन (A) और तर्क (R) के रूप में दर्शाया गया है ।

अभिकथन (A) :

ऐड्रिनलीन (adrenaline) हॉर्मोन को आपातकालीन हॉर्मोन भी कहा जाता है ।

तर्क (R) :

ऐड्रिनलीन तत्काल ऊर्जा प्रदान करने के लिए कार्बोहाइड्रेट के उपापचय (मेटाबॉलिज़्म) को बढ़ाता है ।

नीचे दिए गए कूट की सहायता से सही उत्तर का चयन कीजिए :

- (1) (A) सही है, परन्तु (R) ग़लत है ।
- (2) (A) और (R) दोनों सही हैं, परन्तु (R), (A) की सही व्याख्या नहीं है ।
- (3) (A) ग़लत है, परन्तु (R) सही है ।
- (4) (A) और (R) दोनों सही हैं और (R), (A) की सही व्याख्या है ।

Two statements are given below and they are labelled as Assertion (A) and Reason (R).

Assertion (A) :

Adrenaline hormones are also called emergency hormones.

Reason (R) :

Adrenaline increases metabolism of carbohydrates to provide instant energy.

Select the correct answer with the help of the code given below :

- (1) (A) is true, but (R) is false.
- (2) Both (A) and (R) are true, but (R) is *not* the correct explanation of (A).
- (3) (A) is false, but (R) is true.
- (4) Both (A) and (R) are true and (R) is the correct explanation of (A).

रफ़ कार्य के लिए जगह / SPACE FOR ROUGH WORK

(11)

20.

निम्नलिखित प्रश्न में, विभिन्न तत्वों के बीच का संबंध कथनों में दर्शाया गया है, जिसके बाद दो निष्कर्ष I व II दिए गए हैं। कथनों को सत्य मानते हुए, निश्चय कीजिए कि कौन सा/से निष्कर्ष अवश्य ही सत्य है/हैं ?

कथन :

1. $F \leq I \leq B \geq R < E$
2. $L < O \leq F \geq A \geq T$

निष्कर्ष :

- I. $T < R$
- II. $L < B$

- (1) निष्कर्ष I व II दोनों सत्य हैं
- (3) या तो निष्कर्ष I या निष्कर्ष II सत्य है

- (2) केवल निष्कर्ष II सत्य है
- (4) केवल निष्कर्ष I सत्य है

In the following question, a relationship between different elements is shown in the statements followed by two conclusions I and II. Assuming the statements to be true, decide which of the conclusion(s) is/are definitely true.

Statements :

1. $F \leq I \leq B \geq R < E$
2. $L < O \leq F \geq A \geq T$

Conclusions :

- I. $T < R$
- II. $L < B$

- (1) Both conclusions I and II are true
- (3) Either conclusion I or conclusion II is true
- (2) Only conclusion II is true
- (4) Only conclusion I is true

21.

सोनाली अपने पुत्र को गाड़ी में उसके स्कूल (विद्यालय) दक्षिण की ओर ले जाती है, जो उसके घर से 5 किमी दूर है। स्कूल से वह पश्चिम की ओर बाजार की ओर मुड़ती है, जो स्कूल से 8 किमी दूर है। बाजार के बाद वह अपने दाईं ओर मुड़ती है और 1 किमी गाड़ी चलाकर फिर से दाईं ओर मुड़ती है और 11 किमी की दूरी तय करके अपने कार्यालय पहुँचती है। उसका कार्यालय उसके घर से कितनी दूर व किस दिशा की ओर है ?

- (1) 4 किमी दक्षिण-पश्चिम
- (3) 5 किमी दक्षिण-पूर्व
- (2) 5 किमी दक्षिण-पश्चिम
- (4) 4 किमी दक्षिण-पूर्व

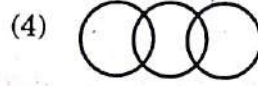
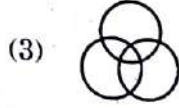
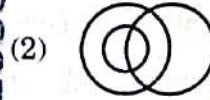

Sonali drove her son to his school towards South, which is 5 km away from her house. From school, she turned westward towards the market, which is 8 km away from school. After the market she turned to her right and drove 1 km more and then took a right turn again and covered 11 km to reach her office. How far and in which direction is her office from her house ?

- (1) 4 km South-West
- (3) 5 km South-East
- (2) 5 km South-West
- (4) 4 km South-East

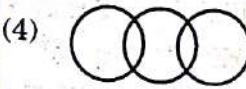
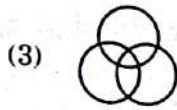
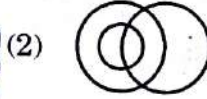

रफ़ कार्य के लिए जगह / SPACE FOR ROUGH WORK

HWA-2023/C5

22. उस आरेख की पहचान कीजिए, जो माताओं, स्त्रियों व स्नातकोत्तरों में संबंध सबसे अच्छी तरह दर्शाता हो।



Identify the diagram that best represents the relationship between mothers, women post-graduates.



23. उस पद का चयन कीजिए, जो प्रश्न चिह्न (?) को प्रतिस्थापित करे और दी गई शृंखला को पूर्ण करता हो।
A47U, B45R, E41O, ?, Q27I, Z17F

(1) J38E

(2) H35L

(3) J35L

(4) H38E

Select the term that replaces the question mark (?) and completes the given series.

A47U, B45R, E41O, ?, Q27I, Z17F

(1) J38E

(2) H35L

(3) J35L

(4) H38E

24. उस संख्या का चयन कीजिए, जो प्रश्न चिह्न (?) को प्रतिस्थापित करे और दी गई शृंखला को पूर्ण करती हो।
5, 18, 39, 68, ?, 150

(1) 115

(2) 105

(3) 120

(4) 101

Select the number that replaces the question mark (?) and completes the given series.

5, 18, 39, 68, ?, 150

(1) 115

(2) 105

(3) 120

(4) 101

रफ़ कार्य के लिए जगह / SPACE FOR ROUGH WORK

5/18/39/68/150

(13)

25. आठ पक्षी P, Q, R, S, T, U, V और N उत्तर दिशा की ओर मुँह करके एक पंक्ति में बैठे हुए हैं। 'T', 'P' के बायीं ओर चौथे स्थान पर बैठा है। 'S', 'N' के दायीं ओर चौथे स्थान पर बैठा है। 'R' और 'U' किसी छोर पर नहीं बैठे हैं, किन्तु वे क्रमशः 'Q' और 'T' के पड़ोसी हैं। 'N', 'P' के बायीं ओर अगले स्थान पर बैठा है और 'P', 'Q' का निकटतम पड़ोसी है। दायीं ओर सबसे अंत में कौन बैठा हुआ है ?

(1) S (2) N (3) Q (4) V

Eight birds P, Q, R, S, T, U, V and N are sitting in a row facing North. 'T' is fourth to the left of 'P'. 'S' is fourth to the right of 'N'. 'R' and 'U' are not sitting at the ends, but are neighbours of 'Q' and 'T' respectively. 'N' is next to the left of 'P' and 'P' is the immediate neighbour of 'Q'. Who is sitting on the extreme right ?

(1) S (2) N (3) Q (4) V

26. चार डॉक्टर N, M, Q और P तथा चार नर्सों A, B, C और D एक वृत्ताकार मेज़ के चारों ओर एक-दूसरे के सामने बैठे हुए हैं। कोई भी दो नर्सों अथवा दो डॉक्टर साथ-साथ नहीं बैठे हैं। 'P', 'D' और 'C' के बीच, 'M' के सामने बैठा है। 'A', 'M' और 'N' के बीच 'C' के सामने बैठी है। 'B', 'Q' के दायीं ओर बैठी है और 'N' के बायीं ओर तीसरे स्थान पर है। 'A' और 'B' के बीच कौन बैठा है ?

(1) Q (2) M (3) P (4) N

Four doctors N, M, Q and P and four nurses A, B, C and D are sitting around a circular table facing each other. No two nurses or two doctors are sitting side by side. 'P', who is sitting between 'D' and 'C', is facing 'M'. 'A' is sitting between 'M' and 'N' and facing 'C'. 'B' is sitting to the right of 'Q' and third to the left of 'N'. Who is sitting between 'A' and 'B' ?

(1) Q (2) M (3) P (4) N

27. यदि $A + B$ का अर्थ है कि 'B, A की पत्नी है',
 $A - B$ का अर्थ है कि 'A, B की माता है',
 $A \times B$ का अर्थ है कि 'A, B का पुत्र है',
तो दी गई अभिव्यक्ति में 'P', 'S' से किस तरह संबंधित है ?

$P \times Q + R - S$

(1) पिता (2) भाई (3) चचेरा भाई/ममेरा भाई (4) पुत्र

If $A + B$ means that 'B is the wife of A',
 $A - B$ means that 'A is the mother of B',
 $A \times B$ means that 'A is the son of B',
then how is 'P' related to 'S' in the given expression ?

$P \times Q + R - S$

(1) Father (2) Brother (3) Cousin (4) Son

रफ़ कार्य के लिए जगह / SPACE FOR ROUGH WORK

HWA-2023/C5

28. प्रश्न में दो कथन दिए गए हैं, जिनके बाद दो निष्कर्ष I और II दिए गए हैं। यह मानते हुए कि कथनों में दी गई जानकारी सही है, चाहे वह सामान्यतः ज्ञात तथ्यों से भिन्न क्यों न हो, यह निर्णय कीजिए कि दिए गए निष्कर्षों में से कौन-सा कथन से तार्किक रूप से निकलता है/निकलते हैं।

कथन :

1. सभी अध्यापक अच्छे व्यक्ति होते हैं।
2. सभी अध्यापक ईमानदार व्यक्ति होते हैं।

निष्कर्ष :

- I. सभी ईमानदार व्यक्ति अध्यापक हैं।
 - II. कुछ अच्छे व्यक्ति अध्यापक हैं।
- (1) निष्कर्ष I और II दोनों निकलते हैं।
 - (2) केवल निष्कर्ष II निकलता है।
 - (3) या तो निष्कर्ष I या निष्कर्ष II निकलता है।
 - (4) केवल निष्कर्ष I निकलता है।

Two statements are given followed by two conclusions, numbered I and II. Assuming that the information given in the statements is true, even if it seems at variance with commonly known facts, decide which of the given conclusions logically follow(s) from the statements.

Statements :

1. All teachers are good human beings.
2. All teachers are honest people.

Conclusions :

- I. All honest people are teachers.
 - II. Some good human beings are teachers.
- (1) Both conclusions I and II follow.
 - (2) Only conclusion II follows.
 - (3) Either conclusion I or conclusion II follows.
 - (4) Only conclusion I follows.

रफ़ कार्य के लिए जगह / SPACE FOR ROUGH WORK

#15332963

#15332963

#15332963

(15)



29. तीन फलों के समुच्चय का चयन किए जाने की ज़रूरत है। इन फलों का चयन सात फलों — केला, सेब, शरीफ़ा, गूज़बेरी, अनन्नास, आलूबुखारा और आम में से निम्नलिखित शर्तों के आधार पर किया जाना है :

- (i) यदि सेब या आम का चयन किया जाता है, तो उनमें से दूसरा भी चुना जाना चाहिए।
- (ii) शरीफ़ा और अनन्नास को एक साथ नहीं चुना जा सकता है।
- (iii) या तो शरीफ़ा अथवा आम या दोनों को अवश्य चुना जाना चाहिए।

यदि अनन्नास को चुना जाता है, तो निम्नलिखित अन्य किन दो फलों को भी चुना जाना चाहिए ?

- (1) आम और गूज़बेरी
- (2) सेब और आलूबुखारा
- (3) सेब और आम
- (4) केला और आम

A combination of three fruits needs to be chosen. The fruits must be chosen from seven fruits — Banana, Apple, Custard Apple, Gooseberry, Pineapple, Plum and Mango on the following conditions :

- (i) If Apple or Mango is chosen, the other one must also be chosen.
- (ii) Custard Apple and Pineapple cannot be chosen together.
- (iii) Either Custard Apple or Mango or both must be chosen.

If Pineapple is chosen, which of the following other two fruits must also be chosen ?

- (1) Mango and Gooseberry
- (2) Apple and Plum
- (3) Apple and Mango
- (4) Banana and Mango

रफ़ कार्य के लिए जगह / SPACE FOR ROUGH WORK



HWA-2023/C5

(16)

30. नीचे दो कथन दिए गए हैं और उन्हें अभिकथन (A) और तर्क (R) के रूप में दर्शाया गया है।

अभिकथन (A) :

कार्बन पेपर बनाने में ग्रेफाइट का प्रयोग किया जाता है

तर्क (R) :

ग्रेफाइट विद्युत का सुचालक है।

नीचे दिए गए कूट की सहायता से सही उत्तर का चयन कीजिए :

- (1) (A) सही है, परन्तु (R) गलत है।
- (2) (A) और (R) दोनों सही हैं, परन्तु (R), (A) की सही व्याख्या नहीं है।
- (3) (A) गलत है, परन्तु (R) सही है।
- (4) (A) और (R) दोनों सही हैं और (R), (A) की सही व्याख्या है।

Two statements are given below and they are labelled as Assertion (A) and Reason (R).

Assertion (A) :

Graphite is used in designing of carbon paper.

Reason (R) :

Graphite is a good conductor of electricity.

Select the correct answer with the help of the code given below :

- (1) (A) is true, but (R) is false.
- (2) Both (A) and (R) are true, but (R) is *not* the correct explanation of (A).
- (3) (A) is false, but (R) is true.
- (4) Both (A) and (R) are true and (R) is correct explanation of (A).

रफ़ कार्य के लिए जगह / SPACE FOR ROUGH WORK

#15332963

भाग III/Part III

आई.सी.टी. का ज्ञान/Knowledge of ICT

31. निम्नलिखित में से कौन-सा एक लोकप्रिय वेब ब्राउज़र (web browser) का उदाहरण नहीं है ?
- (1) इंटरनेट एक्सप्लोरर (Internet Explorer) ✓
 (2) मोज़िला फायरफॉक्स (Mozilla Firefox) ✓
 (3) माइक्रोसॉफ्ट एक्सेस (Microsoft Access)
 (4) गूगल क्रोम (Google Chrome) ✓

Which of the following is **not** an example of a popular web browser ?

- (1) Internet Explorer
 (2) Mozilla Firefox
 (3) Microsoft Access
 (4) Google Chrome

32. अधिकांश एम एस विंडोज (MS Windows) ऐप्लिकेशन में कुछ सिलेक्टेड टेक्स्ट को 'कॉपी' करने और उसे किसी अन्य स्थान पर 'पेस्ट' करने के लिए निम्नलिखित विकल्पों में से सर्वाधिक लोकप्रिय 'शॉर्टकट की' संयोजन कौन-सा है ?
- (1) Ctrl + C और Ctrl + V
 (2) Alt + C और Alt + V
 (3) Ctrl + V और Ctrl + C
 (4) Alt + V और Alt + C

The most popular combination of 'shortcut keys' to 'copy' some selected text and 'paste' the same at some other location in most of the MS Windows applications is :

- (1) Ctrl + C and Ctrl + V
 (2) Alt + C and Alt + V
 (3) Ctrl + V and Ctrl + C
 (4) Alt + V and Alt + C

33. एक बोर्डिंग हाउस के 100 छात्रों द्वारा पिछली कुछ परीक्षाओं में प्राप्त किए गए अंकों को संचित करने के लिए एक सारणीबद्ध शीट तैयार करने के लिए, जिसमें कुछ बुनियादी सांख्यिकीय और ग्राफीय विश्लेषण हो सके, निम्नलिखित सॉफ्टवेयर में से सामान्यतया सर्वाधिक प्राथमिकता किसे दी जाती है ?
- (1) एडोब प्रीमियर (Adobe Premiere)
 (2) एडोब एक्रोबैट (Adobe Acrobat)
 (3) एम एस पावरपॉइंट (MS PowerPoint)
 (4) एम एस एक्सेल (MS Excel)

Which of the following software is generally preferred most, to create a tabular sheet to store marks scored by 100 students of a boarding house in the last few examinations for some basic statistical and graphical analysis ?

- (1) Adobe Premiere
 (2) Adobe Acrobat
 (3) MS PowerPoint
 (4) MS Excel

34. किसी इमेज फाइल का एक स्टैंडर्ड फाइल एक्सटेंशन निम्नलिखित में से कौन-सा है ?
- (1) .pdf
 (2) .doc
 (3) .wav
 (4) .jpg

Which of the following is one of the standard file extensions of an image file ?

- (1) .pdf
 (2) .doc
 (3) .wav
 (4) .jpg

HWA-2023/C5

35. निम्नलिखित में से कौन-सा ऑपरेटिंग सिस्टम का एक लोकप्रिय उदाहरण है ?

- (1) एम एस एक्सेस (MS Access) (2) एम एस वर्ड (MS Word)
(3) एम एस विंडोज (MS Windows) (4) एम एस एक्सेल (MS Excel)

Which of the following is a popular example of an Operating System ?

- (1) MS Access (2) MS Word
(3) MS Windows (4) MS Excel

36. कम्प्यूटर की भाषा में, ROM का पूरा नाम है :

- (1) Random Optional Memory
(2) Read Oriented Memory
(3) Random Object Memory
(4) Read Only Memory

In computer terminology, ROM stands for :

- (1) Random Optional Memory
(2) Read Oriented Memory
(3) Random Object Memory
(4) Read Only Memory

37. यह एक प्रकार का मालवेयर (malware) है जिसे हम सामान्यतया एक वैध और उपयोगी एप के रूप में अपने स्मार्टफोन पर डाउनलोड करते हैं, किंतु वह आमतौर पर हमारे स्मार्टफोन को नियंत्रित कर लेता है और हमारी डाटा सुरक्षा नुकसान पहुंचाता है, उसकी चोरी करता है अथवा उसमें कुछ अन्य हानिकारक क्रिया करता है।

- (1) एडवेयर (Adware) (2) ट्रोजन (Trojan)
(3) स्पाईवेयर (Spyware) (4) स्पैम (Spam)

This is a type of malware that we download onto our smartphones, disguised as a legitimate and useful app, but usually takes control of our smartphones to damage, steal or in general inflict some other harmful action on our data security.

- (1) Adware (2) Trojan
(3) Spyware (4) Spam

38. निम्नलिखित में से कौन-सा एक इनपुट डिवाइस (उपकरण) नहीं है ?

- (1) प्लॉटर (Plotter) (2) माइक (Mike)
(3) स्कैनर (Scanner) (4) लाइट पेन (Light Pen)

Which of the following is *not* an input device ?

- (1) Plotter (2) Mike
(3) Scanner (4) Light Pen

#15332963

#15332963

#15332963

(19)

39. निम्नलिखित में से कौन-सा एक लोकप्रिय वेब-आधारित सर्च (search) इंजन का उदाहरण नहीं है ?

- (1) याहू (Yahoo)
(3) गूगल (Google)

- (2) एक्सेस (Access)
(4) बिंग (Bing)

Which of the following is **not** an example of a popular web-based search engine ?

- (1) Yahoo
(3) Google

- (2) Access
(4) Bing

40. कम्प्यूटरों में, DVD का पूरा नाम है :

- (1) Digital Voice Disc
(3) Dual Versatile Disc

- (2) Digital Versatile Disc
(4) Dual Video Disc

In computers, DVD stands for :

- (1) Digital Voice Disc
(3) Dual Versatile Disc

- (2) Digital Versatile Disc
(4) Dual Video Disc

41. 'हेल्थ एंड हाइजीन इन ए बोर्डिंग हाउस' विषय पर एक एनिमेटेड मल्टीमीडिया प्रेजेंटेशन तैयार करने के लिए निम्नलिखित सॉफ्टवेयर में से सामान्यतया सर्वाधिक प्राथमिकता किसे दी जाती है ?

- (1) एम एस पावरपॉइंट (MS PowerPoint)
(2) एम एस एक्सेल (MS Excel)
(3) एडोब एक्रोबैट (Adobe Acrobat)
(4) एम एस एक्सेस (MS Access)

Which of the following software is generally preferred most, to create an animated multimedia presentation on the topic 'Health and Hygiene in a Boarding House' ?

- (1) MS PowerPoint
(2) MS Excel
(3) Adobe Acrobat
(4) MS Access

42. कुछ बेसिक टेक्स्ट और पैराग्राफ फॉर्मेटिंग (बोल्ड, इटैलिक्स, अंडरलाइन, आदि) के साथ, विद्यालय के प्रधानाचार्य को एक हाउस रिपोर्ट लिखने के लिए निम्नलिखित सॉफ्टवेयर में से सामान्यतया सर्वाधिक प्राथमिकता किसे दी जाती है ?

- (1) एम एस एक्सेस (MS Access)
(3) एडोब प्रीमियर (Adobe Premiere)
- (2) एम एस वर्ड (MS Word)
(4) टैली (Tally)

Which of the following software is generally preferred most, to write a House Report to the Principal of the school, with some basic text and paragraph formatting (bold, italics, underline, etc.) ?

- (1) MS Access
(3) Adobe Premiere

- (2) MS Word
(4) Tally

HWA-2023/C5

(20)

43. कम्प्यूटर प्रणाली में राउटर (Router) क्या है ?

- (1) एक परिकलन उपकरण
(3) एक नेटवर्किंग उपकरण

- (2) एक आउटपुट उपकरण
(4) एक इनपुट उपकरण

What is a Router in a computer system ?

- (1) A calculating device
(3) A networking device

- (2) An output device
(4) An input device

44. निम्नलिखित में से कौन-सी एक वैध ईमेल आई डी (Email ID) नहीं हो सकती है ?

- (1) अनेक अंकों (डिजिट्स) वाली ईमेल आई डी ✓
(2) अनेक _ (अंडरस्कोर) वाली ईमेल आई डी ✓
(3) अनेक @ (ऐट-दि-रेट साइन) वाली ईमेल आई डी ✓
(4) अनेक . (डॉट्स) वाली ईमेल आई डी ✓

Which of the following **cannot** be a valid Email ID ?

- (1) An Email ID having multiple numbers (digits)
(2) An Email ID having multiple _ (underscore)
(3) An Email ID having multiple @ (at-the-rate sign)
(4) An Email ID having multiple . (dots)

45. एक प्रिंटर जैसे कुछ हार्डवेयर संसाधनों को साझा (share) करने हेतु एक स्विच (switch) और वायर केबल के माध्यम से एक कम्प्यूटर लैब में अनेक कम्प्यूटरों को जोड़ने के लिए सामान्यतया निम्नलिखित में से किस प्रकार का नेटवर्क तैयार किया जाता है ?

- (1) एल ए एन (LAN)
(3) पी ए एन (PAN)

- (2) एम ए एन (MAN)
(4) डब्ल्यू ए एन (WAN)

Which of the following networks is generally formed in a computer lab, where multiple computers are connected through a switch and wired cable to share some hardware resources like a printer ?

- (1) LAN
(3) PAN

- (2) MAN
(4) WAN

46. निम्नलिखित में से कौन-सा क्लाउड कम्प्यूटिंग (Cloud Computing) का एक लाभ नहीं है ?

- (1) कहीं से और हर जगह से रीयल-टाइम अभिगम्यता
(2) विभिन्न सहयोगियों द्वारा उन्नत सहयोग
(3) इंटरनेट (या नेटवर्क) कनेक्टिविटी पर आश्रित नहीं है
(4) बैकअप और डाटा को पुनःस्थापित करना आसान है

Which of the following is **not** an advantage of Cloud Computing ?

- (1) Real-time accessibility from anywhere and everywhere
(2) Improved collaboration by different contributors
(3) Does not depend on Internet (or network) connectivity
(4) Backup and restore data is easy

(21)

47. आजकल की कम्प्यूटर भाषा में, ए आई (AI) का लोकप्रिय पूरा नाम है :

- (1) Artificial Intelligence
- (2) Absolute Intelligence
- (3) Augmented Intelligence
- (4) Abstract Intelligence

In modern day computer terminology, AI popularly stands for :

- (1) Artificial Intelligence
- (2) Absolute Intelligence
- (3) Augmented Intelligence
- (4) Abstract Intelligence

48. निम्नलिखित में से कौन-सा अधिनियम भारत में ई-गवर्नेंस (e-governance) के लिए आरंभिक विधिक ढाँचा उपलब्ध कराता है ?

- (1) भारतीय दंड संहिता (Indian Penal Code)
- (2) गवर्नेंस अधिनियम (Governance Act)
- (3) आई टी (संशोधन) अधिनियम, 2008 (IT (Amendment) Act, 2008)
- (4) आई टी अधिनियम, 2000 (IT Act, 2000)

Which of the following Acts provides initial legal framework for e-Governance in India ?

- (1) Indian Penal Code
- (2) Governance Act
- (3) IT (Amendment) Act, 2008
- (4) IT Act, 2000

49. निम्नलिखित में से कौन-सा एक एंटीवायरस (antivirus) सॉफ्टवेयर ब्रांड का लोकप्रिय उदाहरण नहीं है ?

- (1) मैकैफी (McAfee)
- (2) नॉर्टन (Norton)
- (3) केस्पर्सकाई (Kaspersky)
- (4) टैली (Tally)

Which of the following is **not** a popular example of an antivirus software brand ?

- (1) McAfee
- (2) Norton
- (3) Kaspersky
- (4) Tally

50. स्टोरेज क्षमता (सबसे छोटे से शुरुआत करते हुए) अनुसार मेमोरी इकाई का सही आरोही क्रम निम्नलिखित में से कौन-सा है ?

- (1) GB < MB < KB
- (2) KB < MB < GB
- (3) GB < KB < MB
- (4) MB < KB < GB

Which of the following is the correct ascending order of memory unit as per the storage capacity (smallest comes first) ?

- (1) GB < MB < KB
- (2) KB < MB < GB
- (3) GB < KB < MB
- (4) MB < KB < GB

भाग IV/Part IV

POCSO तथा अन्य बच्चों की सुरक्षा से संबंधित भारत सरकार अधिनियम का ज्ञान

Knowledge of POCSO and other children safety related Acts of Government of India

51. निम्नलिखित कथनों पर विचार कीजिए :

(A) बालक श्रम (प्रतिषेध और विनियमन) अधिनियम, 1986 कतिपय रोजगारों में ही बालकों के नियोजन को प्रतिषिद्ध करता है ।

(B) अधिनियम के अंतर्गत ऑटोमोबाइल वर्कशॉप और गैराजों से संबंधित व्यवसाय बालकों के लिए प्रतिषिद्ध हैं । नीचे दिए गए कूट में से सही उत्तर का चयन कीजिए :

(1) (A) और (B) दोनों सही हैं

(3) न तो (A) सही है और न ही (B)

(2) (A) ग़लत है, लेकिन (B) सही है

(4) (A) सही है, लेकिन (B) ग़लत है

Consider the following statements :

(A) The Child Labour (Prohibition and Regulation) Act, 1986 prohibits the engagement of children only in certain employments.

(B) An occupation connected with automobile workshop and garages is prohibited for children under the Act.

Choose the correct answer from the codes given below :

(1) Both (A) and (B) are correct

(3) Neither (A) nor (B) is correct

(2) (A) is wrong, but (B) is correct

(4) (A) is correct, but (B) is wrong

52. लैंगिक अपराधों से बालकों का संरक्षण (POCSO) नियमावली, 2020 के अंतर्गत 'विशेष शिक्षक' कौन है ?

(1) दिव्यांग बालकों से वार्तालाप करने में प्रशिक्षित कोई व्यक्ति

(2) पोक्सो (POCSO) अधिनियम के अंतर्गत विचारण के लिए विशेष न्यायालय में संपर्क अधिकारी

(3) बाल कल्याण समिति द्वारा नियुक्त व्यक्ति

(4) यौन शिक्षा संबंधी विशेष प्रशिक्षु

Under The Protection of Children from Sexual Offences (POCSO) Rules, 2020, who is a 'special educator' ?

(1) A person trained in communication with children with disabilities

(2) The liaison officer in the special court for trials under the POCSO Act

(3) The person assigned by the Child Welfare Committee

(4) A special trainee on sex education

53. लैंगिक अपराधों से बालकों का संरक्षण (POCSO) अधिनियम, 2012 के संबंध में ग़लत कथन की पहचान कीजिए ।

(1) पोक्सो अधिनियम में लैंगिक अपराध प्रवेशन लैंगिक हमले तक सीमित नहीं है ।

(2) पोक्सो अधिनियम प्रत्येक बालक को सुने जाने का अधिकार देता है ।

(3) पोक्सो अधिनियम एक विशेष कानून है ।

(4) पोक्सो (POCSO) अधिनियम लिंग तटस्थ नहीं है ।

Identify the *incorrect* statement with regard to The Protection of Children from Sexual Offences (POCSO) Act, 2012.

(1) The definition of sexual offence in POCSO Act is not limited to penetrative sexual assault.

(2) POCSO Act provides every child, the right to be heard.

(3) POCSO Act is a special law.

(4) POCSO Act is not gender neutral.

(23)

54. निम्नलिखित कथनों पर विचार कीजिए :

- (A) दंड विधि (संशोधन) अधिनियम, 2013 ने भारतीय दंड संहिता में संशोधन किए हैं ✓
 (B) इसने 'व्यक्ति का दुर्व्यापार' अपराध को इस अर्थ तक संशोधित किया है कि पीड़ित की सहमति से हुए दुर्व्यापार को अपराध नहीं माना जाएगा।

नीचे दिए गए कूट में से सही उत्तर का चयन कीजिए :

- (1) (A) और (B) दोनों सही हैं
 (3) न तो (A) सही है और न ही (B)

- (2) (A) ग़लत है, लेकिन (B) सही है
 (4) (A) सही है, लेकिन (B) ग़लत है

Consider the following statements :

- (A) The Criminal Law (Amendment) Act, 2013 made amendments to the Indian Penal Code.
 (B) It amended the offence of "Trafficking of Person" to mean that trafficking with the consent of the victim will not be considered an offence.

Choose the correct answer from the codes given below :

- (1) Both (A) and (B) are correct
 (3) Neither (A), nor (B) is correct
 (2) (A) is wrong, but (B) is correct
 (4) (A) is correct, but (B) is wrong

55. बाल अधिकार संरक्षण आयोग अधिनियम, 2005 निम्नलिखित में से किसके गठन का उपबंध करता है ?

- (A) राष्ट्रीय बाल अधिकार संरक्षण आयोग
 (B) राज्य बाल अधिकार संरक्षण आयोग
 (C) जिला बाल अधिकार संरक्षण आयोग
 (D) बाल न्यायालयों

नीचे दिए गए कूट में से सही उत्तर का चयन कीजिए :

- (1) केवल (A), (B) और (C)
 (3) केवल (A), (B) और (D)

- (2) केवल (A) और (B)
 (4) केवल (A) और (C)

The Commissions for Protection of Child Rights Act, 2005 provides for the constitution of which of the following ?

- (A) National Commission for Protection of Child Rights
 (B) State Commission for Protection of Child Rights
 (C) District Commission for Protection of Child Rights
 (D) Children's Courts

Choose the correct answer from the codes given below :

- (1) (A), (B) and (C) only
 (3) (A), (B) and (D) only

- (2) (A) and (B) only
 (4) (A) and (C) only

56. बालकों के लिए राष्ट्रीय चार्टर (नेशनल चार्टर फॉर चिल्ड्रन), 2003 को निम्नलिखित में से किसके अंदर प्रतिज्ञा के अनुरूप घोषित किया गया था ?

- (1) समग्र शिक्षा अभियान
 (3) टीच इंडिया मिशन

- (2) सतत विकास लक्ष्य
 (4) नेशनल एजेंडा ऑफ गवर्नेंस

The National Charter for Children, 2003 was announced in accordance with the pledge in which of the following ?

- (1) Samagra Shiksha Abhiyan
 (3) Teach India Mission

- (2) Sustainable Development Goals
 (4) National Agenda of Governance

HWA-2023/C5

57. भारत के आर्थिक सर्वेक्षण, 2022-23 के अनुसार वर्ष 2020 में भारत में मृत्यु दर निम्नलिखित में से किन संकेतकों लिए सर्वाधिक थी ?

- (1) 5 वर्ष से कम मृत्यु दर
(2) नवजात मृत्यु दर
(3) अपरिपक्व नवजात मृत्यु दर
(4) शिशु मृत्यु दर

The mortality rate in India in 2020 was the highest for which of the following indicators, as per the Economic Survey of India, 2022-23 ?

- (1) Mortality Rate under 5 Years
(2) Neonatal Mortality Rate
(3) Early Neonatal Mortality Rate
(4) Infant Mortality Rate

58. राष्ट्रीय परिवार स्वास्थ्य सर्वेक्षण (2019-21) के अनुसार भारत में, जन्म के समय लिंग अनुपात क्या था ?

- (1) 935 (2) 931 (3) 940 (4) 927

According to the National Family Health Survey (2019 - 21) in India, what was the sex ratio at birth ?

- (1) 935 (2) 931 (3) 940 (4) 927

59. निःशुल्क और अनिवार्य बाल शिक्षा का अधिकार अधिनियम, 2009 के संबंध में निम्नलिखित में से कौन-सा कथन सही है ?

- (A) यह कानून आरंभिक और माध्यमिक स्तर के लिए निःशुल्क और अनिवार्य शिक्षा का प्रावधान करता है।
(B) अधिनियम में आरंभिक शिक्षा को कक्षा 1 से कक्षा 6 तक की शिक्षा के रूप में परिभाषित किया गया है।
(C) इस अधिनियम के अंतर्गत 6 से 14 वर्ष के आयु वर्ग को शामिल किया गया है।

नीचे दिए गए कूट में से सही उत्तर का चयन कीजिए :

- (1) केवल (A) और (B) (2) केवल (A) और (C) (3) केवल (C) (4) केवल (A)

Which of the following statements is correct regarding The Right of Children to Free and Compulsory Education Act, 2009 ?

- (A) The law provides for free and compulsory education for elementary and secondary stage.
(B) Elementary education is defined in the Act as education for class 1 to class 6.
(C) The age group covered by this Act is between 6 to 14 years.

Choose the correct answer from the codes given below :

- (1) (A) and (B) only (2) (A) and (C) only (3) (C) only (4) (A) only

60. बाल विवाह प्रतिषेध अधिनियम, 2006 के अंतर्गत एक जिला न्यायालय में बाल विवाह को रद्द कराने की याचिका किसके द्वारा दायर की जा सकती है ?

- (1) किसी भी सामाजिक रूप से सजग व्यक्ति द्वारा जिसने इस संविदा के एक बाल विवाह होने की जानकारी हो
(2) विवाह के किसी भी संविदाकारी पक्षकार द्वारा जो विवाह के समय बालक था
(3) उस क्षेत्र के थाना अधिकारी (SHO) द्वारा जहाँ बाल विवाह सम्पन्न हुआ हो
(4) केवल अवयस्क महिला द्वारा जो विवाह में एक संविदाकारी पक्षकार है

By whom can a petition for annulling a child marriage be filed in the District Court under The Prohibition of Child Marriage Act, 2006 ?

- (1) By any socially conscious individual who has information about a contract being a child marriage
(2) By either of the contracting party to the marriage, who was a child at the time of marriage
(3) By the Station House Officer (SHO) of the jurisdiction where the child marriage was solemnized
(4) Only by the minor woman who is a contracting party to the marriage

(25)

भाग V/Part V

प्रशासनिक अभिवृत्ति/Administrative Aptitude

61. छात्रावासों का मुख्य उद्देश्य निम्नलिखित में से कौन-सा है ?

- (1) माता-पिता को राहत प्रदान करना
- (2) कमजोर वर्गों का ध्यान रखना
- (3) शिक्षा को बढ़ावा देना
- (4) छात्रों को अध्ययन के लिए शांतिपूर्ण और अनुकूल वातावरण उपलब्ध कराना

Which one of the following is the main objective of Hostels ?

- (1) To give relief to parents
- (2) To take care of weaker sections
- (3) To promote education
- (4) To provide students a peaceful and congenial environment to pursue their studies

62. छात्रावास प्रशासन को कैसे सुधारा जा सकता है ?

- (1) प्रभावी पर्यवेक्षण द्वारा
- (2) छात्रावास के छात्रों से नियमित फीडबैक प्राप्त करके और उन्हें निर्णय लेने में शामिल करके
- (3) अनुशासन समितियों द्वारा
- (4) उपयुक्त धनराशि (कोष) प्रदान करके

How can one improve Hostel Administration ?

- (1) By effective supervision
- (2) By regular feedback from Hostel students and involving them in decision-making
- (3) By discipline committees
- (4) By providing adequate funds

63. छात्रावास जीवन का क्या लाभ है ?

- (1) सामाजीकरण और स्वतंत्र व्यवहार
- (2) यह सरकार का नीतिगत मामला है
- (3) निजता की कमी
- (4) यह छात्रों को आज़ादी देता है

What is the advantage of Hostel life ?

- (1) Socialisation and independent behaviour
- (2) It is Government policy matter
- (3) Lack of privacy
- (4) It provides freedom to students

64. बालिका छात्रावास में कौन-से सुरक्षा उपाय अपनाए जाने चाहिए ?

- (1) गेट बंद रखना
- (2) महिला वार्डन की व्यवस्था के साथ-साथ कड़ी सतर्कता
- (3) बालिकाओं की नियमित काउंसलिंग करना
- (4) अनुशासन समिति

What safety measures are to be adopted in a Girls' Hostel ?

- (1) Closure of gates
- (2) Provision of Lady Warden along with strict vigilance
- (3) Regular counselling for girl students
- (4) Discipline Committee

HWA-2023/C5

65. छात्रावास में शॉर्ट-सर्किट होने पर आपात स्थिति में, वार्डन क्या करेगा ?

- (1) उच्चाधिकारी से मंजूरी मिलने का इंतज़ार करेगा
- (2) केवल पैनलबद्ध इलेक्ट्रिशियन को बुला सकता है
- (3) घटनास्थल को छोड़कर भाग जाएगा
- (4) प्राथमिकता के आधार पर समस्या को दूर करने के लिए निजी इलेक्ट्रिशियन को बुला सकता है

In case of short-circuit in a Hostel in emergency conditions, the Warden :

- (1) Has to wait for approval from higher authority
- (2) Can only call an empanelled electrician
- (3) Will abscond from the scene
- (4) Can even call a private electrician to rectify the problem on priority

66. आधुनिक छात्रावास कक्ष कैसा होना चाहिए ?

- (1) कक्ष साफ-सुथरा हो तथा वहाँ पर LAN की सुविधा और इंटरनेट की व्यवस्था हो
- (2) अच्छा फर्नीचर हो
- (3) अच्छा वायु-संचार हो
- (4) नियमित रूप से सफाई हो

What should the modern Hostel room be like

- (1) Should be equipped with LAN facility and Internet along with hygiene
- (2) Good furniture
- (3) Good ventilation
- (4) Regular cleaning

67. छात्रावास मेस का मुख्य उद्देश्य क्या है ?

- (1) स्वच्छता
- (2) छात्रों को स्वास्थ्यकर और संतुलित भोजन उपलब्ध कराना
- (3) सुसज्जित होना
- (4) मेस की धनराशि (कोष) का समुचित रूप से उपयोग करना

What is the main objective of Hostel Mess ?

- (1) Cleanliness
- (2) To provide hygienic and balanced diet to the students
- (3) Well furnished
- (4) To utilise mess funds properly

68. छात्रावास में संपूर्ण सफाई हेतु मार्गदर्शन के लिए सामान्यतया उपयोग किए जाने वाले दस्तावेज़ का नाम बताइए।

- (1) मेस गाइड
- (2) मेस समिति नियम पुस्तिका
- (3) सेनिटरी गाइड
- (4) छात्रावास नियम पुस्तिका

Name the 'document' normally used for guiding overall cleanliness in the Hostel.

- (1) Mess Guide
- (2) Mess Committee Rule Book
- (3) Sanitary Guide
- (4) Hostel Rule Book

#15332963

(27)

69. निम्नलिखित में से कौन-सा छात्रावास कक्षा सामान-सूची का एक भाग है ?

- (1) वाई-फाई कंट्रोल
(2) छत का पंखा
(3) पुस्तकालयी पुस्तकें
(4) सी सी टी वी कैमरा

Which one of the following is a part of Hostel room inventory ?

- (1) Wi-Fi control
(2) Ceiling fan
(3) Library books
(4) CCTV camera

70. छात्रावास में मेस समिति का काम होता है :

- (1) समग्र पर्यवेक्षण
(2) नियमित बैठकें आयोजित करना
(3) छात्रावास में अनुशासन बनाकर रखना
(4) स्वास्थ्यकर और किफायती भोजन उपलब्ध कराना

The role of Mess Committee in the Hostel is :

- (1) overall supervision
(2) to conduct regular meetings
(3) to maintain discipline in Hostel
(4) to provide hygienic and cost-effective diet

71. छात्रावासों के सामान्य रखरखाव और स्वच्छता का प्रभारी कौन होता है ?

- (1) कार्यकारिणी समिति
(2) छात्रावास वार्डन
(3) अनुशासन समिति
(4) मेस समिति

Who is incharge of general upkeep and sanitation of Hostels ?

- (1) Executive Committee
(2) Hostel Warden
(3) Discipline Committee
(4) Mess Committee

72. सामान्य वित्तीय नियमावली (GFR) का संबंध है :

- (1) अनुमोदित डीलरों से मर्चे खरीदने से
(2) मेस नियमावली से
(3) छात्रावास में साफ-सफाई से
(4) छात्रावास में सांस्कृतिक कार्यक्रमों से

General Financial Rules (GFR) deals with :

- (1) Procurement of items from approved dealers
(2) Mess rules
(3) Sanitation in the Hostel
(4) Cultural programmes in the Hostel

#15332963

#15332963

#15332963

HWA-2023/C5

73. बालिका छात्रावास का वार्डन कौन होना चाहिए ?

- (1) पुरुष और महिला दोनों
(3) केवल पुरुष

- (2) केवल महिला
(4) सक्षम प्राधिकारी के स्व-निवेक पर

Who should be the Warden for Girls' Hostel ?

- (1) Both male and female
(3) Male only

- (2) Female only
(4) At the discretion of competent authority

74. छात्रावास में 'सामान-सूची प्रबंधन' का क्या प्रयोजन होता है ?

- (1) प्रशासनिक प्रयोजन
(3) सामान की हानि और चोरी को रोकना

- (2) बजट की तैयारी
(4) लेखा-परीक्षा संबंधी आवश्यकता

What is the purpose of 'Inventory Management' in the Hostel ?

- (1) Administrative purpose
(3) To prevent loss and theft

- (2) Budget preparation
(4) Audit requirement

75. छात्रावास में निम्नलिखित में से किस खरीददारी से बचा जाना चाहिए ?

- (1) अनुमोदित डीलरों से खरीददारी करना
(3) अनुमोदित बजट से खरीददारी करना

- (2) जी एफ आर प्रावधान
(4) खंडशः खरीददारी

Which one of the following purchases should be avoided in a Hostel ?

- (1) Purchase from approved dealers
(3) Purchase from approved budget

- (2) GFR provisions
(4) Piecemeal purchases

76. छात्रावास का प्रभारी कौन होता है ?

- (1) छात्रावास अधीक्षक/पर्यवेक्षक
(3) मेस सचिव

- (2) कुलपति
(4) वार्डन

Who is incharge of a Hostel ?

- (1) Hostel Supervisor
(3) Mess Secretary

- (2) Vice-Chancellor
(4) Warden

77. छात्रावास जीवन में निम्नलिखित में से कौन-सा सर्वाधिक आवश्यक है ?

- (1) प्रशासन द्वारा भयरहित और सहायक वातावरण उपलब्ध कराना
(2) अच्छी गुणवत्ता वाला भोजन
(3) प्रत्येक कक्ष में वाई-फाई की व्यवस्था करना
(4) छात्रावास में अच्छे पुस्तकालय की व्यवस्था करना

Which one of the following is the most essential in the Hostel life ?

- (1) The administration should provide a non-threatening and conducive environment
(2) Good quality food
(3) Providing Wi-Fi in every room
(4) Providing good library in the Hostel

#15332963

#15332963

#15332963

(29)



78. छात्रावासों में किशोरावस्था की समस्याओं/को कैसे दूर किया जा सकता है ?

- (1) पेशेवर विशेषज्ञों द्वारा नियमित काउंसलिंग कराकर
- (2) उन्हें छात्रावास से बाहर निकालकर
- (3) पूरी आज़ादी देकर
- (4) कड़े अनुशासन के माध्यम से

How can one address teenage problems in Hostels ?

- (1) Regular counselling by professional experts
- (2) By expelling them from the Hostel
- (3) Give full freedom
- (4) Through strict discipline

79. छात्रावासों में आम समस्या क्या हो सकती है ?

- (1) पुस्तकालयी पुस्तकों की कमी
- (2) उबाऊ जीवन
- (3) खराब रखरखाव
- (4) पर्यवेक्षण की कमी

What could be a common problem in Hostels ?

- (1) Lack of library books
- (2) Boring life
- (3) Poor maintenance
- (4) Lack of supervision

80. छात्रावास प्रबंधन में क्या शामिल नहीं है ?

- (1) छात्रावास कक्ष आबंटन
- (2) सुसज्जित बेडरूम
- (3) विद्यालय में प्रवेश
- (4) मेस आबंटन

Hostel management does **not** include :

- (1) Hostel room allotment
- (2) Furnished bedroom
- (3) School admissions
- (4) Mess allotment

81. छात्रावास मेस में स्टॉक प्राप्त करने का प्राधिकार किसे प्राप्त है ?

- (1) मेस प्रबंधक
- (2) प्रभारी छात्र
- (3) वार्डन
- (4) प्रधानाचार्य

Who is authorised to receive stock in Hostel Mess ?

- (1) Mess Manager
- (2) Student incharge
- (3) Warden
- (4) Principal

82. छात्रावास प्रबंधन में निम्नलिखित में से कौन-सी मद 'उपभोज्य' है ?

- (1) छत का पंखा
- (2) कुकिंग गैस
- (3) सूचना पट्ट
- (4) फर्नीचर

Which one of the following is a 'consumable' item in Hostel management ?

- (1) Ceiling fan
- (2) Cooking gas
- (3) Notice Board
- (4) Furniture

HWA-2023/C5

83. छात्रावास में प्रवेश के लिए क्या मानदंड होना चाहिए ?

- (1) छात्रावास में प्रवेश की अनुमोदित गाइडलाइंस के अनुसार
- (2) छात्र/छात्रा की जन्म-तिथि द्वारा
- (3) केवल बाहरी छात्र/छात्राएँ
- (4) लॉटरी पद्धति द्वारा

What should be the criteria for Hostel admission?

- (1) As per approved Hostel admission guideline
- (2) By date of birth of student
- (3) Only outstation students
- (4) By lottery system

#153332963

84. छात्रावास में रहने वाले छात्र/छात्रा के गंभीर रूप से बीमार पड़ने की स्थिति में, वार्डन का कर्तव्य है :

- (1) सक्षम प्राधिकारी की अनुमति की प्रतीक्षा करना
- (2) उसके माता-पिता को सूचित करना
- (3) मामले की अनदेखी करना
- (4) बीमार छात्र/छात्रा को तत्काल नज़दीकी अस्पताल में शिफ्ट करना

In case the Hosteler is seriously ill, the duty of the Warden is :

- (1) To wait for permission from the competent authority
- (2) Informing his/her parents
- (3) To ignore the issue
- (4) To shift the Hosteler immediately to the nearest Hospital

#53332963

85. छात्रावासों में सामान्यतया किस प्रकार के स्टॉक रजिस्ट्रों का रखरखाव किया जाता है ?

- (1) परिसंपत्ति रजिस्टर
- (2) वृक्ष रजिस्टर
- (3) रोकड़ बही
- (4) उपभोज्य और गैर-उपभोज्य

What type of stock registers are normally maintained in the Hostels ?

- (1) Asset Register
- (2) Tree Register
- (3) Cash Book
- (4) Consumable and non-consumable

86. छात्रावास में भोजन सूची (मेन्यू) का निर्धारण कौन करता

- (1) मेस समिति
- (3) वार्डन

Who fixes the food menu in the Hostel ?

- (1) Mess Committee
- (3) Warden

#153332963

- मेस सचिव
- छात्र नेता

- (2) Mess Secretary
- (4) Student leader

(31)

87. छात्रावास में निम्नलिखित में से कौन-सी मद 'गैर-उपभोज्य' है ?

- (1) तेल
(2) रेफ्रिजरेटर
(3) गेहूँ का आटा
(4) गैस

Which one of the following is a 'non-consumable' item in the Hostel ?

- (1) Oil
(2) Refrigerator
(3) Wheat flour
(4) Gas

88. छात्रावास में प्रवेश के लिए छात्रों की अधिक संख्या से कैसे निपटा जा सकता है ?

- (1) छात्रावास समिति के स्व-विवेक पर
(2) अत्यधिक छात्रावास शुल्क वसूल करके
(3) केवल एक विशेष श्रेणी के छात्रों को आबंटित करके
(4) मेरिट के आधार पर छात्रों की संख्या सीमित करके

How can one handle large number of students in Hostel admissions ?

- (1) Hostel Committee, at its discretion
(2) By charging excess Hostel fees
(3) By allotting only a particular category of students
(4) By restricting the number of students based on merit

89. छात्रावास के छात्र/छात्राओं में अनुशासनहीनता से किस प्रकार निपटा जा सकता है ?

- (1) माता-पिता के साथ नियमित बातचीत करके ✗
(2) प्रभावी पर्यवेक्षण से ✓
(3) पेशेवर विशेषज्ञों द्वारा नियमित काउंसलिंग कराकर ✓
(4) कड़ा अनुशासन लागू करके

How can one handle indiscipline among Hostel students ?

- (1) Regular interaction with parents
(2) Effective supervision
(3) Regular counselling by professional experts
(4) Enforcement of strict discipline

90. छात्रावास में गृह-प्रबंधन (हाउसकीपिंग) स्टाफ की हाजिरी की निगरानी कौन करता है ?

- (1) प्रधानाचार्य
(2) प्रभारी छात्र
(3) सहायक वार्डन
(4) मेस समिति

Who monitors the attendance of housekeeping staff in the Hostel ?

- (1) Principal
(2) Student incharge
(3) Assistant Warden
(4) Mess Committee

#15332963

#15332963

#15332963

Part VI
Language Competency Test (General English)

91. Choose the word nearest in meaning to the given word.
Intercede (1) Reconcile (2) Negotiate (3) Infiltrate (4) Intervene
92. Choose the word opposite in meaning to the given word.
Frail (1) Strong (2) Lanky (3) Stalwart (4) Plump
93. Identify the correct form of the Tense in the given sentence.
Why didn't you meet me in the office yesterday?
(1) Past Perfect Tense (2) Past Continuous Tense
(3) Past Perfect Continuous Tense (4) Simple Past Tense
94. Fill in the blank with the correct preposition.
The group of actors drove _____ the forest at high speed.
(1) through (2) in (3) over (4) at
95. Choose the correct meaning of the underlined idiom.
The speaker broke down in the middle of his speech.
(1) looked at the audience (2) failed to speak
(3) broke the mike (4) stopped midway
96. Change the given sentence from Active Voice to Passive Voice.
The batsman hit the ball for a six.
(1) The ball was hit for a six by the batsman.
(2) The ball had been hit for a six by the batsman.
(3) For a six the ball was hit by the batsman.
(4) The ball was being hit for a six by the batsman.
97. In the following sentence, identify the part which contains an error.
The wayfarer / enquired from me / where / I lived
a b c d
(1) c (2) b (3) d (4) a
98. Choose the correct Article.
_____ honest politician is a rarity these days.
(1) A (2) An (3) Any (4) The
99. Choose the correct form of the verb to go with the subject.
On the day of the departure, every one of the boat's crew _____ down with fever.
(1) will be (2) was (3) has been (4) were
100. Rearrange the parts in correct order to make a meaningful sentence.
A. to the nearby jungle
B. I saw a young shepherd
C. in the early dawn
D. herding the cattle
(1) D, C, B, A (2) A, B, C, D (3) C, B, D, A (4) B, A, C, D

भाषा सक्षमता परीक्षण (सामान्य हिन्दी)

निम्नलिखित गद्यांश को ध्यानपूर्वक पढ़कर उस पर आधारित प्रश्नों (101 - 103) के सटीक उत्तर दीजिए :

विज्ञान ने जीवन के विविध क्षेत्रों में जो अभूतपूर्व प्रगति की है, उससे जीवन और जगत का स्वरूप बहुत कुछ परिवर्तित हो गया। मनुष्य की मूलभूत आवश्यकताओं — भोजन, वस्त्र और आवास से लेकर उसके औद्योगिक एवं प्रौद्योगिक विकास के विभिन्न क्षेत्रों में विज्ञान के बढ़ते चरण का चमत्कार सर्वत्र दिखाई पड़ रहा है। विज्ञान के द्वारा प्रदत्त रेलगाड़ी, हवाई जहाज़ और रॉकेट ने मनुष्य की गति को अधिक तीव्र कर दिया है। इन साधनों के माध्यम से मनुष्य न केवल जल-थल व आकाश में विचरण कर रहा है वरन् धरती की गुरुत्वाकर्षण शक्ति की परिधि को लाँघकर चन्द्रलोक पर भी पैर रख चुका है।

101. व्यक्ति की मूलभूत आवश्यकताएँ हैं :

- (1) केवल वस्त्र
- (2) केवल शिक्षा
- (3) भोजन, वस्त्र और आवास
- (4) केवल भोजन

102. मनुष्य चन्द्रलोक पर पैर किसके कारण रख चुका है ?

- (1) विज्ञान द्वारा प्रदत्त साधनों
- (2) रॉकेट की गति
- (3) आर्थिक प्रगति
- (4) चन्द्रयान की गति

103. मनुष्य की गति को अधिक तीव्र कर दिया है :

- (1) केवल रॉकेट ने
- (2) केवल हवाई जहाज़ ने
- (3) रेलगाड़ी, जहाज़ और रॉकेट ने
- (4) केवल रेलगाड़ी ने

104. निम्नलिखित में से कौन-सा युग्म असंगत है ?

- (1) स्वर्गप्राप्त - तत्पुरुष समास
- (2) मझधार - द्वन्द्व समास
- (3) आमरण - अव्ययीभाव समास
- (4) काला पानी - कर्मधारय समास

105. निम्नलिखित में से व्यंजन संधि वाला शब्द नहीं है :

- (1) वागीश
- (2) दिग्गज
- (3) अजंत
- (4) मनस्ताप

HWA-2023/C5

106. निम्नलिखित में से संधि नियमों के उल्लंघन की दृष्टि से अशुद्ध शब्द है :

- (1) उपर्युक्त
- (2) उत्पात
- (3) मनःस्थिति
- (4) अनाधिकार

107. 'जले पर नमक छिड़कना' मुहावरे का सटीक अर्थ है :

- (1) दुखी व्यक्ति को और दुखी करना
- (2) बहुत दुखी करना
- (3) बहुत बुराई करना
- (4) किसी को बहुत नुकसान पहुँचाना

108. 'अँग्ली पर नाचना' मुहावरे का सही अर्थ है :

- (1) किसी के संकेत पर नाचना
- (2) किसी के इशारे पर चलना
- (3) सबकी बात मानना
- (4) अपने इशारे पर चलना

109. निम्नलिखित विलोमार्थी शब्द-युग्मों में असंगत है :

- (1) आगत - निर्यात
- (2) अमृत - विष
- (3) अल्पायु - दीर्घायु
- (4) अस्त - उदय

110. निम्नलिखित में से स्त्री का पर्यायवाची नहीं है :

- (1) भार्या
- (2) कांता
- (3) कामिनी
- (4) वनिता

#153332963

#153332963

#153332963

इस पुस्तिका में 10 प्रश्न (क्रम संख्या 111 से 120) प्रत्येक क्षेत्रीय भाषा की भाषा सक्षमता से संबंधित प्रश्न हैं, फिर भी, अभ्यर्थियों के प्रवेश पत्र में जिस क्षेत्रीय भाषा का उल्लेख है उन्हें उसी भाषा में प्रश्न (क्रम संख्या 111 से 120 तक) के उत्तर देने चाहिए। परीक्षा के दौरान क्षेत्रीय भाषा में परिवर्तन की अनुमति नहीं है। यदि अभ्यर्थी किसी अन्य क्षेत्रीय भाषा में प्रश्नों का उत्तर देता है, तो उसके उत्तर पत्र (OMR Sheet) का मूल्यांकन नहीं किया जाएगा।

The booklet has 10 questions (from serial no. 111 to 120) of Language Competency of each Regional Language, however, candidates should attempt the questions (from serial no. 111 to 120) of Regional Language which is mentioned on their admit card. No change of Regional Language is allowed during examination. The answer sheet (OMR Sheet) of the candidate will not be evaluated, if the candidate has attempted questions of any other Regional Language.

#15332963

(41)

Part VI

Language Competency Test (Hindi)

निम्नलिखित गद्यांश को ध्यानपूर्वक पढ़कर उस पर आधारित प्रश्नों (111 - 113) के सटीक उत्तर दीजिए :

आधुनिक काल में नई चेतना के आने से रूढ़ियों में आबद्ध समाज में नारी की स्थिति में धीरे-धीरे सुधार हो रहा है। नारी की स्थिति में परिवर्तन उसके शिक्षा की ओर बढ़ते कदमों के कारण है जिसके परिणामस्वरूप आर्थिक स्वायत्तता की प्रवृत्ति जागृत होती है। रूढ़ियों को छोड़ना स्वस्थ समाज के लिए आवश्यक है लेकिन सभी परंपराओं को छोड़ना निरंकुश समाज का निर्माण करना होगा।

111. आधुनिक काल में नारी की स्थिति में सुधार हो रहा है।

- (1) वैश्विक दबाव के कारण
(3) शिक्षित होने के कारण

- (2) आर्थिक प्रगति के कारण
(4) सरकारी अनुदान के कारण

112. समाज रूढ़ियों में बंधा था क्योंकि :

- (1) नई चेतना का अभाव था
(3) समाज सहिष्णु था

- (2) बौद्धिक रूप से अक्षम था
(4) चैतन्य नहीं था

113. रूढ़ियों को त्यागने से :

- (1) समाज स्वस्थ बनेगा
(3) स्त्री-पुरुष में समानता आएगी

- (2) समाज का विकास होगा
(4) समाज निरंकुश होगा

114. निम्नलिखित में 'चंद्र' का पर्यायवाची नहीं है :

- (1) मयंक (2) पीयूष

- (3) सुधाकर (4) सोम

115. निम्नलिखित में पदक्रम की दृष्टि से शुद्ध वाक्य है :

- (1) मुझे एक चाय का पैकेट चाहिए।
(3) महात्मा गाँधी का देश सदैव आभारी रहेगा।

- (2) रेलवे के कई कर्मचारियों की गिरफ्तारी हुई।
(4) यहाँ असली गाय का दूध मिलता है।

116. निम्नलिखित में अनेक शब्दों के लिए एक की दृष्टि से असंगत है :

- (1) जिसकी तुलना न की जा सके - अनुपमेय
(3) पंद्रह दिनों में एक बार प्रकाशित होने वाला - पाक्षिक

- (2) ईश्वर में आस्था रखने वाला - आस्तिक
(4) जो हर जगह व्याप्त हो - सर्वव्यापी

117. निम्नलिखित में 'अमर' शब्द का सटीक विलोमार्थी है :

- (1) मर (2) मृत्य

- (3) मृत (4) मर्त्य

118. निम्नलिखित में मानक की दृष्टि से अशुद्ध शब्द है :

- (1) जाँ (2) उपरोक्त

- (3) मनःस्थिति (4) महेंद्र

119. 'आपने मुझ पर बहुत अधिक दया की' वाक्य में रेखांकित शब्द है :

- (1) क्रिया-विशेषण (2) प्रविशेषण

- (3) सर्वनाम (4) विशेषण

120. लिंग के आधार पर असंगत शब्द-युग्म है :

- (1) चींटा - चींटी (2) घोड़ा - घोड़ी

- (3) जेठ - जठानी (4) भतीजा - भतीजी

#15332963

#15332963

#15332963

HWA-2023/C5

(44)

Part VI
Language Competency Test (Khasi)

111. Jied ia ka kyntien kaba iajan ha ka jingmut bad ka kyntien 'Lehroh'.
 (1) Mutlop (2) Lehkjeh (3) Jaituh (4) Sarong
112. Jied ia ka kyntien harum kaba iajan ha ka jingmut bad ka kyntien 'Saja'.
 (1) Pynshitom (2) Jynjar (3) Sngewsih (4) Bamja
113. Kano na kine ki kyntien harum kaba iapyrshah ha ka jingmut bad ka kyntien 'Kynjai' ?
 (1) Bitar (2) Sngewmeng
 (3) Ehrang (4) Satar
114. Kano na kine ki kyntien harum kaba don ia ka jingspel dak kaba bakla ?
 (1) Pynloit (2) Wallam (3) iing syiem (4) Khunlung
115. Kano na kine ki kyntien harum kaba don ia ka jingspel dak kaba bakla ?
 (1) bie j (2) ieid (3) sdie (4) thylliej
116. Kano na kine ki kyntien harum kaba iapyrshah ha ka jingmut bad ka kyntien 'Atlukhi' ?
 (1) Sbn (2) Jemnud (3) Daini (4) Tipsegi
117. "Ki khynnah ki iasum ha wah".
 Ka kyntien 'iasum' ka dei ka jait verb ai u ?
 (1) Reciprocal verb (2) Intransitive verb
 (3) Causative verb (4) Transitive verb
118. "U briew ba shong hapdeng surok u iam pangnud ia la ka khun."
 Kdew ia ka adverb ha katei ka senten.
 (1) pangnud (2) hapdeng (3) khun (4) shong
119. "Sah noh hangne bad ngi".
 Ka kyntien 'hangne' ha katei ka senten ka dei ka jait adverb ai u ?
 (1) Adverb of Place (2) Adverb of Time
 (3) Adverb of Degree (4) Adverb of Manner
120. Pynbeit ia kane ka senten harum ha ka rukom kaba dei :
 A. ba phin ioh
 B. jingmut bha
 K. pynleit
 D. shong ha kyndong.
 (1) KBAD (2) KDAB (3) DAKB (4) ABKD